

تم تحميل هذا الملف من موقع المناهج الإماراتية



\*للحصول على أوراق عمل لجميع الصفوف وجميع المواد اضغط هنا

<https://almanahj.com/ae>

\* للحصول على أوراق عمل لجميع مواد الصف الرابع اضغط هنا

<https://almanahj.com/ae/4>

\* للحصول على جميع أوراق الصف الرابع في مادة علوم ولجميع الفصول, اضغط هنا

<https://almanahj.com/ae/4science>

\* للحصول على أوراق عمل لجميع مواد الصف الرابع في مادة علوم الخاصة بـ الفصل الثالث اضغط هنا

<https://almanahj.com/ae/4science3>

\* لتحميل كتب جميع المواد في جميع الفصول للـ الصف الرابع اضغط هنا

<https://almanahj.com/ae/grade4>

للتحدث إلى بوت المناهج على تلغرام: اضغط هنا

[https://t.me/almanahj\\_bot](https://t.me/almanahj_bot)



سؤال 3:

الدرجة : 2/2

ما هو الكوكب الذي يمكن مشاهدته ليلا  
و نهارا لأنه الأكثر سخونه و لمعانا من  
الكواكب

المشتري

الزهرة ✓

عطارد

سؤال 4:

الدرجة : 2/2

ما هو الكوكب الأحمر الذي يصنف بأنه رابع  
كوكب من حيث البعد عن الشمس

الأرض

زحل

المريخ ✓

سؤال 5:

الدرجة : 1/1

هو كوكب من الكواكب الغازية و يعتبر  
الأكبر حجما

## واجب \ المجموعة الشمسية

مرة واحدة (8 أسئلة - اختيار من متعدد)



درجة النجاح: 50 %

مجموع الدرجات : 15 / 15

8 إجابات صحيحة ■  
0 إجابات صحيحة جزئياً ■  
0 إجابات خاطئة ■

سؤال 1:

الدرجة : 2/2

ما هو عدد كواكب نظامنا الشمسي ؟

8

9

10

سؤال 2:

الدرجة : 2/2

ما هو أصغر كوكب من كواكب المجموعة الشمسية ؟

الأرض

الزهرة

عطارد



سؤال 6:

الدرجة : 2/2

ما هو ترتيب كوكب زحل الذي يتميز بحلقاته الجميلة

6

7

8

سؤال 7:

الدرجة : 2/2

ما هو الكوكب الذي يتميز بطبقات من الغاز الكثيف التي تغطيه

زحل

المشتري

أورانوس

سؤال 8:

الدرجة : 2/2

ما هو أبرد كوكب من كواكب المجموعة الشمسية

عطارد

نبتون

11



سؤال 5:

الدرجة : 1/1

هو كوكب من الكواكب الغازية و يعتبر  
الأكبر حجما

الأرض

المريخ

المشتري

سؤال 6:

الدرجة : 2/2

ما هو ترتيب كوكب زحل الذي يتميز  
بحلقاته الجميلة

6

7

8

سؤال 7:

الدرجة : 2/2

ما هو الكوكب الذي يتميز بطبقات من الغاز  
الكثيف التي تغطيه

# مهمة أداء : في درس الأرض والشمس .

10 أسئلة - كل الأسئلة مطلوبة

2 4- يتعاقب الليل والنهار خلال 24 ساعه .

صواب

خطأ

[almanahj.com/ae](http://almanahj.com/ae)

→ السابق

واجب : درس الارض والشمس ( بدرجات 20 درجة )

الثلث

2- المحور هو خط وهمي تدور الأرض حولة .

صواب

خطأ

[almanahj.com/ae](http://almanahj.com/ae)

بق

# مهمة أداء : في درس الأرض والشمس .

10 أسئلة - كل الأسئلة مطلوبة



2 4- يتعاقب الليل والنهار خلال 24 ساعه .

صحيح

خطأ

almanahj.com/ae

السابق →

واجب : درس الارض والشمس ( بدرجات 20 درجة )

الثلث



9 5- القمر هو كوكب الحياة .

صواب

خطأ

almanahj.com/ae

→ السابق

10 6- يميل محور الأرض بزاوية قدرها 23.5

صواب

خطأ

[almanahj.com/ae](http://almanahj.com/ae)

السابق

واجب : درس الارض والشمس ( بدرجات 20 درجة )

الصفحة

المجلد الثالث

2- المحور هو خط وهمي تدور الأرض حولة .

صواب

خطأ

[almanahj.com/ae](http://almanahj.com/ae)

بق

9- يكون ظلك أطول ما يكون وقت الصباح البا

صواب

خطأ

[almanahj.com/ae](http://almanahj.com/ae)

سابق

واجب : درس الارض والشمس ( بدرجات 20 درجة )



الصفحة

# مهمة أداء : في درس الأرض والشمس .

10 أسئلة - كل الأسئلة مطلوبة



2 4- يتعاقب الليل والنهار خلال 24 ساعه .

صواب

خطأ

[almanahj.com/ae](http://almanahj.com/ae)

السابق →

واجب : درس الارض والشمس ( بدرجات 20 درجة )

الثلث

## أداء : فى درس الأرض والشمس .

- كل الأسئلة مطوية



الدوران المحوري هو دوران الأرض حو نفسها ( محورها ) .

[almanahj.com/ae](http://almanahj.com/ae)

واجب : درس الارض والشمس ( بدرجات 20 درجة )

# مادة : في درس الأرض والشمس .

ة - كل الأسئلة مطلوبة

3- يحدث الليل والنهار بسبب دوران الأرض حول القمر

صواب

خطأ

[almanahj.com/ae](http://almanahj.com/ae)

واجب : درس الارض والشمس ( بدرجات 20 درجة )



صفحة اللاحقة

تحدث الفصول الأربعة بسبب

ميل محور الأرض فقط

مدار الأرض حول نفسها

ميل محور الأرض + مدار الأرض الإهليجي حول الشمس

الدرجة : 2/2

سؤال 5:

إذا كان أحد جانبي الأرض مواجهًا للشمس يكون الوقت عنده

نهارًا

ليلاً

الدرجة : 2/2

سؤال 6:

سبب الحركة الظاهرية للشمس

دوران الأرض حول الشمس

دوران الأرض حول محورها

دوران الشمس حول الأرض



- 24 ساعة
- 365 يوما
- سنة واحدة

الدرجة : 2/2

سؤال 9:

يكون الظل قصيرا

- أول النهار
- منتصف النهار
- آخر النهار

الدرجة : 2/2

سؤال 10:

يتكون الظل في

- نفس جهة مصدر الضوء
- عكس جهة مصدر الضوء

almanahj.com/ae

عملية تستغرق 24 ساعة لإتمامها

- دوران القمر حول الإض
- دوران الأرض حول محورها ✓
- دوران الأرض حول الشمس

الدرجة : 2/2

سؤال 8:

تدور الأرض حول نفسها كل

- 24 ساعة ✓
- 365 يوماً
- سنة واحدة

الدرجة : 2/2

سؤال 9:

يكون الظل قصيرًا

- أول النهار
- منتصف النهار ✓
- آخر النهار

# الاختبار التكويني الثاني لمادة العلوم

10 أسئلة - كل الأسئلة مطلوبة



الدرجة 2

8 تدور الأرض حول نفسها كل

24 ساعة

365 يوماً

سنة واحدة

[almanahj.com/ae](http://almanahj.com/ae)

← التالي

السابق →

# الاختبار التكويني الثاني لمادة العلوم

10 أسئلة - كل الأسئلة مطلوبة



الدرجة 2

يكون الظل قصيرًا 9

أول النهار

منتصف النهار

آخر النهار

[almanahj.com/ae](http://almanahj.com/ae)

← التالي

السابق →

في كل عام تدور الأرض مرة واحدة حول

✓ الشمس ✓

القمر

نفسها

الدرجة : 2/2

سؤال 2:

دوران الأرض حول نفسها يعرف بـ

الدوران الإهليجي

✓ الدوران المحوري

المجموعة الشمسية

الدرجة : 2/2

سؤال 3:

خط وهمي يدور الجسم حوله هو

خط الاستواء

✓ المحور

الهلل

# الاختبار التكويني الثاني لمادة العلوم

10 أسئلة - كل الأسئلة مطلوبة



الدرجة 2

5

إذا كان أحد جانبي الأرض مواجهًا للشمس  
يكون الوقت عنده

نهارًا

ليلاً

almanahj.com/ae

← التالي

السابق →

# الاختبار التكويني الثاني لمادة العلوم

10 أسئلة - كل الأسئلة مطلوبة



الدرجة 2

## 6 سبب الحركة الظاهرية للشمس

دوران الأرض حول الشمس

دوران الأرض حول محورها

دوران الشمس حول الأرض

almanahj.com/ae

← التالي

السابق →

# الاختبار التكويني الثاني لمادة العلوم

10 أسئلة - كل الأسئلة مطلوبة



الدرجة 2

7 عملية تستغرق 24 ساعة لإتمامها

دوران القمر حول الإض

دوران الأرض حول محورها

دوران الأرض حول الشمس

almanahj.com/ae

← التالي

السابق →



# الاختبار التكويني الثاني لمادة العلوم

10 أسئلة - كل الأسئلة مطلوبة

الدرجة 2

## 4 تحدث الفصول الأربعة بسبب

- ميل محور الأرض فقط
- مدار الأرض حول نفسها
- ميل محور الأرض + مدار الأرض الإهليجي حول الشمس

← التالي

السابق →

# الاختبار التكويني الثاني لمادة العلوم

10 أسئلة - كل الأسئلة مطلوبة

الدرجة 2

خط وهمي يدور الجسم حوله هو

3

خط الاستواء

المحور

القطب

[almanahj.com/ae](http://almanahj.com/ae)

← التالي

السابق →



19

دقيقة

## الاختبار التكويني الثاني لمادة العلوم

10 أسئلة - كل الأسئلة مطلوبة

الدرجة 2

1 في كل عام تدور الأرض مرة واحدة حول

الشمس

القمر

نفسها

almanahj.com/ae

# الاختبار التكويني الثاني لمادة العلوم

10 أسئلة - كل الأسئلة مطلوبة



الدرجة 2

دوران الأرض حول نفسها يعرف ب

2

الدوران الإهليجي

الدوران المحوري

المجموعة الشمسية

almanahj.com/ae

← التالي

السابق →

(C) الظل

(B) دوران الأرض حول محورها

(A) دوران القمر حول الأرض

A

✓ B

C

الدرجة : 2/2

سؤال 10:

إذا كان أحد جانبي الأرض مواجه للشمس يكون الوقت ليل.

صواب

✓ خطأ

almanahj.com/ps

3 خط وهمي يدور الجسم حوله، هو...  
ا/ خط الاستواء  
ب/ القمر  
ج/ المحور  
د/ الشمس

أ

ب

ج

د

الدرجة : 2/2

سؤال 4:

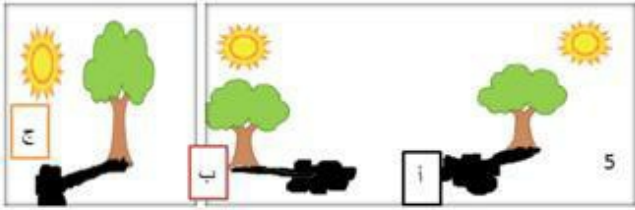
4 تتغير الفصول الأربعة على سطح الأرض بسبب...  
أ/ ميل محور الأرض  
ب/ مدار الأرض حول نفسها  
ج/ مدار الأرض الإهليجي حول الشمس + ميل محور الأرض  
د/ مدار الأرض الإهليجي حول الشمس

أ

ب

الدرجة : 2/2

سؤال 5:



الصورة الصحيحة للظل:

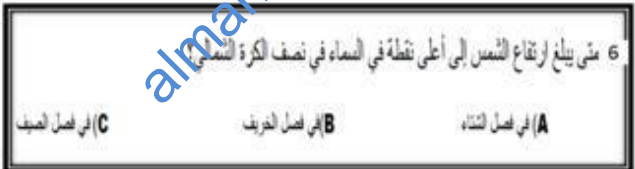
أ

ب

ج

الدرجة : 2/2

سؤال 6:



A

B

الدرجة : 2/2

سؤال 6:

6 متى يبلغ ارتفاع الشمس إلى أعلى نقطة في السماء في نصف الكرة الشمالي؟

(C) في فصل الصيف

(B) في فصل الخريف

(A) في فصل الشتاء

A

B

✓ C

الدرجة : 2/2

سؤال 7:

- يكون الظل قصيرا في:

أ- منتصف النهار

ج- وقت الغروب

ب- اول النهار

د- قبل الغروب بقليل

✓ أ

ب



## سؤال 8:

الدرجة : 0/2

8 : سبب الحركة الظاهرية للشمس:  
أ: دوران الارض حول الشمس  
ج: دوران الشمس حول الارض

ب: دوران الأرض حول نفسها  
د: دوران القمر حول الارض

أ

ب

ج

د

الدرجة : 2/2

## سؤال 9:

أي عملية تستغرق الأرض 24 ساعة لإتمامها..

(C) التقلد

(B) دوران الأرض حول نفسها

(A) دوران القمر حول الأرض

A

B

الدرجة : 2/2

سؤال 4:

- 4 تتغير الفصول الأربعة على سطح الأرض بسبب...
- أ/ ميل محور الأرض
  - ب/ مدار الأرض حول نفسها
  - ج/ مدار الأرض الإهليجي حول الشمس + ميل محور الأرض
  - د/ مدار الأرض الإهليجي حول الشمس

أ


ب

ج

د

الدرجة : 2/2

سؤال 5:



الصورة الصحيحة للظل:

الدرجة : 2/2

سؤال 1:

1. في كل عام تدور الأرض مرة واحدة حول...

- أ/ المريخ
- ب/ الشمس
- ج/ القمر
- د/ باقي الكواكب

أ

ب

ج

د

almanahj.com/ae

الدرجة : 2/2

سؤال 2:

2. دوران الأرض حول نفسها، يعرف ب...

- أ/ الدوران المحوري

الدرجة : 2/2

سؤال 2:

- 2 . دوران الارض حول نفسها، يعرف بـ...
- أ / الدوران المحوري
  - ب / الدوران الإهليجي
  - ج / المجموعة الشمسية
  - د / الحركة الظاهرية

أ

ب

ج

د

الدرجة : 2/2

سؤال 3:

- 3 خط وهمي يدور الجسم حوله، هو...
- أ / خط الاستواء
  - ب / القمر
  - ج / المحور
  - د / الشمس

أ