

تم تحميل هذا الملف من موقع المناهج الإماراتية



الصف الرابع ← [موقع المناهج](#) ← [المناهج الإماراتية](#) ← [الصف الرابع](#) ← [رياضيات](#) ← [الفصل الثالث](#)

روابط مواقع التواصل الاجتماعي بحسب الصف الرابع



روابط مواد الصف الرابع على تلغرام

[الرياضيات](#)

[اللغة الانجليزية](#)

[اللغة العربية](#)

[التربية الاسلامية](#)

المزيد من الملفات بحسب الصف الرابع والمادة رياضيات في الفصل الثالث

<a href="#">اوراق عمل درس الكسور</a>	1
<a href="#">نموذج تدريبات ب لاختبار TIMSS</a>	2
<a href="#">الامتحان النهائي 20152016 مع الحل</a>	3
<a href="#">أوراق عمل شاملة لامتحان منتصف الفصل الثالث</a>	4
<a href="#">تدريبات على وحدة المحيط والمساحة</a>	5

Name: \_\_\_\_\_





Grade: 4 \_\_\_\_\_


Date: \_\_\_\_\_

Total Marks :20

## Task 1: Solving Problems involving Money

1. Complete the table below. (10 marks)

Coin	Fraction	Decimal
	$\frac{100}{100}$	1.00
	$\frac{\quad}{100}$	0.50
	$\frac{25}{100}$	
	$\frac{10}{100}$	

	$\frac{1}{100}$	
---	-----------------	--

	<p>\$ 3.25</p>		<p>\$1.25</p>		<p>\$ 1.50</p>
	<p>\$2.25</p>		<p>\$2.00</p>		<p>0.50 \$ \$ .50</p>
	<p>\$4.25</p>		<p>\$6.25</p>		<p>\$1.00</p>
	<p>\$5.25</p>		<p>\$2.00</p>		<p>\$5.00</p>

3. How much money is in your bag? (2 mark)



Fraction	Decimal

4. Use your money to buy 3 items from the menu. Calculate the total below. (4 marks)

<b>Item 1</b>	
<b>Item 2</b>	
<b>Item 3</b>	
<b>Total</b>	

5. How much change do you have? (4 marks)

<b>Money in your bag</b>	
<b>Total of items bought</b>	
<b>Change</b>	