

شكراً لتحميلك هذا الملف من موقع المناهج الإماراتية



أوراق عمل مراجعة الوحدة الثالثة باللغة الانجليزية

[موقع المناهج](#) ⇨ [المناهج الإماراتية](#) ⇨ [الصف الرابع](#) ⇨ [علوم](#) ⇨ [الفصل الأول](#) ⇨ [الملف](#)

تاريخ نشر الملف على موقع المناهج: 04:33:20 2023-10-04 | اسم المدرس: Nikita

التواصل الاجتماعي بحسب الصف الرابع



روابط مواد الصف الرابع على تلغرام

[الرياضيات](#)

[اللغة الانجليزية](#)

[اللغة العربية](#)

[التربية الاسلامية](#)

المزيد من الملفات بحسب الصف الرابع والمادة علوم في الفصل الأول

[ورقة عمل درس التكيف في الحيوان](#)

1

[حل الوحدة الرابعة مظاهر التكيف](#)

2

[أسئلة الامتحان النهائي انسباير](#)

3

[أسئلة الامتحان النهائي بريدج](#)

4

[حل أسئلة الامتحان النهائي انسباير](#)

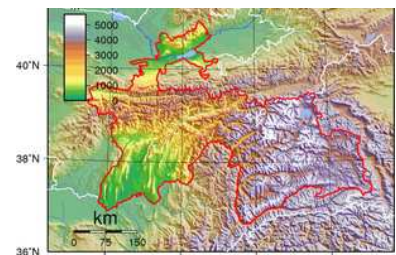
5

Match the map to the correct answer

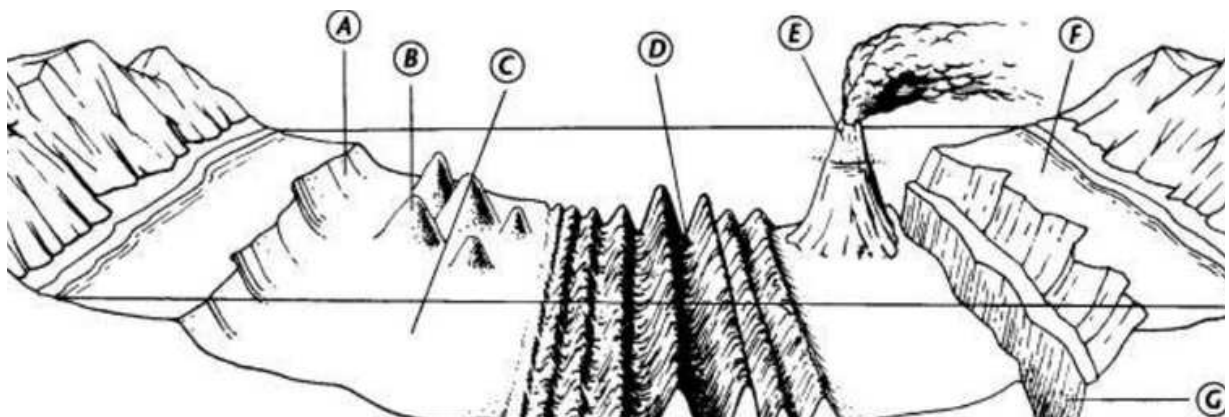
- Relief Maps show elevation using shaded colors.



- Topographical Maps show elevation contour lines.



- Label the Ocean Floor.



- _____ are places where 2 plates meet.

- Ring of fire
- Plates boundaries



• _____, canyons, and mountains are all examples of landforms.

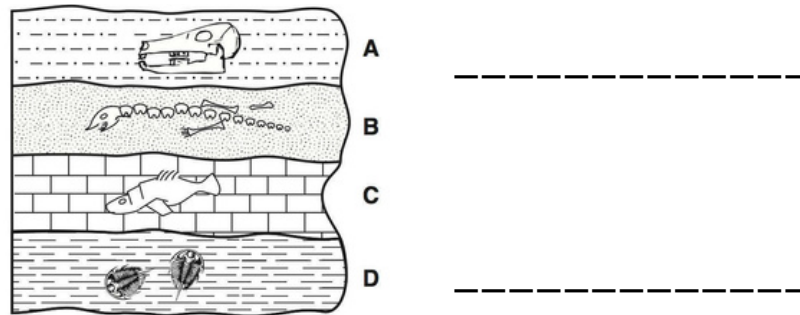
- a. Rocks, fossils
- b. Plateaus, valleys



• A geologist / paleontologist is a scientist that study fossils.



• Show the youngest layer and the oldest layer.




• The remains of living things that lived in the past are rocks/ fossils.



- Sudden movement (shaking) of earth is a/an

volcano



earthquake



- After millions of years, a river can form

.....

- a. valley
- b. canyon.




- Fossils in the same layer lived in

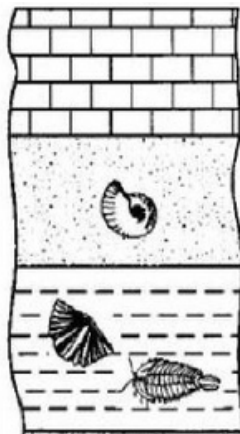
- a. different environment.
- b. same environment.



Which one is a Plateau, Ocean, Valley, Hill



Scientists found fossils of oceanic organisms on a mountain. This means it was watery area/ desert area in the past.



- Which 2 plates are moving away from each other?

