

## شكراً لتحميلك هذا الملف من موقع المناهج الإماراتية



## مراجعة محلولة التقويم الأول

[موقع المناهج](#) ⇨ [المناهج الإماراتية](#) ⇨ [الصف الرابع](#) ⇨ [اجتماعيات](#) ⇨ [الفصل الأول](#) ⇨ [الملف](#)

تاريخ نشر الملف على موقع المناهج: 2023-10-21 09:47:28

## التواصل الاجتماعي بحسب الصف الرابع



## روابط مواد الصف الرابع على تلغرام

[الرياضيات](#)

[اللغة الانجليزية](#)

[اللغة العربية](#)

[التربية الاسلامية](#)


## المزيد من الملفات بحسب الصف الرابع والمادة اجتماعيات في الفصل الأول

<a href="#">ملخص وحل أوراق عمل شاملة</a>	1
<a href="#">مذكرة شاملة جميع الدروس</a>	2
<a href="#">ورقة عمل درس خطوط الطول ودوائر العرض</a>	3
<a href="#">حل أوراق عمل مراجعة الدرسين الأول والثاني</a>	4
<a href="#">أوراق عمل مراجعة الدرسين الأول والثاني</a>	5

مراجعة محلولة التقويم الأول الفصل الدراسي الأول

الاسم: ..... الصف: الرابع .....

هو موقع المكان بالنسبة لخطوط الطول ودوائر العرض



<input type="checkbox"/>	الموقع الجغرافي
<input type="checkbox"/>	الموقع الفلكي
<input type="checkbox"/>	الموقع النسبي
<input type="checkbox"/>	الموقع المكاني

خطوط الطول ودوائر العرض هي نظام شبكي



<input type="checkbox"/>	حقيقي
<input type="checkbox"/>	شبه حقيقي
<input type="checkbox"/>	وهمي
<input type="checkbox"/>	جميع ما ذكر


السؤال الاول: اختر الاجابات الصحيحة :- حدد الإجابة الصحيحة:-

هو موقع أي جسم علي الكرة الأرضية



<input type="checkbox"/>	الموقع الفلكي
<input type="checkbox"/>	الموقع الجغرافي
<input type="checkbox"/>	الموقع النسبي
<input type="checkbox"/>	الموقع المكاني

موقع المكان بالنسبة لليابسة والماء يقصد به



<input type="checkbox"/>	الموقع الفلكي
<input type="checkbox"/>	الموقع النسبي
<input type="checkbox"/>	الموقع السياسي
<input type="checkbox"/>	الموقع الاقتصادي

ثانياً: فسر أهمية خطوط الطول؟

1- لمعرفة الوقت .....

2- لمعرفة الموقع .....

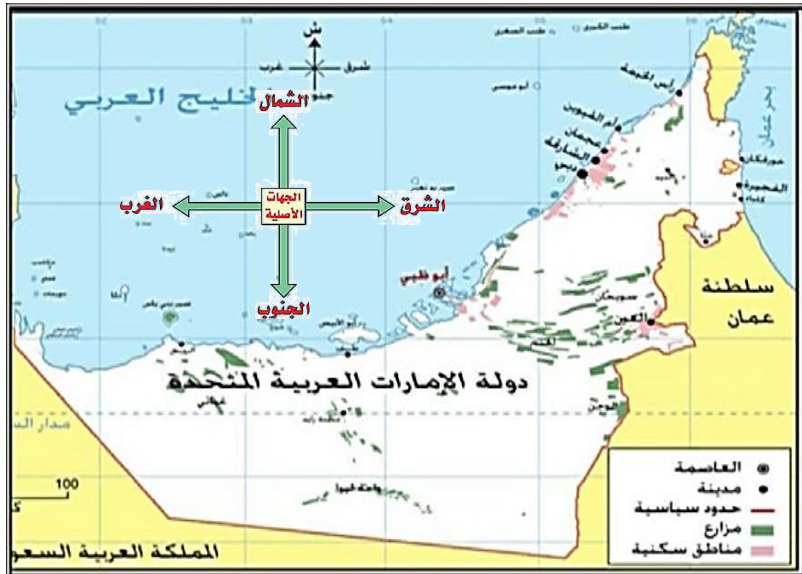
ثالثاً: أكمل الفراغات بما يناسبه مما بين الأقواس:

(الموقع الجغرافي – الموقع النسبي- الموقع الفلكي- الجبال – أودية )

- 1- موقع المكان بالنسبة لليابس والماء هو ..... الموقع النسبي .....
- 2- مَوْقِعَ جِسْمٍ ما عَلَى سَطْحِ الكُرَةِ الأَرْضِيَّةِ هو ..... الموقع الجغرافي .....
- 3- كُتْلَةٌ ضَخْمَةٌ مِنَ الصُّخُورِ المُرْتَفِعَةِ عَن سَطْحِ الأَرْضِ ذاتِ قِمَمٍ هي ..... الجبال .....
- 4- مَوْقِعُ المَكَانِ بِالنِّسْبَةِ لِخُطُوطِ الطُّولِ وَ دَوَائِرِ العَرْضِ هو ..... الموقع الفلكي .....
- 5- وَهِيَ أَرْضٌ طَوِيلَةٌ مُنْحَفِضَةٌ تُحِيطُهَا أَرْضٌ مُرْتَفِعَةٌ مِنَ الجَوَانِبِ هي ..... أودية .....

السؤال الثاني : 1- أقرأ خريطة دولة الإمارات العربية المتحدة ثم سجل دلالة الأرقام التالية ( استعن بالكلمات بين القوسين):-

(السعودية – العربي – أبوظبي – سلطنة عمان – قطر)



- 1-يحدها من الشمال الخليج ..... العربي .....
- 2-يحدها من الجنوب المملكة العربية ..... السعودية .....
- 3-يحدها من الشرق ..... سلطنة عمان .....
- 4- ويحدها من الغرب دولة ..... قطر .....
- 5- عاصمة دولة الإمارات العربية المتحدة . أبوظبي .....

## لاحظ ودون أسفل الصور المصطلحات التالية :-

### ( شبه الجزيرة - الجزيرة - الخليج - حدود سياسية )



الخليج



الجزيرة



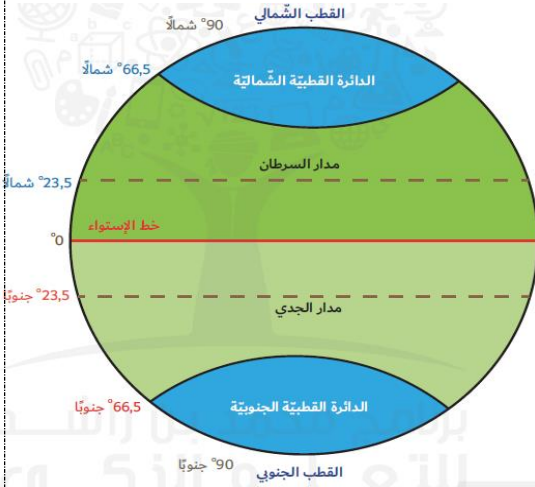
حدود سياسية




شبه الجزيرة

### ضع علامة ( ✓ ) أمام العبارة الصحيحة :-

- 1- يقع خط الاستواء عند دائرة عرض صفر ( ✓ ) .
- 2- يقسم خط الأستواء الكرة الأرضية إلى نصفين شمالي وجنوبي ( ✓ ) .
- 3- يقع مدار السرطان (23,5) في نصف الكرة الجنوبي ( ) .
- 4- يقع مدار الجدي (23,5) في نصف الكرة الشمالي ( ) .
- 5- تعرف دائرة العرض الرئيسية بخط جرينتش ( ) .
- 6- يقع القطب الشمالي عند دائرة (23,5) شمالاً ( ) .
- 7- عدد خطوط الطول 360 خط طول ( ✓ ) .



## سجل ثلاثة من أهمية الجبال في دولة الامارات :-



1- الأحجار ومواد البناء.....

2- تخزين المياه وأنشاء السدود.....

3- السياحة.....

## صل الصورة بالأهمية الاقتصادية للسهول في بلادي:-



التجارة

السياحة

الصناعة

### أقرأ النص التالي ثم أجب عما يليه:

قامت علي أرض الإمارات العديد من الحضارات مثل حضارة ماجان وأم النار، مما أوضح من أهميتها التاريخية، فدولة الإمارات تقع في قلب العالم مما جعلها حلقة الوصل بين الشرق والغرب وملتقي الطرق التجارية، حيث أشتهرت بتجارة الترانزيت فهي تستورد السلع ثم تعيد تصديرها لدول العالم ، كما أنها تشرف علي مسطحين مائيين هما بحر عمان من الشرق والخليج العربي من الغرب، وتتكون من سبع إمارات، كما تربطها بالوطن عوامل مشتركة مثل الدين الاسلامي واللغة العربية ووحدة المصير .

عدد الحضارات التي قامت بأرض الإمارات..... ماجان و.. أم النار..

تقع دولة الإمارات في . قلب..العالم بين . الشرق..و.. الغرب..

تتكون دولة الإمارات من .....7 سبع..... إمارة

تشرف الإمارات علي بحر. عمان..من الشرق و.. الخليج...العربي من الغرب

المقصود بتجارة . الترانزيت. فهي تستورد السلع ثم تعيد تصديرها لدول العالم

تربط دولة الإمارات بالوطن العربي بعوامل مشتركة منها وحدة المصير و. اللغة العربية. و.  
الدين الاسلامي.

## أختر الإجابة الصحيحة من بين الأقواس وضع تحتها خط :-.

- 1- أرض منبسطة ومسطحة وقليلة الأرتفاع ... السهول.....  
( الهضاب - السهول - الجبال )
- 2 - توجد الجبال بالإمارات في المناطق . الشرقية...  
( الشمال - الشرقية - الغربية )
- 3 - دائرة العرض الرئيسية هي . خط الاستواء .....  
( مدار السرطان - خط الاستواء - مدار الجدي )
- 4 - عدد خطوط الطول ... 360...  
( 500 - 450 - 360 )
- 5 - أعلى قمة جبلية بدولة الإمارات هي قمة جبل ... جيس...  
( جيس - حفيت - سانت كاترين )
- 6 - السهل الساحلي الغربي يطل علي .. الخليج العربي...  
( الخليج العربي - البحر الأحمر - بحر عمان )

مع تمنياتي بالنجاح والتوفيق