

تم تحميل هذا الملف من موقع المناهج الإماراتية



*للحصول على أوراق عمل لجميع الصفوف وجميع المواد اضغط هنا

<https://almanahj.com/ae>

* للحصول على أوراق عمل لجميع مواد الصف الخامس اضغط هنا

<https://almanahj.com/ae/5>

* للحصول على جميع أوراق الصف الخامس في مادة رياضيات ولجميع الفصول, اضغط هنا

<https://almanahj.com/ae/5math>

* للحصول على أوراق عمل لجميع مواد الصف الخامس في مادة رياضيات الخاصة بـ الفصل الأول اضغط هنا

<https://almanahj.com/ae/5math1>

* لتحميل كتب جميع المواد في جميع الفصول للـ الصف الخامس اضغط هنا

<https://almanahj.com/ae/grade5>

للتحدث إلى بوت المناهج على تلغرام: اضغط هنا

https://t.me/almanahj_bot

الدرجة 1

1

Lamya spent 20 minutes on homework on Monday, 20 minutes on Tuesday, 40 minutes on Wednesday, 30 minutes on Thursday, and 0 minutes on Friday. What is the mean number of minutes she spent on homework?

- Ⓐ 27.5 minutes
- Ⓑ 18 minutes
- Ⓒ 22 minutes
- Ⓓ 30 minutes

A

B

C

D



Line Graphs

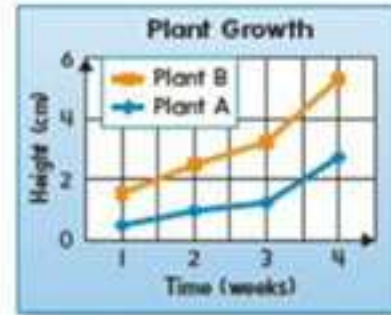
1 أسئلة - كل الأسئلة مطلوبة

الدرجة 1

1

Tarek's class measured the growth of two plants and displayed their data in a double line graph. Which of the following statements is true?

- (A) After 2 weeks, Plant A is taller than Plant B.
- (B) the plants are not growing.
- (C) Both plants grew the most between weeks 3 and 4.
- (D) Both plants grew the most during the first week.



A

B

C

D

Convert Metric Units of Mass

1 أسئلة - كل الأسئلة مطلوبة

الدرجة 1

1

في تجربة علمية، قاست هدى قطعة من المعدن كتلتها 3,500 g. ما قياس كتلة هذه القطعة المعدنية بالكيلوجرامات؟

(A) 0.35 kg

(C) 35 kg

(B) 3.5 kg

(D) 350 kg

A

B

C

D

الدرجة 1

1

Lamya spent 20 minutes on homework on Monday, 20 minutes on Tuesday, 40 minutes on Wednesday, 30 minutes on Thursday, and 0 minutes on Friday. What is the mean number of minutes she spent on homework?

- (A) 27.5 minutes
- (B) 18 minutes
- (C) 22 minutes
- (D) 30 minutes

A

B

C

D



Stem-and-Leaf Plots

1 أسئلة - كل الأسئلة مطلوبة

الدرجة 1

1

What is the outlier?

(A) 52

(C) 71

(B) 65

(D) 102

Stem	Leaf
5	2 2 3 5 6 9
6	1 3 5 5 5 7 8 8
7	1 3 4 4
10	2

$$5|2 = 52$$

A

B

C

D



The frequency table shows items sold at a school store.

How many items were sold altogether?

Items Sold at School Store		
Item	Tally	Frequency
Eraser		5
Bottle of glue		0
Pencil		8
Scissors		1

(A) 13

(C) 6

(B) 14

(D) 9

A

B

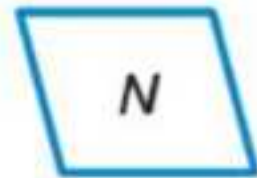
C

1 أسئلة - كل الأسئلة مطلوبة

الدرجة 1

1

Which statement about the figures shown below is true?



- (A) Figures K and N are rectangles.
- (B) Figures L and N are quadrilaterals.
- (C) Figures K and N are parallelograms.
- (D) Figures M and N are parallelograms.

A

B

C

D

Classify Triangles

1 أسئلة - كل الأسئلة مطلوبة

الدرجة 1

1

Which of the following figures is an obtuse triangle?

(A)



(B)



(C)



(D)



A

B

C

D

الدرجة 1

1

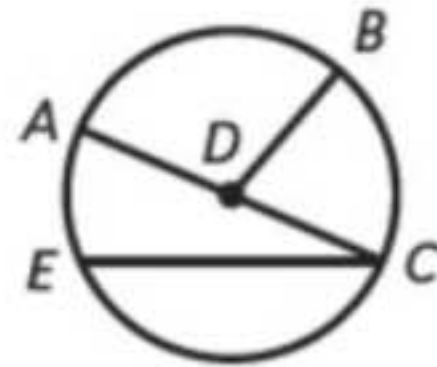
Which of the following is NOT a radius of the circle shown?

(A) \overline{DB}

(C) \overline{AD}

(B) \overline{CE}

(D) \overline{BD}



A

B

C

D

