

شكراً لتحميلك هذا الملف من موقع المناهج الإماراتية



أوراق عمل شاملة مع خرائط ذهنية

[موقع المناهج](#) ⇨ [المناهج الإماراتية](#) ⇨ [الصف الخامس](#) ⇨ [اجتماعيات](#) ⇨ [الفصل الثاني](#) ⇨ [الملف](#)

تاريخ نشر الملف على موقع المناهج: 2024-01-24 12:02:43 | اسم المدرس: عمر حسن ابراهيم

التواصل الاجتماعي بحسب الصف الخامس



روابط مواد الصف الخامس على تلغرام

[الرياضيات](#)

[اللغة الانجليزية](#)

[اللغة العربية](#)

[التربية الاسلامية](#)

المزيد من الملفات بحسب الصف الخامس والمادة اجتماعيات في الفصل الثاني

[أوراق عمل درس المناخ ودرس قيام مجلس التعاون الخليجي](#)

1

[أوراق عمل مراجعة عامة](#)

2

[ورقة عمل الاختبار التقويمي الثاني](#)

3

[كتاب الطالب](#)

4

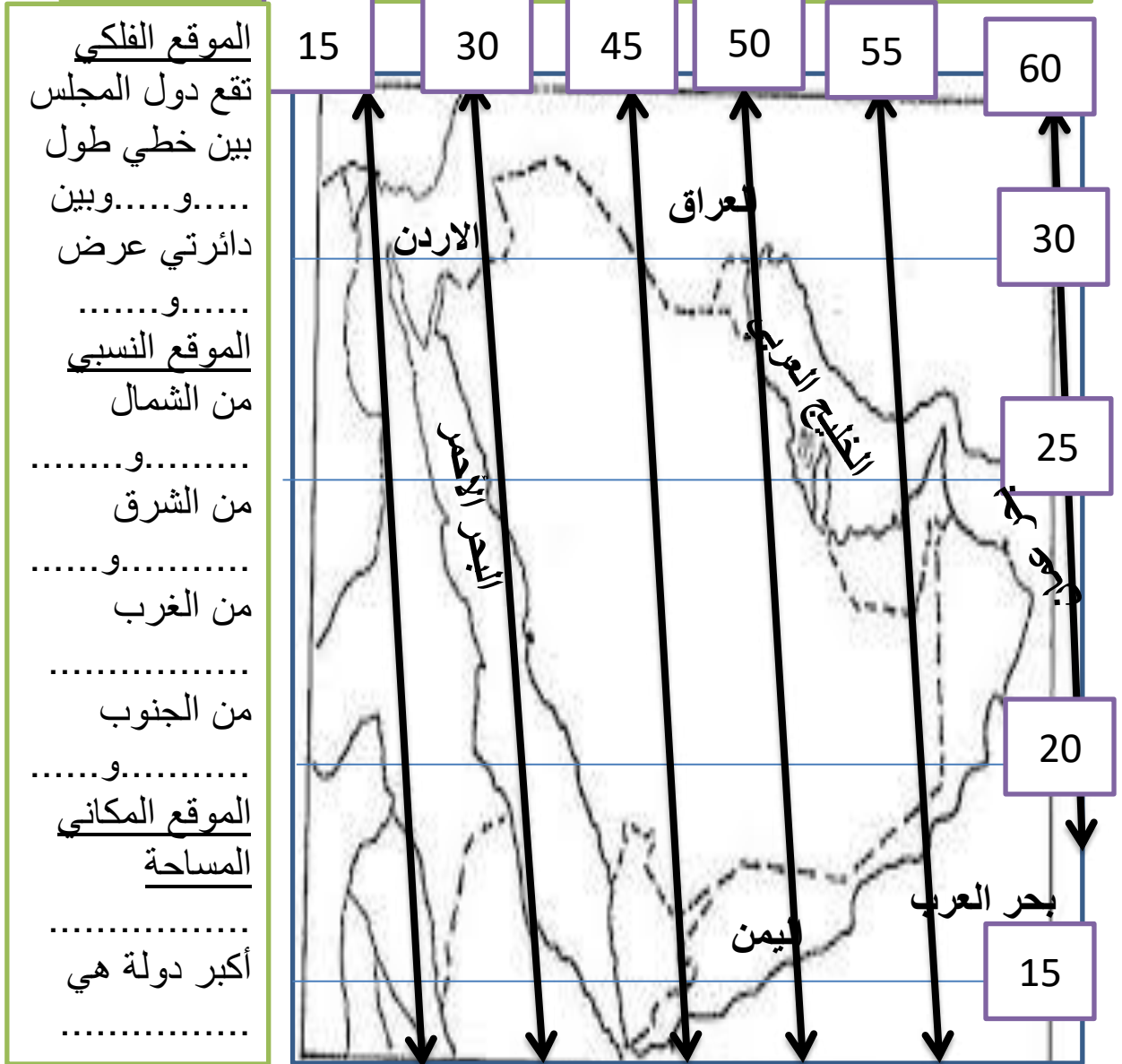
[أسئلة الامتحان النهائي](#)

5



الهدف العام : الموقع الجغرافي لدول مجلس التعاون الخليجي

النشاط الأول: استخراج من خريطة دول مجلس التعاون الخليجي الموقع الفلكي والنسبي؟



أصغر دولة دولة متوسطة المساحة

الهدف العام : الموقع الجغرافي لدول مجلس التعاون الخليجي

النشاط الأول : حدد على خريطة دول مجلس التعاون الخليجي الموقع النسبي والفلكي ؟



الموقع الفلكي
تقع دول المجلس
بين خطي طول
..... و..... وبين
دائرتي عرض
..... و.....

الموقع النسبي
من الشمال
..... و.....
من الشرق
..... و.....
من الغرب
..... و.....
من الجنوب
..... و.....

الموقع المكاني
المساحة
.....
أكبر دولة هي
.....

أصغر دولة دولة متوسطة المساحة

3

الهدف العام : الموقع الجغرافي لدول مجلس التعاون الخليجي

النشاط الأول :صل بين المعلومة في القائمة (A) والمعلومة التي تقابلها في القائمة (B)؟

B

الموقع بين دوائر العرض



من الجنوب

من الغرب



2.673.123 كم مربع

من الشرق

المواقع بين خطوط الطول

A

35-60 شرقاً هو

البحر الأحمر يقع

الخليج العربي بحر عمان يحدان

بحر العرب واليمن يجاوران

أكبر دول المجلس

أصغر دول المجلس

مساحة دول المجلس

32-16 شمالاً هو

3

الهدف العام : الأهمية الكبيرة التي تتمتع بها دول المجلس

النشاط الأول: صل بين المعلومة والصورة التي تقابلها في القائمة ؟



الأهمية الدينية

الأهمية التاريخية

الأهمية الاستراتيجية

الأهمية الاقتصادية

النشاط الثاني : استخراج من الخريطة المسطحات المائية التي تشرف عليها دول المجلس ؟



الخليج.....
بحر.....
بحر.....
البحر.....

النشاط الثالث : ضع إشارة (v) أمام العبارة الصحيحة وإشارة (x) أمام العبارة الخاطئة؟

- () اشتهرت مياه دول المجلس بالثورة الخاصة باللؤلؤ والمرجان .
- () تشرف دول المجلس على مضيق جبل طارق .
- () من الحضارات التي قامت في المنطقة ماجان ودلمون وفيلكا
- () يوجد المسجد الحرام في البحرين
- () تكمن الأهمية الاستراتيجية لدول المجلس بالمسطحات المائية



الهدف العام : الأهمية الكبيرة التي تتمتع بها دول المجلس

النشاط الأول : ضع الكلمة المناسبة تحت الصورة من صندوق المعرفة (الأهمية الدينية – الأهمية الاستراتيجية – الأهمية التاريخية – الأهمية الاقتصادية ؟



النشاط الثاني : استخراج من الخريطة المسطحات المائية التي تشرف عليها دول المجلس ؟



.....
.....
.....
.....
.....

النشاط الثالث : ضع إشارة (v) أمام العبارة الصحيحة وإشارة (x) أمام العبارة الخاطئة؟

- () اشتهرت مياه دول المجلس بالثورة الخاصة باللؤلؤ والمرجان .
- () تشرف دول المجلس على مضيق جبل طارق .
- () من الحضارات التي قامت في المنطقة ماجان ودلمون وفيلكا
- () يوجد المسجد الحرام في البحرين
- () تكمن الأهمية الاستراتيجية لدول المجلس بالمسطحات المائية



الهدف العام : الأهمية الكبيرة التي تتمتع بها دول المجلس

النشاط الأول : ضع الكلمة المناسبة تحت الصورة والتي تمثل أهمية دول المجلس ؟



النشاط الثاني : استخرج من الخريطة المسطحات المائية التي تشرف عليها دول المجلس ؟



.....

.....

.....

.....

.....

النشاط الثالث : ضع الكلمة المناسبة أمام النص ؟

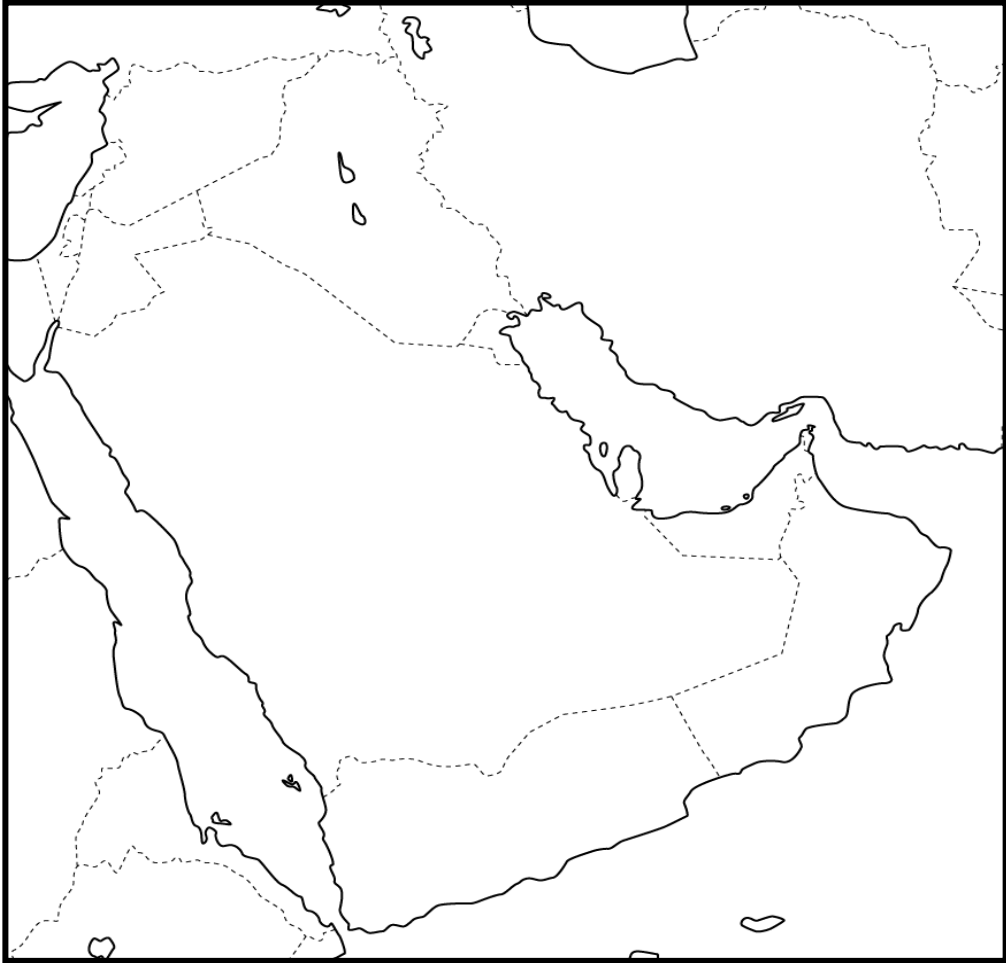
- وجود الأماكن المقدسة دلالة على الأهمية
- وجود اللؤلؤ والمرجان دلالة على الأهمية
- وجود الأماكن التاريخية دلالة على الأهمية
- إشراف دول المجلس على المسطحات المائية مؤشر على الأهمية

تقييم

نشاط رقم واحد : على خريطة دول مجلس التعاون الخليجي الصماء عين ما يلي:
المسطحات المائية:- (بحر عُمان / الخليج العربي / بحر العرب / مضيق هرمز / المحيط
الهندي / البحر الأحمر)

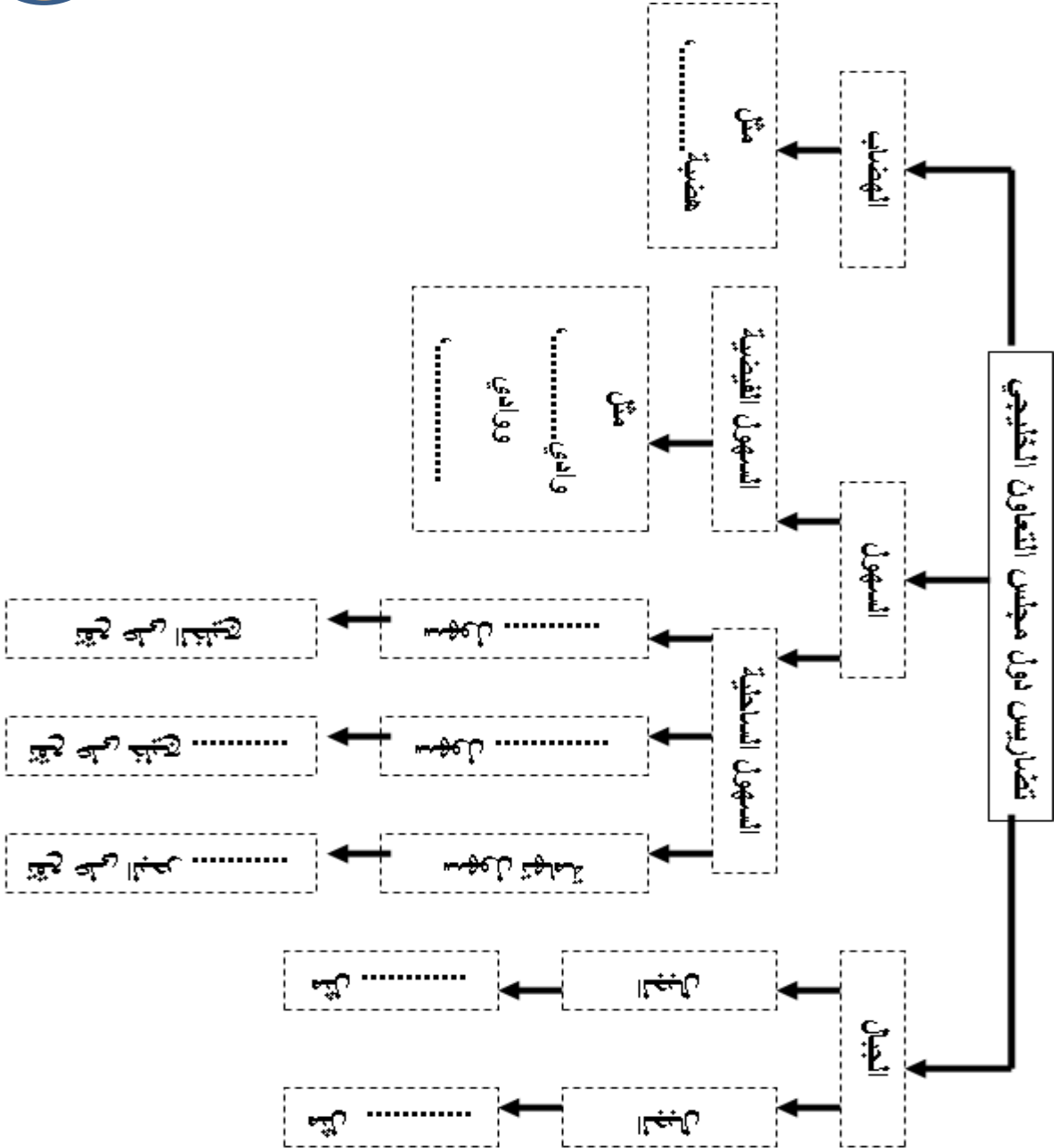
10/

الدول المجاور: (العراق / الأردن / اليمن) ، (مدار السرطان)
دول المجلس: (السعودية / عُمان / البحرين / الكويت / الإمارات)



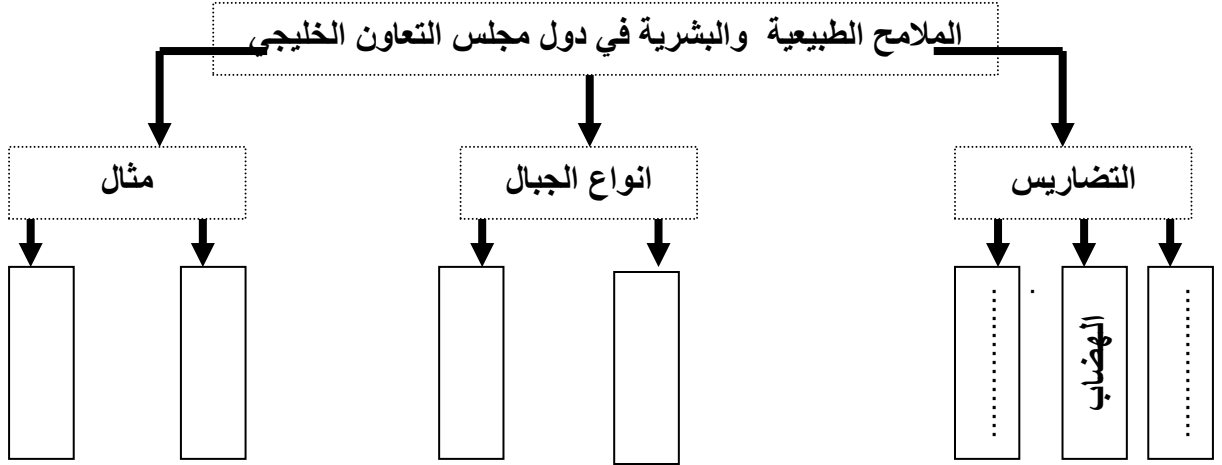


أستكمل المخطط الذهني التالي:





أستكمل المخطط الذهني التالي:



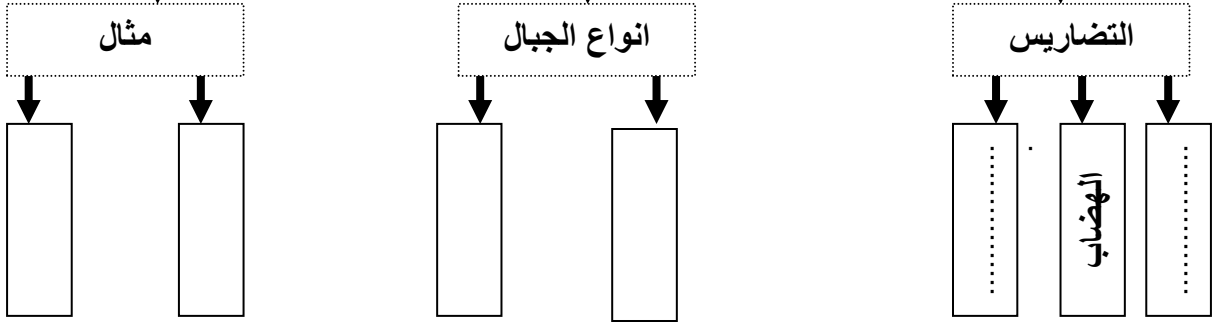
النشاط الثاني : اكتب أمام الصورة نوع التضاريس مستعيناً بالكلمات التالية (الهضاب - السهول - الجبال)



3

أستكمل المخطط الذهني التالي: بالعودة للكلمات التالية)
الجبال - الانكسارية - الالتوائية - جبال عمان - جبال
البحر الأحمر

الملاح الطبيعية والبشرية في دول مجلس التعاون الخليجي

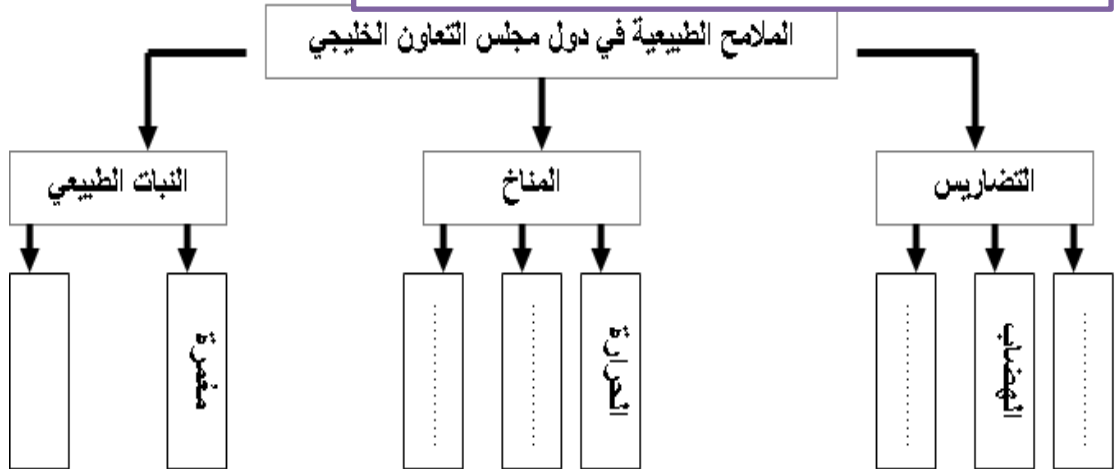


النشاط الثاني : اكتب أمام الصورة نوع التضاريس مستعيناً بالكلمات
التالية (الهضاب - السهول - الجبال)



- السؤال الأول : اختر احد المفاهيم التالية وضعه أمام معناه في الجمل التالية:
- (الموقع الفلكي/ الموقع الجغرافي / الحدود السياسية / الجبال الالتوائية / الجبال الانكسارية / الهضاب / الكثبان الرملية / السهول / السهول الفيضية / المناخ / النبات الطبيعي / الصحراء /
- 1- موقع الدولة بالنسبة لخطوط الطول ودوائر العرض () .
 - 2- الموقع بالنسبة للدول والمساحات المائية المجاورة () .
 - 3- خطوط وهمية ترسم على الخرائط وتحدد نطاق سيادة الدولة () .
 - 4- تتكون عندما تتعرض الطبقات الرسوبية لضغط من الجانبين () .
 - 5- تتكون عندما تتعرض الطبقات الصلبة لضغط فتتعرض أحداها فوق الأخرى () .
 - 6- أرض مرتفعة ذات سطح مستوي أو شبة مستوي () .
 - 7- تجمعات كبيرة من الرمال تنتقل من مكان لآخر بفعل قوة الرياح () .
 - 8- أرض منخفضة مستوية السطح () .
 - 9- سهول ذات تربة خصبة تكونت على جانبي الوادي بعد موسم سقوط الامطار () .
 - 10- حالة الجو لفترة زمنية طويلة () .
 - 11- النبات الذي خلقه الله تعالى وينمو من تلقاء نفسه دون تدخل الإنسان () .
 - 12- أرض جافة نادرة سقوط الأمطار () .

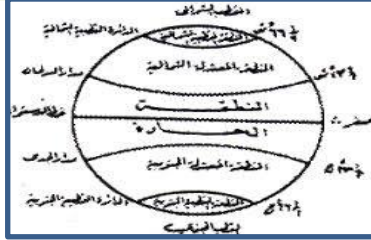
السؤال الثاني : أستكمل المخطط الذهني التالي:





الهدف العام : المناخ والنبات الطبيعي

النشاط الأول: ضع الكلمة المناسبة تحت الصورة والتمثلة بالعوامل المؤثرة في المناخ



النشاط الثاني : للمناخ العديد من العناصر أذكرها ؟

.....

.....

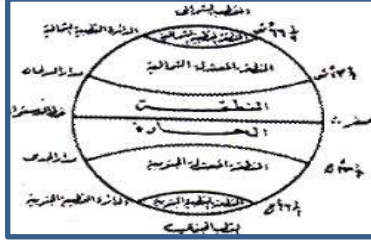
النشاط الثالث : ضع إشارة (v) أمام العبارة الصحيحة وإشارة (x) أمام العبارة الخاطئة؟

- () تقع دول مجلس التعاون الخليجي في المناطق المعتدلة .
- () تتساقط الأمطار بكثرة في دول المجلس .
- () القرب من البحر والبعد عنه يؤثر على مناخ دول المجلس
- () تسقط الأمطار في جبال عسير في فصل الصيف
- () النباتات الطبيعي ينمو من تلقاء نفسه
- () يقسم النبات إلى نوعين حولي ومعمر
- () من الأمثلة على النبات المعمر الثمام والحميض المانجروف



الهدف العام : المناخ والنبات الطبيعي

النشاط الأول: ضع الكلمة المناسبة تحت الصورة والتمثلة بالعوامل المؤثرة في المناخ



النشاط الثاني : للمناخ العديد من العناصر أذكرها ؟

.....

النشاط الثالث علل سيادة المناخ الصحراوي الحار في دول مجلس التعاون الخليجي؟؟

.....

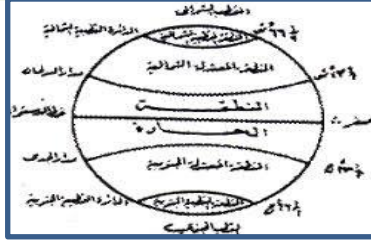
النشاط الثالث : ضع إشارة (V) أمام العبارة الصحيحة وإشارة (X) أمام العبارة الخاطئة؟

- () تقع دول مجلس التعاون الخليجي في المناطق المعتدلة .
- () تتساقط الأمطار بكثرة في دول المجلس .
- () القرب من البحر والبعد عنه يؤثر على مناخ دول المجلس
- () تسقط الأمطار في جبال عسير في فصل الصيف
- () النباتات الطبيعي ينمو من تلقاء نفسه
- () يقسم النبات إلى نوعين حولي ومعمر
- () من الأمثلة على النبات المعمر الثمام والحميض المانجروف

3

الهدف العام : المناخ والنبات الطبيعي

النشاط الأول: صل بين الصورة والمعلومة في بيان العوامل المؤثرة في المناخ



التضاريس

القرب والبعد من المسطحات المائية

الموقع بالنسبة لدوائر العرض

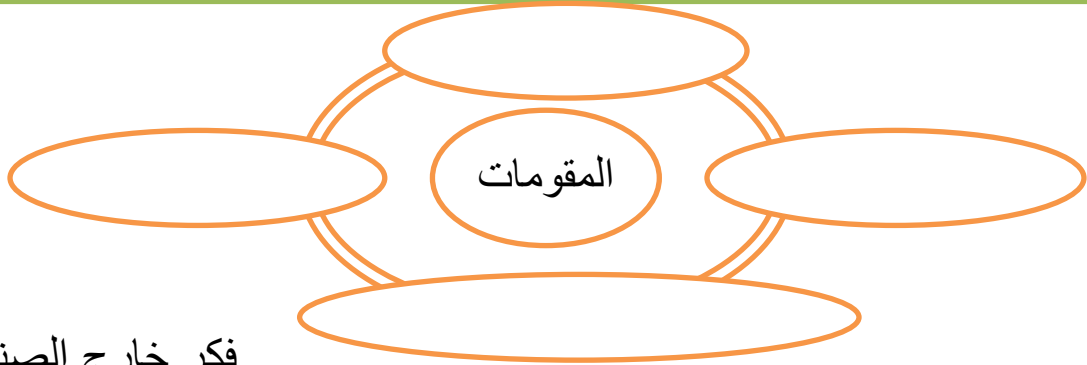
النشاط الثاني : ضع إشارة (v) أمام العبارة الصحيحة وإشارة (x) أمام العبارة الخاطئة؟

- () تقع دول مجلس التعاون الخليجي في المناطق المعتدلة .
- () تنساقط الأمطار بكثرة في دول المجلس .
- () القرب من البحر والبعد عنه يؤثر على مناخ دول المجلس
- () تسقط الأمطار في جبال عسير في فصل الصيف
- () النباتات الطبيعي ينمو من تلقاء نفسه
- () يقسم النبات إلى نوعين حولي ومعمر
- () من الأمثلة على النباتات المعمر الثمام والحميض المانجروف



الهدف العام : خطوات قيام مجلس التعاون الخليجي

النشاط الأول: استكمل المخطط الذهني التالي الخاص بمقومات الترابط بين الدول الخليجية



فكر خارج الصندوق

النشاط الثاني : لقصة المهلب رابط قوي مع قيام مجلس التعاون الخليجي فسر ذلك ؟

.....

النشاط الثالث : بماذا تفسر مقولة الشيخ زايد رحمه الله الموجودة صفحة 27 في الكتاب؟

.....
.....

النشاط الثالث : تخيل دول الخليج العربي بدون وجود مجلس التعاون الخليجي ؟

.....
.....
.....

3

الهدف العام : خطوات قيام مجلس التعاون الخليجي

النشاط الأول: صل بين الصورة والمعلومة في بيان مقومات الوحدة والترابط




المصلحة

المصير

وحدة الأرض

العادات



اللغة

الدين



النشاط الثاني : ضع إشارة (v) أمام العبارة الصحيحة وإشارة (x) أمام العبارة الخاطئة؟

- () تشكل دول مجلس التعاون الخليجي وحدة سياسية وطبيعية .
- () توجد حواجز طبيعية بين دول الخليج العربي .
- () الدين الاسلامي واللغة العربية للدول مجلس التعاون الخليجي
- () اصحاب فكرة مجلس التعاون الخليجي هو الشيخ زايد والأمير جابر
- () تأسس مجلس التعاون الخليجي في 25-5-1984
- () كان قيام المجلس الدعامه الأساسية لتأمين القوة الذاتية
- () (الدولة التي كانت مسيطرة على الخليج العربي هي بريطانيا




الهدف العام : خطوات قيام مجلس التعاون الخليجي

النشاط الأول: صل بين الصورة والمعلومة في بيان مقومات الوحدة والترابط




النشاط الثاني : ضع إشارة (v) أمام العبارة الصحيحة وإشارة (x) أمام العبارة الخاطئة؟

- () تشكل دول مجلس التعاون الخليجي وحدة سياسية وطبيعية .
- () توجد حواجز طبيعية بين دول الخليج العربي .
- () الدين الاسلامي واللغة العربية للدول مجلس التعاون الخليجي
- () اصحاب فكرة مجلس التعاون الخليجي هو الشيخ زايد والأمير جابر
- () تأسس مجلس التعاون الخليجي في 25-5-1984
- () كان قيام المجلس الدعامه الأساسية لتأمين القوة الذاتية
- () (الدولة التي كانت مسيطرة على الخليج العربي هي بريطانيا




لخص
مقومات
الوحدة بين
دول المجلس

الاسم :




لخص
مقومات
الوحدة بين
دول المجلس

الاسم :



ماهي عناصر
المناخ

الاسم :



العوامل
المؤثرة في
المناخ

الاسم :



الهدف العام : مجلس التعاون الخليجي اهداف وانجازات

النشاط الأول :صمم خريطة ذهنية تمثل أهداف مجلس التعاون الخليجي ؟

النشاط الثاني : استكمل الخريطة الذهنية الخاصة بالهيكل التنظيمي لدول مجلس التعاون ؟



النشاط الثالث : ماذا يقصد بالمجلس الأعلى ؟

.....

.....

.....



الهدف العام : مجلس التعاون الخليجي اهداف وانجازات

النشاط الأول : استكمل الفراغات في النص التالي ؟

تحقيق والتكامل بين دول مجلس التعاون الخليجي
دفع عجلة في شتى المجالات
وضع أنظمة متماثلة في مختلف الميادين مثل
.....
.....

النشاط الثاني : استكمل الخريطة الذهنية الخاصة بالهيكل التنظيمي لدول مجلس التعاون ؟



النشاط الثالث : من هو أول أمين عام لمجلس التعاون الخليجي وما هي جنسيته ؟

.....
.....
.....

3

الهدف العام : مجلس التعاون الخليجي اهداف وانجازات

النشاط الأول: استكمل الفراغات في النص التالي ؟ (التنسيق - الاقتصادي والسياسي والتعليمي والمالي - التقدم العلمي والتقني)

تحقيق والتكامل بين دول مجلس التعاون الخليجي
دفع عجلة في شتى المجالات
وضع أنظمة متماثلة في مختلف الميادين مثل
.....
.....

النشاط الثاني : استكمل الخريطة الذهنية الخاصة بالهيكل التنظيمي لدول مجلس التعاون ؟



النشاط الثالث : متى تولى عبدالله يعقوب بشاره الأمانة العامة لمجلس التعاون الخليجي ؟

.....
.....
.....



الهدف العام : مجلس التعاون الخليجي اهداف وانجازات

النشاط الأول :لمجلس التعاون الخليجي العديد من الانجازات ,أذكر اربع منها ؟

- 1-
- 2-
- 3-
- 4-

النشاط الثاني :هل حقق مجلس التعاون الخليجي أهدافه دال على ذلك من خلال ذكر أمثلة من الأهداف وما يقابله من انجازات ؟

مثال تطبيقي : من الأهداف وضع أنظمة متماثلة
الانجاز : توحيد الأنظمة الاقتصادية .
حاكي النموذج ...

.....
.....
.....
.....
.....

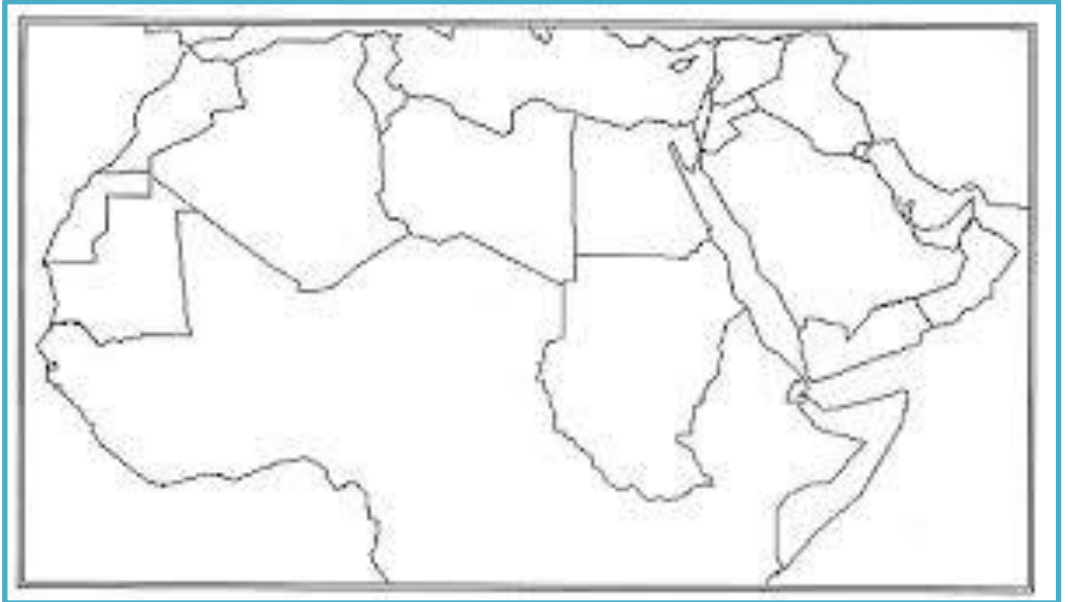


الهدف العام : مجلس التعاون الخليجي اهداف وانجازات

النشاط الأول: من انجازات مجلس التعاون الخليجي تنسيق المواقف السياسية نحو القضايا العربية أضرب أمثلة على ذلك ؟

- 1-
- 2-
-

النشاط الثاني: حدد على الخريطة الدول المشاركة في قوة درع الجزيرة ؟



3

الهدف العام : مجلس التعاون الخليجي اهداف وانجازات

النشاط الأول: من خلال الصور التالية الانجازات التي حققها مجلس التعاون الخليجي مستعين بالكلمات التالية
قوة درع الجزيرة- توحيد الأنظمة الاقتصادية – التنسيق في مجال التعليم – انشاء مشروع الربط المائي – التعاون في المجالات الأمنية – دعم القضية الفلسطينية – تحري الكويت – نصر اليمن





الهدف العام : مجلس التعاون الخليجي السكان

النشاط الأول :وضح المقصود بالمفاهيم والمصطلحات التالية ؟

1- النمو الطبيعي السكاني

.....

2- النمو غير الطبيعي

.....

النشاط الثاني :علل : انخفاض معدل الوفيات في دول مجلس التعاون الخليجي ؟

.....*

.....

النشاط الثالث : صمم خريطة ذهنية للعوامل المؤثرة في توزيع السكان ؟



الهدف العام : مجلس التعاون الخليجي السكان

النشاط الأول :ضع المفهوم المناسب في مكانه (الزيادة اغير الطبيعية – الزيادة الطبيعية) ؟

- 1- الفرق بين عدد المواليد وعدد الوفيات
خلال فترة زمنية محددة
- 2- الزيادة الناجمة عن هجرة السكان من
دولة إلى أخرى

النشاط الثاني :تقسم الهجرة في دول مجلس التعاون إلى قسمين ؟

..... *

النشاط الثالث : صنف المفردات التالية وفق الجدول في موضع توزيع السكان ؟
المناخ – التربة – الحرفة – فرص العمل – النقل- التضاريس – الخدمات

				العوامل الطبيعية
				العوامل البشرية

3

الهدف العام : مجلس التعاون الخليجي السكان

النشاط الأول: ضع المفهوم المناسب في مكانه (الزيادة اغير الطبيعية – الزيادة الطبيعية) ؟



النشاط الثاني: تقسم الهجرة في دول مجلس التعاون إلى قسمين ؟

..... *

النشاط الثالث : صنف الصور التالية في كونها عوامل طبيعية أو عوامل بشرية مؤثرة في توزيع السكان



مجموعات

النشاط الأول: من خلال الصور التالية الانجازات التي حققها مجلس التعاون الخليجي



مجموعات

النشاط الأول: من خلال الصور التالية الانجازات التي حققها مجلس التعاون الخليجي



مجموعات

النشاط الأول: صمم خريطة ذهنية تمثل أهداف مجلس التعاون الخليجي؟

النشاط الثاني: استكمل الخريطة الذهنية الخاصة بالهيكل التنظيمي لدول مجلس التعاون؟



النشاط الثالث: ماذا يقصد بالمجلس الأعلى؟

.....

.....

.....

مجموعات

النشاط الأول: صمم خريطة ذهنية تمثل أهداف مجلس التعاون الخليجي؟

النشاط الثاني: استكمل الخريطة الذهنية الخاصة بالهيكل التنظيمي لدول مجلس التعاون؟



النشاط الثالث: ماذا يقصد بالمجلس الأعلى؟

.....
.....
.....

مجموعات

النشاط الأول: ضع المفهوم المناسب في مكانه (الزيادة اغير الطبيعية – الزيادة الطبيعية) ؟



النشاط الثاني: تقسم الهجرة في دول مجلس التعاون إلى قسمين ؟

..... *

النشاط الثالث : صنف الصور التالية في كونها عوامل طبيعية أو عوامل بشرية مؤثرة في توزيع السكان



مجموعات

النشاط الأول: ضع المفهوم المناسب في مكانه (الزيادة اغير الطبيعية – الزيادة الطبيعية) ؟



النشاط الثاني: تقسم الهجرة في دول مجلس التعاون إلى قسمين ؟


..... *

النشاط الثالث : صنف الصور التالية في كونها عوامل طبيعية أو عوامل بشرية مؤثرة في توزيع السكان




مجموعات

ضع في الدائرة العوامل الطبيعية المؤثرة في توزيع السكان وفي
المربعات العوامل البشرية




مجموعات

ضع في الدائرة العوامل الطبيعية المؤثرة في توزيع السكان وفي
المربعات العوامل البشرية




مجموعات

ضع في الدائرة الهيكل التنظيمي للمجلس وفي المربع أهداف المجلس




مجموعات

ضع في الدائرة الهيكل التنظيمي للمجلس وفي المربع أهداف المجلس





وضح الفئات العمرية التي ينقسم لها السكان في التفاحة والتركيب
النوعي في الموزة

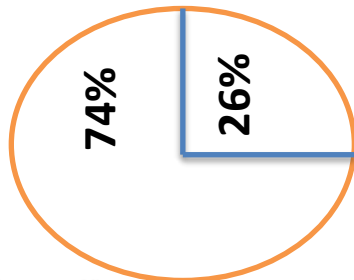


ماذا تستنتج من الشكل التالي اذا علمت
ان نسبة الشباب هي 74%؟

.....
.....

التركيب العمري هو

.....
.....
.....




التركيب النوعي هو

.....
.....
.....



وضح الفئات العمرية التي ينقسم لها السكان في التفاحة والتركيب
النوعي في الموزة (كبار السن - صغار السن - الشباب - الذكر -
الأنثى)

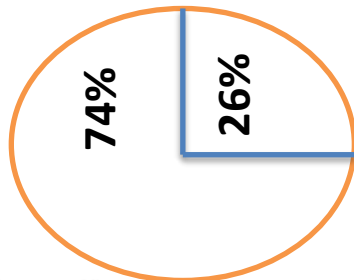


ماذا تستنتج من الشكل التالي اذا علمت
ان نسبة الشباب هي 74%؟

.....
.....

التركيب العمري هو

.....
.....
.....



التركيب النوعي هو

.....
.....
.....

السؤال الأول : ضع دائرة حول رمز الإجابة الصحيحة

التركيب العمري هو تقسيم السكان حسب					
A	الجنس	B	العمر	C	الأصل
التركيب النوعي هو تقسيم السكان حسب					
A	الجنس	B	العمر	C	الأصل
المجتمع الخليجي هو مجتمع					
A	هرم	B	فتي	C	عجوز
نسبة الشباب هي					
A	26%	B	74%	C	46%

اي من الصور التالية تمثل التركيب العمري





الهدف العام : البيئة ملمهة الشيخ زايد

السؤال الأول : استكمل الفراغات التالية بما يناسب من كلمات
« العين – ابوظبي – مكون من مكونات شخصية زايد – خير الانسان
– يالصفور- الخيل – الهجن – الصحراء – حب العمل – شويب –
التواضع – التسامح – حب- الخير – الالتزام

لم يكن زايد رحمه الله يقطع الاشارة الحمراء في سيارته دلالة
على صفة , يسأل المواطن وغير المواطن
والعامل البسيط عن احواله دلالة على فعل
, خصص ساعات من وقته لقراءة الرسائل دلالة على
..... , كان يسير في شوارع العين ويتجول في
اسواقها دلالة على صفة
جلسة ساعات وايام في مراقبة العمل في سد
وهي صفة مهمة في القائد صبر على
..... ومارس ركوب و
ومارس رياضة الصيد عمل
..... فكانت البيئة برمالها وجبالها ونباتها
..... رحمه الله , عاش
طفولته في مدينة وشبابه في مدينة
..... رحم الله والدنا الشيخ زايد

الهدف العام : البيئة ملمهه الشيخ زايد

السؤال الأول : ضع اشارة (v) أمام العبارة الصحيحة :

- () & قضى الشيخ زايد رحمه الله طفولته في مدينة الشارقة
- () & راقب الشيخ زايد العمل بنفسه بكل تواضع
- () & جلس مع العامل والموظف والغني والفقير
- () & قطع الاشارة الحمراء بصفته رئيس للدولة
- () & كان يرافقه الكثير من الحرس
- () & يسير في الشوارع والاسواق يتفقد الرعية
- () & يضع علم الرئاسة على سيارته
- () & انتقل لمدينة العين في شبابه
- () & أحب الصيد بالصقور
- () & ركب الخيل ومارس سباق الهجن
- () & استمتع للكبير والصغير
- () & هو قاهر ومروض الصحراء
- () & من صفاته رحمه الله الصبر والتواضع
- () & كانت البيئة مكون هام في شخصية زايد رحمه الله
- () & كان رامي سلاح مهم
- () & ذهب إلى المدينة لاسترداد نشاطه
- () & كان متسامح مع الناس
- () & اسلم على يديه العديد من الناس



الهدف العام : البيئة نعمة

السؤال الأول : صمم خريطة ذهنية للدرس

