

تم تحميل هذا الملف من موقع المناهج الإماراتية



الملف أسئلة B-Part 3 Checkpoint مع الحل

[موقع المناهج](#) ← [المناهج الإماراتية](#) ← [الصف الخامس](#) ← [تصميم](#) ← [الفصل الأول](#)

روابط مواقع التواصل الاجتماعي بحسب الصف الخامس



روابط مواد الصف الخامس على تلغرام

[الرياضيات](#)

[اللغة الانجليزية](#)

[اللغة العربية](#)

[التربية الاسلامية](#)

المزيد من الملفات بحسب الصف الخامس والمادة تصميم في الفصل الأول

<a href="#">تصميم اختبار وزاري مع الحل</a>	1
<a href="#">تصميم 3 unit</a>	2
<a href="#">تصميم النموذج الوزاري تصميم وتكنولوجيا</a>	3
<a href="#">ملف بوضح طبيعة الأسئلة الوزارية لإمتحان مادة التصميم والتكنولوجيا من الـ</a>	4
<a href="#">مهم .. ملخص الوجدتين الثالثة والرابعة الهامتان لامتحان التصميم والتكنولوجيا الاسبوع القادم</a>	5




سؤال 1:

الدرجة : 2 / 2

almanahj.com/ae

المنهج الإلكتروني

**A computer or machine can think and learn like humans. What is this called?**



Artificial intelligence

Information

Data

Prediction



سؤال 2:

الدرجة : 2 / 2

Which one is an example of AI?



Vacuum



Remote control



Lamp

Face recognition





سؤال 3:

الدرجة : 2 / 2

What are AI systems good at?

almanahj.com/ae

المنهج الإلكتروني

Reading emotions

Reading facial expressions

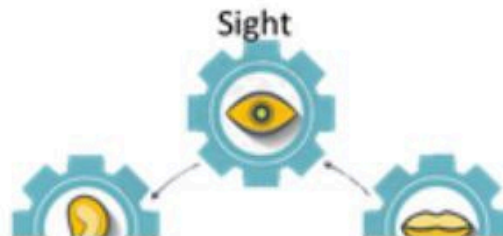
Detecting a change in the tone of  
voice

✓ Processing lots of data

سؤال 4:

الدرجة : 2 / 2

Which one uses the five senses?

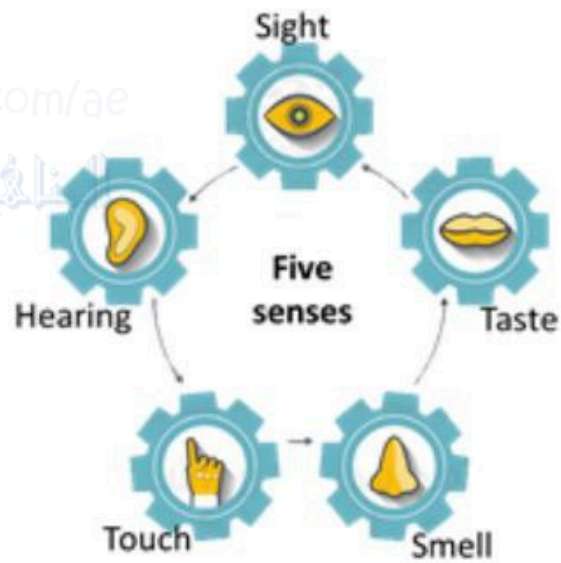




سؤال 4:

الدرجة : 2 / 2

Which one uses the five senses?



Humans

Machine learning

Artificial intelligence

Machines



سؤال 5:

الدرجة : 2 / 2

How does AI work?



Stores information

Makes decisions

Takes actions

✓ All of the above

سؤال 6:

الدرجة : 2 / 2

Which limitation of AI agents does the picture show?





سؤال 6:

الدرجة : 2 / 2

Which limitation of AI agents does the picture show?

Facial expressions ✓ Emotions Tone of the voice Cultures and languages



سؤال 7:

الدرجة : 2 / 2

What are the types of machine learning?

almanahj.com/ae

المنهج الإماراتية

Supervised, unsupervised and reinforcement learning

Images and labels

Similarities and differences

Algorithms and data

سؤال 8:

الدرجة : 2 / 2

Rashed stores many images in the machine with labels. Now the machine should identify which














سؤال 8:

الدرجة : 2 / 2

Rashed stores many images in the machine with labels. Now the machine should identify which object it this. Which type of machine learning did he use?

 Car	 Bus	 Tree
 Phone	 Tree	 Bus
 Phone	 Car	 Tree

Supervised learning

Unsupervised learning

Reinforcement Learning



سؤال 9:

الدرجة : 2 / 2

Which type of data the does  
picture show?

almanahj.com/ae

المنهج الإلكتروني

	A	B	C	D	E
1	721111	838195	492655	721111	838195
2	391781	338317	626697	391781	338317
3	733567	713921	764558	733567	713921
4	414992	419754	134267	414992	419754
5	721534	175785	389954	721534	175785
6	344821	359643	548463	344821	359643
7	992494	965532	149188	992494	965532
8	459663	733145	324676	459663	733145
9	712153	826921	778719	712153	826921
10	747953	527973	151976	747953	527973

Text

Audio

✓ Numbers

Images

Images 

سؤال 10:

الدرجة : 2 / 2

Which data type does the picture show?

Name	Best Score
Putter	4
Granny	5

 Tables Bar charts Pictograms Pictures