

تم تحميل هذا الملف من موقع المناهج الإماراتية



أسئلة الاختبار الثاني لمنتصف الفصل في الوحدة الرابعة منهج ريفيل

موقع المناهج ← المناهج الإماراتية ← الصف الخامس ← رياضيات ← الفصل الأول ← اختبارات ← الملف

تاريخ إضافة الملف على موقع المناهج: 2024-10-15 21:14:09

ملفات اكتب للمعلم اكتب للطالب | اختبارات الكترونية | اختبارات | حلول | عروض بوربوينت | أوراق عمل
منهج انجليزي | ملخصات وتقارير | مذكرات وبنوك | الامتحان النهائي للمدرس

المزيد من مادة
رياضيات:

التواصل الاجتماعي بحسب الصف الخامس



صفحة المناهج
الإماراتية على
فيسبوك

الرياضيات

اللغة الانجليزية

اللغة العربية

التربية الاسلامية

المواد على تلغرام

المزيد من الملفات بحسب الصف الخامس والمادة رياضيات في الفصل الأول

حل مراجعة الوحدة الثالثة Relationships Number and Value Place القيمة المكانية والعلاقات بين الأعداد

1

حل أوراق عمل الوحدة الثالثة Relationships Number and Value Place القيمة المكانية والعلاقات بين الأعداد

2

أوراق عمل الوحدة الثالثة Relationships Number and Value Place القيمة المكانية والعلاقات بين الأعداد

3

حل الوحدة الثالثة Relationships Number and Value Place من كتاب الطالب منهج ريفيل

4

حل الوحدة الثانية Volume الحجم من كتاب الطالب منهج ريفيل

5



مؤسسة الإمارات للتعليم المدرسي
EMIRATES SCHOOLS ESTABLISHMENT

مؤسسة التربية والتعليم مدرسة
الخير حلقة ثانية وثالثة



اسم الطالبة Student Name

الصف Student Class

الاختبار الثاني لمنتصف الفصل الاول لطالبات الصف الخامس 2024 The second Midterm exam – Grade 5 -2024		
Total	Marks	Part
		القسم 1 Part 1
		القسم 2 Part 2
		القسم 3 Part 3

Q1. Circle the correct answer

(8 marks)

1- **Estimate** the sum of $57.8 + 21.35 = ?$

- A. 67
- B. 77
- C. 79
- D. 88

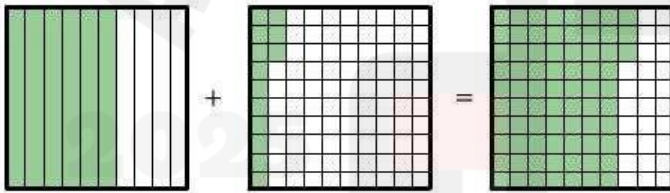
2- **The Place value of 7** **34.678**

- A. Tenths
- B. Thousandths
- C. Hundredths
- D. Ones

3- **The Place value of 6** **34.678**

- A. Tenths
- B. Thousandths
- C. Hundredths
- D. Ones

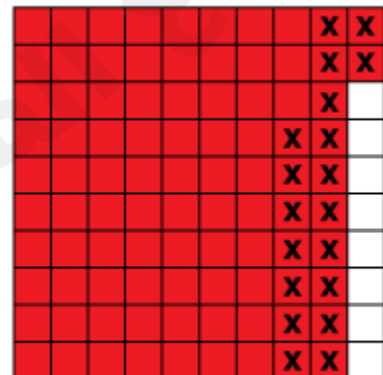
4- The correct equation of the figure



- A. $0.6 + 0.13 = 0.73$
- B. $6 + 0.13 = 6.13$
- C. $0.7 + 0.13 = 0.83$
- D. $6 + 13 = 73$

4- The Correct equation of the grid model

- E. $0.90 - 0.20$
- F. $0.88 - 0.66$
- G. $0.92 - 0.19$
- H. $0.92 - 0.25$



Part #2

(12 Marks)


Find the Value of the following questions (Showing your steps)

A. $67.35 + 21.44 =$

B. $25.52 - 12.28 =$

C. $14.53 + 11.2$

D. $66.60 - 41.54$



Part # 3 (Use Cube strategy)

(5 Marks)

A. Amina had **70.50** Dhs to spend at an Italian Restaurant. She purchased a pizza that cost **12.23** Dhs. How much change **Left** with Amina

B. Hamdas' Luggage weighs **15.6** Pounds and Salma's Luggage weighs **19.25** pounds . What is the **total** weight of their luggage ?

