

تم تحميل هذا الملف من موقع المناهج الإماراتية



الملف أوراق عمل مراجعة شاملة

[موقع المناهج](#) ← [المناهج الإماراتية](#) ← [الصف الخامس](#) ← [اجتماعيات](#) ← [الفصل الثاني](#)

روابط مواقع التواصل الاجتماعي بحسب الصف الخامس



روابط مواد الصف الخامس على تلغرام

[الرياضيات](#)

[اللغة الانجليزية](#)

[اللغة العربية](#)

[التربية الاسلامية](#)

المزيد من الملفات بحسب الصف الخامس والمادة اجتماعيات في الفصل الثاني

كل ما يخص الاختبار التكويني لمادة التربية الاجتماعية للصف الخامس يوم الأربعاء 12/2/2020	1
تحميل كتاب الطالب	2
ورقة عمل لدرس (بطولات من بلادي)	3
أوراق عمل منتصف الفصل	4
الصف الخامس الفصل الثاني تربية اسلامية واجتماعيات مقررات الامتحان المركزي القصير	5


أوراق العمل

المعلم عمر حسن إبراهيم عطا الله
مادة الدراسات الاجتماعية

عَمْرٌ
2022



الدراسات الاجتماعية



ALhayer



التاريخ : / / 2020



A	النسبي	B	الفلكي	C	دوائر العرض
---	--------	---	--------	---	-------------

B	من دول المجلس عاصمتها مسقط
A	الامارات
B	البحرين
C	عمان

C	يمر من ثلاث دول خليجية
A	الجدري
B	السرطان
C	الاستواء

السؤال 2 أنظر . تأمل ... فكر ... ثم أجب ؟

(1) ضلل الدول غير التابعة للمجلس ؟

(2) تقع دول مجلس التعاون الخليجي في قارة

(3) ما هي المسطحات المائية التي تشرف عليها دول مجلس التعاون الخليجي ؟

(5) تقع في شرق دول المجلس يترأس الدولة فيها هو الشيخ خليفة بن زايد ه

(6) ضلل الحروف المتشابه مستخرج كلمة تتعلق بالدرس

تقييم	متميز	متواضع	يحتاج التعديل
-------	-------	--------	---------------

35

60

(4) أكبر دول المجلس من حيث المساحة هي

ا	م	ت
ت	ل	ن
ن	م	د
ر	و	ر
ح	ة	ر

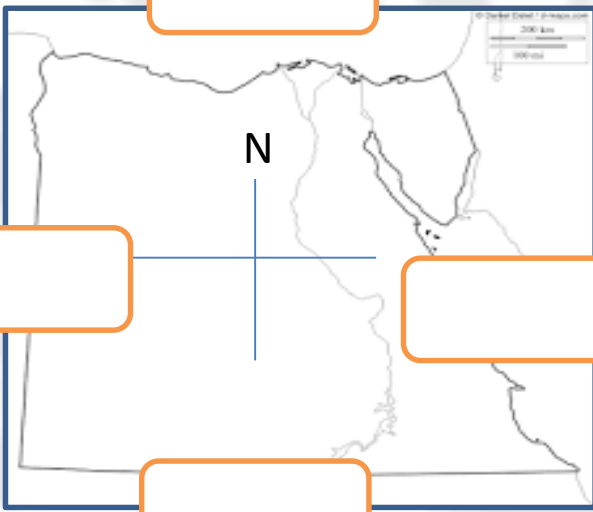
الاسم : الخامس

تقع مصر في الركن الشمالي الشرقي من قارة أفريقيا، ولديها امتداد آسيوي، حيث تقع شبه جزيرة سيناء داخل قارة آسيا فهي دولة عابرة للقارات، تقع على مدار السرطان وتمر بين خطي عرض 22° و 36' 31° شمالاً، وبين خطي طول 24° و 37° شرقي خط جرينتش. [1] ويحد جمهورية مصر العربية من الشمال البحر المتوسط بساحل يبلغ طوله 995 كم، ويحدها شرقاً البحر الأحمر بساحل يبلغ طوله 1941 كم، ويحدها في الشمال الشرقي منطقة فلسطين بطول 265 كم، ويحدها من الغرب ليبيا على امتداد خط بطول 1115 كم، كما يحدها جنوباً السودان بطول 1280 كم. تبلغ مساحة جمهورية مصر العربية حوالي 1.002.000 كيلومتر مربع [2] والمساحة المأهولة تبلغ 78990 كم² بنسبة 7.8 % من المساحة الكلية.

- (1) تقع مصر في الركن من قارة أفريقيا ؟
- (2) تقع مصر في قارتين هما و.....
- (3) يمر بها مدار.....
- (4) تمتد بين خطي طول ودائرتي عرض
- (5) على الخريطة المرفقة عين الدول المجاورة بالتعاون مع النص

(6) ضلل الحروف المتشابه ثلاث مرات
مستخرج كلمة تتعلق بالدرس
.....

ا	م	ت
ت	ل	ت
ت	م	د
م	ي	م
ن	ي	ة



أنظر ... تأمل ... فكر ... ثم أجب ؟ مجلس التعاون المستوى رقم 3

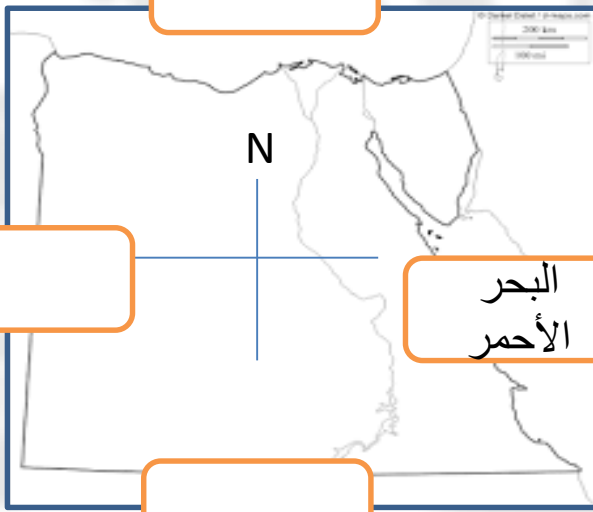
السؤال 3

تقع مصر في الركن الشمالي الشرقي من قارة أفريقيا، ولديها امتداد آسيوي، حيث تقع شبه جزيرة سيناء داخل قارة آسيا فهي دولة عابرة للقارات، تقع على مدار السرطان وتمر بين خطي عرض 22° و 36' 31° شمالاً، وبين خطي طول 24° و 37° شرقي خط جرينتش. [1] ويحد جمهورية مصر العربية من الشمال البحر المتوسط بساحل يبلغ طوله 995 كم، ويحدها شرقاً البحر الأحمر بساحل يبلغ طوله 1941 كم، ويحدها في الشمال الشرقي منطقة فلسطين بطول 265 كم، ويحدها من الغرب ليبيا على امتداد خط بطول 1115 كم، كما يحدها جنوباً السودان بطول 1280 كم. تبلغ مساحة جمهورية مصر العربية حوالي 1.002.000 كيلومتر مربع [2] والمساحة المأهولة تبلغ 78990 كم² بنسبة 7.8 % من المساحة الكلية.

- (1) تقع مصر في الركن الشرقي من قارة أفريقيا ؟
- (2) تقع مصر في قارتين هما آسيا و.....
- (3) يمر بها مدار.....
- (4) تمتد بين خطي طول ودائرتي عرض
- (5) على الخريطة المرفقة عين الدول المجاورة بالتعاون مع النص

(6) ضلل الحروف المتشابه ثلاث مرات
مستخرج كلمة تتعلق بالدرس
.....

ت	م	ف
س	ي	ر
ل	م	ت
س	ك	ر
ع	ع	ا



تقييم متميز متواضع يحتاج التعديل

الهدف العام : الأهمية الكبيرة التي تتمتع بها دول المجلس



النشاط الثاني : استخرج من الخريطة المسطحات المائية التي تشرف عليها دول المجلس ؟



بحر
عمان

.....

.....

.....

.....

.....

النشاط الثالث : ضع الكلمة المناسبة أمام النص ؟

- وجود الأماكن المقدسة دلالة على الأهمية
- وجود اللؤلؤ والمرجان دلالة على الأهمية
- وجود الأماكن التاريخية دلالة على الأهمية
- إشراف دول المجلس على المسطحات المائية مؤشر على الأهمية

الهدف العام : الأهمية الكبيرة التي تتمتع بها دول المجلس

النشاط الأول :ضع الكلمة المناسبة تحت الصورة من صندوق المعرفة (الأهمية الدينية – الأهمية الاستراتيجية – الأهمية التاريخية – الأهمية الاقتصادية ؟



النشاط الثاني : استخراج من الخريطة المسطحات المائية التي تشرف عليها دول المجلس ؟



.....

.....

.....

.....

.....

النشاط الثالث : ضع إشارة (v) أمام العبارة الصحيحة وإشارة (x) أمام العبارة الخاطئة؟

- () اشتهرت مياه دول المجلس بالثورة الخاصة باللؤلؤ والمرجان .
- () تشرف دول المجلس على مضيق جبل طارق .
- () من الحضارات التي قامت في المنطقة ماجان ودلمون وفيلكا
- () يوجد المسجد الحرام في البحرين
- () تكمن الأهمية الاستراتيجية لدول المجلس بالمسطحات المائية



الهدف العام : الأهمية الكبيرة التي تتمتع بها دول المجلس

النشاط الأول : صل بين المعلومة والصورة التي تقابلها في القائمة ؟



الأهمية الدينية

الأهمية التاريخية

الأهمية الاستراتيجية

الأهمية الاقتصادية

النشاط الثاني : استخراج من الخريطة المسطحات المائية التي تشرف عليها دول المجلس ؟



الخليج.....
بحر.....
بحر.....
البحر.....

النشاط الثالث : ضع إشارة (√) أمام العبارة الصحيحة وإشارة (x) أمام العبارة الخاطئة؟

- () اشتهرت مياه دول المجلس بالثورة الخاصة باللؤلؤ والمرجان .
- () تشرف دول المجلس على مضيق جبل طارق .
- () من الحضارات التي قامت في المنطقة ماجان ودلمون وفيلكا
- () يوجد المسجد الحرام في البحرين
- () تكمن الأهمية الاستراتيجية لدول المجلس بالمسطحات المائية

مهارة قراءة الخرائط : استخراج من الخريطة التالية إجابات الأسئلة؟



- دولة من دول المجلس لها حدود مع العراق وتحمل لقب دولة
- دولة عاصمتها مسقط
- دولة تحد اليمن من الشرق
- عاصمة دولة الإمارات هي
- دولة تشرف على البحر الأحمر والخليج العربي
- من دول المجلس دولة جزرية
- ضع دائرة على عاصمة البحرين
- ما هي عناصر الخريطة الموجودة في الخريطة

مهارة قراءة الخرائط : استخراج من الخريطة التالية إجابات الأسئلة؟



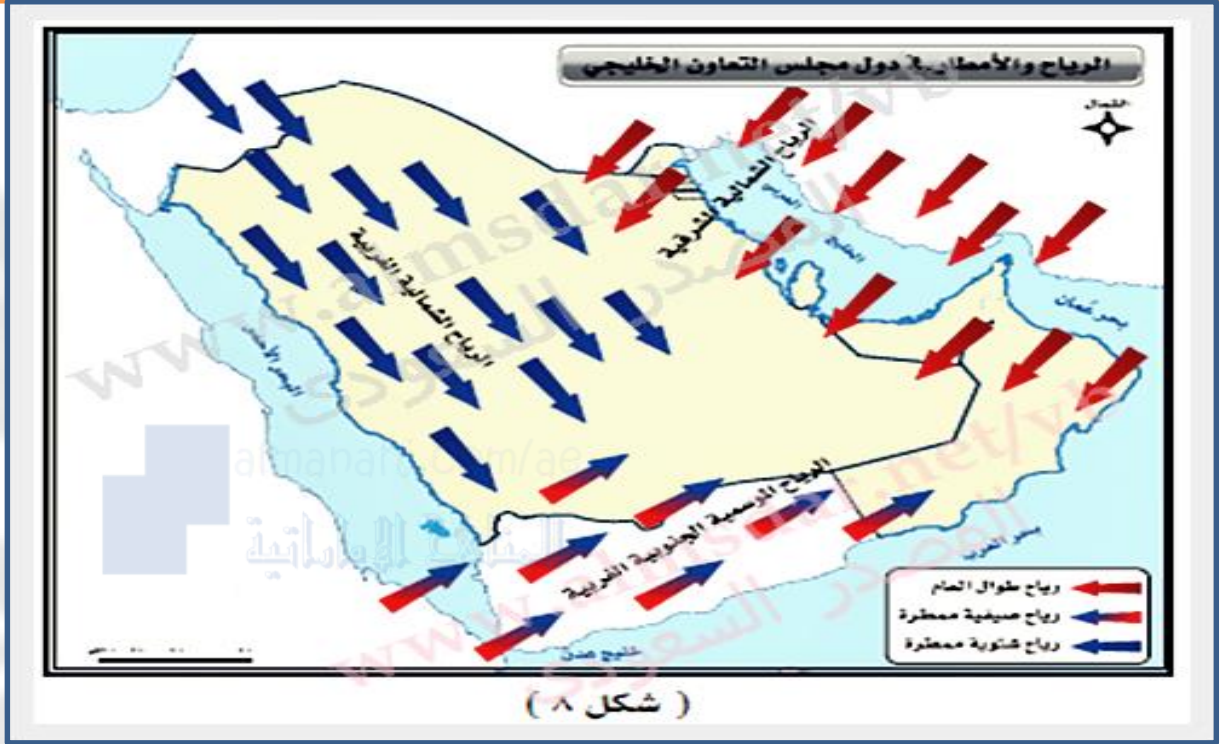
- دولة من دول المجلس لها حدود مع العراق وتحمل لقب مملكة
- دولة عاصمتها مسقط
- دولة تحد اليمن من الشرق
- عاصمة دولة الإمارات هي
- دولة تشرف على بحر عمان والخليج العربي
- من دول المجلس دولة جزرية
- ضع دائرة على عاصمة السعودية
- ما هي عناصر الخريطة الموجودة في الخريطة ويمثل اسم الخريطة

مهارة قراءة الخرائط : استخرج من الخريطة التالية إجابات الأسئلة؟



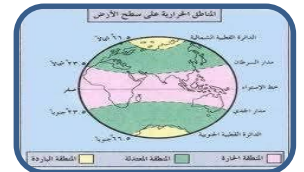

- دولة من دول المجلس لها حدود مع العراق وتحمل لقب مملكة
- ضع دائرة على عاصمة سلطنة عمان
- دولة تحد اليمن من الشرق
- عاصمة دولة الإمارات هي
- دولة تشرف على بحر عمان والخليج العربي
- من دول المجلس دولة جزرية البحرين ضع دائرة عليها
- ضع دائرة على عاصمة السعودية
- ما هي عناصر الخريطة الموجودة في الخريطة ويمثل اسم الخريطة

مهارة قراءة الخرائط : استخرج من الخريطة التالية إجابات الأسئلة؟



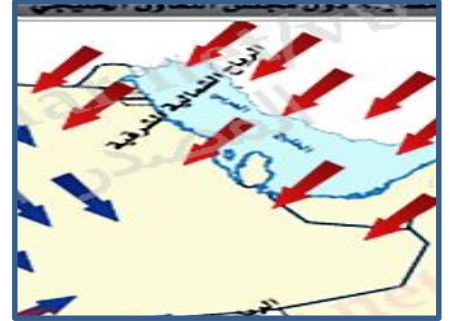
- السهم الذي يحمل اللون الأزرق يشير إلى الرياح
- ما هو اتجاه الرياح القادمة على الخليج العربي
- تتعرض عمان إلى نوعين من الرياح هما
- ما هي أنواع الرياح التي تهب على دول المجلس

- من هي الدولة التي تتعرض إلى ثلاث أنواع من الرياح
- من الصور استخرج العوامل المؤثرة في المناخ ؟



مهارة قراءة الخرائط : استخراج من الخريطة التالية إجابات الأسئلة؟

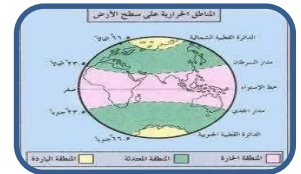

المناطق	في الصيف	في الشتاء	وقت سقوط الأمطار
الساحلية	حار	دافئ قليل الأمطار	شتاء
الداخلية	جاف	قليل الأمطار	شتاء
المرتفعة	ممطر	بارد	صيفاً



س 1 : أسجل ثلاثاً من النباتات التي دول مجلس التعاون حسب الجدول التالي :

أشجار	شجيرات وحشائش	أصناب
الطلح	العوسج	الخزامى
السدر	الحرمل	الأقحوان
العرعر	الرمث	الربلة

- صف الصيف في المناطق الساحلية
- ما نوع الرياح التي تهب على الإمارات
- متى تسقط الأمطار في دول المجلس
- من النباتات الطبيعي الأشجار
- تقل الأمطار في المناطق
- تسقط الأمطار صيفاً في دولة من دولة المجلس هي
- من الصور استخراج العوامل المؤثرة في المناخ ؟



مهارة قراءة الخرائط : استخرج من الخريطة التالية إجابات الأسئلة؟

س ٣ : أدون المناخ السائد في دول مجلس التعاون وفق الجدول التالي :

المناطق	في الصيف	في الشتاء	وقت سقوط الأمطار
الساحلية	حار	دافئ قليل الأمطار	شتاءً
الداخلية	جاف	قليل الأمطار	شتاءً
المرتفعة	ممطر	بارد	صيفاً

س ٤ : أسجل ثلاثاً من النباتات في دول مجلس التعاون حسب الجدول التالي :

أشجار	شجيرات وحشائش	أصناب
الطلح	العوسج	الخزامى
السدر	الحرمل	الأقحوان
العرعر	الرمث	الربلة

- صف الصيف في المناطق الساحلية

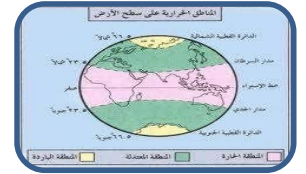

- متى تسقط الأمطار في دول المجلس

- من النباتات الطبيعي الأشجار

- تقل الأمطار في المناطق

- تسقط الأمطار صيفاً في دولة من دولة المجلس هي

- من الصور استخرج العوامل المؤثرة في المناخ ؟



.....

عَمَّر

2022





الهدف العام : مجلس التعاون الخليجي السكان

النشاط الأول: وضح المقصود بالمفاهيم والمصطلحات التالية ؟

1- النمو الطبيعي السكاني -

المنطقة الإماراتية

2- النمو غير الطبيعي

النشاط الثاني: علل : انخفاض معدل الوفيات في دول مجلس التعاون الخليجي ؟

*

النشاط الثالث : صمم خريطة ذهنية للعوامل المؤثرة في توزيع السكان ؟

تقديم

تميز

متواضع

بحاج التعديل

عَمَرُ

2022





الهدف العام : مجلس التعاون الخليجي السكان

النشاط الأول: ضع المفهوم المناسب في مكانه (الزيادة اغير الطبيعية – الزيادة الطبيعية) ؟

1- الفرق بين عدد المواليد وعدد الوفيات

خلال فترة زمنية محددة

2- الزيادة الناجمة عن هجرة السكان من

دولة إلى أخرى

النشاط الثاني: تقسم الهجرة في دول مجلس التعاون إلى قسمين ؟

* *

النشاط الثالث : صنف المفردات التالية وفق الجدول في موضع توزيع السكان ؟
المناخ – التربة – الحرفة – فرص العمل – النقل- التضاريس – الخدمات

				العوامل الطبيعية
				العوامل البشرية

مهارة قراءة الخرائط : استخرج من الخريطة التالية إجابات الأسئلة؟

الهدف العام : مجلس التعاون الخليجي السكان

النشاط الأول :ضع المفهوم المناسب في مكانه (الزيادة اغير الطبيعية – الزيادة الطبيعية) ؟



المنطقة الإماراتية

النشاط الثاني :تقسم الهجرة في دول مجلس التعاون إلى قسمين ؟

.....*

النشاط الثالث : صنف الصور التالية في كونها عوامل طبيعية أو عوامل بشرية مؤثرة في توزع السكان



بجتاح التعديل

متواضع

متميز

تقييم

أنظر ... تأمل ... فكر ... ثم أجب ؟ سكان مجلس التعاون

السؤال 16

مهارة قراءة الصور الرسوم البيانية : استخراج من إجابات الأسئلة؟

1- عنوان الشكل :

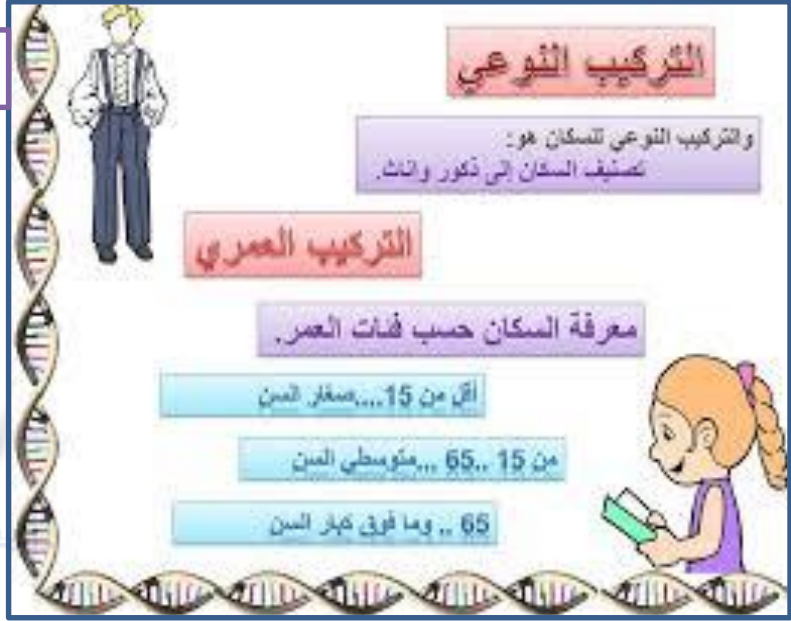
2- ماذا يعني العنوان :

.....

3- ما هي فئات السكان :

.....

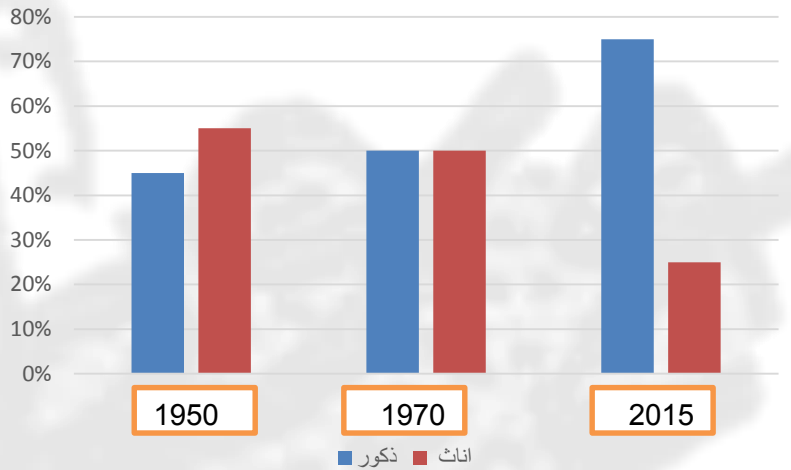
4- من 15-65 ماذا نسمي هذه الفئة ؟



5- كم كانت نسبة الذكور عام 2015

6- أي الأعوام كانت نسبة الذكور أكثر من غيرها

التركيبة النوعية



تقييم	متميز	متواضع	بحاجة التعديل
-------	-------	--------	---------------





الخامس

الاسم :

أنظر ... تأمل ... فكر ... ثم أجب ؟ سكان مجلس التعاون

السؤال 17

مهارة قراءة الصور الرسوم البيانية : استخرج من إجابات الأسئلة؟

1- عنوان الشكل :

2- ماذا يعني العنوان :

.....

3- يقسم السكان حسب النوع :

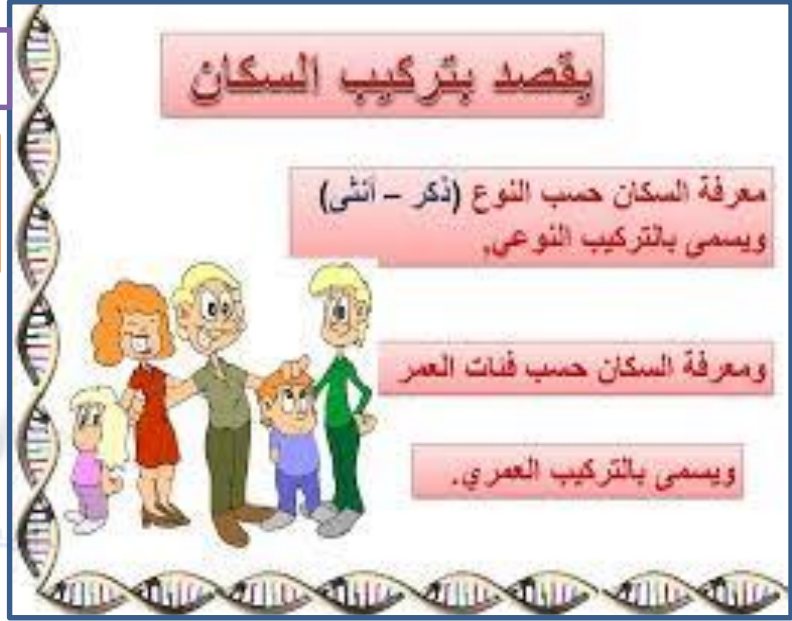
.....

4- الصورة الموجودة في الشكل
تشكل أي نوع من التراكيب
.....

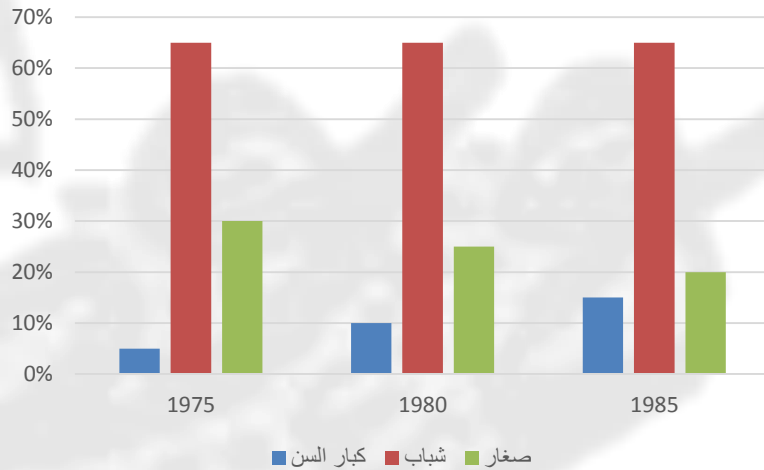
5- ما هي الفئة العمرية التي لا
تتغير

6- ما هي الفئة العمرية التي تقل
باستمرار

7- هذه الفئة تقل لصالح من
.....



التركيب العمري



Omar atallah

تقييم	تمتيز	متواضع	بحاجة التعديل
-------	-------	--------	---------------





الخامس

الاسم :

أنظر ... تأمل ... فكر ... ثم أجب ؟ سكان مجلس التعاون

السؤال 18

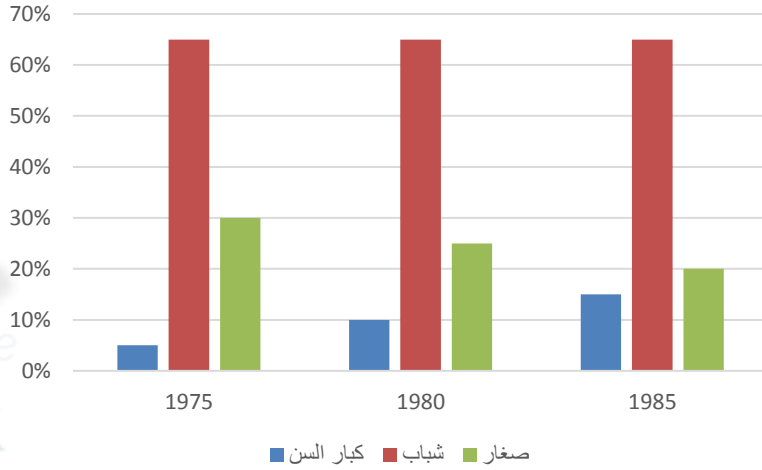
مهارة قراءة الصور الرسوم البيانية : استخراج من إجابات الأسئلة؟

1- ما هي الفئة العمرية التي لا تتغير

2- لماذا لا تتغير

3- ماذا يعني أن تكون نسبة الشباب هي أكثر النسب

التركيب العمري



	1950%	1970%	2015%
ذكور	45%	50%	75%
اناث	55%	50%	25%

4- مثل بالرسم البياني البيانات التي في الجدول على ظهر الورقة



تقييم	تمتيز	متواضع	بحاجة التعديل
-------	-------	--------	---------------





الخامس

الاسم :

أنظر ... تأمل ... فكر ... ثم أجب ؟ زيد فارس البيئة

السؤال 19

مهارة قراءة الصور الرسوم البيانية : استخراج من إجابات الأسئلة؟

الهدف العام : البيئة ملهمة الشيخ زايد رحمه الله

السؤال الأول : لخص درس البيئة ملهمة الشيخ زايد في سطور متناول
المحاور التالية : & الجوانب التي تأثر بها زايد & المدن التي عاش بها
زايد & هويات الشيخ زايد & مواقف من حياة زايد مستعين بالصور



الجوانب التي تأثر بها زايد



المدن التي عاش بها زايد



هوايات زايد



مواقف من حياة زايد

عَمَرَ

تحتاج التعديل

متواضع

تمتيز

تقييم





الهدف العام : البيئة ملهمة الشيخ زايد رحمه الله

السؤال الأول : استكمل الفراغات التالية بما يناسب من كلمات
« العين - ابوظبي - مكون من مكونات شخصية زايد - خير الانسان - يالصفور - الخيل
- الهجن - الصحراء - حب العمل - شويب - التواضع - التسامح - حب- الخير -
الالتزام

لم يكن زايد رحمه الله يقطع الاشارة الحمراء في سيارته دلالة على صفة
..... , يسأل المواطن وغير المواطن والعامل البسيط عن
أحواله دلالة على فعل , خصص ساعات من وقته
لقراءة الرسائل دلالة على , كان يسير في شوارع العين
ويتجول في أسواقها دلالة على صفة
جلسة ساعات وايام في مراقبة العمل في سد وهي صفة
مهمة في القائد صبر على ومارس
ركوب و ومارس رياضة
الصيد عمل لـ فكانت البيئة
برمالها وجبالها ونباتها رحمه الله
, عاش طفولته في مدينة وشبابه في مدينة
..... رحم الله والدنا الشيخ زايد

عَمَرَ

2022

تقييم	تمميز	متواضع	بحتاج التعديل
-------	-------	--------	---------------



الهدف العام : مفهوم المحميات الطبيعية

المحمية الطبيعية هي مساحة من الأرض محددة جغرافياً، سواء كانت هذه المساحة مائية أم برية، ويتم توفير الظروف الطبيعية التي تحمي بعض الأنواع المهددة بالانقراض من الحيوانات والنباتات، ويتم توفير الظروف التي تساعد على التزاوج وحماية نسلها، وتكون هذه المحميات الطبيعية محمية من قبل الدولة، ومفروض لها قوانين لعدم التعرض لها، ففي بعض المحميات قد توجد أنواع نادرة من الحيوانات والنباتات التي تعتبر غنيمة للكثير من الناس. عمر

النشاط الأول : ضع دائرة

..... هي مساحة من الأرض محددة جغرافياً، سواء كانت هذه المساحة

A	الحدائق	B	المحميات الصناعية	C	المحميات الطبيعية
---	---------	---	-------------------	---	-------------------

المحميات الطبيعية منها البري عمر

A	الجوي	B	المائي	C	الساخلي
---	-------	---	--------	---	---------

الذي يشرف على المحميات عمر

A	الدولة	B	الشعب	C	الانسان
---	--------	---	-------	---	---------

من خلال قراءة النص ما ذا يوجد في المحميات ؟ عمر

.....
.....



تقييم	تمتيز	متواضع	بحاج التعديل
-------	-------	--------	--------------





الهدف العام : مفهوم المحميات الطبيعية

حماية الأصناف المختلفة من الحيوانات التي لها علاقة بإنتاج المحاصيل الزراعيّة، التي تُعتبر غذاءً لبعض الحيوانات أو غذاءً للإنسان، كما أنّها تحافظ على التوازن البيئي في الطبيعة حيث إنّ وجود بعض النباتات والحيوانات يخلّص من بعض الأضرار في الطبيعة، ويحقّق بعض الفوائد. عمر

النشاط الأول : ما الهدف من وجود المحميات الطبيعية في الدول ؟

.....
.....
.....
عمر

النشاط الثاني : قدم لي إجابات قصيرة عن نقاط البحث التالية ؟

- من الذي يدمر البيئة
- بالمحميات نحافظ على التوازن
- تضع الدولة القانون لمنع الجائر
- من العوامل المساهمة في التأثير على البيئة



عمر

بحتاج التعديل

متواضع

متميز

تقييم

عَمْرٌ

2022





الخامس

الاسم :

أنظر ... تأمل ... فكر ... ثم أجب ؟ . المحميات الطبيعية

السؤال 24

الهدف العام : مفهوم المحميات الطبيعية عمر



1س- حدد المشكلة من خلال قراءة الصورة المقابلة

.....

2- لماذا تعتبرها مشكلة

.....

3- ما هي الحلول

.....

تولى دولة الإمارات اهتماماً كبيراً بحماية التنوع البيولوجي الغني في الدولة وإدارته بشكل سليم. يهدف إنشاء المحميات الطبيعية إلى تحسين البيئة، وحماية الحياة البرية والبحرية في الدولة، والحد من تدهور الموائل الطبيعية، ووقف فقدان التنوع البيولوجي، بالإضافة إلى ترويج السياحة البيئية

عمر

علل الجملة التالية : تولى دولة الإمارات اهتماماً كبيراً بحماية التنوع البيولوجي

.....
.....
.....

عمر

عَمْر



بحتاج التعديل

متواضع

تمتيز

تقييم





الهدف العام : مصادر الطاقة

السؤال الأول : ما هو تعريف الطاقة وما هي أنواعها

.....

السؤال الثاني : علل لجأت دولة الإمارات إلى تنويع مصادر الطاقة

.....

السؤال الثالث : استكمل الخريطة الذهنية التالية ؟

مصادر الطاقة غير المتجددة

المدرسة
 الإماراتية
 202

(التاريخ : / / 2019)

.....

مصادر الطاقة المتجددة

2020/20

الاسم :

.....

علل اختيار موقع بركة ليكون محطة
 للطاقة النووية

.....





الهدف العام : مصادر الطاقة

السؤال الأول : تتمتع دولة الإمارات بمصدر طاقة غني يعوضها عن النفط ما هو وما المشاريع القائمة عليه

.....

.....

.....

السؤال الثالث : لخص في نقاط أهداف مجمع محمد بن راشد للطاقة وشمس ؟1

شمس واحد

مجمع محمد بن راشد

المدرسة
الإماراتية
2020

التاريخ : / / 2020

.....

.....

.....

2020/20

الاسم :

.....

.....

.....

ماذا يقصد بالشاحن الأخضر

.....

.....

.....



الهدف العام : مصادر الطاقة وقود المركبات

السؤال الأول : قارن بين الشاحن الأخضر والوقود الأحفوري والغاز الطبيعي وفق الجدول

الغاز	الشاحن الأخضر	الوقود الأحفوري	أوجه المقارنة
			نسبة التلوث
			الاستمرارية
			التكلفة

السؤال الثاني : علل الحاجة إلى إعادة تدوير النفايات



.....

السؤال الثالث : ما هي النفايات التي يمكن تدويرها ؟

.....



السؤال الرابع : ما هي المرحلة الثالثة في تدوير النفايات ؟

.....



الهدف العام : أسلوب حل المشكلات

السؤال الأول : ساعدي في حل المشكلة التالية

حمدله مصنع على أطراف مدينة الهير لإنتاج الإطارات حيث ينتج في اليوم الواحد 1000 اطار وبعد افتتاح المصنع ب ثلاث شهور بدأت حالات الربو تزداد في المنطقة , وعند الحديث مع موظف في المصنع تبين من كلامه أن شروط الأمن والسلامة في المصنع غير متوفرة بالشكل المطلوب



ما هي المشكلة

ما هي الأسباب

الحلول

عَمَر

2022



الهدف العام : مصادر الطاقة

السؤال الأول : ما هو تعريف الطاقة وما هي أنواعها

.....
.....

السؤال الثاني : علل لجأت دولة الإمارات إلى تنويع مصادر الطاقة

.....
.....

السؤال الثالث : استكمل الخريطة الذهنية التالية ؟

مصادر الطاقة غير المتجددة

مصادر الطاقة المتجددة



الهدف العام : مصادر الطاقة

السؤال الأول : تتمتع دولة الإمارات بمصدر طاقة غني يعوضها عن النفط ما هو وما المشاريع القائمة عليه

.....

.....

.....

السؤال الثالث : لخص في نقاط أهداف مجمع محمد بن راشد للطاقة وشمس
؟1

شمس واحد

مجمع محمد بن راشد

المدرسة
الإماراتية
2020

التاريخ : / / 2020

.....

2020-20

الاسم :

.....



الهدف العام : مصادر الطاقة وقود المركبات

السؤال الأول : قارن بين الشاحن الأخضر والوقود الأحفوري والغاز الطبيعي وفق الجدول

الغاز	الشاحن الأخضر	الوقود الأحفوري	أوجه المقارنة
			نسبة التلوث
			الاستمرارية
			التكلفة

السؤال الثاني : ما هي النفايات التي يمكن تدويرها ؟



السؤال الثالث : ما هي المرحلة الثالثة في تدوير النفايات ؟

.....





الهدف العام : أسلوب حل المشكلات

السؤال الأول : ساعدي في حل المشكلة التالية

عامر بهيان له مصنع على أطراف مدينة الهير لإنتاج الإطارات حيث ينتج في اليوم الواحد 1000 اطار وبعد افتتاح المصنع ب ثلاث شهور بدأت حالات الربو تزداد في المنطقة , وعند الحديث مع موظف في المصنع تبين من كلامه أن شروط الأمن والسلامة في المصنع غير متوفرة بالشكل المطلوب



ما هي المشكلة

المرض أو نقص شروط السلامة

ما هي الأسباب

بناء المصنع أو عدم الالتزام بشروط السلامة

الحلول

عَمَر

الهدف العام : مصادر الطاقة

(1) هي الطاقة المولدة من اليورانيوم

أ	الكهربائية	ب	النفط	ج	الغاز	د	اليورانيوم
---	------------	---	-------	---	-------	---	------------

(2) تتنوع مصادر الطاقة في الإمارات لا سباب كثيرة من أهمها

أ	الحاجة	ب	الفائض	ج	الحد من التلوث	د	مواكبة العصر
---	--------	---	--------	---	----------------	---	--------------

(3) يقع موقع بركة في منطقة

أ	العين	ب	الشارقة	ج	الظفرة	د	عجمان
---	-------	---	---------	---	--------	---	-------

(1) سبب اختيار موقع بركة لمحطة الطاقة النووية

أ	القرب من السكن	ب	منطقة زلازل	ج	البعد عن السكن	د	عدم توافر الماء
---	----------------	---	-------------	---	----------------	---	-----------------

(1) واحدة من التالي ليس من مزايا الطاقة النووية

أ	آمنة	ب	صديقة للبيئة	ج	منتجة	د	ملوثة
---	------	---	--------------	---	-------	---	-------

(1) من محطات الطاقة الشمسية محطة

أ	قمر 1	ب	شمس 1	ج	كوكب 1	د	نجم 1
---	-------	---	-------	---	--------	---	-------

(1) مجمع محمد بن راشد للطاقة

أ	الكهربائية	ب	النفطية	ج	الغازية	د	الشمسية
---	------------	---	---------	---	---------	---	---------


(1) مجمع محمد بن راشد يمثل مدينة

أ	ذكية	ب	مستدامة	ج	نكي ومستدام	د	مثالي
---	------	---	---------	---	-------------	---	-------

3

ماذا تمثل الصور التالية

الهدف العام : وقود المركبات



3

الهدف العام : تدوير النفايات

رتب مراحل تدوير النفايات مستعين بالصور
 تغليف المنتجات الجديدة - جمع النفايات - تشكيل منتجات - فرز النفايات





تنص المادة 14 على مقومات أساسية للاتحاد وهي: المساواة، والعدالة الاجتماعية، وتوفير الأمن والطمأنينة، وتكافؤ الفرص لجميع المواطنين، والتعاقد والتراحم. كما تنص المادة 21 على حماية الدولة للملكيات العامة، والقيود التي ترد عليها، وعدم نزاعها إلا في الأحوال التي تستلزمها المنفعة العامة، وفقاً لأحكام القانون، ومقابل تعويض عادل. كما تنص المادة 24 على إن الاقتصاد الوطني لدولة الإمارات أساسه العدالة الاجتماعية، والتعاون الصادق بين النشاط العام والخاص، وهدفه التنمية الاقتصادية، ورفع مستوى المعيشة والرخاء.

تنص المادة الأولى من الدستور على اتحاد، واستقلالية، وسيادة دولة الإمارات العربية المتحدة التي تتألف من الإمارات التالية: أبوظبي، ودبي، والشارقة، وعجمان، وأم القيوين، والفجيرة، ورأس الخيمة.

تنص المادة 25 من الدستور بأن جميع الأفراد سواء أمام القانون، ولا تمييز بين مواطني الاتحاد بسبب الأصل، أو المواطن، أو العقيدة الدينية، أو المركز الاجتماعي.

1	مادة تنص على استقلالية الدولة هي				
A	25	B	24	C	1

2	جميع الأفراد سواء أمام القانون المادة				
A	25	B	24	C	21

3	الاقتصاد أساسه العدالة المادة				
A	25	B	24	C	1

4	المساواة من مقومات الاتحاد المادة				
A	25	B	24	C	14

قبل تنفيذ التعديل على الدستور لا بد من عرضه على

ينص الجزء العاشر من الدستور بأنه إذا رأى المجلس الأعلى للاتحاد بأن مصالح الاتحاد العليا تتطلب تعديل هذا الدستور، قدم مشروع تعديل دستوري إلى المجلس الوطني للاتحاد.

أكمل العبارة التالية (المرأة) المجتمع

تقييم	تمتيز	متواضع	يجتاج التعديل
-------	-------	--------	---------------



كما تضيف المادة 117 مسؤولية كل إمارة في حفظ الأمن والنظام داخل أراضيها، وتوفير المرافق العامة، ورفع المستوى الاجتماعي والاقتصادي بها.

نص المادة 116 من الدستور على أن تتولى الإمارات الأعضاء جميع السلطات التي لم تفوض للحكومة الاتحادية بموجب هذا الدستور، كما تشارك الإمارات الأعضاء في بناء الاتحاد، وتستفيد من وجوده، وخدماته وحمايته.

تجيز المادة 123 من الدستور للإمارات الأعضاء في الاتحاد عقد اتفاقيات محدودة، ذات طبيعة إدارية ومحلية مع الدول المجاورة، بشرط أن لا تتعارض هذه الاتفاقيات مع مصالح الاتحاد ولا القوانين الاتحادية

ما توجب المادة 124 على السلطات الاتحادية المختصة، استطلاع رأي الإمارة مسبقاً قبل إبرام أية معاهدة أو اتفاقية دولية، وعند الخلاف يُعرض الأمر على المحكمة الاتحادية العليا للبت فيه.

1	مادة تنص على استفادة الدول الأعضاء من الاتحاد				
A	124	B	116	C	117

2	مسؤولية كل إمارة على حفظ الامن المادة				
A	124	B	117	C	123

3	تجيز عقد اتفاقات محمودة المادة				
A	123	B	124	C	116

4	استطلاع رأي الإمارة عند المعاهدات المادة				
A	124	B	116	C	123

وضع الدستور المؤقت عام....
والدائم عام والدستور
هو

قامت دولة الامارات العربية المتحدة منذ نشأتها في 2
ديسمبر 1971 بوضع دستور مؤقت لها، تحول إلى
دستور دائم في عام 1996. يمثل الدستور الإماراتي وثيقة
وطنية

دولة - دستور - دون - غير - متماسكة

التعميم

تقييم	تمتيز	متواضع	يجتاج التعديل
-------	-------	--------	---------------



أنظر ... تأمل الصور ... فكر ... ثم صل؟ الدعامات الاجتماعية للدستور

السؤال 38



الدستور



الأمن الاجتماعي

الأمن البيئي



الأمن الاقتصادي



الأمن الداخلي



الأمن العسكري



الأمن السياسي



العدل



لغة الدولة



دين الدولة



بحتاج التعديل

متواضع

تمتيز

تقديم

عَمَرَ

2022





أنظر ... تأمل ... فكر ... ثم أجب ؟ الحقوق والواجبات التعلم عن بعد

السؤال 39

هي كلّ ما يجب أن يعطى للفرد ولجميع الناس على وجه هذه البسيطة، من أمور ضرورية للعيش الكريم، ولا يجوز لأيّ أحد أن ينتقصها أو يلغيا من حياة شخص آخر، كما تمّ إدراج هذه الحقوق ضمن الدساتير والمواثيق الرسمية للهيئات الدولية المختلفة

1	هذا التعريف السابق يشير إلى مفهوم				
A	الحقوق	B	الواجبات	C	الدستور

الواجب باختصار: هو ما يتحتم ويفرض على الفرد القيام به، فهو التزام لطرفٍ آخر، من الممكن أن يجمع بينكما علاقة واضحة، أو أنت جزءٌ من هذا الطرف، وفي الغالب ما يؤدي هذا الواجب دون أي اعتبارات شخصية، أو مصالح خاصة ذاتية، والالتزام بالواجب يعطيك حق التمتع بحقوقك، ويضبط الوفاء بالواجب عدة ضوابط مثل: الإخلاص في تأدية الواجب، وتتمّة الواجب على أكمل وجه، وإدراك أهمية تأدية الواجب، والمنافع التي تعود على الفرد والمجتمع على حدٍ سواء، وخلاصة الحديث أن الواجب سلوكٌ يلتزم به الفرد، محققاً أساليب اللياقة واللباقة والأخلاق

2	هذا التعريف السابق يشير إلى مفهوم				
A	الحقوق	B	الواجبات	C	الدستور

3	ما هي أهم الحقوق التي يجب أن تحصل عليها				

4	استخلص من النص الثاني أهم الواجبات التي نص عليها الدستور				

الاسم : الخامس

تقييم	متميز	متواضع	بحاجة التعديل
-------	-------	--------	---------------





أنظر ... تأمل ... فكر ... ثم أجب ؟ الحقوق والواجبات التعلم عن بعد

السؤال 40

الواجب الفقهي: فالواجب في الفقه هو الفرض، وهو مقترنٌ في الدين بالضرورة، وجاء فيه دليلٌ قطعيٌّ من القرآن والسنة، يوجبه ولا نقاش في وجوبه، فالإيمان به يكون علماً وعملاً..

الواجب الأسري: وهو أهم الواجبات التي يجب أن يلتزم بها الأفراد حيال أسرهم، فإذا التزم الفرد بواجبات أسرته من الطبيعي أن يلتزم بالواجبات الأخرى اتجاه عمله، أو أصدقائه، أو البيئة المحيطة به.

الواجب الوطني: أو ما يعرف بالواجب المدني، وهو ما يلتزم به الفرد اتجاه وطنه وبلاده، فمن الواجب الدفاع عن البلاد من الأعداء، ومن الواجب المساعدة في حال الكوارث أو الحوادث، وإبلاغ الجهات المختصة، ومن الواجب اتجاه أبناء الوطن من المرضى التبرع لهم بالدم على سبيل المثال، أو المساهمة في بناء مراكز صحية

1	العبادة والصلاة من الواجبات				
A	الاسرية	B	الوطنية	C	الأسرية

2	صيانة الدستور والتزام القانون من الواجبات				
A	الاسرية	B	الوطنية	C	الأسرية

3	أذكر بعض الواجبات المترتبة عليك نحو الأسرة				

4	من السؤول عن توفير الخدمات العلاجية في الدولة				

الخامس

الاسم :

تقييم

تمتيز

متواضع

بحاج التعديل

عَمَرَ

at2 lah

2022



أنظر ... تأمل ... فكر ... ثم أجب ؟ الحقوق والواجبات التعلم عن بعد

السؤال 41

آلية توفير الحقوق

يكفلها



توفرها



الخامس

الاسم :

عَمْرٌ

at lah

2022

بحاج التعديل

متواضع

تمتيز

تقييم

