

سؤال 1:

مستوى الصعوبة: غير محدد

إذا كان المتوسط الحسابي لخمسة أعداد هو 8 ، إذا علمت ان اربعة من هذه الاعداد الخمسة هي

10 ، 9 ، 9 ، 7

فإن العدد الخامس هو

5

6

7

8

سؤال 2:

مستوى الصعوبة: غير محدد

..... هو العدد الذي يأتي وسط البيانات بعد ترتيبها .

الوسيط

المنوال

المتوسط الحسابي

سؤال 3:

مستوى الصعوبة: غير محدد

قال جاسم ان المنوال لمجموعة الاعداد 8 , 7 , 6 , 9 , 7 , 8 , 7 هما العددان 7 و 8
فهل هو على صواب ؟

نعم

لا

سؤال 4:

مستوى الصعوبة: غير متساوية

الوسيط للاعداد

17, 15, 10, 21, 34, 12

21

15.5

16

سؤال 5:

مستوى الصعوبة: غير متساوية

الوسيط للاعداد التالية هو

11, 7, 9, 5, 8, 6, 5

7

5

9

سؤال 6:

مستوى الصعوبة: غير محدد
العدد الاكثر تكراراً في مجموعة البيانات يسمى

الوسيط

المنوال

المتوسط الحسابي

سؤال 7:

مستوى الصعوبة: غير محدد
المتوسط الحسابي للاعداد
8 , 12 , 8 , 6 , 1 يساوي

8

1

7

سؤال 8:

مستوى الصعوبة: غير محدد

المنوال للاعداد التالية هو

3 , 4 , 7 , 9 , 4 , 13

13

4

11

سؤال 9:

مستوى الصعوبة: غير محدد



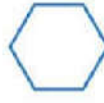

..... هو مجموع البيانات مقسوماً على عددها .

الوسيط

المنوال

المتوسط الحسابي

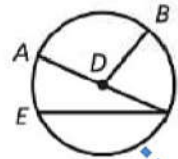
اي مما يلي يمثل ثماني منتظم

- 
- 
- 
- 

سؤال 11:

مستوى الصعوبة: غير محدد

أي مما يلي ليس نصف قطر للدائرة؟



- Ⓐ \overline{DB}
- Ⓑ \overline{CE}
- Ⓒ \overline{AD}
- Ⓓ \overline{CD}

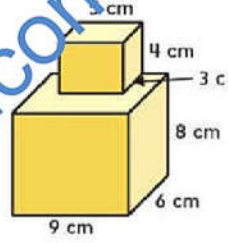
- A
- B
- C
- D

سؤال 12:

مستوى الصعوبة: غير محدد

ما الحجم الإجمالي للشكل المركب؟

- 492 cm³ (C) 287 cm³ (A)
502 cm³ (D) 432 cm³ (B)



- A
B
C
D

سؤال 13:

مستوى الصعوبة: غير محدد

استخدم مخطط الساق والاوراق لإيجاد القيمة المتطرفة؟

البيانات المسجلة	
الساق	الاوراق
5	2 3 5 6 9
6	3 5 5 5 7 8 8
7	1 3 4 4
10	2

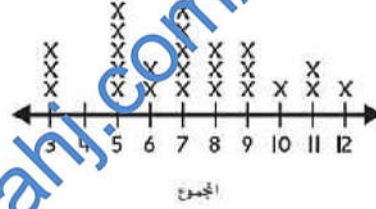
- 2
52
102
10

سؤال 14:

مستوى الصعوبة: غير محدد

استخدم نقاط المجموعة المجاورة لإيجاد المنوال؟

مجموع عدد المكعبات



5

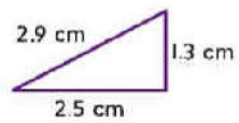
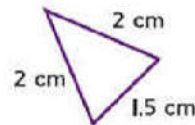
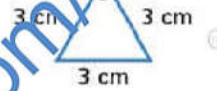
7

7 و 5

سؤال 15:

مستوى الصعوبة: غير محدد

أي من المثلثات هو مثلث مختلف الاضلاع



سؤال 16:

مستوى الصعوبة: غير محدد

استخدم مخطط الساق والاوراق لايجاد المنوال ؟

السيارات البيعة

الساق	الورقة
0	2 3 5 7
1	0 2 4 7
2	0 1 1 1 4 5 7 7
3	1 2 3 5
4	5

1

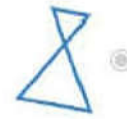
21

22

سؤال 17:

مستوى الصعوبة: غير محدد

اي الاشكال التالية لا يمثل مضلع



سؤال 18:

مستوى الصعوبة: غير محدد

المتوسط الحسابي لعدد أجهزة التلفاز في منزل: 3، مجموعة البيانات: 1, 2, 4, 4, 2, 0, ■

8

10

12

سؤال 19:

مستوى الصعوبة: غير محدد

استخدم مخطط الساق والورقة لإيجاد اصغر قيمة؟

السيارات المباعة

الساق	الورقة
0	2 3 5 7
1	0 2 4 7
2	0 1 1 1 4 5 7 7
3	1 2 3 5
4	5

0

2

20

سؤال 20:

مستوى الصعوبة: غير محدد

أي من الأشكال التالية عبارة عن مثلث متساوي الساقين؟



A

B

C

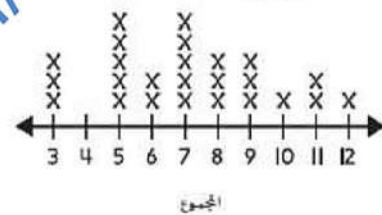
D

سؤال 21:

مستوى الصعوبة: غير محدد

استخدم مخطط النقاط المجهدة المجاور لإيجاد المدى؟

مجموع عدد المكعبات



7

8

9

سؤال 22:

مستوى الصعوبة: غير محدد

دائرة نصف قطرها 7 سنتيمترات. أوجد قطرها.

14

7

3.5

سؤال 23:

مستوى الصعوبة: غير محدد

استخدم مخطط الساق والأوراق لإيجاد المدى؟

السيارات المباعة

الساق	الورقة
0	2 3 5 7
1	0 2 4 7
2	0 1 1 1 4 5 7 7
3	1 2 3 5
4	5

45

25

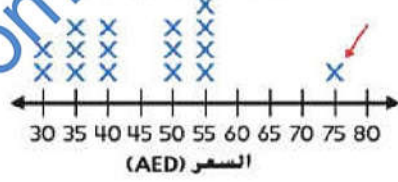
43

سؤال 24:

مستوى الصعوبة: غير محدد

استخدم مخطط النقاط للجدولة المجاور لإيجاد الوسيط؟

أسعار قبعات راعي البقر



40

45

50

سؤال 25:

مستوى الصعوبة: غير محدد

قضت لمياء 20 دقيقة في أداء واجبها المنزلي يوم الأحد و20 دقيقة يوم الاثنين و40 دقيقة يوم الثلاثاء و30 دقيقة يوم الأربعاء و0 دقيقة يوم الخميس. احسب المتوسط الحسابي للدقائق التي قضتها في أداء واجبها المنزلي؟

22

27.5

18

سؤال 26:

مستوى الصعوبة: غير محدد

أي من الأشكال التالية عبارة عن مضلع؟



A

B

C

D

سؤال 27:

مستوى الصعوبة: غير محدد

دائرة قطرها 10 أمتار. أوجد نصيب القطر.

20 متر

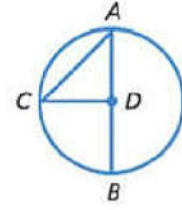
5 أمتار

10 أمتار

سؤال 28:

مستوى الصعوبة: غير محدد

يُمثل \overline{CA}



وتر

قطر

نصف قطر

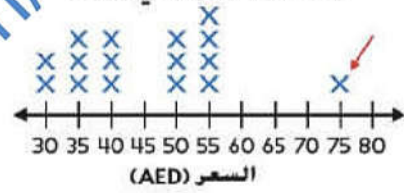
almanahj.com/ae

سؤال 29:

مستوى الصعوبة: غير محدد

استخدم مخطط النقاط المجهدة المجاور لايجاد القيمة المتطرفة ؟

أسعار قبعات راعي البقر



80

75

45

almanahj.com/ae

سؤال 30:

مستوى الصعوبة: غير محدد

مضلع رباعي فيه زوج واحد فقط من الاضلاع المتوازية هو

متوازي اضلاع

مستطيل

شبه منحرف

معين

سؤال 31:

مستوى الصعوبة: غير محدد

استخدم مخطط الساق والورقة لاجاد اكبر قيمة ؟

السيارات المبيعة





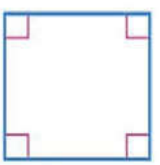
الساق	الورقة
0	2 3 5 7
1	0 2 4 7
2	0 1 1 1 4 5 7 7
3	1 2 3 5
4	5

7

45

72

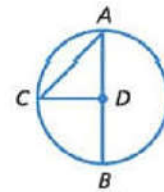
اي مما يلي يمثل شبه منحرف

- almanahj.com/ae
- 
 - 
 - 
 - 
 - 

سؤال 33:

مستوى الصعوبة: غير محدد

مركز الدائرة



- almanahj.com/ae
- A
 - B
 - C
 - D