

تم تحميل هذا الملف من موقع المناهج الإماراتية



*للحصول على أوراق عمل لجميع الصفوف وجميع المواد اضغط هنا

<https://almanahj.com/ae>

* للحصول على أوراق عمل لجميع مواد الصف الخامس اضغط هنا

<https://almanahj.com/ae/5>

* للحصول على جميع أوراق الصف الخامس في مادة رياضيات وجميع الفصول, اضغط هنا

<https://almanahj.com/ae/5math>

* للحصول على أوراق عمل لجميع مواد الصف الخامس في مادة رياضيات الخاصة بـ الفصل الثالث اضغط هنا

<https://almanahj.com/ae/5math3>

* لتحميل كتب جميع المواد في جميع الفصول للـ الصف الخامس اضغط هنا

<https://almanahj.com/ae/grade5>

للتحدث إلى بوت المناهج على تلغرام: اضغط هنا

https://t.me/almanahj_bot

السلام عليكم ورحمة الله وبركاته



اليوم الاحد : 2020 / 6 / 21

محطتنا
لهذا اليوم



ملاحظات على اختبار الرياضيات المركزي



UNITED ARAB EMIRATES
MINISTRY OF EDUCATION

Sign in with your organizational account

Sign in

If you forgot your password please click [here](#)

If you want to change your password please click [here](#)



Swift

لا تقلقوا ! يا
أبطال أنتم
مجتهدون
وبجتهادكم
تتجزون



أوجد المتوسط الحسابي لمجموعة البيانات التالية،
التي تمثل عدد الأشواط التي تم ركضها:
8, 6, 4, 4, 5, 9



7

6

5

4

تمثل مجموعة البيانات التالية عدد أجهزة التلفاز في منزل. أوجد العدد المجهول إذا كان المتوسط الحسابي هو 3:

1, 2, 4, 4, 2, 0, ■



2

4

5

8

أوجد الوسيط لمجموعة البيانات التالية، التي تمثل
عدد النقاط التي أحرزها فريق كرة سلة:
55, 67, 98, 85, 55



98

86

67

55

أوجد المنوال لمجموعة البيانات التالية، التي تمثل
مسافة المشي بالكيلومترات:
2, 1, 3, 2, 4, 1, 1



1

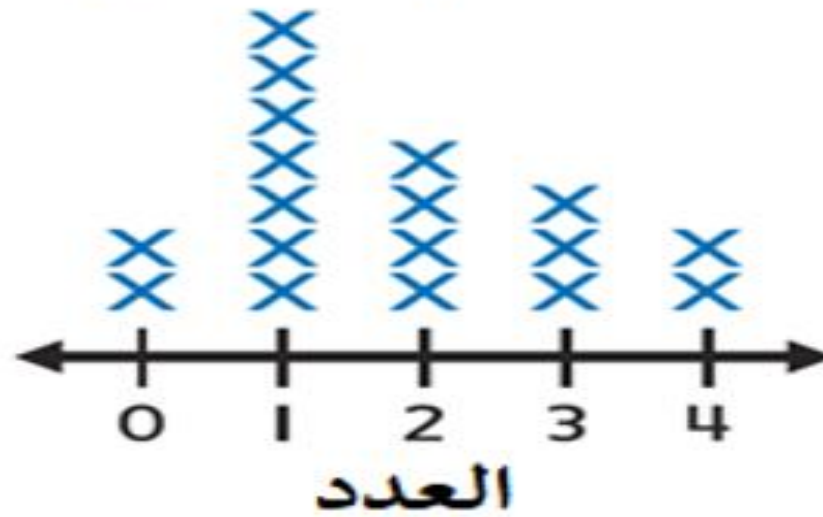
2

3

4

يوضح التمثيل البياني بالنقاط المجمعة أدناه أنشطة
ما بعد المدرسة. أوجد مدى البيانات.

أنشطة ما بعد المدرسة



1

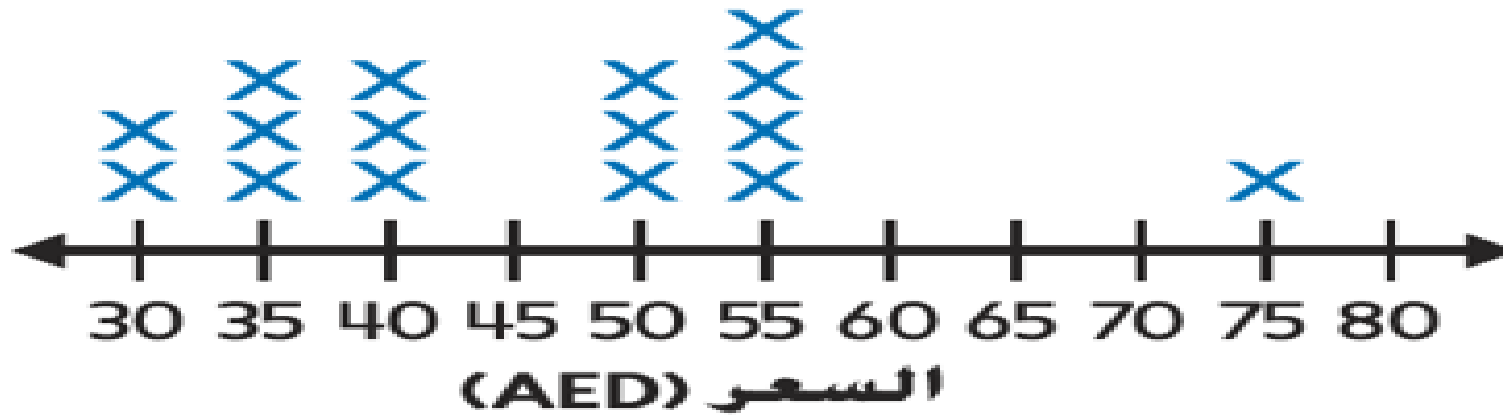
2

3

4

يوضح التمثيل البياني بالنقاط المجموعة أدناه أسعار القبعات. أوجد القيمة المتطرفة في البيانات.

أسعار القبعات



30

55

75

80



في مخطط الساق والأوراق أدناه،
كم عمر أصغر لاعب؟

أعمار اللاعبين في الفرق المختلفة

الساق	الورقة
2	1 2 3 3 4 4 5 6 7 7 8 9
3	0 1 2 3 4 5 6 7 8 9
4	0 1

عام 2 | 3 = 23





12

21

30

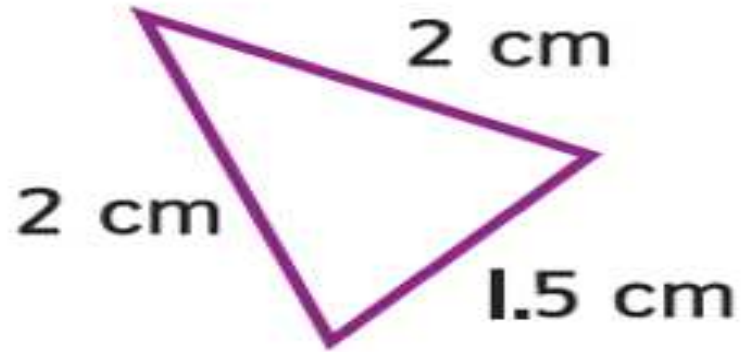
41



أي من الأشكال التالية عبارة عن مضلع؟

triangle

كم عدد الأضلاع المتطابقة في المثلث أدناه؟



0

1

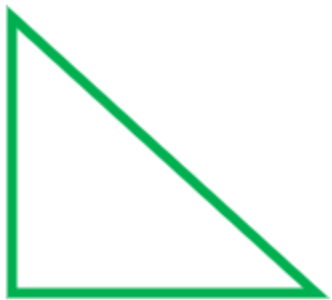
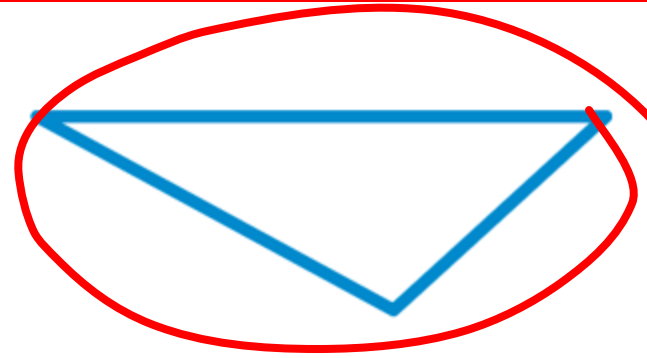
2

3



أي من الأشكال التالية عبارة عن مثلث منفرج؟

10



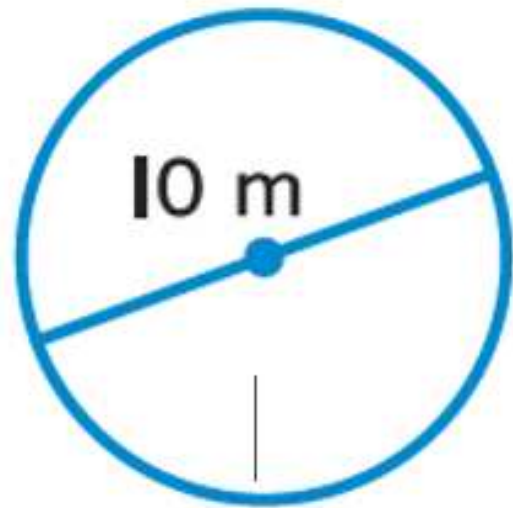
$$r = 2 \text{ m}$$

$$r = 5 \text{ m}$$

$$r = 10 \text{ m}$$

$$r = 20 \text{ m}$$

below is

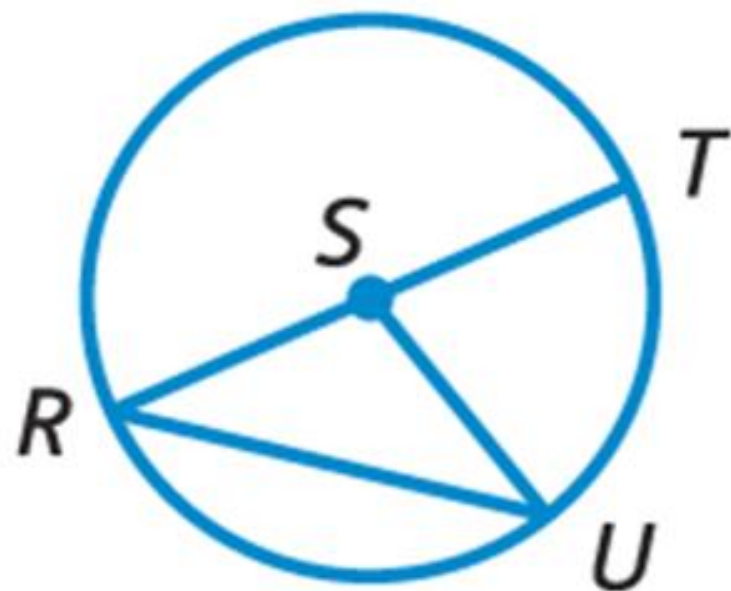


الدائرة أديانها قطرها 10 m .
أوجد نصف القطر r .

11

of the circle

حدّد المركز في الدائرة المبيّنة أدناه.



R

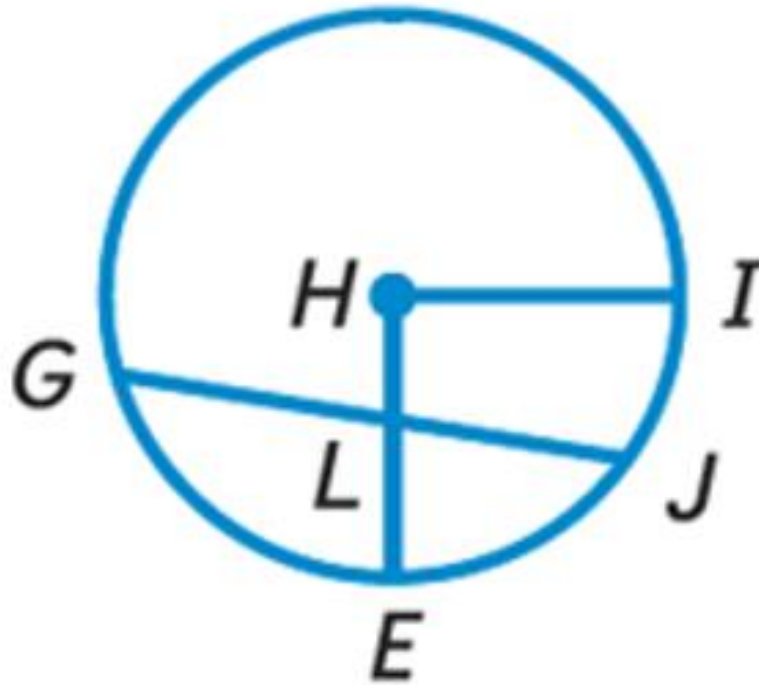
S

T

U

the circle shown

حدّد الوتر في الدائرة المبينة أدناه.



HI

HE

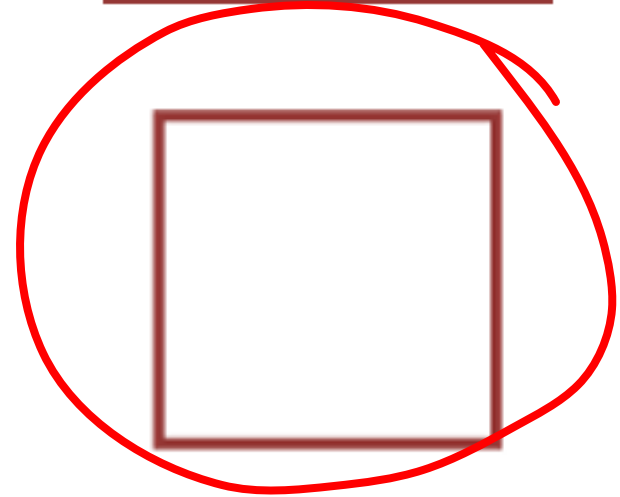

GL

GJ

13

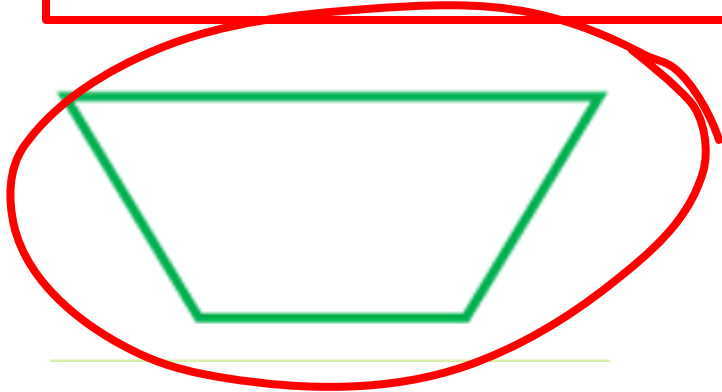
حدّد رباعي الأضلاع الذي له كل سمات المعين.

14



حدّد رباعي الأضلاع الذي له زوج واحد فقط من الأضلاع المتقابلة المتوازية.

15



تمنياتي لكن جميعاً بالتوفيق
والنجاح والتفوق

