

شكراً لتحميلك هذا الملف من موقع المناهج الإماراتية



أسئلة الامتحان النهائي بريدج

[موقع المناهج](#) ← [المناهج الإماراتية](#) ← [الصف الخامس](#) ← [علوم](#) ← [الفصل الأول](#) ← [الملف](#)

التواصل الاجتماعي بحسب الصف الخامس



روابط مواد الصف الخامس على تلغرام

[الرياضيات](#)

[اللغة الانجليزية](#)

[اللغة العربية](#)

[التربية الاسلامية](#)

المزيد من الملفات بحسب الصف الخامس والمادة علوم في الفصل الأول

أوراق عمل درس المخاليط والمحاليل and Mixtures Solutions	1
أوراق عمل درس الطريقة العلمية من الوحدة الأولى	2
أوراق عمل Identify 1 Quiz materials of properties	3
ملخص الدرس الأول materials of properties Identify	4
أوراق عمل درس خصائص المادة Matter properties متبوعة بالإجابات	5



The figure below shows Parts of a Leaf. Study it and then answer the question: Which of the following numbers refers to the **vein**?

الشكل أدناه يبين أجزاء الورقة. أدرسه ثم أجب عن السؤال: أي رقم معا يلف يشير إلى العرق؟



alManahj.com/ae

.a 4

.b 2

.c 1

.d 3





The figure below shows a group of different animals.

الشكل أدناه يبين مجموعة حيوانات مختلفة.

Which letter of the following refers to a mammalian organism that reproduces by eggs?

أي حرف مما يلي يشير إلى كائن حي ثديي يتكاثر بالبيض؟



Frog الضفدع

(A)



Crocodile التمساح

(B)



Monotremes منقار البطة

(C)



Hawk الصقر

(D)



B .a



D .b



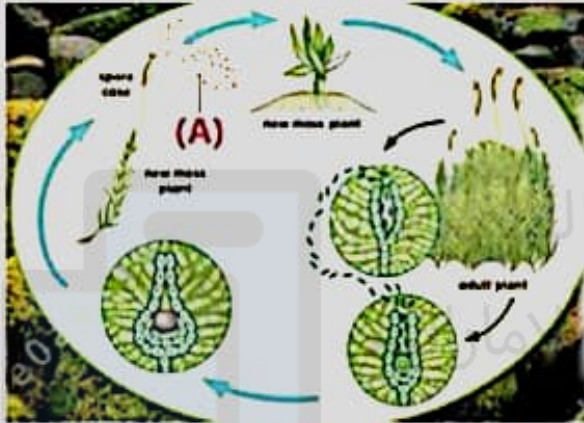
C .c



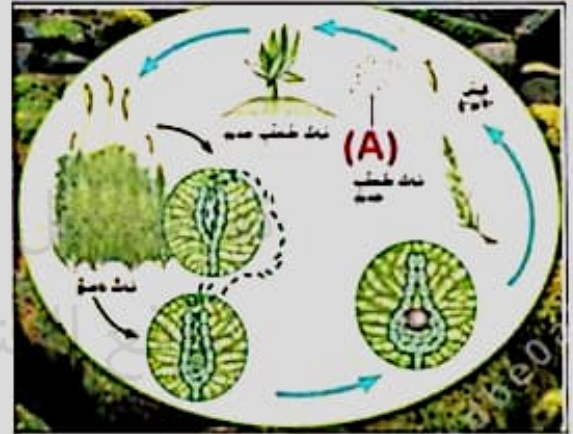
A .d



Based on the figure below that indicates the life cycle of a moss, what does the letter (A) represent?



استناداً إلى الشكل أدناه الذي يشير إلى دورة حياة حزاز،
علام يدل الحرف (A) ؟



- Sperm
- Fertilized egg
- Spores
- Egg

- a. السباحات النكوية
- b. البويضة المخصبة
- c. الأبواغ
- d. البعوضة

Next Question

i

Based on the table below answer the question:

Which letter of the following refers to an organism that reproduces by Splitting?

The letter	Organism
A	Coral
B	Bacteria
C	Hydra
D	Sponges

استناداً إلى الجدول أدناه أجب عن السؤال:

أي حرف مما يلي يشير إلى كائن حي يتكاثر بالانقسام؟

الحرف	الكائن الحي
A	المرجان
B	البكتيريا
C	الهيدرا
D	الإسفنج

A .a

C .b

D .c

alManahj.com/ae





Based on the figure below which indicates the types of flowers in plants. which letter of the following denotes the perfect/incomplete flower?

استناداً إلى الشكل الوارد أدناه الذي يشير إلى أنواع الزهور في النباتات. أي حرف مما يلي يدل على الزهرة المثالية/ غير المكتملة؟



(A)



(B)



(C)



(D)



alManahj.com/ae

A .a



D .b



B .c



C .d



Next Question

***** BONUS *****

Animals add nitrogen into the ecosystem when they.....

تضيف الحيوانات نيتروجين إلى النظام البيئي عندما.....

Breathe

a. تتنفس

Eat plants

b. تأكل النباتات

Excrete waste

c. تتخلص من الفضلات

Burn sugars

d. تحرق السكريات

تم تحميل هذا الملف من
موقع المناهج الإماراتية

alManahj.com/ae

Hamad is conducting a scientific investigation using the tool below. Which metric system unit will Hamad most likely use to record his data?

يُنقِّدُ حمَدُ تَحْقِيقًا عِلْمِيًّا بِاسْتِخْدَامِ الأَدَاةِ أَسْفَلَ. فَبأيِ وَحْدَةٍ فِي النُّظْمِ المِثْرِيِّ يُخْتَمَلُ أَنْ يُسَجِّلَ حمَدُ نِيَاتَاتِهِ؟



Newtons (N)

.a. نيوتن

Cubic centimeters

.b. سنتيمتر مكعب

Pounds

.c. الأَرْطَال

Grams

.d. جَرَامَات

***** BONUS *****

A sperm cell and an egg cell join into a single new unit during.....

تتحد خلية حيوان منوي مع خلية بويضة في وحدة واحدة جديدة في أثناء.....

- The pollination
- The asexual reproduction
- The vegetative propagation
- The fertilization

- a. الطقح
- b. النكاث لا جنسي
- c. النكاث خضري
- d. الإخصاب

السؤال التالي

Use the figure below to answer the question.

Which of the following images indicates a **Mutualism**?

استخدم الشكل لاجابة سؤالك عن السؤال:

أي شكل مما يلي يشير إلى علاقة تبادلية منفعة؟



سمكة العنبر
Lamprey
(A)



شنة الجندي البريطاني
British soldier lichen
(B)



حشرة القراد
tick
(C)



دودة شريطية
tapeworm
(D)

D .a

A .b

C .c

B .d

alManahj.com/ae

What is the purpose of the yolk in a bird's egg?

ما أهمية الصفار في بيض الطيور؟

It contains food for the embryo

a. يحتوي على الطعام للجنين

It keeps the embryo safe from other animals

b. يحافظ على الجنين آمناً من الحيوانات الأخرى

It protects the embryo from drying out

c. يحمي الجنين من الجفاف

It keeps the embryo warm

d. يحافظ على دفء الجنين

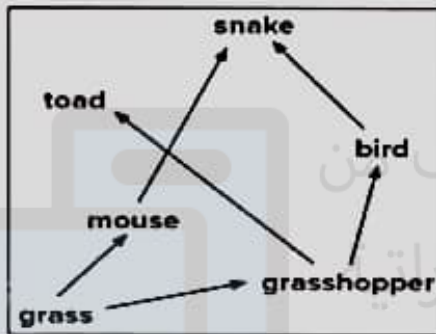
تم تحميل هذا الملف من
موقع المناهج الاماراتية

alManahi.com/ae



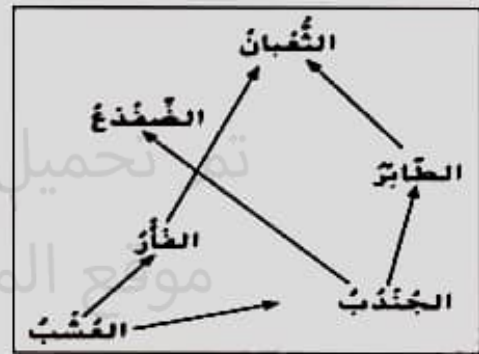
Based on the information in the food web below.

Which of the following is an herbivore?



بناءً على المعلومات الموجودة في الشبكة الغذائية أدناه.

أي الحيوانات الآتية حيوانك عاشبة؟



Mouse and grasshopper

Bird and mouse

Toad and snake

Snake and grasshopper

a. الفأر والجندب

b. الطائر والفأر

c. الضفدع والثعبان

d. الثعبان والجندب



السؤال التالي



Based on the figure below that indicates a food chain on land.
 When converting a food chain into an energy pyramid,
 Which of the following organisms locates at the base of the pyramid?

استناداً إلى الشكل أدناه الذي يشير إلى سلسلة غذائية في
 اليابسة. عند تحويل السلسلة الغذائية إلى هرم للطاقة،
 أي كائن حي مما يلي يوجد في قاعدة الهرم؟



-
-
-
-

alManahj.com/ae

5 .a

1 .b

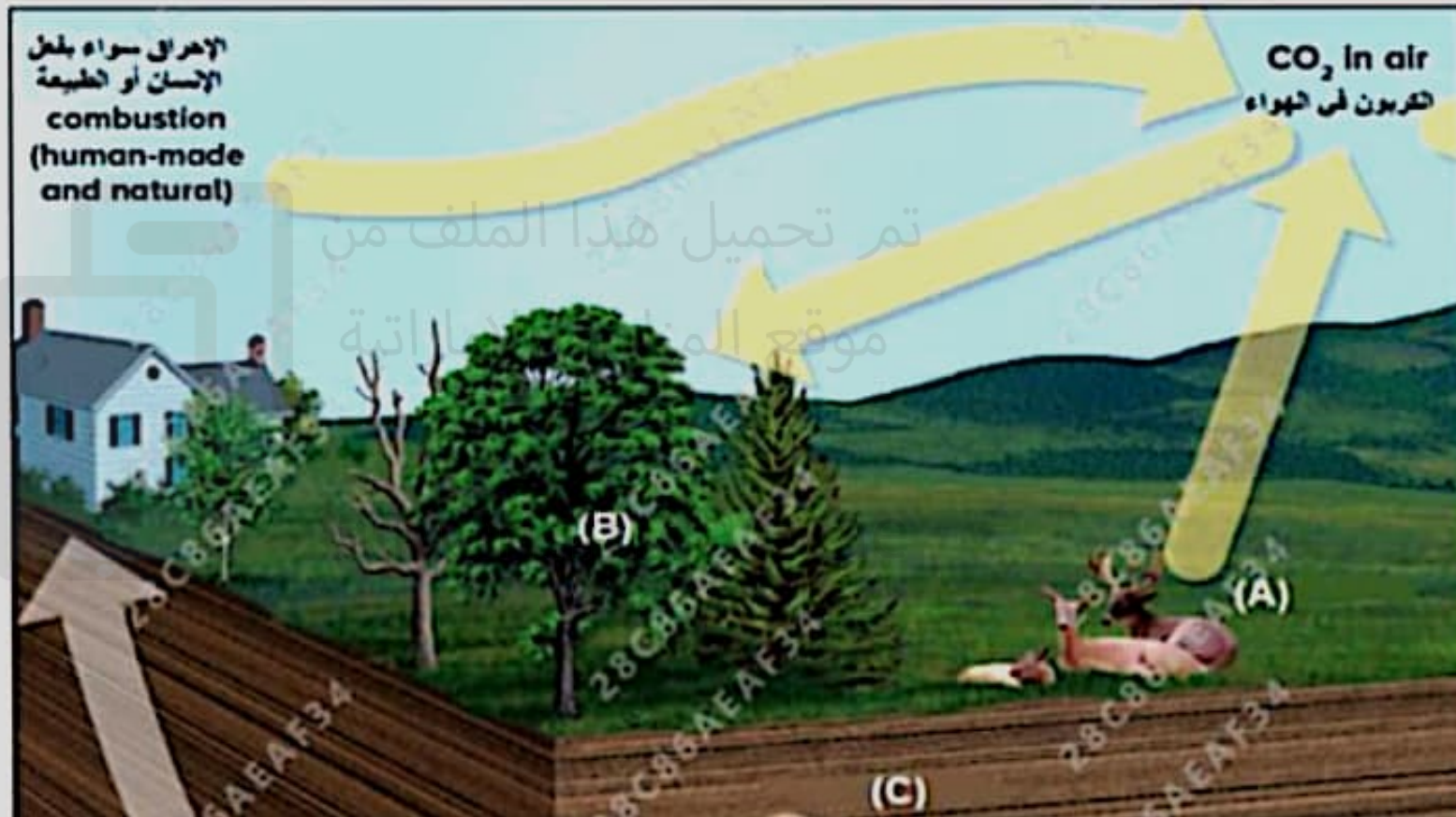
4 .c

2 .d



The figure below illustrates the carbon cycle, study it and then answer the question: Which letter of the following letters indicates the decomposition process?

الشكل أدناه يشير إلى دورة الكربون، أدرسه ثم أجب عن السؤال: أي حرف مما يلي يشير إلى عملية التحلل؟



Next Question

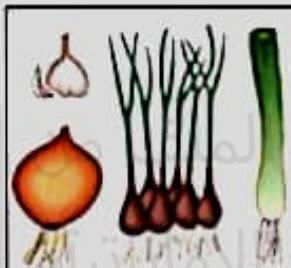
i

The figure below shows the methods of vegetative propagation in plants. Which letter of the following refers to vegetative propagation by **runners**?

الشكل الوارد أدناه يوضح طرق التكاثر الخضري في النباتات. أي حرف من التالي يشير إلى التكاثر من خلال إنتاج السيقان الجديدة؟



(A)



(B)



(C)



(D)

C .a

D .b

A .c

B .d

alManahj.com/ae

🗑️

The figure below shows the different branches of science.
which letter of the following indicates the branch of science
that might study how diseases spread in a population?

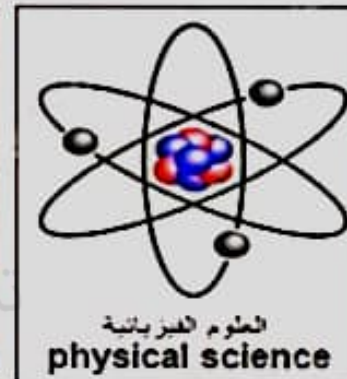
يوضح الشكل الوارد أدناه فروع العلم المختلفة.
أي حرف مما يلي يشير إلى فرع العلم الذي قد يدرس
الطريقة التي تنتشر بها الأمراض في جماعة أحيائية معينة؟



(A)



(B)



(C)



(D)

C .a

B .b

D .c



Based on the figure below, which refers to the complete metamorphosis (butterfly) and the incomplete metamorphosis (grasshoppers).

What do the numbers 2,3 indicate in this figure?



استناداً إلى الشكل الوارد أدناه الذي يشير إلى التحول الكامل (الفراشة) والتحول غير الكامل (الجرادة).
علام تدل الأرقام 2,3 في هذا الشكل؟



(2) Nymph . (3) Larva

a. (2) الحورية ، (3) اليرقة

(2) Pupa . (3) Nymph

b. (2) الشرنقة ، (3) الحورية

(2) Pupa . (3) Larva

c. (2) اليرقة ، (3) اليرقة

(2) Larva . (3) Pupa

d. (2) يرقة ، (3) الشرنقة



The figure below illustrates the water cycle, study it and then answer the question: Which letter of the following indicates the **condensation** process?

تشكل الماء ينمو في دورة الماء. أدرسه ثم أجب عن السؤال: أي حرف من الحروف التالية يوضح عملية التكثف؟

