

شكراً لتحميلك هذا الملف من موقع المناهج الإماراتية



اختبار في الوحدة الحادية عشرة تحليل البيانات

[موقع المناهج](#) ← [المناهج الإماراتية](#) ← [الصف الخامس](#) ← [رياضيات](#) ← [الفصل الثالث](#) ← [الملف](#)

التواصل الاجتماعي بحسب الصف الخامس



روابط مواد الصف الخامس على تلغرام

[الرياضيات](#)

[اللغة الانجليزية](#)

[اللغة العربية](#)

[التربية الاسلامية](#)

المزيد من الملفات بحسب الصف الخامس والمادة رياضيات في الفصل الثالث

[أسئلة الامتحان النهائي الالكتروني بريدج](#)

1

[أسئلة الامتحان النهائي الورقي بريدج](#)

2

[حل أسئلة الامتحان النهائي بخط اليد](#)

3

[شرح حل أسئلة وفق الهيكل الوزاري ريفيل](#)

4

[حل نموذج تدريبي للاختبار النهائي](#)

5

السؤال الأول: أي جدول يمثل البيانات المعطاة؟

أنواع الحيوانات			
الكلاب	القطط	الكلاب	السلحفاة
الكلاب	القطط	الكلاب	السلحفاة
	السلحفاة	الكلاب	السلحفاة
	القطط	الكلاب	

A)

الحيوانات	علامات الإحصاء	التكرار
القطط		3
الكلاب		6
السلحفاة		4

B)

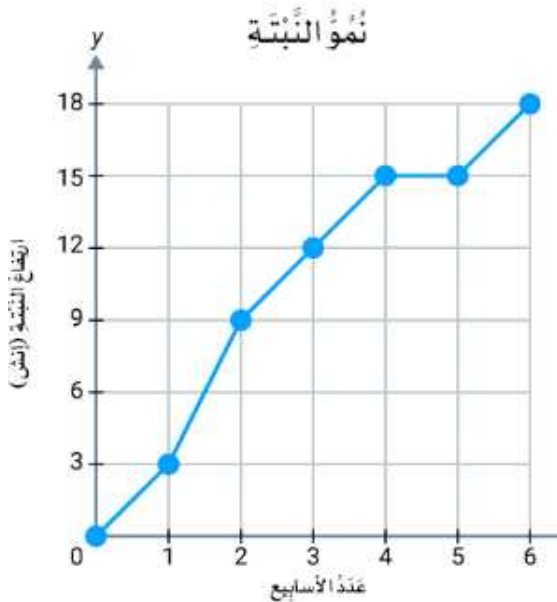
الحيوانات	علامات الإحصاء	التكرار
القطط		2
الكلاب		5
السلحفاة		4

C)

الحيوانات	علامات الإحصاء	التكرار
القطط		2
الكلاب		5
السلحفاة		3

D)

الحيوانات	علامات الإحصاء	التكرار
القطط		3
الكلاب		5
السلحفاة		4

السؤال الثاني: كم يبلغ طول النبتة في الأسبوع الخامس؟

A) 12 inch

B) 9 inch

C) 15 inch

D) 18 inch

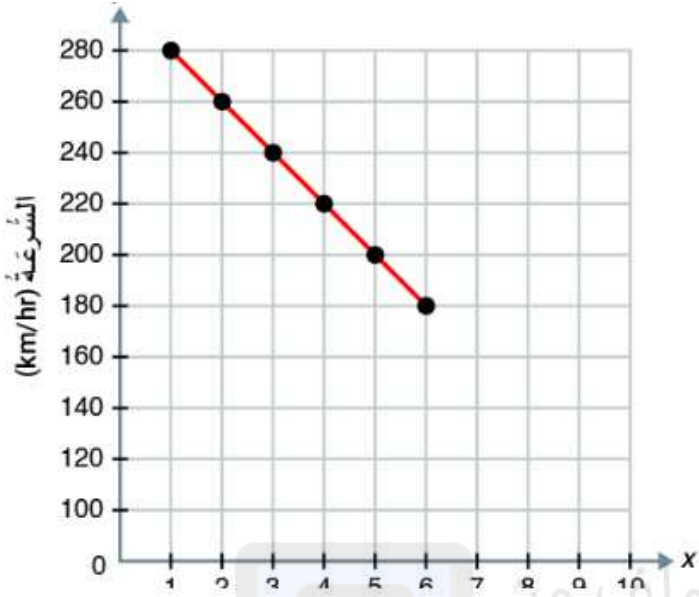
السؤال الثالث: توقعي ارتفاع النبتة في الأسبوع السابع

A) 18 inch

B) 15 inch

C) 21 inch

D) 30 inch



السؤال الرابع: يوضح الرسم البياني الخطي:

- A) زيادة المبيعات
- B) انخفاض المبيعات
- C) لا يوجد اتجاه

تم تحميل هذا الملف من

موقع المناهج الإماراتية

السؤال الخامس: من الجدول التالي، أوجد:



alManahj.com/ae

(5) المتوسط الحسابي:

عدد عبوات الشورية									
10	5	4	6	8	8	10	10	3	6

(6) المنوال:

(7) الوسيط:

(9) المدى:

(8) القيمة المتطرفة:

(10) كم عدد البيانات؟

الاسم:

الشعبة: 5 /

الدرجة

20

السؤال الأول: أي جدول يمثل البيانات المعطاة؟

أنواع الحشرات			
الفراش	الفراش	النحل	
النمل	النحل	النمل	النحل
النحل	النمل	النمل	النحل



A)

الحشرات	علامات الإحصاء	التكرار
الفراش		2
النحل		4
النمل		4

B)

الحشرات	علامات الإحصاء	التكرار
الفراش		2
النحل		5
النمل		4

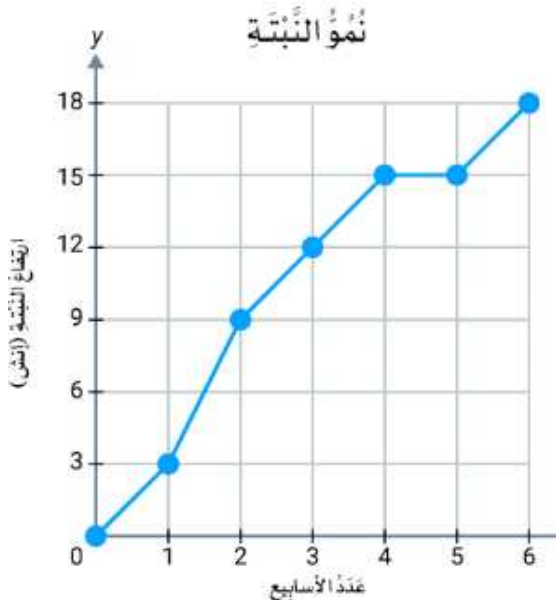
C)

الحشرات	علامات الإحصاء	التكرار
الفراش		2
النحل		5
النمل		2

D)

الحشرات	علامات الإحصاء	التكرار
الفراش		1
النحل		5
النمل		1

السؤال الثاني: كم يبلغ طول النبتة في الأسبوع الخامس؟



A) 12 inch

B) 9 inch

C) 15 inch

D) 18 inch

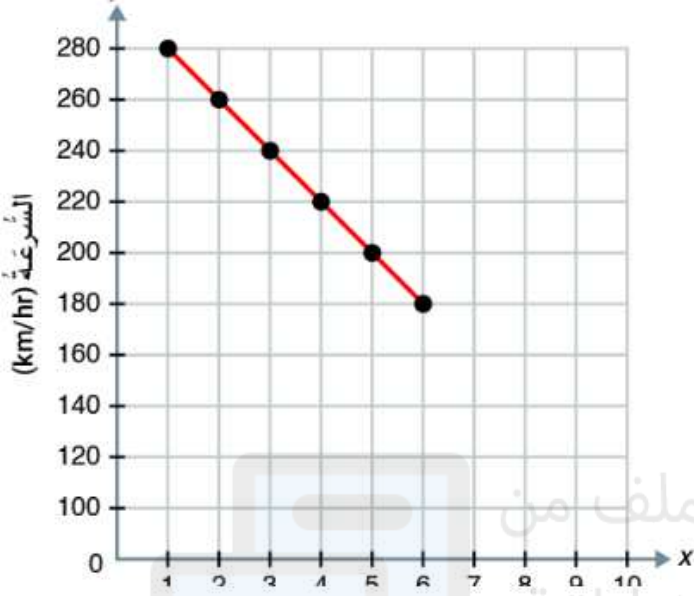
السؤال الثالث: توقعي ارتفاع النبتة في الأسبوع السابع

A) 18 inch

B) 15 inch

C) 21 inch

D) 30 inch



السؤال الرابع: يوضح الرسم البياني الخطي:

- A) زيادة المبيعات
B) انخفاض المبيعات
C) لا يوجد اتجاه

تم تحميل هذا الملف من
موقع المناهج الإماراتية

السؤال الخامس: من الجدول التالي، أوجد:

alManahj.com/ae

(5) المتوسط الحسابي:


(6) المنوال:

(7) الوسيط:

(8) القيمة المتطرفة:

(10) كم عدد البيانات؟

(9) المدى:



عددُ الأسماك						
3	6	9	13	10	7	8