

تم تحميل هذا الملف من موقع المناهج الإماراتية



الملف الخطة الأسبوعية للأسبوع الخامس الحلقة الثانية في مدرسة أبو أيوب الأنصاري

موقع المناهج ← المناهج الإماراتية ← ملفات مدرسية ← المدارس ← الفصل الأول

روابط مواقع التواصل الاجتماعي بحسب ملفات مدرسية



روابط مواد ملفات مدرسية على تلغرام

[الرياضيات](#)

[اللغة الانجليزية](#)

[اللغة العربية](#)

[التربية الاسلامية](#)

المزيد من الملفات بحسب ملفات مدرسية والمادة المدارس في الفصل الأول

[توجيهات بدء الدراسة للعام الدراسي الجديد](#)

1

[امتحانات منتصف الفصل الأول للصفين الحادي عشر والثاني عشر في مدرسة الشعلة الخاصة](#)

2

[امتحانات منتصف الفصل الأول للصفين التاسع والعاشر في مدرسة الشعلة الخاصة](#)

3

[امتحانات منتصف الفصل الأول للصفوف الخامس حتى الثامن في مدرسة الشعلة الخاصة](#)

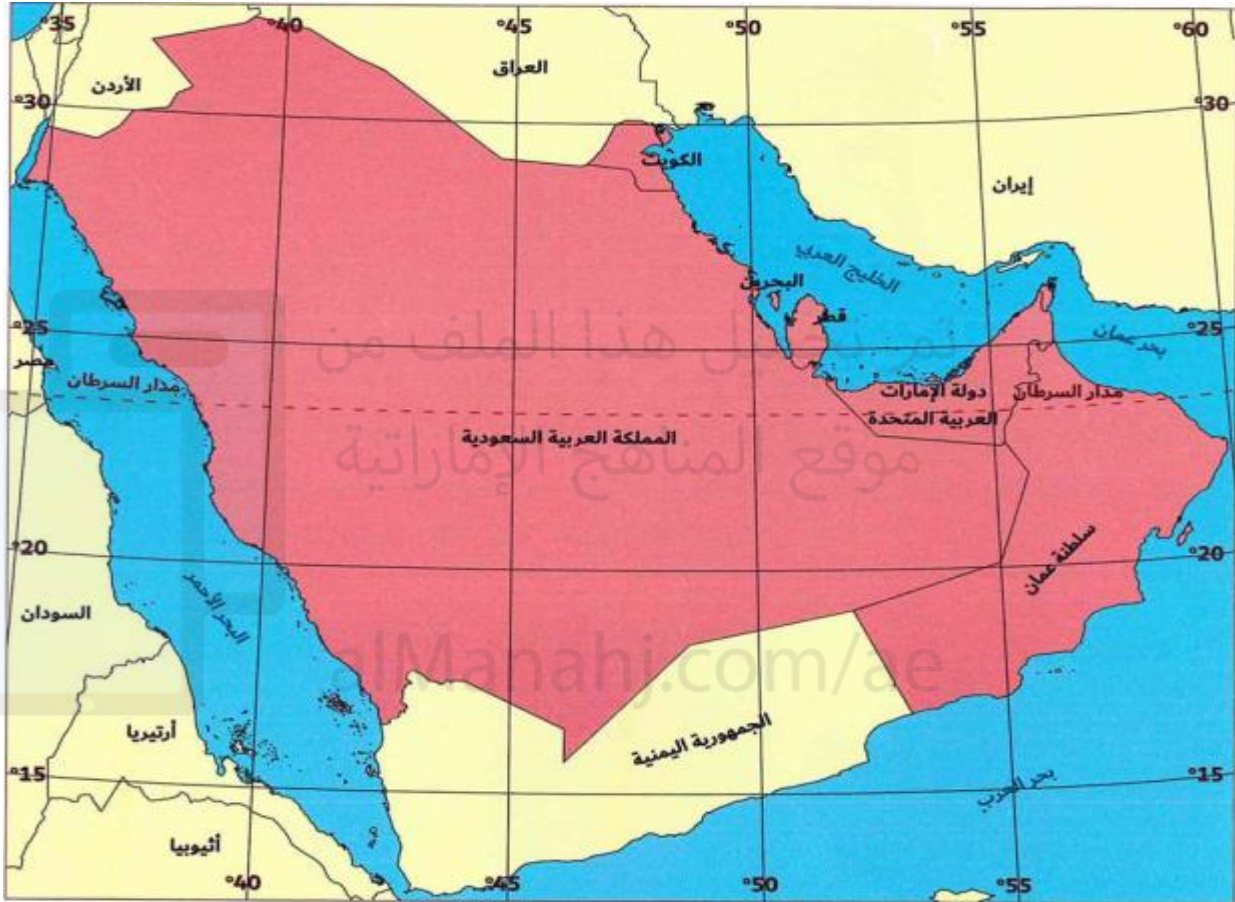
4

[امتحانات منتصف الفصل الأول للصفوف الأول حتى الرابع في مدرسة الشعلة الخاصة](#)

5

مراجعة مهارات للصف الخامس الابتدائي الفصل الدراسي الثاني

السؤال الأول : أمامك خريطة لدول مجلس التعاون ادرسها جيدا ثم اجب عن الاسئلة الاتية



ظلل الاجابة الصحيحة مما بين البدائل الاتية

المسطح المائي الذي يحد سلطنة عمان من جهة الجنوب هو					
أ	البحر الاحمر	ب	البحر المتوسط	ج	بحر العرب
د	الخليج العربي				
أكبر الدول العربية الخليجية مساحة هي دولة					
أ	الإمارات	ب	السعودية	ج	البحرين
د	عُمان				
تقع دول مجلس التعاون الخليجي في قارة					
أ	اسيا	ب	افريقيا	ج	اوروبا
د	استراليا				
يمر مدار السرطان بدول عُمان والسعودية و.....					
أ	الكويت	ب	الإمارات	ج	العراق
د	البحرين				

السؤال الثاني أقرأ النص التالي جيدا ثم اجب عن الاسئلة الاتية



**الأهميّة الاقتصادية:**

اشتهرت منذُ القَدَمِ بغنى مياه الخليج العربيّ وَالبَحْرِ الأحمرِ بِمَصائِدِ اللُّؤلُؤِ والمرجان، واستخراج الذهبِ الأَسْوَدِ (النَّفط) والغازِ الطَّبِيعِيِّ حَدِيثًا، بالإضافة إلى العديد من الثَّرَوَاتِ المعدنيّة.



**الأهميّة الإستراتيجيّة:**

تُشرفُ دولُ مجلسِ التَّعاونِ الخَلِيجيِّ على مُسطَّحاتٍ وممرّاتٍ مائيّةٍ هامّة، مثل: الخليج العربيّ وبحرِ عُمانَ ومضيقِ هرمز.



**الأهميّة الحضاريّة:**

نَشأتُ على أرضِ دولِ مَجْلِسِ التَّعاونِ الخَلِيجيِّ العَدِيدُ مِنَ الحَضَارَاتِ القديمة، مثل: حَضارةِ (ماجان) في دولةِ الإماراتِ العربيّةِ المُتَّحدة، وَحَضارةِ (فيلكا) في الكويتِ، وَحَضارةِ (دلمون) في مَمْلَكَةِ البَحْرينِ.



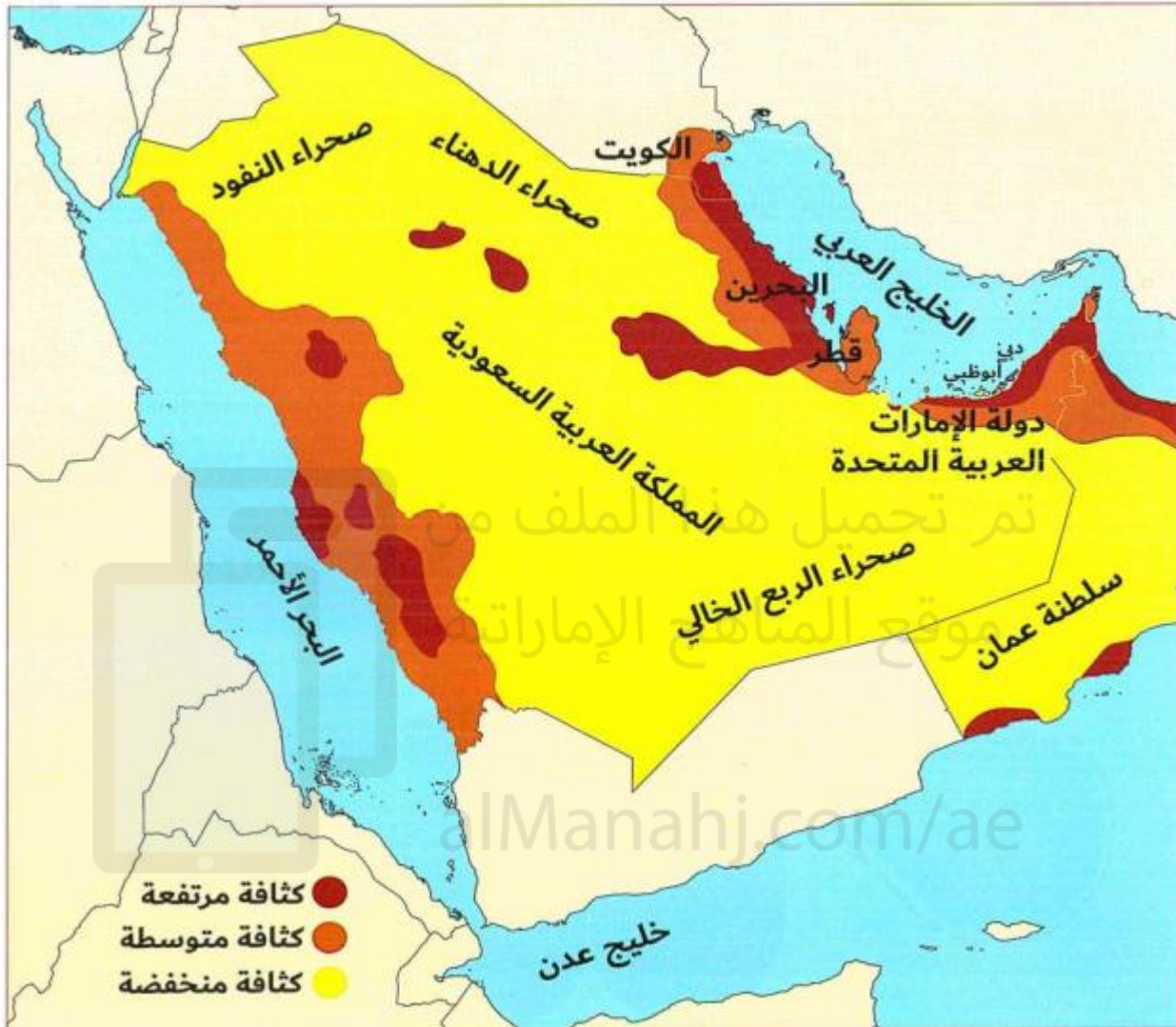
**الأهميّة الدّينيّة:**

تُعَدُّ شِبهُ الجزيرةِ العَرَبِيّةِ مَهِيْظَ الدِّيانَةِ الإسلاميّةِ، وَعَلَى أرضِها المَسجِدُ الحَرَامُ في مَكَّةَ المُكْرَمَةِ، والمَسجِدُ النَّبويُّ في المَدِينَةِ المُتَوَرّة.

ظال الاجابة الصحيحة مما بين البدائل الاتية

				يقع المسجد الحرام في .....			
أ	مكة المكرمة	ب	الرياض	ج	المدينة المنورة	د	جدة
قامت حضارة .....							
أ	ماجان	ب	فيلكا	ج	دلون	د	الفرعونية
يطلق لفظ الذهب الأسود على							
أ	النفت	ب	الغاز الطبيعي	ج	الفحم	د	الطاقة النووية
إشرف دول مجلس التعاون الخليجي علي مسطحات وممرات مائية المقصود به الأهمية							
أ	الاقتصادية	ب	الحضارية	ج	الدينية	د	الاستراتيجية

السؤال الثالث : أمامك خريطة لدول مجلس التعاون ادرسها جيدا ثم اجب عن الاسئلة الاتية



ظلل الاجابة الصحيحة مما بين البدائل الاتية

يبدل اللون البني في الخريطة على .....							
أ	كثافة مرتفعة	ب	كثافة متوسطة	ج	كثافة منخفضة	د	كثافة نادرة
صحراء الربع الخالي من مناطق							
أ	كثافة مرتفعة	ب	كثافة مرتفعة	ج	كثافة متوسطة	د	كثافة منخفضة
هذه الخريطة خاصة بـ							
أ	التضاريس	ب	المناخ	ج	توزيع السكان	د	الموقع الفلكي

السؤال الرابع : أمامك صورة لجوائز حصل عليها الشيخ زايد ادرسها جيدا ثم اجب عن الاسئلة الاتية

**رَجُلُ العام**

مَنَحَتْهَا لَهُ لِمَرَّتَيْنِ هَيْئَةُ (رجل العام) في باريس، عام 1988م و1998م.

**شخصية العالم الإسلامي**

مَنَحَتْهَا لَجْنَةُ جَائِزَةِ دُبَيِّ الدَّوْلِيَّةِ للقرآن الكريم عام 1999م.

**ميدالية اليوم العالمي للأغذية**

مَنَحَتْهَا مُنْظَمَةُ الأَغْذِيَّةِ وَالزَّرَاعَةِ (الفاو) عام 2001م.

**أبطال الأرض**

مَنَحَهَا لَهُ بَرْنَامِجُ الأُمَمِ المُتَّحِدَةِ للبيئة عام 2005م.

**جوائز عَظُرَتْ مَسِيرَةَ المَغْفُورِ لَهُ**

- يَأْذِنُ اللهُ - الشَّيْخُ زَايِدُ بِنِ سُلْطَانَ آلِ نَهْيَانَ - رَحِمَهُ اللهُ.



**الوثيقة الذهبية**

مَنَحَتْهَا لَهُ المُنْظَمَةُ الدَّوْلِيَّةُ لِلْأَجَانِبِ في جنيف عام 1985م.

**وشاح الإنماء والتنمية**

مَنَحَتْهَا لَهُ جَامِعَةُ الدَّوْلِ العَرَبِيَّةِ عام 1993م.

**الوسام الذهبى للتاريخ العربى**

مَنَحَتْهُ لَهُ جَمْعِيَّةُ المَوْرُخِيْنَ المَغَارِبَةِ عام 1995م.

**درع العمل**

مَنَحَتْهُ لَهُ مُنْظَمَةُ العَمَلِ العَرَبِيَّةِ عام 1996م.

ظلال الاجابة الصحيحة مما بين البدائل الاتية

حصل الشيخ زايد على درع العمل من					
أ	منظمة العمل العربية	ب	منظمة الفاو	ج	المنظمة الدولية للاجانب
د	جمعية المؤرخين المغاربة	حصل الشيخ زايد على شخصية العالم الإسلامية من لجنة جائزة ..... الدولية			
أ	دبي	ب	أبوظبي	ج	الشارقة
د	عجمان	أبطال الارض هي الجائزة التي حصل عليها الشيخ زايد من برنامج الامم المتحدة ل.....			
	البيئة		الاقتصاد		الرياضة
					السياسة
في عام 1985 حصل الشيخ زايد على جائزة .....					
	الوثيقة الذهبية		الانماء والتنمية		درع العمل
					أبطال الارض

السؤال الخامس : أمامك نص ادرسه جيدا ثم اجب عن الاسئلة الاتية

محمية جزيرة "صير بني ياس" البرية في إمارة أبوظبي:

تتميز جزيرة "صير بني ياس" بوجود سلسلة جبلية، ترتفع عن سطح البحر حوالي (150) متراً، وقد أضيفت إليها جزيرة صناعية هي (الجزيرة الخضراء) لتكون قاعدة للتجارب الزراعية في الجزيرة، وتتمثل الجزيرة بجبالها وغاباتها بيئة طبيعية ممتازة للحياة الفطرية، فقد تمت زراعتها بغابات السدر، والطلح، وشجيرات الأراك؛ لتوفير الغذاء والظل للأعداد الضخمة من الحيوانات البرية المتنوعة؛ وتكون ملاذاً آمناً للعديد من أنواع الطيور المستوطنة والمهاجرة، والأنواع المهددة بالانقراض.

ومن أهم الحيوانات التي تعيش فيها: الغزلان، والمها العربي الأفريقي، والغزال العربي (غزال الجبال) المعروف لدى السكان باسم (الظبي) والذي سُميت إمارة أبوظبي نسبةً إليه، إلى جانب الزراف واللاما، وأنواع متعددة من الطيور، مثل: الحبارى، والتعام، وطيور الفلامنجو.

ظل الاجابة الصحيحة مما بين البدائل الاتية

اضيفت جزيرة صناعية لجزيرة بني ياس لتكون قاعدة للتجارب الزراعية في الجزيرة وهي							
أ	الجزيرة الحمراء	ب	الجزيرة الخضراء	ج	الجزيرة الصفراء	د	الجزيرة البيضاء
من النباتات والاشجار والغابات التي تم زراعتها بمحمية جزيرة بني ياس							
أ	غابات السدر	ب	الطلح	ج	شجيرات الأراك	د	جميع ما سبق
الحيوانات الاتية تعيش في محمية جزيرة صير بني ياس ما عدا							
أ	الغزلان	ب	المها العربي الافريقي	ج	الغزال العربي	د	الدب القطبي

السؤال السادس : أمامك جدول لدول مجلس التعاون ادرسها جيدا ثم اجب عن الاسئلة الاتية

الاسم	العاصمة	السكان	المساحة (كم <sup>2</sup> )	العملة
 الإمارات	أبو ظبي	8,264,070	83,600	درهم إماراتي
 البحرين	المنامة	1,234,517	765	دينار بحريني
 السعودية	الرياض	27,136,977	2,250,000	ريال سعودي
 الكويت	مدينة الكويت	3,566,437	17,820	دينار كويتي
 سلطنة عمان	مسقط	2,773,479	309,501	ريال عماني
 قطر	الدوحة	2,155,446	11,437	ريال قطري
المجموع	--	44,829,043	2,673,123	--

ظل الاجابة الصحيحة مما بين البدائل الاتية

عدد دول مجلس التعاون الخليجي							
أ	3	ب	4	ج	5	د	6
أصغر دول مجلس التعاون الخليجي مساحة هي دولة							
أ	عمان	ب	الإمارات	ج	السعودية	د	البحرين
مجموع مساحة دول مجلس التعاون حوالي .....							
أ	2.6 مليون كم <sup>2</sup>	ب	3.4 مليون كم <sup>2</sup>	ج	5 مليون كم <sup>2</sup>	د	8 مليون كم <sup>2</sup>
عملة دولة الكويت هي							
أ	الدرهم	ب	الدينار	ج	الريال	د	الجنيه
عاصمة دولة قطر هي مدينة							
أ	الرياض	ب	الكويت	ج	مسقط	د	الدوحة

السؤال السابع : أمامك خريطة لدول مجلس التعاون ادرسها جيدا ثم اجب عن الاسئلة الاتية

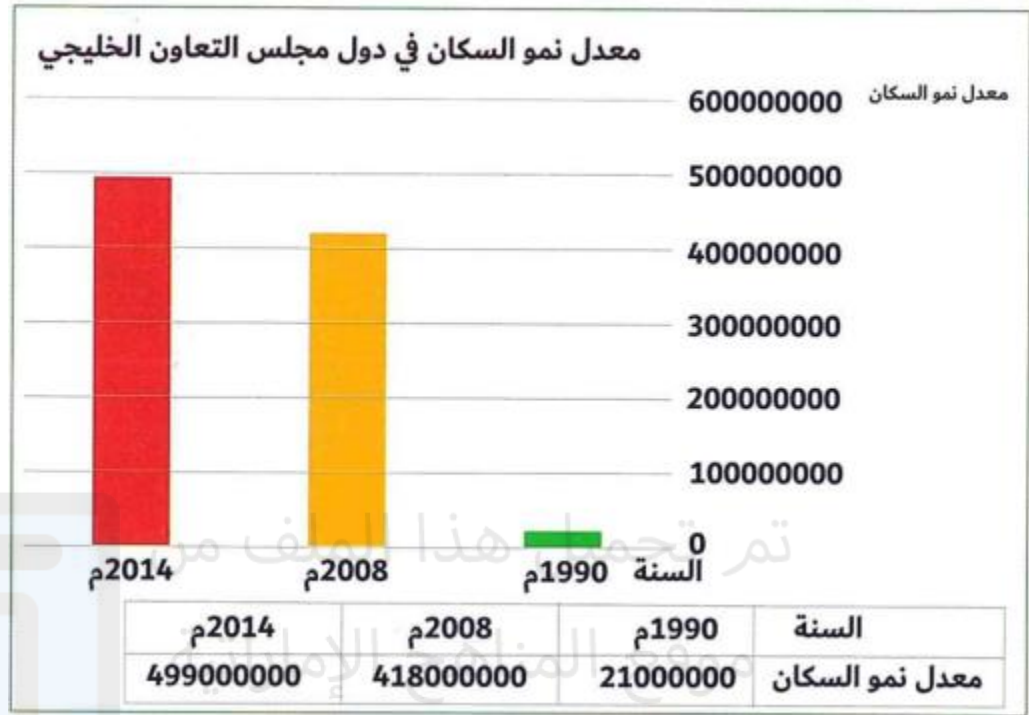


ظل الاجابة الصحيحة مما بين البدائل الاتية

يبدل اللون البني في الخريطة على .....					
أ	المرتفعات	ب	الصحاري	ج	السهول الفيضية
د	السهول الساحلية				
من جبال سلطنة عُمان .....					
أ	جبال اليمن	ب	الحجاز	ج	عسير
د	الأخضر				
من صحاري دول مجلس التعاون الخليجي					
أ	جوبي	ب	كلهاري	ج	الربع الخالي
د	اريزونا				
تقع جبال الحجاز وعسير بالنسبة لدول شبه الجزيرة في جهة					
أ	الشرق	ب	الغرب	ج	الوسط
د	الداخل				



السؤال الثامن : أمامك رسم بياني ادرسها جيدا ثم اجب عن الاسئلة الاتية




ظلل الاجابة الصحيحة مما بين البدائل الاتية

بلغ عدد سكان دول مجلس التعاون الخليجي عام 2008 حوالي					
أ	21 مليون	ب	41 مليون	ج	49 مليون
د	55 مليون				
الفرق بين عدد السكان في دول مجلس التعاون الخليجي في عام 1990 و عام 2008 حوالي					
أ	20 مليون	ب	30 مليون	ج	40 مليون
د	50 مليون				

بالتوفيق لجميع الطلاب  
معلم المادة / أ. أشرف شيلابي

السؤال التاسع : أمامك نص ادرسه جيدا ثم اجب عن الاسئلة الاتية



محطة الطاقة النووية في دولة الإمارات العربية المتحدة

### الطاقة النووية:

هي الطاقة المولدة من معدن اليورانيوم الموجود في باطن الأرض.



تلبيةً لسياسة الدولة تجاه الطاقة النووية، فقد تم إنشاء مؤسسة الإمارات للطاقة النووية كجهة مسؤولة عن تطوير محطات الطاقة النووية في دولة الإمارات العربية المتحدة التي تم البدء في بنائها في إمارة أبوظبي لتوليد الكهرباء بدءاً من عام 2012م حتى عام 2020م، وتم اختيار منطقة (براقة) في

(منطقة الظفرة) من إمارة أبوظبي لإنشاء محطات الطاقة النووية

استناداً إلى عدة عوامل، أهمها:

- البعد عن المواقع السكنية.
- توافر موارد المياه.
- خلو المنطقة من الزلازل.
- القرب من شبكات الطاقة الكهربائية.



### ظل الاجابة الصحيحة مما بين البدائل الاتية

الطاقة النووية هي الطاقة المولدة من معدن .....							
أ	الحديد	ب	اليورانيوم	ج	النحاس	د	الذهب
تقع محطة بركة في إمارة .....							
أ	أبوظبي	ب	دبي	ج	الشارقة	د	عجمان
من مزايا الطاقة النووية .....							
أ	أمنة	ب	صديقة للبيئة	ج	تنتج طاقة	د	جميع ما سبق
تم اختيار منطقة الظفرة لإنشاء محطات الطاقة النووية بسبب							
أ	البعد عن المواقع السكنية	ب	توافر المياه	ج	الخلو من الزلازل	د	جميع ما سبق

السؤال العاشر : اقرأ النص التالي ثم اجب عن الاسئلة الاتية

خلال مسيرة مجلس التعاون لدول الخليج العربية حقق المجلس العديد من الانجازات منها

- العمل على توحيد الانظمة الاقتصادية
- بناء قوة درع الجزيرة وانشاء صناعات حربية
- الاتفاق على انشاء مشروع الربط المائي بين دول مجلس التعاون الخليجي
- المساهمة في حل القضايا العربية والاقليمية مثل
- المساهمة في انتهاء الحرب العراقية الايرانية وحل النزاع بين البلدين
- المساهمة في تحرير الكويت
- دعم القضية الفلسطينية ونصرة القضايا العربية العادلة للشعوب والبلدان الاسلامية مثل الصومال واليمن

ظل الاجابة الصحيحة مما بين البدائل الاتية

عملت دول مجلس التعاون الخليجي على توحيد الانظمة			
أ	السياسية	ب	الاقتصادية
ج	الاجتماعية	د	الرياضية
ساهمت دول مجلس التعاون الخليجي على تحرير			
أ	العراق	ب	الكويت
ج	البحرين	د	قطر
تدعم دول مجلس التعاون الخليجي نصرة القضايا العربية مثل			
أ	فلسطين	ب	اليمن
ج	الصومال	د	جميع ما سبق

بالتوفيق لجميع الطلاب  
معلم المادة / أ. أشرف شيلابي