

تم تحميل هذا الملف من موقع المناهج الإماراتية



ملزمة مهارات قراءة النصوص والصور والخرائط والجداول والأشكال
متبوعة بالإجابات

[موقع المناهج](#) ⇨ [المناهج الإماراتية](#) ⇨ [الصف الخامس](#) ⇨ [اجتماعيات](#) ⇨ [الفصل الثالث](#) ⇨ [الملف](#)

تاريخ إضافة الملف على موقع المناهج: 11:13:01 2024-06-11

إعداد: مدرسة الظهيت

التواصل الاجتماعي بحسب الصف الخامس



[اضغط هنا للحصول على جميع روابط "الصف الخامس"](#)

روابط مواد الصف الخامس على تلغرام

[الرياضيات](#)

[اللغة الانجليزية](#)

[اللغة العربية](#)

[التربية الاسلامية](#)

المزيد من الملفات بحسب الصف الخامس والمادة اجتماعيات في الفصل الثالث

[ملزمة إثرائية تطبيق لمهارات الفصل](#)

1

[دليل تصحيح النموذج التدريبي للامتحان النهائي](#)

2

[النموذج التدريبي للامتحان النهائي](#)

3

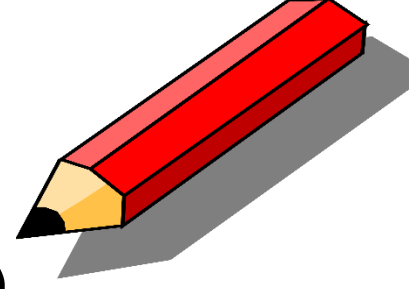
[الهيكل الوزاري الجديد المسار العام](#)

4

المزيد من الملفات بحسب الصف الخامس والمادة اجتماعيات في الفصل الثالث

[حل أسئلة الامتحان النهائي](#)

5



مذكرة مهارات مادة الدراسات الاجتماعية للحقة الثانية

مهارات قراءة
النصوص والصور والخرائط و الجداول والأشكال



اقرأ النص وأجب عن الأسئلة التي تليه :



اهتمام دولة الإمارات العربية المتحدة بعلوم الفضاء يرجع إلى السبعينات عندما التقى الشيخ زايد رحمه الله مع فريق وكالة ناسا المسؤول عن رحلة أبولو إلى القمر، فكان هذا اللقاء حافزاً لتوجيه اهتمام الدولة إلى الفضاء منذ ذلك الحين.

ومن الابتكارات والإنجازات .. نجاح إطلاق القمر الاصطناعي (الياه 3): يجعل المنطقة مركزاً تكنولوجياً، وهو إنجاز ابتكاري يخدم التقدم الحضاري. يعد هذا القمر الاصطناعي السابع لدولة الإمارات، من فئة الأقمار الكبيرة، كما أطلقت دولة الإمارات في أكتوبر 2018 م القمر الصناعي (خليفة سات) الذي يعد أول قمر صناعي بأيدي إماراتية 100 %.

وعبر صاحب السمو الشيخ محمد بن زايد حفظه الله عن سعادته بقوله : أحلامنا في معانقة الفضاء أصبحت حقيقة.

1 - اهتمام دولة الإمارات بعلوم الفضاء يرجع إلى :

- أ - الخمسينات.
- ب - الستينات.
- ج - السبعينات.
- د - الثمانينات.

2 - فريق وكالة ناسا هو المسؤول عن رحلة أبولو إلى :

- أ - الشمس.
- ب - القمر.
- ج - للمريخ.
- د - جميع ما سبق.

3 - يعد القمر الاصطناعي الياه 3 القمر السابع من فئة الأقمار :

- أ - الصغيرة.
- ب - المتوسطة.
- ج - الكبيرة.
- د - ليس مما ذكر.

4 - ما الذي تم إطلاقه في عام 2018 م ؟

- أ - القمر الصناعي نايلسات.
ب - القمر الصناعي عربسات.
ج - القمر الصناعي أبولو.
د - القمر الصناعي خليفة سات.

5 - (أحلامنا في معانقة الفضاء أصبحت حقيقة) من قائل : هذه العبارة ؟

- أ - الشيخ محمد بن زايد حفظه الله. ب - الشيخ محمد بن راشد حفظه الله.
ج - الشيخ زايد رحمه الله. د - الشيخ خليفة بن زايد رحمه الله.

6 - الصورة توضح القمر الصناعي خليفة سات :

- أ - صح
ب - خطأ

7 - يعد القمر الصناعي خليفة سات أول قمر صناعي صنع بأيد إماراتية :

- أ - 100 %
ب - 90 %
ج - 80 %
د - 70 %

8 - نجاح إطلاق القمر الاصطناعي (الياه 3): يجعل المنطقة مركزاً ، وهو إنجاز ابتكاري يخدم التقدم الحضاري.

- أ - تقليدياً.
ب - تكنولوجياً.
ج - استثمارياً.
د - ليس مما سبق.

اقرأ النص وأجب عما يليه من أسئلة :



شكل البحر مصدر إلهام للإنسان الإماراتي في القديم،
ومورداً معيشياً، وارتبط بتفاصيل حياته اليومية، وقد
ازدهرت في خضم ذلك صناعة السفن الخشبية التي
تعد من أقدم الصناعات في دولة الإمارات العربية

المتحدة؛ وذلك لأنها وسيلة مهمة لركوب البحر، والغوص على اللؤلؤ، أو
صيد السمك، والسفر للأماكن البعيدة والقريبة لجلب البضائع، وانتشرت
مهنة صناعة السفن في المناطق الساحلية في الإمارات.

ويعد سيف محمد بالقيزي أحد أشهر صناع السفن التقليدية في الإمارات، حصل
على لقب مهندس السفن وذلك لقدرته على رسم وتصميم أي نوع من أنواع
السفن التقليدية.

أشهر الأخشاب المستخدمة لصناعة السفن هو خشب الساج المجلوب من الهند
وهو من أشهر وأجود أنواع الأخشاب لأنه لايتشرب الماء ولا يسربه.

1 - تعد من أقدم المهن في دولة الإمارات العربية المتحدة :

- أ - صناعة السفن الخشبية .
ب - صناعة السفن الزجاجية .
ج - صناعة السفن البلاستيكية .
د - صناعة السفن الحديدية .

2 - اهتم أهل الإمارات بصناعة السفن لأنها وسيلة لـ :

- أ - الغوص على اللؤلؤ .
ب - صيد السمك .
ج - ركوب البحر والسفر وجلب البضائع .
د - جميع ما سبق .

3 - اتقن سيف محمد بالقيزي تصميم نوع واحد فقط من أنواع السفن الشراعية :

- أ - صح
ب - خطأ

3 - تتركز مهنة صناعة السفن في المناطق :

- أ - الجبلية .
- ب - الصحراوية .
- ج - الساحلية .
- د - جميع ما سبق .

4 - لقب سيف محمد بالقيزي ب :

- أ - صانع السفن .
- ب - ربان السفن .
- ج - القبطان .
- د - مهندس السفن .

5 - من أشهر وأجود أنواع الأخشاب المستخدمة في صناعة السفن لأنه لا يتشرب الماء ولا يسربه .

- أ - خشب البلوط .
- ب - خشب الساج .
- ج - خشب السنديان .
- د - خشب السمر .

6 - كان البحر قديماً يعتبر مصدر رزق للإنسان من خلال الحصول على :

- أ - السمك واللؤلؤ .
- ب - السمك فقط .
- ج - اللؤلؤ فقط .
- د - لحوم الأغنام .

7 - كانت السفن مهمة لأنها تستخدم للسفر للأماكن :

- أ - البعيدة فقط .
- ب - القريبة فقط .
- ج - البعيدة والقريبة .
- د - ليس مما سبق .

اقرأ النص وأجب عن الأسئلة التي تليه :



طموح زايد يعانق الفضاء:

أصبح حلم دولة الإمارات حقيقة مساء يوم 25 سبتمبر 2019م بانطلاق أول رائد فضاء إماراتي وهو هزاع المنصوري إلى محطة الفضاء الدولية، محققاً طموح الشيخ زايد رحمه الله الذي راوده منذ عام 1974 م، وقد استغرقت الرحلة حوالي 8 أيام عاد

بعدها هزاع إلى أرض الوطن، وتأتي هذه المهمة ضمن برنامج الإمارات لرواد الفضاء الذي يشرف عليه مركز محمد بن راشد للفضاء، وتعد هذه الرحلة الخطوة الأولى ضمن خطط دولة الإمارات المتعلقة بالفضاء، التي تندرج ضمنها إرسال رحلة إلى المريخ عام 2021م لتتزامن مع الذكرى الخمسين لقيام دولة الإمارات العربية المتحدة.

1 - عنوان الفقرة هو :

ب - طموح زايد يعانق الفضاء

أ - طموح هزاع

د - الذكرى الخمسين

ج - رحلة إلى المريخ

2 - أصبح الحلم حقيقة في عام :

ب - 1971 م

أ - 1974 م

د - 2021 م

ج - 2019 م

3 - أول رائد فضاء هو :

ب - الشيخ محمد بن راشد حفظه الله

أ - هزاع المنصوري

د - سلطان النيادي

ج - محمد بالقيزي

4 - استغرقت رحلة هزاع المنصوري للفضاء حوالي :

أ - 5 أيام

ب - 6 أيام

ج - 7 أيام

د - 8 أيام

5 - تعد هذه الرحلة الخطوة ضمن خطط دولة الإمارات المتعلقة بالفضاء.

أ - الأولى

ب - الثانية

ج - الثالثة

د - الرابعة

6 - ضد كلمة حقيقة :

أ - خيال

ب - الكذب

ج - الصدق

د - تأكيد الشيء

7 - يعتبر هزاع المنصوري أول رائد إماراتي.

أ - سفينة

ب - فضاء

ج - قطار

د - مترو

8 - كم عدد السنوات التي استغرقت لتحقيق الحلم ؟

أ - 45 سنة

ب - 35 سنة

ج - 25 سنة

د - 15 سنة

اقرأ النص وأجب عن الأسئلة التي تليه :

مهنة صناعة السفن :

تعرف مهنة صناعة السفن في الخليج العربي بـ (الجلافة)، وصانع السفينة يسمى (جلافاً)، وهي من المهن الفنية العريقة التي اشتهرت بها المنطقة منذ القدم، ويتميز العمل في هذه المهنة بأنه عمل جماعي يؤديه فريق عمل متكامل، وأي خلل في أي جزء من العمل يؤدي إلى ضياعه؛ لذلك يحرص الجلاف على توزيع المهام عليهم وفق إمكانياتهم.

ومن المواد المستخدمة في صناعة السفن :

الأخشاب : وهي أهم عنصر في عملية صناعة السفن وتعتمد على أنواع معينة من الأخشاب المجلوبة من الهند وأفريقيا مثل : خشب (الساج، النيبار، سبيط).

المسامير: يصنعها الحداد وتجلب من الكويت والهند والبحرين وأكثر المسامير المستخدمة هي المسامير البحرينية.

الفتايل : وهي خيوط قطنية تستخدم لسد الفجوات بين الألواح في السفينة.

نسيج الشراع : قماش يجلب من الهند والبحرين.

حبال السفينة : وهي الحبال المصنوعة من ليف النخيل.

ويعد سيف محمد بالقيزي من أشهر صناع السفن التقليدية في دولة الإمارات العربية المتحدة، لقب بمهندس السفن لقدرته على رسم وتصميم أي نوع من أنواع السفن التقليدية.

1- يطلق على صانع السفينة اسم :

أ - الحلاق

ج - الجزار

ب - الجلاف

د - صانع السفن

2 - يعد سيف بالقيزي من أشهر صناع :

أ - الطائرات

ج - السفن التقليدية

ب- السفن الحديثة

د - القطارات

3 - لقب حصل عليه سيف بالقيزي :

أ - مهندس السفن

ج - الطيار

ب - البحار

د - الربان

4 - يتميز عمل صناعة السفن بأنه :

- أ - عمل فردي
ب - عمل جماعي
ج - فردي وجماعي
د - ليس مما سبق

5 - استخدم الليف في صناعة :

- أ - الفتايل
ب - الخشب
ج - الحبال
د - الشراع

6 - يتم توزيع المهام حسب إمكانات أعضاء الفريق.

- أ - صح
ب - خطأ

7 - نسيج الشراع عبارة عن :

- أ - ورق
ب - قماش
ج - خشب
د - ليس مما سبق


8 - تعتبر صناعة السفن التقليدية من المهن الفنية :

- أ - الحديثة
ب - السهلة
ج - العريقة
د - الصعبة

9 - خيوط قطنية تستخدم لسد الفجوات بين الألواح في السفينة :

- أ - الفتايل
ب - الحبال
ج - النسيج
د - المسامير

اقرأ النص والصورة المصاحبة له ومن ثم أجب عن الأسئلة التي تليه :



سوق العرصة في الشارقة

سوق العرصة في الشارقة أو كما يُطلق عليه "قلب الشارقة" هو من المناطق السياحية التي اشتهرت بها الإمارات العربية المتحدة والتي أُنسبت لها شهره واسعة عن طريق جذب السياح له، لما بهذا السوق من منتجات تدل على حضارة وعراقة الدولة؛ فهو الذي يرجع في تاريخ بناءه إلى ستة آلاف عاماً.

- سُمي هذا السوق بسوق العرصة، و"العرصة" هي التي تضي كل ساحة واسعة تقع في الخلاء بين مجموعة كبيرة من الدور.
- يمتاز هذا السوق ببنائه العريق الذي يتكون من أبواب خشبية كبيرة، وفوانيس مُعلّقة، فضلاً عن الحجر المرجاني الذي شُيّدت به الجدران العالية في هذا السوق الذي أصبح من التحف الفنية المعمارية التي ترمز إلى الحضارة الإماراتية.
- كما كان في هذا السوق تتبع طريقة المقايضات في البيع والشراء.
- يضم حوالي سبعين متجر من المتاجر التي تتمتع بمحتوياتها المتنوعة التي تتباين ما بين المشغولات اليدوية التي تتم عن التراث الإماراتي، التحف المصنوعة من الخشب، العطور، الأعشاب الطبية، البحور، السلال المصنوعة من السعف، الهدايا التذكارية، والمجوهرات، فضلاً عن الهدايا التذكارية

1 - ما اسم السوق الذي تم ذكره في النص :

- ب - السوق القديم
- د - سوق الجملة

أ - سوق رأس الخيمة

ج - سوق العرصة

2 - يقع سوق العرصة في إمارة

ب - الشارقة

د - الفجيرة

أ - دبي

ج - عجمان

3 - يطلق على سوق العرصة :

ب - قلب الشارقة

د - ليس مما سبق

أ - نبض الشارقة

ج - روح الشارقة

4 - صنعت أبواب هذا السوق من :

- أ - الألمنيوم
ب - النحاس
ج - الخشب
د - الحديد

5 - يعتبر سوق العرصة من الأماكن التي تجذب السياح :

- أ - صح
ب - خطأ

6 - علقت على جدرانه لإبراز الطابع القديم .

- أ - المصابيح
ب - الشموع
ج - الزينة
د - الفوانيس

7 - يضم هذا السوق قرابة متجر.

- أ - 50
ب - 60
ج - 70
د - 80

8 - الصورة التي تم تحديدها بإطار تدل على :

- أ - تحف
ب - سلال مصنوعة من السعف
ج - بخور
د - ملابس تراثية

9 - يرجع تاريخ بناء هذا السوق إلى عام .

- أ - ستة آلاف
ب - سبعة آلاف
ج - ثمانية آلاف
د - تسعة آلاف

اقرأ النص وأجب عن الأسئلة التي تليه :



شجرة الغاف

رمز وطني في الإمارات

ترتبط بجيل الآباء والأجداد

6 ملايين شجرة عددها في أبوظبي

30% نسبتها من أشجار الغابات في الدولة

تحتضن شجرة الغاف باهتمام وطني كبير وتعد رمزا وطنيا

تمثل ساحات تجمع الأهالي وملقباتهم العامة

تتغلب على ملوحة التربة وتصلحها

الشيخ زايد منع قطع أي شجرة غاف وغيرها لأي سبب من الأسباب ومساءلة من يخالف ذلك

النبات الطبيعي هو النبات الذي ينمو من تلقاء نفسه دون تدخل الإنسان، وينقسم لنبات معمر ونبات حولي.

فالنبات المعمر هو الذي يعيش فترة زمنية طويلة مثل الغاف والسمر، أما النبات حولي فهو الذي ينمو بعد موسم سقوط المطر ويعيش فترة زمنية قصيرة، كما ينمو في بيئات مختلفة مثل على ذلك نباتات البيئة الصحراوية الحميض و الفقع وهو نوع من أنواع الفطر البري.

نباتات البيئة الجبلية مثل حماض الجبل و اليعدة . كما أن هناك نباتات حولية تنمو في البيئة الساحلية مثل الحرمل وبصيلات مي.

ولكل هذه الأنواع أهمية وفوائد عديدة منها مصدر للطاقة والوقود، للأكل، للعلاج وصناعة الأدوية الشعبية.

1- النبات الطبيعي هو النبات الذي ينمو من تلقاء نفسه دون تدخل الإنسان :

ب - خطأ

أ - صح

2- السمر نوع من أنواع النبات الطبيعي :

ب- المعمر
د - ليس مما سبق

أ - الحولي
ج - المزروع

3- بلغ عدد أشجار الغاف في أبوظبي شجرة.

ب - 5 ملايين

أ - 4 ملايين

د - 7 ملايين

ج - 6 ملايين

4 - جميع النباتات الطبيعية ليس لها فوائد.

ب - خطأ

أ - صح

5 - نوع من أنواع الفطر البري يتميز بلونه الأبيض :

ب - الفقع

أ - الطرثوث

د - الغاف

ج - الحميض

انظر للصور والمعلومات المصاحبة لها ثم أجب عن الأسئلة التي تليها :

أنواع السفن الخشبية في بلادنا:

البوم:
سفينة شراعية حَلَّتْ مَحَلَّ البَغْلَةِ
في خدمة النقل البحري، وهي
أفضل أنواع السفن الشراعية
للإبحار في مياه الخليج وبحر
العرب والمحيط الهندي.

البوت:
يستخدم لصيد اللؤلؤ.

البغلة:
استخدمت لنقل التمور
والخيول العربية إلى
الهند، ونقل الأخشاب من
الهند إلى العديد من موانئ
الخليج وشط العرب.

السنج:
من السفن المستخدمة
لصيد الأسماك.



1 - جميع السفن الموضحة مصنوعة من:

ب - الألمنيوم

أ - الأخشاب

د - الورق

ج - البلاستيك

2- سفينة استخدمت لصيد اللؤلؤ:

ب - الجالبوت

أ - السنج

د - البغلة

ج - البوم

3 - تعد من أكبر أنواع السفن وتستخدم في نقل الأخشاب من الهند إلى دول الخليج :

أ - اللنج

ب - الجالوت

ج - البغلة

د - العبره

4 - اللنج سفينة تستخدم لصيد الأسماك :

أ - صح

ب - خطأ

5 - تعد من أفضل أنواع السفن الشراعية للإبحار.

أ - الجالوت

ب - ألجوم

ج - البغلة

د - اللنج

6 - ما هو الجزء المصنوع من القماش ؟

أ - الشراع

ب - هكل السفينة

ج - المجداف

د - ليس مما سبق



7 - اليخت يعتبر نوع من أنواع السفن الشراعية ؟

أ - صح

ب - خطأ

8 - تعتبر السفن من وسائل النقل البحري :

أ - صح

ب - خطأ

اقرأ الشكل التالي وأجب عن الأسئلة التي تليه :

أشكال تخطيط المدن :



3 - التخطيط الشريطي :

وهو عبارة عن طريق رئيسي تنشأ المباني على جانبيه، ويعد هذا النوع من أكثر أشكال المدن انتشاراً بسبب :

- التوسع في العمران.
- قلة الازدحام المروري.
- سهولة معرفة الاتجاهات في المدينة.
- استيعاب أعداد سكانية أكبر.



2 - التخطيط الدائري :

وهو من أقدم وأفضل أشكال التخطيط لأنه يسهل الاتصال بين مركز المدينة والأطراف ومن المدن الدائرية لندن في بريطانيا، وباريس في فرنسا.



1 - التخطيط الشبكي :

وهو أن شكل المدينة بشوارعها تشبه رقعة الشطرنج مثال عليها مدينة أبوظبي في دولة الإمارات.

1- العنوان الرئيسي للشكل التالي هو :

- أ - أشكال تخطيط المدن
ج - التخطيط الشريطي

- ب - التخطيط الشبكي
د - التخطيط الدائري

2 - من أشكال تخطيط المدن :

- أ - التخطيط الشبكي
ج - التخطيط الشريطي

- ب - التخطيط الدائري
د - جميع ما سبق

3 - تخطيط شوارعها تشبه رقعة الشطرنج :

- أ - التخطيط الشبكي
ج - التخطيط الدائري

- ب - التخطيط الشريطي
د - ليس مما سبق

4 - من أقدم وأفضل أشكال التخطيط :

- أ - التخطيط الشبكي
ب - التخطيط الدائري
ج - التخطيط الشريطي
د - جميع ما سبق

5 - من مميزات وأسباب كثرة التخطيط الشريطي :

- أ - يستوعب عدد سكان أكثر
ب - يسهل معرفة الاتجاهات في المدينة
ج - يؤدي إلى قلة الإزدحام المروري
د - جميع ما سبق

6 - تعتبر من المدن ذات التخطيط الدائري :

- أ - أبوظبي
ب - دبي
ج - لندن
د - مسقط

7 - تعتبر أبوظبي من المدن ذات التخطيط :

- أ - الدائري
ب - الشبكي
ج - الشريطي
د - ليس مما سبق

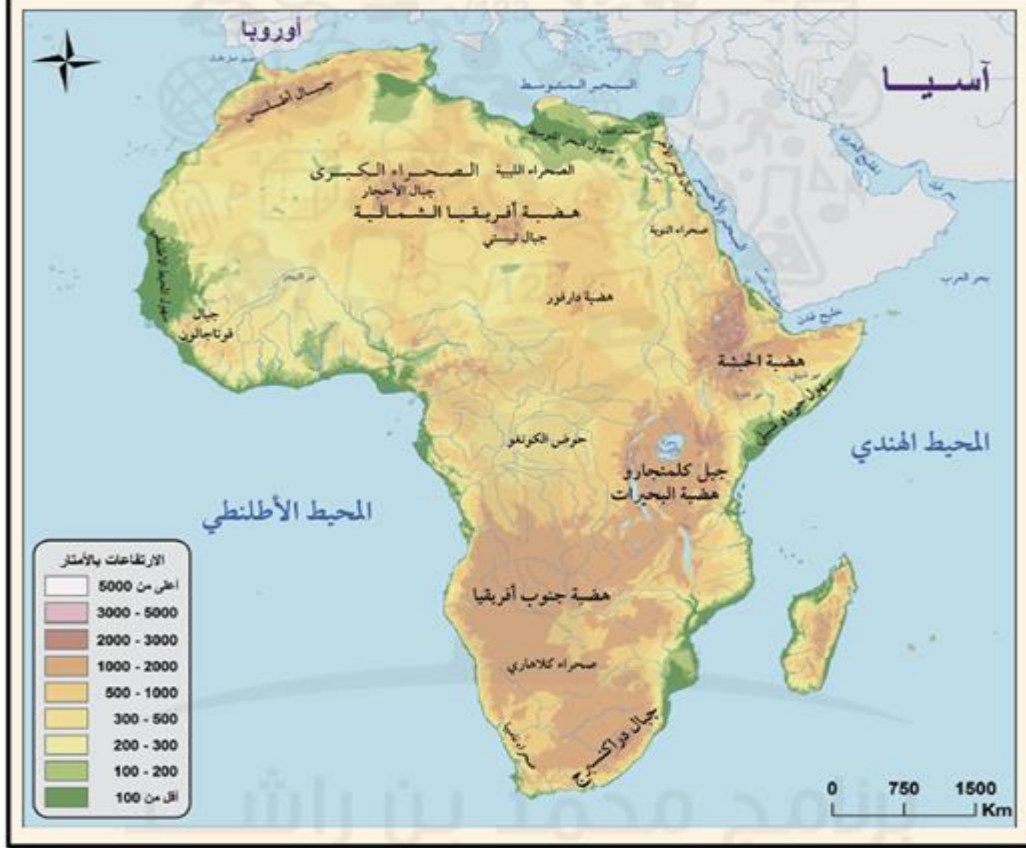
8 - شكل من أشكال تخطيط المدن يسهل الاتصال بين مركز المدينة وأطرافها :

- أ - التخطيط الدائري
ب - التخطيط الشبكي
ج - التخطيط الشريطي
د - الشريطي والشبكي معاً

9 - تقع باريس في :

- أ - دولة الإمارات
ب - بريطانيا
ج - فرنسا
د - الكويت

□ ألاحظ خريطة تضاريس قارة أفريقيا، وأجيب عن الأسئلة الآتية:



1 - من المسطحات المائية المحيطة بالقارة الأفريقية :

- أ - المحيط الهندي
 ب - المحيط الأطلسي
 ج - البحر الأحمر والبحر المتوسط
 د - جميع ما سبق

2 - من الهضاب الواقعة في شمال القارة :

- أ - هضبة أفريقيا الشمالية
 ب - هضبة جنوب أفريقيا
 ج - هضبة الحبشة
 د - هضبة البحيرات

3 - الجبال الواقعة شمال غرب قارة أفريقيا :

- أ - جبال دراكنسبرج
 ب - جبال أطلس
 ج - جبال البحر الأحمر
 د - جبال كلمنجارو

انظر للشكل والمعلومات المصاحبة له ومن ثم أجب عن الأسئلة التي تليه :

السياحة البيئية في الإمارات تجتذب عشاق الطبيعة

يقدر عشاق الطبيعة بالملايين حول العالم من الباحثين عن الجمال الطبيعي، الأمر الذي دفع وزارة التغير المناخي والبيئة إلى اعتماد عدد من مواقع السياحة البيئية لتكون وجهة مثالية جاذبة للعديد من محبي الطبيعة والباحثين والمتخصصين.

2018 

الإعلان عن المشروع الوطني «كنوز الطبيعة في الإمارات»

85  موقعاً طبيعياً جديداً تمت إضافتها مؤخراً

48  محمية معززة بمواد فيلمية وصور وخرائط

8  مواقع أثرية ومعالم تاريخية برية

3  مراحل للمشروع الوطني للسياحة البيئية في الإمارات

5  حدائق على مستوى الدولة

41  موقعاً طبيعياً موزعاً ما بين البري والبحري الخاص بالغوص

31  منتجعاً وفندقاً تطابق معايير السياحة البيئية

إعداد: شيرين فاروق - غرافيك: أسيل الخليبي

البيان

1 - في عام 2018 تم الإعلان عن

المشروع الوطني :

أ - السياحة البيئية

ب - عشاق الطبيعة

ج - المحميات الطبيعية

د - كنوز الطبيعة في الإمارات

2 - كم مرحله مر بها المشروع ؟

أ - مرحله

ب - مرحلتين

ج - 3 مراحل

د - 4 مراحل

3 - ما الذي يمثله الرقم 5 ؟

أ - مواقع أثرية ومعالم تاريخية برية

ج - مواقع طبيعية جديدة تمت إضافتها مؤخراً

ب - حدائق على مستوى الدولة

د - ليس مما سبق

4 - الصحيفة التي عرضت الموضوع هي صحيفة :

أ - البيان

ج - الاتحاد

ب - الخليج

ليس مما سبق

انظر للشكل والمعلومات المصاحبة له ومن ثم أجب عن الأسئلة التي تليه :

رَجُلُ العام	جوائز عَظُرَتْ مَسِيرَةَ المَغْفورِ لَهُ - يَازِنُ اللهُ - الشَّيْخُ زَايِدُ بِنِ سُلْطَانَ آلِ نَهْيَانَ - رَحِمَهُ اللهُ.	الوِثِيقَةُ الذَّهَبِيَّةُ
مَنَحَتْهَا لَهُ لِمَرَّتَيْنِ هَيْئَةُ (رَجُلِ العام) في بَارِيَسَ، عامَ 1988م و1998م.		مَنَحَتْهَا لَهُ المُنْظَمَةُ الدَّوْلِيَّةُ لِلْأَجَانِبِ في جَنيفِ عامَ 1985م.
شَخْصِيَّةُ العَالِمِ الإِسْلَامِيَّةُ		وَشَاحِ الإِنْمَاءِ وَالتَّنْمِيَةِ
مَنَحَتْهَا لَجَنَةُ جَائِزَةِ دُبَيِّ الدَّوْلِيَّةِ لِلْقُرْآنِ الكَرِيمِ عامَ 1999م.		مَنَحَتْهَا لَهُ جَامِعَةُ الدَّوْلِ العَرَبِيَّةِ عامَ 1993م.
مِيدَالِيَةِ اليَوْمِ العَالَمِيِّ لِلأَعْذِيَةِ		الْوَسَامُ الذَّهَبِيُّ لِلتَّارِيخِ العَرَبِيِّ
مَنَحَتْهَا مُنْظَمَةُ الأَعْذِيَةِ وَالزَّرَاعَةِ (الفاو) عامَ 2001م.		مَنَحَتْهُ لَهُ جَمْعِيَّةُ المَوْرُخِيْنَ المَغَارِبَةِ عامَ 1995م.
أَبطالُ الأَرْضِ	دِرْعُ العَمَلِ	
مَنَحَهَا لَهُ بَرنامِجُ الأُمَمِ المُتَّحِدَةِ لِلبِيئَةِ عامَ 2005م.	مَنَحَتْهُ لَهُ مُنْظَمَةُ العَمَلِ العَرَبِيَّةِ عامَ 1996م.	

1 - صاحب هذه الصورة هو الشيخ :

- أ - محمد بن زايد حفظه الله
ب - زايد بن سلطان رحمه الله
ج - خليفة بن زايد رحمه الله
د - محمد بن راشد حفظه الله

2 - حصل على درع العمل في عام :

- أ - 1993 م
ب - 1995 م
ج - 1996 م
د - 2001 م

3 - ما الذي حصل عليه في عام 1995 م ؟

- أ - الوسام الذهبي للتاريخ العربي
ب - الوثيقة الذهبية
ج - أبطال الأرض
د - رجل العام

انظر للصور والمعلومات المصاحبة لها ومن ثم أجب عن الأسئلة التي تليها :

أنواع الأسواق:



الأسواق الإلكترونية :

وهي التي يتم التعامل بها عن طريق الإنترنت.
لها مميزات ولها مساوى.

**الأسواق التجارية
(المراكز التجارية) :**

وفرت الدولة العديد من المراكز التجارية (المولات) التي تتوفر فيها البضائع المتنوعة والأطعمة والألعاب.





الأسواق الشعبية :

لكل بلد يوجد به سوق شعبي يحكي قصة البلاد وتاريخها الاقتصادي والاجتماعي والثقافي.

1 - سوق يحكي قصة البلاد وتاريخها الاقتصادي والاجتماعي والثقافي :

أ - الأسواق التجارية

ب - الأسواق الشعبية

ج - الأسواق الإلكترونية

د - ليس مما سبق

2 - المراكز التجارية هي المولات :

أ - صح

ب - خطأ

3 - الأسواق الإلكترونية :

أ - لها مميزات فقط

ب - لها مساوى فقط

ج - لها مميزات ومساوى

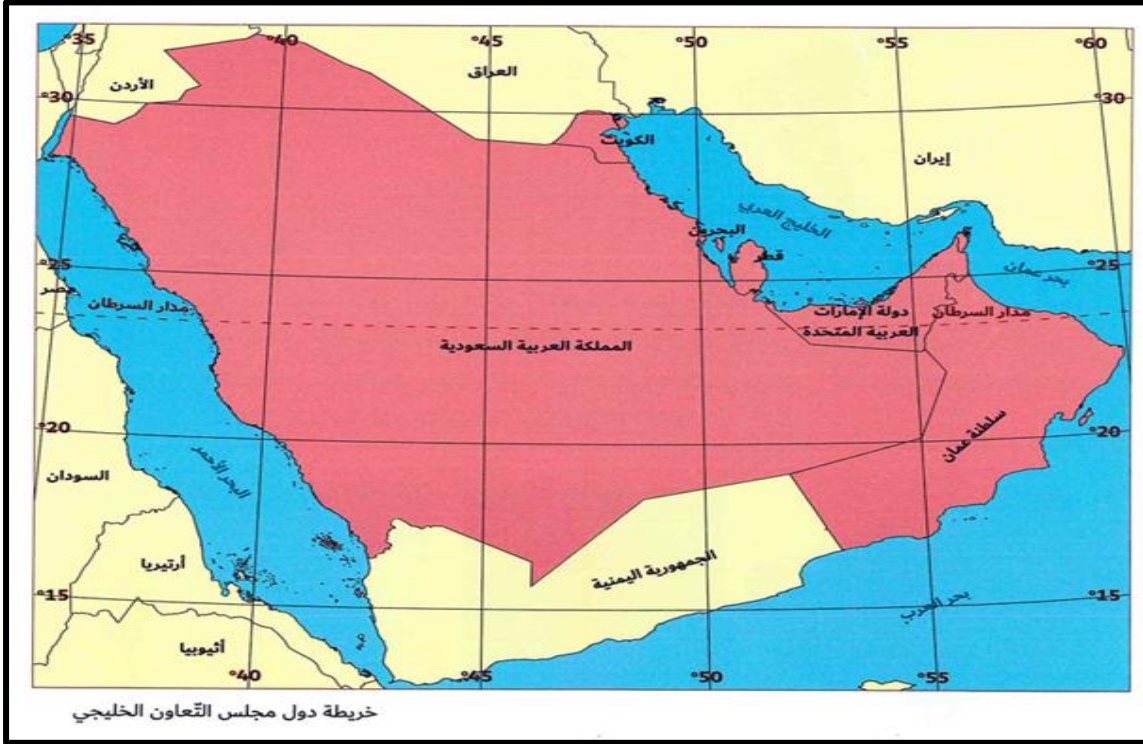
د - ليس مما سبق

4 - الصورة توضح أنواع الأسواق :

أ - صح

ب - خطأ

انظر للخريط وأجب عن الأسئلة التي تليها :



1 - خطوط الطول ودوائر العرض هي خطوط وهمية لا ترى بالعين المجردة.
أ - صح
ب - خطأ

2 - الدائرة العرضية التي تمر وسط دولة الإمارات :
أ - مدار الجدي
ب - خط الاستواء
ج - مدار السرطان
د - خط غرينتش

3 - مسطح مائي تطل عليه مملكة البحرين :
أ - البحر الأحمر
ب - البحر المتوسط
ج - بحر عمان
د - الخليج العربي

4 - تدل الصورة على خريطة :
أ - دولة الإمارات
ب - دول مجلس التعاون الخليجي
ج - المملكة العربية السعودية
د - سلطنة عمان

أَمَعِنِ النَّظَرَ فِي الْجَدُولِ، ثُمَّ اخْتَرِ الْإِجَابَةَ الصَّحِيحَةَ.

المَدُنُ الْإِسْلَامِيَّةُ الْخَالِدَةُ:

مؤسسُ المدينةِ	البلدُ	العصرُ	المَدُنُ
سَعْدُ بْنُ أَبِي وَقَاصٍ	العِرَاقُ	الرَّاشِدِيُّ	الكُوفَةُ
حَسَّانُ بْنُ النُّعْمَانِ	تُونِسُ	الْأُمَوِيُّ	تُونِسُ
جَوْهَرُ الصَّقَلِيِّ	مِصْرُ	الْفَاطِمِيُّ	القَاهِرَةُ

1 - المدينة التي أنشأت في العصر الأموي هي :

ب - تونس

د - العراق

أ - الكوفة

ج - القاهرة

2 - مؤسس مدينة القاهرة هو :

ب - حسان بن النعمان

د - ليس مما ذكر

أ - سعد بن أبي وقاص

ج - جوهر الصقلي

3 - أنشأت الكوفة في العصر :

ب - الفاطمي

د - العباسي

أ - الراشدي

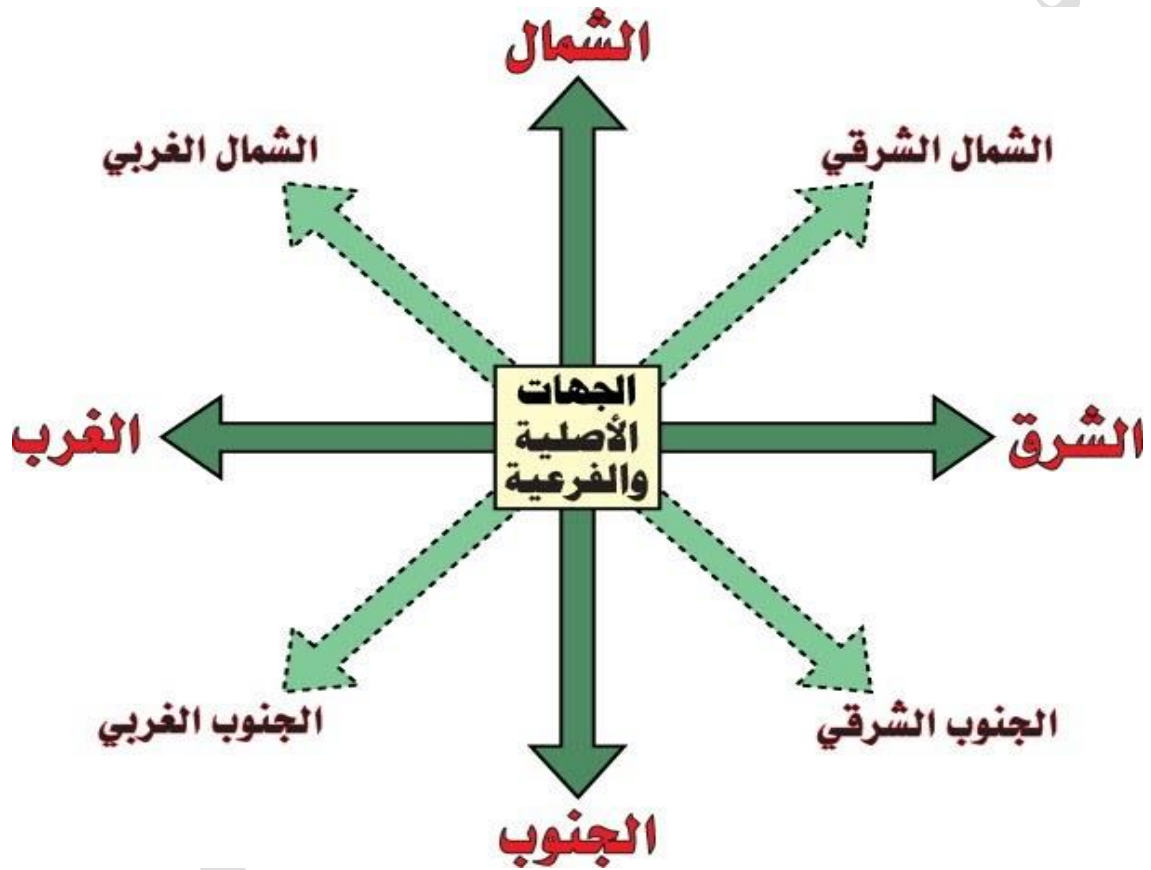
ج - الأموي

4 - توجد مدينة الكوفة في مصر.

ب - خطأ

أ - صح

في النهاية أتمنى من الطلاب التركيز ومعرفة الجهات الأصلية والجهات الفرعية ..



انتهت الأسئلة موفقين بإذنه تعالى

السؤال الرابع
ب - الجلاف
ج - السفن التقليدية
أ - مهندس السفن
ب - عمل جماعي
ج الجبال
أ - صح
ب - قماس
ج. العريقة
أ - الفتايل

السؤال الخامس
ج - سوق العرصة
ب - الشارقة
ب - قلب الشارقة
ج - الخشب
أ - صح
د - الفوانيس
ج - 70
ب - سلال مصنوعة من السعف
أ - ستة آلاف

السؤال السادس
أ - صح
ب - المعمر
ج - 6 ملايين
ب - خطأ
ب - الفقع

الإجابات

السؤال الأول
ج - السبعينات
ب- القمر
ج - الكبيرة
د - القمر الصناعي خليفه سات
أ - محمد بن زايد حفظه الله
أ - صح
100%
ب - تكنولوجياً

السؤال الثاني
أ - صناعة السفن الخشبية
د - جميع ماسبق
ب - خطأ
ج - الساحليه
د - مهندس السفن
ب - خشب الساج
أ - السمك واللؤلؤ
ج - البعيدة والقريبة

السؤال الثالث
ب - طموح زايد يعانق الفضاء
ج - 2019 م
أ. هزاع المنصوري
د - 8 - أيام
أ - الأولى
أ - خيال
ب - فضاء
ب - 35 سنه

السؤال الحادي عشر
ب - زايد بن سلطان رحمه الله
ج - 1996 م
أ - الوسام الذهبي للتاريخ العربي

السؤال الثاني عشر
ب - الأسواق الشعبية
أ - صح
ج - لها مميزات ومساوئ
أ - صح

السؤال الثالث عشر
أ - صح
ج - مدار السرطان
د - الخليج العربي
ب - دول مجلس التعاون الخليجي

السؤال الرابع عشر
ب - تونس
ج - جواهر الصقلي
أ - الراشدي
ب - خطأ

السؤال السابع
أ - الأخشاب
ب - الجالبوت
ج - البغلة
أ - صح
ب - ألجوم
أ - الشراع
ب - خطأ
أ - صح

السؤال الثامن
أ - أشكال تخطيط المدن
د - جميع ما سبق
أ - التخطيط الشبكي
ب - التخطيط الدائري
د - جميع ما سبق
ج - لندن
ب - الشبكي
أ - التخطيط الدائري
ج - فرنسا

السؤال التاسع
د - جميع ما سبق
أ - هضبة أفريقيا الشمالية
ب - جبال أطلس

السؤال العاشر
د - كنوز الطبيعة في الإمارات
ج - 3 مراحل
ب - حدائق على مستوى الدولة
أ - البيان