


تم تحميل هذا الملف من موقع المناهج الإماراتية



الملف أسئلة الامتحان النهائي الورقي ريفيل

[موقع المناهج](#) ← [المناهج الإماراتية](#) ← [الصف السادس](#) ← [رياضيات](#) ← [الفصل الثالث](#)

روابط مواقع التواصل الاجتماعي بحسب الصف السادس



روابط مواد الصف السادس على تلغرام

[الرياضيات](#)

[اللغة الانجليزية](#)

[اللغة العربية](#)

[التربية الاسلامية](#)

المزيد من الملفات بحسب الصف السادس والمادة رياضيات في الفصل الثالث

[حل أسئلة الامتحان النهائي الالكتروني ريفيل](#)

1

[حل أسئلة الامتحان النهائي الالكتروني بريدج بالتفصيل](#)

2

[أسئلة الامتحان النهائي الالكتروني بريدج](#)

3

[أسئلة الامتحان النهائي الورقي بريدج](#)

4

[حل أسئلة الاختبار التحريبي نخبة](#)

5

Paper Part الورقي الجزء

Show all your work when answering these questions. يجب كتابة خطوات الحل التفصيلية للمفردات الاختبارية كافة.

Question	1	السؤال
The hexagon shown consists of 2 congruent trapezoids.		الشكل السداسي المكوّن من 2 شبه منحرف متطابقين. أوجد مساحة الشكل السداسي ادناه.
Find the area of the hexagon below.		



تم تحميل هذا الملف من
موقع المناهج الاماراتية

alManahj.com/ae

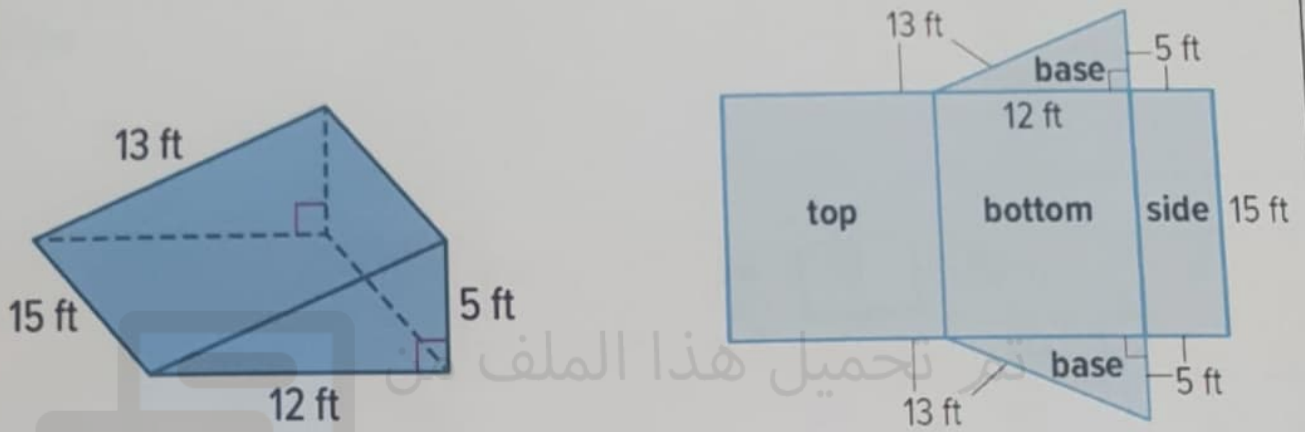
Question

2

السؤال

Find the surface area of the triangular prism shown.

أوجد مساحة سطح المنشور الثلاثي القاعدة الموضح .



موقع المناهج الإماراتية

alManahj.com/ae

السؤال

3

Question

Find the median and interquartile range for the data in the table below.

أوجد الوسيط والمدى الربيعي للبيانات في الجدول أدناه.

Number of texts per day

عدد الرسائل النصية في اليوم

14	51	30	12	36	19	25
----	----	----	----	----	----	----

موقع المناهج الإماراتية

alManahj.com/ae

***** BONUS *****

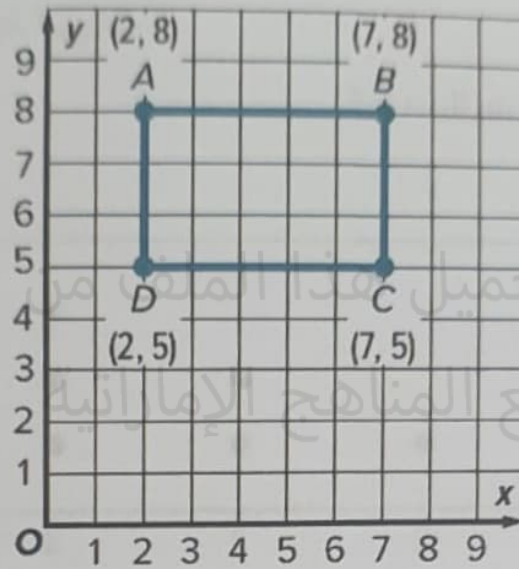
Question

4

السؤال

Use the coordinates to find the area of the rectangle.

استخدم الإحداثيات لإيجاد مساحة المستطيل.



تم تحميل هذا الملف من موقع المناهج الإماراتية
alManahj.com/ae

***** BONUS *****

Question

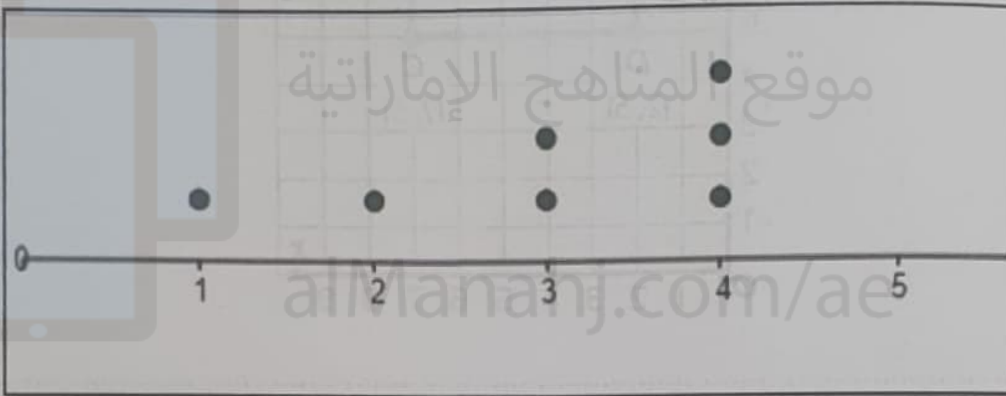
5

السؤال

The dot plot graphed below shows scores of 7 students on a short test.

Find the mean and the median of the students' scores.

يبيّن مخطط النقاط المجمعة الموضح أدناه درجات 7 طلاب في اختبار قصير. أوجد المتوسط الحسابي و الوسيط لدرجات الطلاب.



تم تحميل هذا الملف من

موقع المناهج الإماراتية

alManana.com/ae