

تم تحميل هذا الملف من موقع المناهج الإماراتية

الملف المراجعة العامة الأولى

[موقع المناهج](#) ⇨ [المناهج الإماراتية](#) ⇨ [الصف السادس](#) ⇨ [اجتماعيات](#) ⇨ [الفصل الثالث](#)

روابط مواقع التواصل الاجتماعي بحسب الصف السادس

--	--	--	--

روابط مواد الصف السادس على تلغرام

الرياضيات	اللغة الانجليزية	اللغة العربية	التربية الاسلامية
---------------------------	----------------------------------	-------------------------------	-----------------------------------

المزيد من الملفات بحسب الصف السادس والمادة اجتماعيات في الفصل الثالث

أوراق عمل الفصل الثالث.	1
الفصل الثالث أوراق امتحان حول (اليابان)	2
مراجعة شاملة	3
الصف السادس وطنية حلول أسئلة الكتاب	4
أسئلة الاختبار المركزي القصير 2017	5

الصف السادس



أقرأ الفقرة الآتية الواردة في النص المجاور ثم أجب :

2 علامة

1-1

يعيش لموسم زراعي واحد

النبات الطبيعي

a.

النبات المعمر

b.

النبات الحولي

c.

النبات المزروع

d.

عَمَّر

2022

النباتات الحولية هي نباتات تعيش لسنة واحدة أو موسم زراعي واحد حيث تكمل دورة حياتها بفترة لا تتجاوز السنة تقوم خلالها بالإنتاش والنمو وتكوين البذور وتتجدد زراعتها سنوياً ولذلك سميت بالحوليات ومن الأمثلة عن النباتات الحولية القمح والشعير والشوفان والأرز والذرة والفاول وفول الصويا والحمص والبازلاء. تتمتع الإمارات العربية المتحدة بمناخ دافئ طوال العام، كما إنها الشتاء مدته أقل، ويوجد بها العديد من أنواع النباتات التي تتلاءم مع الجو الدافئ، والنبات الحولي له عدة أنواع منها :

النباتات الصحراوية

تلك النباتات التي تنمو في البيئة الصحراوية، والتي تشارك الرياح في نمو تلك النباتات، كما إنها تتميز بجذور تنتشر بشكل عرضي، وتغطي مساحة كبيرة عند الصفح الخاص بالكثبان الرمل ومن أمثلتها نبات الأرتي، ونبات الدغابيس، ونبات الطرثوث.

النباتات الحولية الجبلية

هي تلك النباتات التي تنمو في الجبال، وتناسبها البيئة الجبلية، بغض النظر عن الرطوبة او العوامل الجوية كونها موسمية، ومن بينها نبات الحميض، ونبات الكوثر.

هناك العديد من النقاط التي تسلط الضوء على اهتمام الإمارات بالحفاظ على البيئة الطبيعية والنباتات السنوية، ومن أهمها ما سنتحدث عنه الآن حول ما يبرز الاهتمام بالنباتات السنوية في الإمارات.

1. صدر أول قانون ينظم الصيد والحفاظ على الحياة البرية منذ 30 عامًا
2. إنشاء محميات طبيعية (للحفاظ على التوازن البيئي وحماية الحياة البيئية
3. سن قوانين تساهم في الحد من الآثار السلبية للانتهاكات البشرية على البيئة

أقرأ الفقرة الآتية الواردة في النص المجاور ثم أجب :

2 علامة

1-2

أي الجمل التالية تعبر عن اهتمام الدولة بالنبات الحولي

○

قانون ينظم الصيد البحري

a.

○

محميات طبيعية للحيوانات المنقرضة

b.

○

تشجيع الانتهاكات البشرية للحياة البرية

c.

○

صدر قانون تنظيم الصيد والحفاظ على الحياة البرية

d.

عَمَّر

2022

النباتات الحولية هي نباتات تعيش لسنة واحدة أو موسم زراعي واحد حيث تكمل دورة حياتها بفترة لا تتجاوز السنة تقوم خلالها بالإنتاش والنمو وتكوين البذور وتتجدد زراعتها سنوياً ولذلك سميت بالحوليات ومن الأمثلة عن النباتات الحولية القمح والشعير والشوفان والأرز والذرة والفاول وفول الصويا والحمص والبازلاء. تتمتع الإمارات العربية المتحدة بمناخ دافئ طوال العام، كما إنها الشتاء مدته أقل، ويوجد بها العديد من أنواع النباتات التي تتلاءم مع الجو الدافئ، والنبات الحولي له عدة أنواع منها :

النباتات الصحراوية

تلك النباتات التي تنمو في البيئة الصحراوية، والتي تشارك الرياح في نمو تلك النباتات، كما إنها تتميز بجذور تنتشر بشكل عرضي، وتغطي مساحة كبيرة عند الصفح الخاص بالكثبان الرمل ومن أمثلتها نبات الأرتطى، ونبات الدغابيس، ونبات الطرثوث.

النباتات الحولية الجبلية

هي تلك النباتات التي تنمو في الجبال، وتناسبها البيئة الجبلية، بغض النظر عن الرطوبة او العوامل الجوية كونها موسمية، ومن بينها نبات الحميض، ونبات الكوثر.

هناك العديد من النقاط التي تسلط الضوء على اهتمام الإمارات بالحفاظ على البيئة الطبيعية والنباتات السنوية ، ومن أهمها ما سنتحدث عنه الآن حول ما يبرز الاهتمام بالنباتات السنوية في الإمارات.

1. صدر أول قانون ينظم الصيد والحفاظ على الحياة البرية منذ 30 عامًا
2. إنشاء محميات طبيعية (للحفاظ على التوازن البيئي وحماية الحياة البيئية
3. سن قوانين تساهم في الحد من الآثار السلبية للانتهاكات البشرية على البيئة

أقرأ الفقرة الآتية الواردة في النص المجاور ثم أجب :

2 علامة

1-3

من النباتات الصحراوية في الامارات

نبات الكوثر

a.

نبات الطرثوث

b.

نبات الحميض

c.

نبات السدر

d.

عَمَر

2022

النباتات الحولية هي نباتات تعيش لسنة واحدة أو موسم زراعي واحد حيث تكمل دورة حياتها بفترة لا تتجاوز السنة تقوم خلالها بالإنتاش والنمو وتكوين البذور وتتجدد زراعتها سنوياً ولذلك سميت بالحوليات ومن الأمثلة عن النباتات الحولية القمح والشعير والشوفان والأرز والذرة والفاول وفول الصويا والحمص والبازلاء. تتمتع الإمارات العربية المتحدة بمناخ دافئ طوال العام، كما إنها الشتاء مدته أقل، ويوجد بها العديد من أنواع النباتات التي تتلاءم مع الجو الدافئ، والنبات الحولي له عدة أنواع منها :
النباتات الصحراوية

تلك النباتات التي تنمو في البيئة الصحراوية، والتي تشارك الرياح في نمو تلك النباتات، كما إنها تتميز بجذور تنتشر بشكل عرضي، وتغطي مساحة كبيرة عند الصفح الخاص بالكثبان الرمل ومن أمثلتها نبات الأرتي، ونبات الدغابيس، ونبات الطرثوث.

النباتات الحولية الجبلية

هي تلك النباتات التي تنمو في الجبال، وتناسبها البيئة الجبلية، بغض النظر عن الرطوبة او العوامل الجوية كونها موسمية، ومن بينها نبات الحميض، ونبات الكوثر.

هناك العديد من النقاط التي تسلط الضوء على اهتمام الإمارات بالحفاظ على البيئة الطبيعية والنباتات السنوية ، ومن أهمها ما سنتحدث عنه الآن حول ما يبرز الاهتمام بالنباتات السنوية في الإمارات.

1. صدر أول قانون ينظم الصيد والحفاظ على الحياة البرية منذ 30 عامًا
2. إنشاء محميات طبيعية (للحفاظ على التوازن البيئي وحماية الحياة البيئية
3. سن قوانين تساهم في الحد من الآثار السلبية للانتهاكات البشرية على البيئة

أقرأ الفقرة الآتية الواردة في النص المجاور ثم أجب :

2 علامة

1-4

من العوامل المساعدة على نمو النبات الطبيعي الحولي في الدولة

a. الجو القطبي البارد والماطر

b. الجو الحار والجفاف

c. الشتاء البارد والطويل

d. المناخ الدافئ طوال العام

عَمَّر

2022

النباتات الحولية هي نباتات تعيش لسنة واحدة أو موسم زراعي واحد حيث تكمل دورة حياتها بفترة لا تتجاوز السنة تقوم خلالها بالإنتاش والنمو وتكوين البذور وتتجدد زراعتها سنوياً ولذلك سميت بالحوليات ومن الأمثلة عن النباتات الحولية القمح والشعير والشوفان والأرز والذرة والفاول وفاول الصويا والحمص والبازلاء. تتمتع الإمارات العربية المتحدة بمناخ دافئ طوال العام، كما إنها الشتاء مدته أقل، ويوجد بها العديد من أنواع النباتات التي تتلاءم مع الجو الدافئ، والنبات الحولي له عدة أنواع منها :
النباتات الصحراوية

تلك النباتات التي تنمو في البيئة الصحراوية، والتي تشارك الرياح في نمو تلك النباتات، كما إنها تتميز بجذور تنتشر بشكل عرضي، وتغطي مساحة كبيرة عند الصفح الخاص بالكثبان الرمل ومن أمثلتها نبات الأرتطى، ونبات الدغابيس، ونبات الطرثوث.

النباتات الحولية الجبلية

هي تلك النباتات التي تنمو في الجبال، وتناسبها البيئة الجبلية، بغض النظر عن الرطوبة او العوامل الجوية كونها موسمية، ومن بينها نبات الحميض، ونبات الكوثر.

هناك العديد من النقاط التي تسلط الضوء على اهتمام الإمارات بالحفاظ على البيئة الطبيعية والنباتات السنوية ، ومن أهمها ما سنتحدث عنه الآن حول ما يبرز الاهتمام بالنباتات السنوية في الإمارات.

1. صدر أول قانون ينظم الصيد والحفاظ على الحياة البرية منذ 30 عاماً
2. إنشاء محميات طبيعية (للحفاظ على التوازن البيئي وحماية الحياة البيئية
3. سن قوانين تساهم في الحد من الآثار السلبية للانتهاكات البشرية على البيئة

أقرأ الفقرة الآتية الواردة في النص المجاور ثم أجب :

2 علامة

1-5

من الحقائق التي يمكن استخلاصها من الفقرة

جذور النباتات الصحراوية تنتشر بشكل رأسي

a.

جذور النباتات الصحراوية تنتشر بشكل عرضي

b.

نبات الدغابيس نبات جبلي

c.

الرياح لا تلعب دور في نمو النبات

d.

عَمَّر

2022

النباتات الحولية هي نباتات تعيش لسنة واحدة أو موسم زراعي واحد حيث تكمل دورة حياتها بفترة لا تتجاوز السنة تقوم خلالها بالإنتاش والنمو وتكوين البذور وتتجدد زراعتها سنوياً ولذلك سميت بالحوليات ومن الأمثلة عن النباتات الحولية القمح والشعير والشوفان والأرز والذرة والفاول وفول الصويا والحمص والبازلاء. تتمتع الإمارات العربية المتحدة بمناخ دافئ طوال العام، كما إنها الشتاء مدته أقل، ويوجد بها العديد من أنواع النباتات التي تتلاءم مع الجو الدافئ، والنبات الحولي له عدة أنواع منها :
النباتات الصحراوية

تلك النباتات التي تنمو في البيئة الصحراوية، والتي تشارك الرياح في نمو تلك النباتات، كما إنها تتميز بجذور تنتشر بشكل عرضي، وتغطي مساحة كبيرة عند الصفح الخاص بالكثبان الرمل ومن أمثلتها نبات الأرتطي، ونبات الدغابيس، ونبات الطرثوث.

النباتات الحولية الجبلية

هي تلك النباتات التي تنمو في الجبال، وتناسبها البيئة الجبلية، بغض النظر عن الرطوبة او العوامل الجوية كونها موسمية، ومن بينها نبات الحميض، ونبات الكوثر.

هناك العديد من النقاط التي تسلط الضوء على اهتمام الإمارات بالحفاظ على البيئة الطبيعية والنباتات السنوية ، ومن أهمها ما سنتحدث عنه الآن حول ما يبرز الاهتمام بالنباتات السنوية في الإمارات.

1. صدر أول قانون ينظم الصيد والحفاظ على الحياة البرية منذ 30 عامًا
2. إنشاء محميات طبيعية (للحفاظ على التوازن البيئي وحماية الحياة البيئية
3. سن قوانين تساهم في الحد من الآثار السلبية للانتهاكات البشرية على البيئة

أقرأ الفقرة و الشكل الوارد ثم أجب :

2 علامة

2-1

نبات الحماض هو نبات حولي

0

ساحلي

a.

0

صحراوي

b.

0

جبلي

c.

0

داخلي

d.

أنواع النباتات الطبيعي في دولة الإمارات العربيّة المتّحدة



النباتات الحولية



النباتات المعمرة

أهميّة النباتات الحوليّة

مصدر للطاقة
والتدفئة

مصدر للدواء
والعلاج

غذاء ومرعى
للحيوانات

غذاء للإنسان

عشبٌ حوليٌّ غَضُّ طوله حَوالَيَّ 25

سم، الأوراقُ بسيطةٌ مثلثةُ الشَّكْلِ،

ينمو على المُسَطَّحاتِ ذاتِ التُّربةِ

الخَصْبَةِ، كما يوجدُ على سفوحِ

الجبالِ. و«الحمّاضُ» نبتةٌ مُحبِّبةٌ في دولة الإمارات العربيّة المتّحدة؛

حيثُ يتسابقُ المواطنون في فصلِ الرَّبيعِ إلى جَمِيعِها وأكلِها. وتُستخدمُ

كذلك في الطبِّ الشَّعبيِّ لِعلاجِ بعضِ الأمراضِ.

الحمّاضُ:



عُمَرُ

2022

أقرأ الفقرة و الشكل الوارد ثم أجب :

2 علامة

2-2

أي من التالي تعتبر من فوائد النبات الحولي

0

خشب الأثاث المنزلي

a.

0

الطب الشعبي

b.

0

الصناعات الثقيلة

c.

0

ظل للحيوانات

d.

أنواع النبات الطبيعي في دولة الإمارات العربيّة المتّحدة



النباتات الحولية



النباتات المعمرة

أهميّة النباتات الحوليّة

مصدر للطاقة
والتدفئة

مصدر للدواء
والعلاج

غذاء ومرعى
للحيوانات

غذاء للإنسان

عشب حوليّ غصّ طوله حوالي 25

سم، الأوراق بسيطة مثلثة الشّكل،

ينمو على المسطّحات ذات التّربة

الخّصبية، كما يوجد على سفوح

الجبال. و«الحماض» نبتة مَحَبَّبة في دولة الإمارات العربيّة المتّحدة؛

حيثُ يتسابقُ المواطنون في فصلِ الرّبيع إلى جمعيها وأكلها. وتُستخدمُ

كذلك في الطبّ الشّعبيّ لعلاج بعض الأمراض.

الحماض:



عُمَر

2022

أقرأ الفقرة و الشكل الوارد ثم أجب :

2 علامة

2-3

يحتاج نبات الحماض إلى

0

تربة جافة

a.

0

تربة خصبة

b.

0

تربة نهريّة

c.

0

تربة مالحة

d.



عشبٌ حوليٌّ غَضُّ طوله حَوالَي 25

سم، الأوراقُ بسيطةٌ مثلثةُ الشَّكْلِ،

ينمو على المُسَطَّحاتِ ذاتِ التُّربةِ

الخصبة، كما يوجدُ على سفوحِ

الجبالِ. و«الحمّاض» نبتةٌ مُحبّبةٌ في دولة الإمارات العربيّة المتّحدة؛

حيثُ يتسابقُ المواطنون في فصلِ الرَّبيعِ إلى جمعيها وأكلها. وتُستخدمُ

كذلك في الطبِّ الشَّعبيِّ لعلاجِ بعضِ الأمراضِ.

الحمّاض:



أقرأ الفقرة و الشكل الوارد ثم أجب :

2 علامة

2-4

من التعاميم الواردة في الشكل والفقرة

a. الحماض نبات حولي طوله 25سم

b. الحماض يوجد في دولة الإمارات

c. الحماض نبتة محببة في دولة الامارات

d. الحماض مصدر للطاقة والتدفئة فقط

أنواع النباتات الطبيعي في دولة الإمارات العربيّة المتّحدة



النباتات الحولية



النباتات المعمرة

أهميّة النباتات الحوليّة

مصدر للطاقة والتدفئة

مصدر للدواء والعلاج

غذاء ومرعى للحيوانات

غذاء للإنسان

عشبٌ حوليٌّ غَضُّ طوله حَوالَيَّ 25

سم، الأوراقُ بسيطةٌ مثلثةُ الشَّكْلِ،

ينمو على المُسَطَّحاتِ ذاتِ التُّربةِ

الخَصْبَةِ، كما يوجدُ على سفوح

الجبالي. و«الحمّاض» نبتةٌ مُحِبِّبةٌ في دولة الإمارات العربيّة المتّحدة؛

حيثُ يتسابقُ المواطنون في فصلِ الرَّبيعِ إلى جَمِيعِها وأَكلِها. وتُستخدمُ

كذلك في الطبِّ الشَّعبيِّ لِعِلاجِ بَعْضِ الأَمراضِ.

الحمّاض:



عَمَرُ

2022

أقرأ الفقرة و الشكل الوارد ثم أجب :

2 علامة

2-5

الطب الشعبي يعتمد على

○

النبات المزروع

a.

○

النباتات العشبية الحولية

b.

○

النباتات المائية

c.

○

الأدوية الكيميائية

d.



عشبٌ حوليٌّ غَضُّ طوله حواليّ 25 سم، الأوراقُ بسيطةٌ مثلثةُ الشَّكْلِ، ينمو على المُسَطَّحاتِ ذاتِ التُّربةِ الخَصْبَةِ، كما يوجدُ على سفوحِ الجبالِ. و«الحماضُ» نبتةٌ مُحبِّبةٌ في دولة الإمارات العربيّة المتّحدة؛ حيثُ يتسابقُ المواطنون في فصلِ الرَّبيعِ إلى جَمْعِها وأكلِها. وتُستخدمُ كذلكُ في الطبِّ الشَّعبيِّ لِعلاجِ بعضِ الأمراضِ.



أقرأ الشكل الوارد ثم أجب :

2 علامة

3-1

نسبة الزيادة السنوية في سوق الأدوية هي

90%

70%

20%

60%

a.

b.

c.

d.



أقرأ الشكل الوارد ثم أجب :

2 علامة

3-2

70% من الادوية الحديثة مستحدث من أصل

عضوي

طبيعي

صناعي

مزروع



أقرأ الشكل الوارد ثم أجب :

2 علامة

3-3

نسبة النباتات الطبية التي لا تستخدم علاج الامراض
في الوطن العربي هي

20%

a.

80%

b.

60%

c.

25%

d.



أقرأ الشكل الوارد ثم أجب :

2 علامة

3-4

ما العنوان المناسب للشكل

مقارنة بين الأدوية الكيميائية
والاعشاب

دراسة رقمية حول الأعشاب الطبية

النبات الحولي

الطب الحديث والطب القديم



أقرأ الشكل الوارد ثم أجب :

2 علامة

3-5

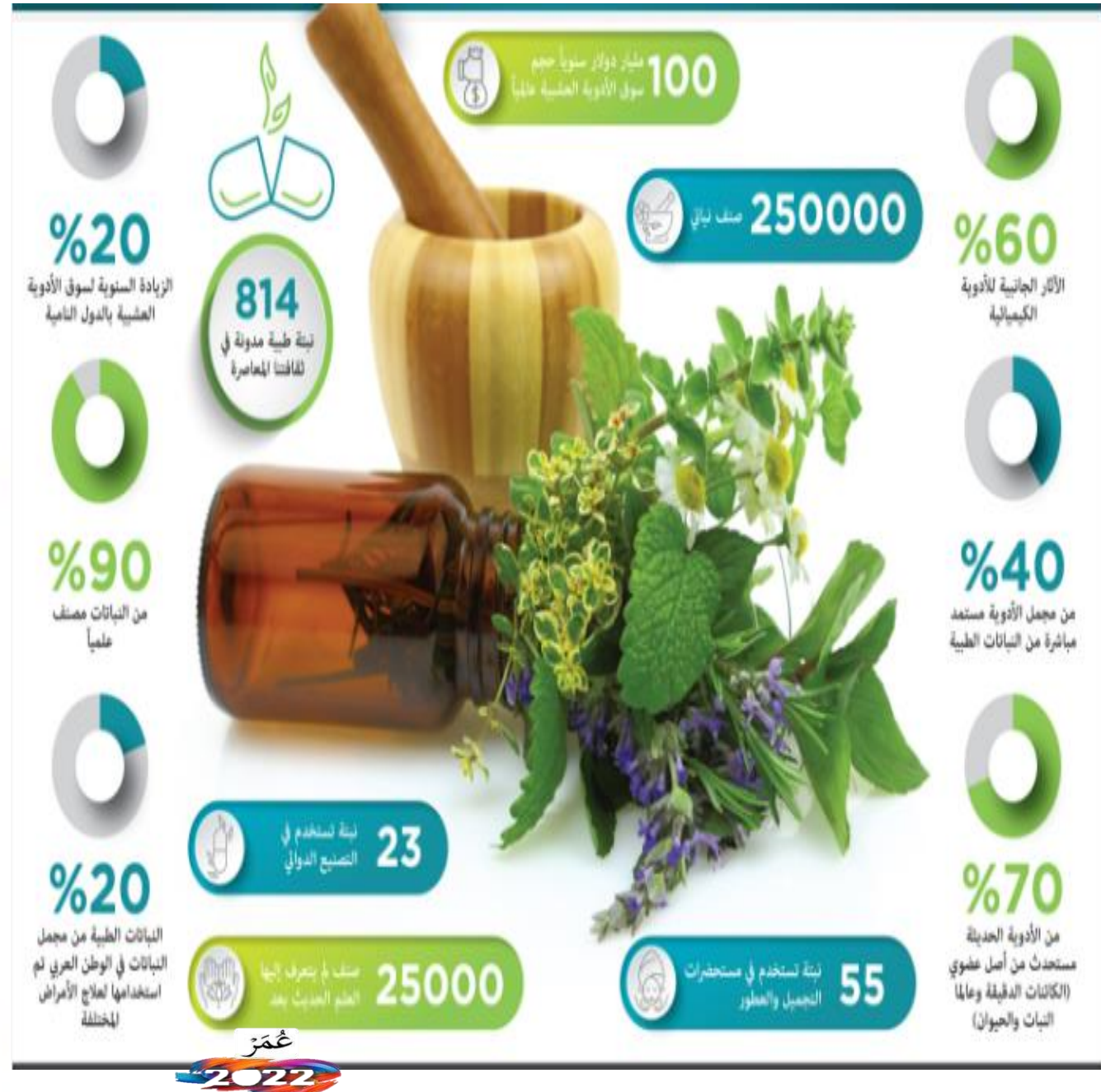
عند الحديث عن الآثار السلبية أيهما أكثر

الأدوية الكيميائية أكثر

الأعشاب الطبية أكثر

هناك نفس الآثار

الأدوية الكيميائية أقل



أقرأ الشكل الوارد ثم أجب :

2 علامة

4-1

صنفت الامارات من حيث الشراكة مع اليابان في

0

المرتبة العاشرة

a.

0

المرتبة التاسعة

b.

0

المرتبة الثامنة

c.

0

المرتبة السابعة

d.



التبادل التجاري بين الإمارات واليابان

خمسون عاماً من الإنجاز

23%

من إجمالي متطلبات
اليابان النفطية
توفرها الإمارات

أرقام تجارية تعكس
العلاقات القوية بين البلدين
الإمارات عاشر أكبر شريك
تجاري لليابان عالمياً في 2021

26
مليار دولار
صادرات إماراتية

6.5
مليار دولار
صادرات يابانية

30.5
مليار دولار
تبادل تجاري في
2021

340
شركة يابانية
تعمل بالإمارات

4
مليارات دولار
إجمالي الاستثمارات
اليابانية المباشرة في
الإمارات 2021

2.1
مليار دولار
الاستثمارات الإماراتية
في اليابان نهاية العام
الماضي



أقرأ الشكل الوارد ثم أجب :

2 علامة

4-2

في ضوء الأرقام الواردة في الشكل يكون الميزان التجاري بين اليابان والامارات

0

متوازن

a.

0

لصالح اليابان

b.

0

لصالح الامارات

c.

0

متذبذب

d.



التبادل التجاري بين الإمارات واليابان

خمسون عاماً من الإنجاز

23%

من إجمالي متطلبات اليابان النفطية توفرها الإمارات

أرقام تجارية تعكس العلاقات القوية بين البلدين الإمارات عاشر أكبر شريك تجاري لليابان عالمياً في 2021

26 مليار دولار صادرات إماراتية

6.5 مليار دولار صادرات يابانية

30.5 مليار دولار تبادل تجاري في 2021

340 شركة يابانية تعمل بالإمارات

4 مليارات دولار إجمالي الاستثمارات اليابانية المباشرة في الإمارات 2021

2.1 مليار دولار الاستثمارات الإماراتية في اليابان نهاية العام الماضي



www.aicdn.com

أقرأ الشكل الوارد ثم أجب :

2 علامة

4-3

أهم الصادرات الإماراتية إلى اليابان

0

الغاز

a.

0

النحاس

b.

0

السيارات

c.

0

النفط

d.



التبادل التجاري بين الإمارات واليابان

خمسون عاماً من الإنجاز

23%

من إجمالي متطلبات اليابان النفطية توفرها الإمارات

أرقام تجارية تعكس العلاقات القوية بين البلدين الإمارات عاشر أكبر شريك تجاري لليابان عالمياً في 2021

26 مليار دولار صادرات إماراتية

6.5 مليار دولار صادرات يابانية

30.5 مليار دولار تبادل تجاري في 2021

340 شركة يابانية تعمل بالإمارات

4 مليارات دولار إجمالي الاستثمارات اليابانية المباشرة في الإمارات 2021

2.1 مليار دولار

الاستثمارات الإماراتية في اليابان نهاية العام الماضي



أقرأ الشكل الوارد ثم أجب :

2 علامة

4-4

تبلغ الفروق الرقمية في الاستثمارات بين اليابان ودولة الإمارات حوالي

0

1.9 مليار دولار

a.

0

30 مليار دولار

b.

0

2.1 مليار دولار

c.

0

4 مليار دولار

d.



التبادل التجاري بين الإمارات واليابان

خمسون عاماً من الإنجاز

23%

من إجمالي متطلبات اليابان النفطية توفرها الإمارات

أرقام تجارية تعكس العلاقات القوية بين البلدين الإمارات عاشر أكبر شريك تجاري لليابان عالمياً في 2021

26 مليار دولار صادرات إماراتية

6.5 مليار دولار صادرات يابانية

30.5 مليار دولار

تبادل تجاري في 2021

340 شركة يابانية تعمل بالإمارات

4 مليارات دولار إجمالي الاستثمارات اليابانية المباشرة في الإمارات 2021

2.1 مليار دولار

الاستثمارات الإماراتية في اليابان نهاية العام الماضي



أقرأ الشكل الوارد ثم أجب :

2 علامة

4-5

أي من العبارات التالية يمكن استثنائها من وصف
الشراكة الإماراتية اليابانية

0

تستورد الامارات النفط من اليابان

a.

0

هناك شركات يابانية في الامارات

b.

0

حجم التبادل التجاري بين الدولتين
30 مليار

c.

0

خمسون عام من العلاقات التجارية

d.



التبادل التجاري بين الإمارات واليابان

خمسون عاماً من الإنجاز

23%

من إجمالي متطلبات
اليابان النفطية
توفرها الإمارات

26

مليار دولار
صادرات إماراتية

6.5

مليار دولار
صادرات يابانية

30.5

مليار دولار

لتبادل تجاري في
2021

340

شركة يابانية
تعمل بالإمارات

4

مليارات دولار
إجمالي الاستثمارات
اليابانية المباشرة في
الإمارات 2021

2.1

مليار دولار
الاستثمارات الإماراتية
في اليابان نهاية العام
الماضي

أرقام تجارية تعكس
العلاقات القوية بين البلدين
الإمارات عاشر أكبر شريك
تجاري لليابان عالمياً في 2021



أقرأ الفقرة و الشكل الوارد ثم أجب :

2 علامة

5-1

يقصد بمفهوم الارخبيل

مجموعة دول

a.

مجموعة مدن

b.

مجموعة جزر

c.

مجموعة جبال

d.

اليابان عبارة عن أرخبيل يضم آلاف من الجزر أكبرها هونشو ويغلب على سطح اليابان الطابع الجبلي حيث تشغل 80% من مجموع مساحتها، وأشهر قممها فوجي ياما بعلو 3776 مترا، وتشغل السهول نسبة 16% ممثلة في السهول الساحلية والفيضية، ويعاني سطحها من النشاط البركاني والزلالي.



الموقع الفلكي :- تقع اليابان بين دائرتي عرض 22 و 46 شمالا وبين خطي طول 130 و 149 شرقا
الموقع الجغرافي:- يحدها من الشمال بحر وخستك وخليج لاابروز ومن الغرب بحر اليابان وخليج كوريا ومن الجنوب الغربي بحر الصين ومن الجنوب والشرق المحيط الهادي
دولة جزرية حيث بها 3500 جزيرة منها 600 فقط معمورة و 4 جزر منهم يمثلوا 98.7% من مساحة دولة اليابان باقي المساحة جزر صغيرة مساحة الدولة وشكلها:-
تزيد قليلا عن ثلث مساحة مصر 373 ألف كم² تعتبر اليابان دولة جبلية حيث 85% من مساحة اليابان جبال.

أقرأ الفقرة و الشكل الوارد ثم أجب :

2 علامة

5-2

وفق الموقع الفلكي الوارد في النص تقع اليابان في

شمال الاستواء وغرب غرينتش

شمال الاستواء وشرق غرينتش

جنوب الاستواء وغرب غرينتش

جنوب الاستواء وشرق غرينتش

اليابان عبارة عن أرخبيل يضم آلاف من الجزر أكبرها هونشو ويغلب على سطح اليابان الطابع الجبلي حيث تشغل 80% من مجموع مساحتها، وأشهر قممها فوجي ياما بعلو 3776 مترا، وتشغل السهول نسبة 16% ممثلة في السهول الساحلية والفيضية، ويعاني سطحها من النشاط البركاني والزلالي.



الموقع الفلكي :- تقع اليابان بين دائرتي عرض 22 و 46 شمالا وبين خطي طول 130 و 149 شرقا
الموقع الجغرافي:- يحدها من الشمال بحر وخستك وخليج لاابروز ومن الغرب بحر اليابان وخليج كوريا ومن الجنوب الغربي بحر الصين ومن الجنوب والشرق المحيط الهادي
دولة جزرية حيث بها 3500 جزيرة منها 600 فقط معمورة و 4 جزر منهم يمثلوا 98.7% من مساحة دولة اليابان باقي المساحة جزر صغيرة مساحة الدولة وشكلها:-
تزيد قليلا عن ثلث مساحة مصر 373 ألف كم² تعتبر اليابان دولة جبلية حيث 85% من مساحة اليابان جبال.

أقرأ الفقرة و الشكل الوارد ثم أجب :

2 علامة

5-3

الحقيقة الجغرافية المستنبطة من الشكل

اليابان شبه جزيرة

a.

يغلب المظهر التضاريسي السهول عليها

b.

يغلب المظهر التضاريسي الجبال عليها

c.

تكثر الحدود البرية حولها

d.

اليابان عبارة عن أرخبيل يضم آلاف من الجزر أكبرها هونشو ويغلب على سطح اليابان الطابع الجبلي حيث تشغل 80% من مجموع مساحتها، وأشهر قممها فوجي ياما بعلو 3776 مترا، وتشغل السهول نسبة 16% ممثلة في السهول الساحلية والفيضية، ويعاني سطحها من النشاط البركاني والزلالي.



الموقع الفلكي :- تقع اليابان بين دائرتي عرض 22 و 46 شمالا وبين خطي طول 130 و 149 شرقا
الموقع الجغرافي:- يحدها من الشمال بحر وخستك وخليج لاابروز ومن الغرب بحر اليابان وخليج كوريا ومن الجنوب الغربي بحر الصين ومن الجنوب والشرق المحيط الهادي
دولة جزرية حيث بها 3500 جزيرة منها 600 فقط معمورة و 4 جزر منهم يمثلوا 98.7% من مساحة دولة اليابان باقي المساحة جزر صغيرة مساحة الدولة وشكلها:-
تزيد قليلا عن ثلث مساحة مصر 373 ألف كم² تعتبر اليابان دولة جبلية حيث 85% من مساحة اليابان جبال.

أقرأ الفقرة و الشكل الوارد ثم أجب :

2 علامة

5-4

أكبر الجزر اليابانية هي

هوكايدو

a.

هونشو

b.

شيكوكو

c.

كيوشو

d.

اليابان عبارة عن أرخبيل يضم آلاف من الجزر أكبرها هونشو ويغلب على سطح اليابان الطابع الجبلي حيث تشغل 80% من مجموع مساحتها، وأشهر قممها فوجي ياما بعلو 3776 مترا، وتشغل السهول نسبة 16% ممثلة في السهول الساحلية والفيضية، ويعاني سطحها من النشاط البركاني والزلائي.



الموقع الفلكي :- تقع اليابان بين دائرتي عرض 22 و 46 شمالا وبين خطي طول 130 و 149 شرقا
الموقع الجغرافي:- يحدها من الشمال بحر وخستك وخليج لاابروز ومن الغرب بحر اليابان وخليج كوريا ومن الجنوب الغربي بحر الصين ومن الجنوب والشرق المحيط الهادي
دولة جزرية حيث بها 3500 جزيرة منها 600 فقط معمورة و 4 جزر منهم يمثلوا 98.7% من مساحة دولة اليابان باقي المساحة جزر صغيرة مساحة الدولة وشكلها:-
تزيد قليلا عن ثلث مساحة مصر 373 ألف كم² تعتبر اليابان دولة جبلية حيث 85% من مساحة اليابان جبال.

أقرأ الفقرة و الشكل الوارد ثم أجب :

2 علامة

5-5

يصنف سطح اليابان على انه

ذات نشاط زراعي

a.

ذات نشاط معدني

b.

ذات نشاط بركاني و زلزالي

c.

ذات نشاط بركاني

d.

اليابان عبارة عن أرخبيل يضم آلاف من الجزر أكبرها هونشو ويغلب على سطح اليابان الطابع الجبلي حيث تشغل 80% من مجموع مساحتها، وأشهر قممها فوجي ياما بعلو 3776 مترا، وتشغل السهول نسبة 16% ممثلة في السهول الساحلية والفيضية، ويعاني سطحها من النشاط البركاني والزلزالي.



الموقع الفلكي :- تقع اليابان بين دائرتي عرض 22 و 46 شمالا وبين خطي طول 130 و 149 شرقا
الموقع الجغرافي:- يحدها من الشمال بحر وخستك وخليج لاابروز ومن الغرب بحر اليابان وخليج كوريا ومن الجنوب الغربي بحر الصين ومن الجنوب والشرق المحيط الهادي
دولة جزرية حيث بها 3500 جزيرة منها 600 فقط معمورة و 4 جزر منهم يمثلوا 98.7% من مساحة دولة اليابان باقي المساحة جزر صغيرة مساحة الدولة وشكلها:-
تزيد قليلا عن ثلث مساحة مصر 373 ألف كم² تعتبر اليابان دولة جبلية حيث 85% من مساحة اليابان جبال.

أقرأ الفقرة و الشكل الوارد ثم أجب :

2 علامة

7-1

ترتيب القارة الأفريقية من حيث المساحة

○

الثاني بعد أوروبا

○

الثاني بعد آسيا

○

الثالث بعد استراليا

○

الأول قبل اسيا

أفريقيا هي ثاني أكبر قارة في العالم وثاني أكثر القارات اكتظاظاً بالسكان. تبلغ مساحتها 30.2 مليون كم² بما في ذلك الجزر المجاورة، وتغطي ستة بالمائة من إجمالي مساحة سطح الأرض و20.4 بمائة من إجمالي مساحة أراضيها. في تعداد 2013 كان عدد سكانها 1.1 بلوين نسمة، أي ما يمثل 15% تقريباً من سكان العالم يحدها البحر المتوسط من الشمال، قناة السويس والبحر الأحمر على امتداد شبه جزيرة سيناء من الشمال الشرقي، المحيط الهندي من الجنوب الشرقي، والمحيط الأطلسي من الغرب. تضم القارة مدغشقر وعدد من الأرخبيلات. ويوجد بها 54 دولة سيادية عشرة أراضي

سكان أفريقيا هم الأصغر سناً بين جميع القارات؛

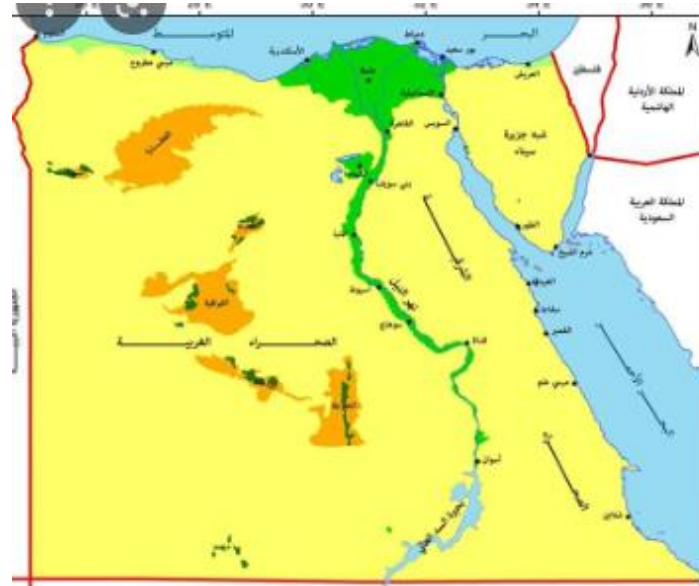
50% من الأفارقة في سن 19 أو أصغر.

الجزائر هي أكبر البلدان الأفريقية من حيث المساحة، ونيجريا من حيث عدد السكان.

توصف العلاقات الإماراتية الأفريقية بأنها علاقات نشيطة ومتجددة منذ القدم،

أكد صاحب السمو الشيخ محمد بن راشد رعاه الله، عمق العلاقات التاريخية القائمة بين دولة الامارات العربية المتحدة ودول القارة الافريقية، وأهمية تطويرها

على كل المستويات وضمن مختلف المجالات والقطاعات، وصولاً إلى شراكة استراتيجية تعود بالنفع والفائدة على الجانبين وتنعكس إيجاباً على حياة الشعوب، ومن أهم الدول العربية في القارة الافريقية جمهورية مصر العربية حيث العلاقات السياسية والاقتصادية بين الإمارات ومصر .



أقرأ الفقرة و الشكل الوارد ثم أجب :

2 علامة

7-2

الهدف من عمق العلاقات التاريخية القائمة بين دولة الامارات العربية المتحدة ودول القارة الافريقية

وصولاً إلى شراكة استراتيجية تعود بالنفع والفائدة على الجانبين

وصولاً إلى شراكة علمية تعود بالنفع والفائدة على الجانبين

وصولاً إلى شراكة استراتيجية تعود بالنفع والفائدة على الجانبين يعود بالفائدة على الشعوب

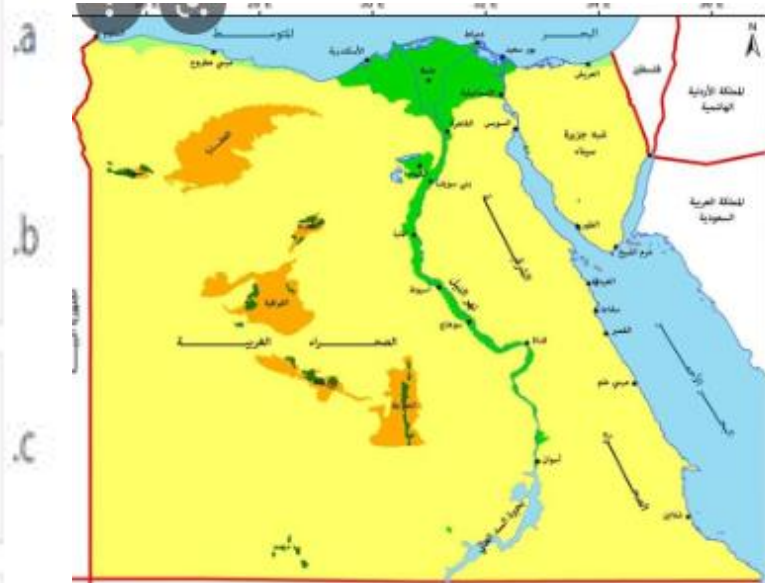
توصف العلاقات الإماراتية الأفريقية بأنها علاقات نشيطة ومتجددة منذ القدم

أفريقيا هي ثاني أكبر قارة في العالم وثاني أكثر القارات اكتظاظاً بالسكان. تبلغ مساحتها 30.2 مليون كم² بما في ذلك الجزر المجاورة، وتغطي ستة بالمائة من إجمالي مساحة سطح الأرض و20.4 بمائة من إجمالي مساحة أراضيها. في تعداد 2013 كان عدد سكانها 1.1 بلوين نسمة، أي ما يمثل 15% تقريباً من سكان العالم يحدها البحر المتوسط من الشمال، قناة السويس والبحر الأحمر على امتداد شبه جزيرة سيناء من الشمال الشرقي، المحيط الهندي من الجنوب الشرقي، والمحيط الأطلسي من الغرب. تضم القارة مدغشقر وعدد من الأرخبيلات. ويوجد بها 54 دولة سيادية عشرة أراضي سكان أفريقيا هم الأصغر سناً بين جميع القارات؛

50% من الأفارقة في سن 19 أو أصغر. الجزائر هي أكبر البلدان الأفريقية من حيث المساحة، ونيجريا من حيث عدد السكان.

توصف العلاقات الإماراتية الأفريقية بأنها علاقات نشيطة ومتجددة منذ القدم، أكد صاحب السمو الشيخ محمد بن راشد رعاه الله، عمق العلاقات التاريخية القائمة بين دولة الامارات العربية المتحدة ودول القارة الافريقية، وأهمية تطويرها

على كل المستويات وضمن مختلف المجالات والقطاعات، وصولاً إلى شراكة استراتيجية تعود بالنفع والفائدة على الجانبين وتنعكس إيجاباً على حياة الشعوب، ومن أهم الدول العربية في القارة الافريقية جمهورية مصر العربية حيث العلاقات السياسية والاقتصادية بين الإمارات ومصر .



أقرأ الفقرة و الشكل الوارد ثم أجب :

2 علامة

7-3

ما معنى مقولة مصر هبة النيل

○

وجود نهر النيل في مصر

○

مرور نهر النيل في مصر

○

لأن وجودها وبقائها اعتمد تاريخياً على هذا النهر

○

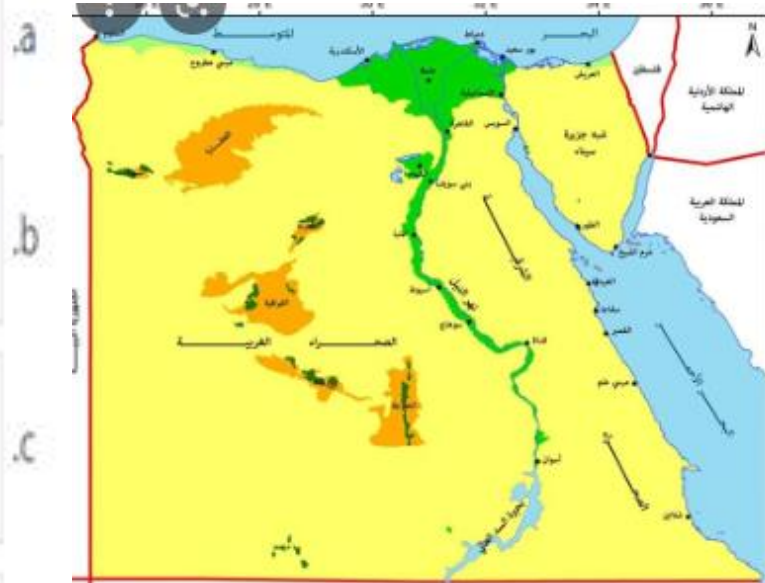
مصب نهر النيل في مصر

أفريقيا هي ثاني أكبر قارة في العالم وثاني أكثر القارات اكتظاظاً بالسكان. تبلغ مساحتها 30.2 مليون كم² بما في ذلك الجزر المجاورة، وتغطي ستة بالمائة من إجمالي مساحة سطح الأرض و20.4 بمائة من إجمالي مساحة أراضيها. في تعداد 2013 كان عدد سكانها 1.1 بلوين نسمة، أي ما يمثل 15% تقريباً من سكان العالم يحدها البحر المتوسط من الشمال، قناة السويس والبحر الأحمر على امتداد شبه جزيرة سيناء من الشمال الشرقي، المحيط الهندي من الجنوب الشرقي، والمحيط الأطلسي من الغرب. تضم القارة مدغشقر وعدد من الأرخبيلات. ويوجد بها 54 دولة سيادية عشرة أراضي سكان أفريقيا هم الأصغر سناً بين جميع القارات؛

50% من الأفارقة في سن 19 أو أصغر. الجزائر هي أكبر البلدان الأفريقية من حيث المساحة، ونيجريا من حيث عدد السكان.

توصف العلاقات الإماراتية الأفريقية بأنها علاقات نشيطة ومتجددة منذ القدم، أكد صاحب السمو الشيخ محمد بن راشد رعاه الله، عمق العلاقات التاريخية القائمة بين دولة الامارات العربية المتحدة ودول القارة الافريقية، وأهمية تطويرها

على كل المستويات وضمن مختلف المجالات والقطاعات، وصولاً إلى شراكة استراتيجية تعود بالنفع والفائدة على الجانبين وتنعكس إيجاباً على حياة الشعوب، ومن أهم الدول العربية في القارة الافريقية جمهورية مصر العربية حيث العلاقات السياسية والاقتصادية بين الإمارات ومصر .



أقرأ الفقرة و الشكل الوارد ثم أجب :

2 علامة

7-4

أي من الجمل التالية يعتبر تعميم

أفريقيا هي ثاني أكبر قارة في العالم وثاني أكثر القارات اكتظاظاً بالسكان

عمق العلاقات التاريخية القائمة بين دولة الامارات العربية المتحدة

توصف العلاقات الإماراتية الأفريقية بأنها علاقات نشيطة ومتجددة منذ القدم

يقع نهر النيل في مصر

أفريقيا هي ثاني أكبر قارة في العالم وثاني أكثر القارات اكتظاظاً بالسكان. تبلغ مساحتها 30.2 مليون كم² بما في ذلك الجزر المجاورة، وتغطي ستة بالمائة من إجمالي مساحة سطح الأرض و20.4 بمائة من إجمالي مساحة أراضيها. في تعداد 2013 كان عدد سكانها 1.1 بلوين نسمة، أي ما يمثل 15% تقريباً من سكان العالم يحدها البحر المتوسط من الشمال، قناة السويس والبحر الأحمر على امتداد شبه جزيرة سيناء من الشمال الشرقي، المحيط الهندي من الجنوب الشرقي، والمحيط الأطلسي من الغرب. تضم القارة مدغشقر وعدد من الأرخبيلات. ويوجد بها 54 دولة سيادية عشرة أراضي

سكان أفريقيا هم الأصغر سناً بين جميع القارات؛

50% من الأفارقة في سن 19 أو أصغر.

الجزائر هي أكبر البلدان الأفريقية من حيث المساحة، ونيجريا من حيث عدد السكان.

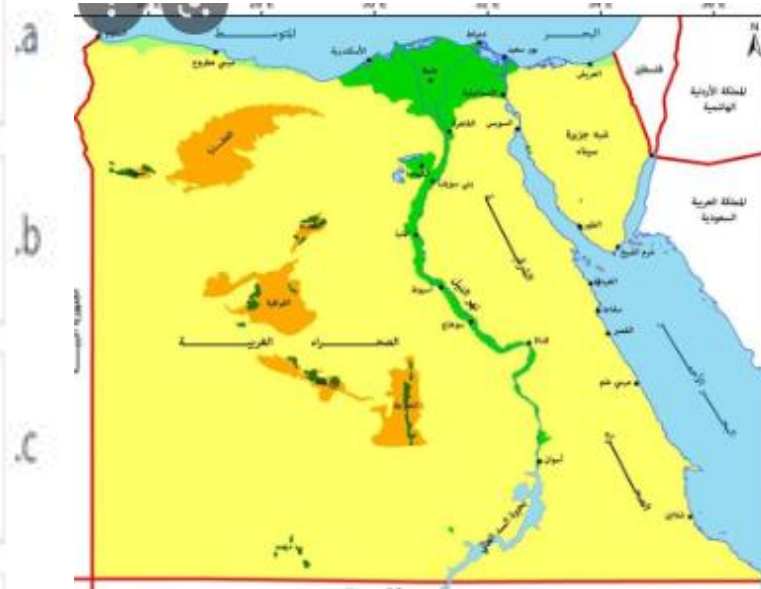
توصف العلاقات الإماراتية الأفريقية بأنها علاقات نشيطة ومتجددة منذ القدم،

أكد صاحب السمو الشيخ محمد بن راشد رعاه الله، عمق العلاقات التاريخية القائمة بين دولة الامارات العربية المتحدة

ودول القارة الافريقية، وأهمية تطويرها

على كل المستويات وضمن مختلف المجالات والقطاعات، وصولاً إلى شراكة استراتيجية تعود بالنفع والفائدة على الجانبين وتنعكس إيجاباً على حياة

الشعوب، ومن أهم الدول العربية في القارة الافريقية جمهورية مصر العربية حيث العلاقات السياسية والاقتصادية بين الإمارات ومصر .



أقرأ الفقرة و الشكل الوارد ثم أجب :

2 علامة

7-5

وفق المعطيات في الفقرة يعتبر المجتمع الافريقي

هرم فوق 50 عام

فتي دون 15 عام

فتي فوق 19 عام

كبار السن

أفريقيا هي ثاني أكبر قارة في العالم وثاني أكثر القارات اكتظاظاً بالسكان. تبلغ مساحتها 30.2 مليون كم² بما في ذلك الجزر المجاورة، وتغطي ستة بالمائة من إجمالي مساحة سطح الأرض و20.4 بمائة من إجمالي مساحة أراضيها. في تعداد 2013 كان عدد سكانها 1.1 بلوين نسمة، أي ما يمثل 15% تقريباً من سكان العالم يحدها البحر المتوسط من الشمال، قناة السويس والبحر الأحمر على امتداد شبه جزيرة سيناء من الشمال الشرقي، المحيط الهندي من الجنوب الشرقي، والمحيط الأطلسي من الغرب. تضم القارة مدغشقر وعدد من الأرخبيلات. ويوجد بها 54 دولة سيادية عشرة أراضي

سكان أفريقيا هم الأصغر سناً بين جميع القارات؛

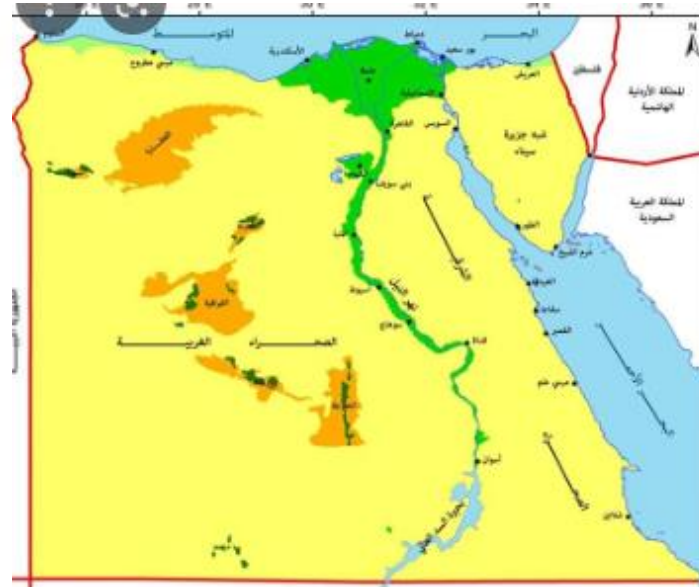
50% من الأفارقة في سن 19 أو أصغر.

الجزائر هي أكبر البلدان الأفريقية من حيث المساحة، ونيجريا من حيث عدد السكان.

توصف العلاقات الإماراتية الأفريقية بأنها علاقات نشيطة ومتجددة منذ القدم،

أكد صاحب السمو الشيخ محمد بن راشد رعاه الله، عمق العلاقات التاريخية القائمة بين دولة الامارات العربية المتحدة ودول القارة الافريقية، وأهمية تطويرها

على كل المستويات وضمن مختلف المجالات والقطاعات، وصولاً إلى شراكة استراتيجية تعود بالنفع والفائدة على الجانبين وتنعكس إيجاباً على حياة الشعوب، ومن أهم الدول العربية في القارة الافريقية جمهورية مصر العربية حيث العلاقات السياسية والاقتصادية بين الإمارات ومصر .



d.

أقرأ الشكل الوارد ثم أجب :

2 علامة

6-1

عَمَر
2022


الدولة العربية التي كان لها دور في تقيق المصالحة
في القرن الافريقي هي

مملكة البحرين

جمهورية مصر العربية

دولة الإمارات العربية المتحدة

جمهورية السودان الشعبية



إريتريا وإثيوبيا
نهاية الحرب وتوقيع إعلان "سلام وصداقة"

الزمان: 2018 | المكان: العاصمة الإريترية أسمرا

الرئيس الإريترى: إسياس أفورقي | رئيس الوزراء الإثيوبي: أبي أحمد

بنود الاتفاق

- إعلان نهاية الحرب بين البلدين
- العمل على تعزيز التعاون الوثيق في المجالات المختلفة
- استئناف رحلات النقل والتجارة والاتصالات والعلاقات الدبلوماسية
- التبشير بعهد جديد من السلام والتعاون والتنمية
- تنفيذ قرار ترسيم الحدود بين البلدين

أقرأ الشكل الوارد ثم أجب :

2 علامة

2-6


وفق الخريطة الواردة نستنتج أن طبيعة الصراع تدور حول

النفط والمصالح التجارية

الموانئ البحرية والدول الحبيسة

الفروق الدينية والعرقية

خلافات حدودية برية



إريتريا وإثيوبيا
نهاية الحرب وتوقيع إعلان "سلام وصداقة"

الزمان: 2018
المكان: العاصمة الإريترية أسمرا

الرئيس الإريترى: إسياس أفورقي
رئيس الوزراء الإثيوبي: أبي أحمد

التوقيع بحضور

بنود الاتفاق

- إعلان نهاية الحرب بين البلدين
- العمل على تعزيز التعاون الوثيق في المجالات المختلفة
- استئناف رحلات النقل والتجارة والاتصالات والعلاقات الدبلوماسية
- التبشير بعهد جديد من السلام والتعاون والتنمية
- تنفيذ قرار ترسيم الحدود بين البلدين

أقرأ الشكل الوارد ثم أجب :

2 علامة

6-3


تكن أهمية القرن الأفريقي في كونه يتحكم في مضيق

هرمز ومدخل الخليج العربي

قناة السويس ومدخل البحر الأحمر

جبل طارق ومدخل البحر المتوسط

باب المندب ومدخل البحر الأحمر



إريتريا وإثيوبيا
نهاية الحرب وتوقيع إعلان "سلام وصداقة"

الزمان: 2018
المكان: العاصمة الإريترية أسمرا

الرئيس الإريترى: إسياس أفورقي
رئيس الوزراء الإثيوبي: أبي أحمد

التوقيع بحضور
بنود الاتفاق

- إعلان نهاية الحرب بين البلدين
- العمل على تعزيز التعاون الوثيق في المجالات المختلفة
- استئناف رحلات النقل والتجارة والاتصالات والعلاقات الدبلوماسية
- التبشير بعهد جديد من السلام والتعاون والتنمية
- تنفيذ قرار ترسيم الحدود بين البلدين

أقرأ الشكل الوارد ثم أجب :

2 علامة

6-4


تم توقيع معاهدة السلام والصداقة في

عام 2018 في أسمرة اريتريا

عام 2018 في جدة السعودية

عام 2018 في أبو ظبي الامارات

عام 2018 في اديس ابابا



إريتريا وإثيوبيا
نهاية الحرب وتوقيع إعلان "سلام وصداقة"

الزمن: 2018 | المكان: العاصمة الإريترية أسمرا

الرئيس الإريترى: أسياس أفورقي
رئيس الوزراء الإثيوبي: أبي أحمد

التوقيع بحضور بنود الاتفاق

إعلان نهاية الحرب بين البلدين | العمل على تعزيز التعاون الوثيق في المجالات المختلفة | استئناف رحلات النقل والتجارة والاتصالات والعلاقات الدبلوماسية |

التبشير بعهد جديد من السلام والتعاون والتنمية | تنفيذ قرار ترسيم الحدود بين البلدين

أقرأ الشكل الوارد ثم أجب :

2 علامة

5-6


أي من التالي حقيقة جغرافية

a. قيام الحرب بين البلدين عام 1998

b. توقيع معاهد السلام 2018

c. تقع اثيوبيا غرب اريتريا

d. تنفيذ قرار ترسيم الحدود



إريتريا وإثيوبيا
نهاية الحرب وتوقيع إعلان "سلام وصداقة"

الزمان: 2018
المكان: العاصمة الإريترية أسمرا

الرئيس الإريترى: إسياس أفورقي
رئيس الوزراء الإثيوبي: أبي أحمد

التوقيع بحضور

بنود الاتفاق

- إعلان نهاية الحرب بين البلدين
- العمل على تعزيز التعاون الوثيق في المجالات المختلفة
- استئناف رحلات النقل والتجارة والاتصالات والعلاقات الدبلوماسية
- التبشير بعهد جديد من السلام والتعاون والتنمية
- تنفيذ قرار ترسيم الحدود بين البلدين