

كل ما يحتاجه الطالب في جميع الصفوف من أوراق عمل واختبارات ومذكرات، يجده هنا في الروابط التالية لأفضل مواقع تعليمي إماراتي 100 %

<u>تطبيق المناهج الإماراتية</u>	<u>الاجتماعيات</u>	<u>الرياضيات</u>
<u>الصفحة الرسمية على التلغرام</u>	<u>الاسلامية</u>	<u>العلوم</u>
<u>الصفحة الرسمية على الفيسبوك</u>	<u>الانجليزية</u>	
<u>التربية الاخلاقية لجميع الصفوف</u>	<u>اللغة العربية</u>	
<u>التربية الرياضية</u>		
مجموعات التلغرام.	مجموعات الفيسبوك	قنوات تلغرام
<u>الصف الأول</u>	<u>الصف الأول</u>	<u>الصف الأول</u>
<u>الصف الثاني</u>	<u>الصف الثاني</u>	<u>الصف الثاني</u>
<u>الصف الثالث</u>	<u>الصف الثالث</u>	<u>الصف الثالث</u>
<u>الصف الرابع</u>	<u>الصف الرابع</u>	<u>الصف الرابع</u>
<u>الصف الخامس</u>	<u>الصف الخامس</u>	<u>الصف الخامس</u>
<u>الصف السادس</u>	<u>الصف السادس</u>	<u>الصف السادس</u>
<u>الصف السابع</u>	<u>الصف السابع</u>	<u>الصف السابع</u>
<u>الصف الثامن</u>	<u>الصف الثامن</u>	<u>الصف الثامن</u>
<u>الصف التاسع عام</u>	<u>الصف التاسع عام</u>	<u>الصف التاسع عام</u>
<u>الصف التاسع متقدم</u>	<u>الصف التاسع متقدم</u>	<u>الصف التاسع متقدم</u>
<u>الصف العاشر عام</u>	<u>الصف العاشر عام</u>	<u>الصف العاشر عام</u>
<u>الصف العاشر متقدم</u>	<u>الصف العاشر متقدم</u>	<u>الصف العاشر متقدم</u>
<u>الحادي عشر عام</u>	<u>الحادي عشر عام</u>	<u>الحادي عشر عام</u>
<u>الحادي عشر متقدم</u>	<u>الحادي عشر متقدم</u>	<u>الحادي عشر متقدم</u>
<u>ثاني عشر عام</u>	<u>الثاني عشر عام</u>	<u>الثاني عشر عام</u>
<u>ثاني عشر متقدم</u>	<u>الثاني عشر متقدم</u>	<u>الثاني عشر متقدم</u>



دائرة التعليم والمعرفة
DEPARTMENT OF EDUCATION
AND KNOWLEDGE

دائرة التعليم والمعرفة

مدرسة القوع للتعليم الأساسي والثانوي

قسم الدراسات الاجتماعية

مراجعة عامة للوحدة الأولى

الفصل الدراسي الثالث
alManahj.com/ae

الصف السادس

2018/2017

عام
زاييد



YEAR OF
ZAYED

السؤال الأول : أكمل العبارات التالية بما يناسبها

- 1- تقع دولة الإمارات ضمن الإقليم المناخي : الصحراوي الحار
- 2- السمة الرئيسية لمناخ معظم أنحاء شبه الجزيرة العربية : الجفاف
- 3- النباتات التي تنمو دون تدخل الإنسان : النباتات الطبيعية
- 4- نباتات يتجدد نموها كل عام عقب سقوط الأمطار : النباتات الحولية
- 5- من النباتات الحولية في دولة الإمارات العربية المتحدة : الحميض - الخبيز
- 6- تعرض الأرض للتدهور في المناطق الجافة وشبه الجافة : التصحّر
- 7- من النباتات الحولية التي تنمو في المناطق الجبلية : الحماض - الكوثر - العسج
- 8- من النباتات الحولية التي تنمو في السهول الغربية (الطينية) : الجرمل - بصيالات مي - العريون
- 9- من النباتات الحولية التي تنمو في المناطق الصحراوية : الأرطى - الحنظل - الهرم
- 10- من النباتات الحولية التي تنمو في السهول الحصوية : لفريفرو - النفل

السؤال الثاني : أجب عن الأسئلة الآتية

- 1- ما أهمية النباتات الحولية ؟
 - غذاء للإنسان
 - غذاء ومرعى للحيوان
 - مصدر للدواء والعلاج
 - مصدر للطاقة والتدفئة
- 2- ما أنواع النبات الطبيعي في دولة الإمارات العربية المتحدة ؟
 - نباتات حولية ونباتات معمرة
- 3- ما أسباب اهتمام دولة الإمارات بإنشاء المحميات الطبيعية ؟
 - لتحقيق التوازن البيئي والحفاظ على الحياة البيئية

4- ما العوامل التي أثرت في خصائص النبات الطبيعيني دولة الإمارات ؟

- الموقع الجغرافي / الظروف المناخية

5- فسر إنشاء مركز الطب العربي والأعشاب في أبوظبي ؟

- المحافظة على التراث المحلي والعربي والإسلامي في مجال العلاج بالأعشاب

6- ما أهم النباتات الحولية في دولة الإمارات واستخداماتها ؟



العريون:

- ينتشر الأراضي الرملية وشبه الطينية
- يقوي البصر



الطَرثوث:

- ينتشر في الأراضي الرملية
- لذيذ إن شوي على الفحم



الحَمَاض:

- يوجد على سفوح الجبال
- يستخدم في علاج بعض الأمراض

alManahj.com/ae



الخبيزة:

- ينتشر في المناطق الرسوبية
- علاج آلام المفاصل



الهرم:

- يوجد في المنخفضات الرسوبية
- علاج النزلات الصدرية

السؤال الأول : اختر الإجابة الصحيحة من بين البدائل لكل عبارة فيما يأتي



11- سلسلة كبيرة من الجزر :

(برزخ - أرخييل - قناة)

12- اليابان تعني :

(أرض مشرق الشمس - أرض مغرب الشمس - أرض الجبال)

13- أكبر الجزر اليابانية مساحة :

(هوكايدو - شيكوكو - هونشو)

4- عاصمة اليابان :

(طوكيو - سيول - نيودلهي)

5- أعلى جبال اليابان :

(تسوكوبا - فوجي - تاكاوا)

6- يحد اليابان من جهة الغرب :

(بحر الصين - بحر اليابان - البحر الأحمر)

7- تمتد اليابان بين خطي طول:.....، 146 شرقاً:

(115 - 122 - 130)

8- يحد اليابان من جهة الشرق المحيط:

(الأطلنطي - الهندي - الهادي)

9- أكبر سهول اليابان مساحة سهل :

(نوبي - كوانتو - كانساي)

10- من أشجار الغابات المدارية :

(الكافور - الأرز - الشربين)

11- من أشجار الغابات الباردة :

(الصنوبر - البلوط - الكافور)

12 - المرتبة التي تحتلها اليابان على مستوى العالم من حيث عدد السكان:

(السابعة - الثامنة - العاشرة)

13- كتلة من المياه تتحرك باتجاهات محددة لمسافات بعيدة:

(التيارات الهوائية - التيارات البحرية - التيارات الجوية)

14- المحصول الزراعي الذي تحقق منه اليابان اكتفاءً ذاتياً :

(القمح - الشعير - الأرز)

15- شخصية إماراتية قيادية أرست دعائم العلاقات مع اليابان:

(الشيخ خليفة بن زايد - حفظه الله - - الشيخ محمد بن زايد - حفظه الله - - الشيخ زايد بن سلطان - رحمه الله -)

السؤال الثاني : بم تفسر (اذكر السبب) : alManahj.com/ae

- 1- عاشت اليابان مرحلة عزلة عن باقي شعوب العالم.
 - بسبب موقعها الجغرافي الذي يشكل أرضها
- 2- عدم صلاحية الأنهار اليابانية للملاحة .
 - لأنها قصيرة وضحلة وشديدة الانحدار
- 3- الأهمية الاقتصادية لسهول اليابان .
 - تتركز فيها الزراعة ومعظم الصناعات
- 4- سقوط أمطار غزيرة على الساحل الشرقي لليابان صيفاً.
 - بسبب هبوب الرياح الموسمية الصيفية من الجنوب الشرقي.
- 5- الأهمية الاقتصادية للغابات في اليابان.
 - تمثل مورداً مهماً للأخشاب

6- تراجع عدد المواليد في اليابان من عام لآخر

• بسبب خروج المرأة للعمل وانشغالها عن الإنجاب

7- تعد اليابان من أولى دول العالم إنتاجًا للأسمك .

• بسبب غنى المياه المجاورة لها بالأسمك نتيجة التقاء التيارات البحرية

8- ازدهار الصناعة في اليابان .

• بسبب توفر الأيدي العاملة والوسائل التكنولوجية الحديثة .

السؤال الثالث : ما النتائج المترتبة على .

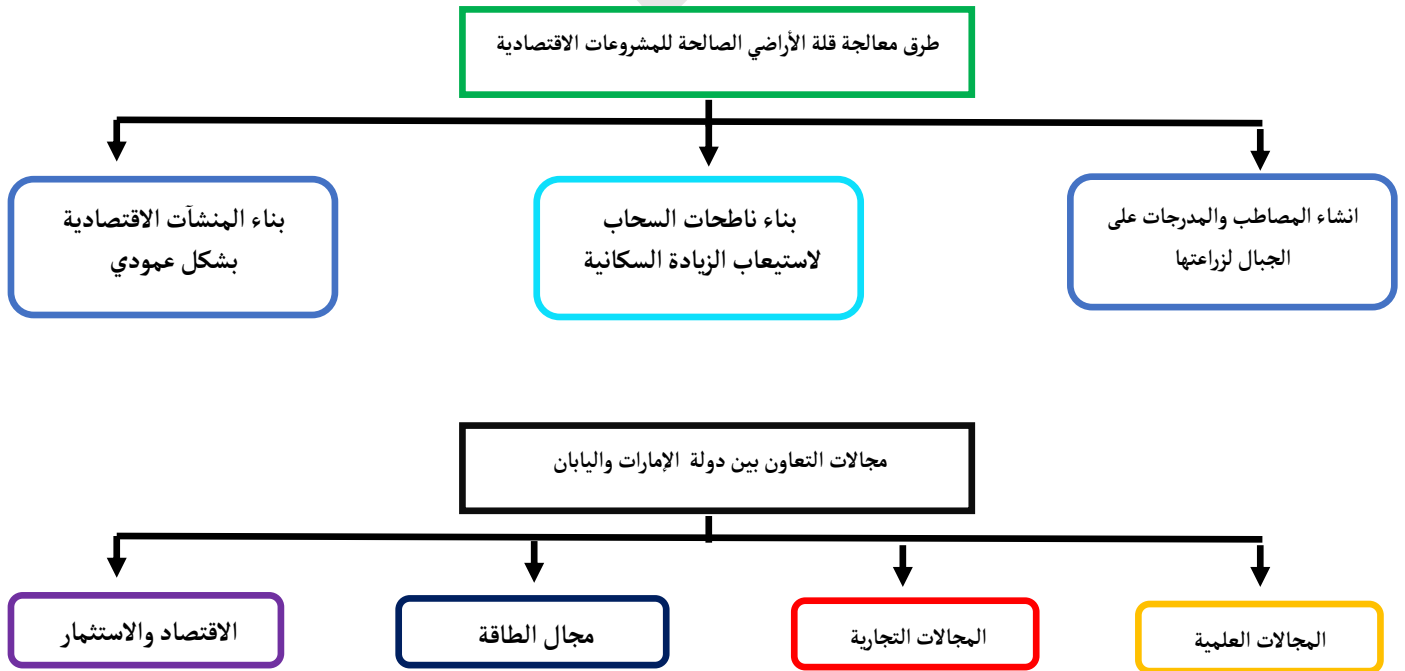
1- استمرار زيادة نسبة كبار السن في المجتمع الياباني .

• يصبح مجتمعًا مسنًا أو هرمًا يزيد فيه نسبة كبار السن عن الشباب وصغار السن .

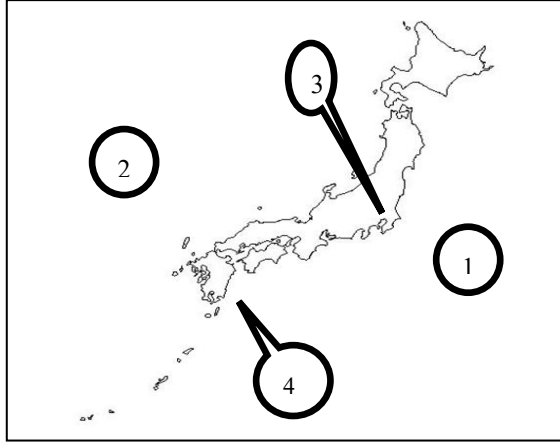
2- تقوية العلاقات الثنائية بين دولة الإمارات العربية المتحدة واليابان.

• تقوية اقتصاد دولة الإمارات / الاستفادة من خبرات الدول المقدمة .

السؤال الرابع: أكمل المخطط الذهني التالي:



السؤال الخامس : أمامك خريطة صماء لدولة اليابان ، اكتب ما تشر إليه الأرقام التي عليها :



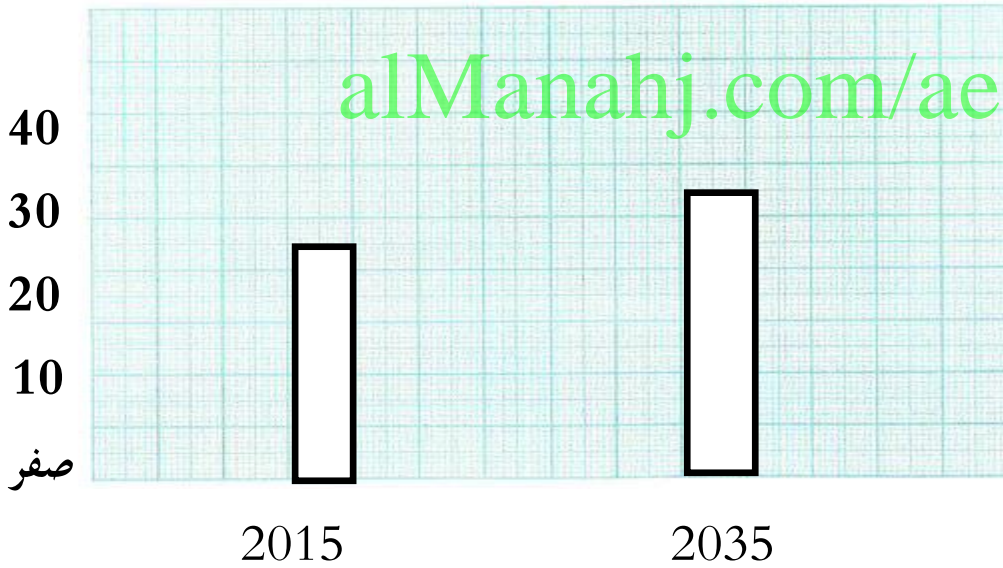
1- المحيط الهادي

2- بحر اليابان

3- العاصمة طوكيو

4- جزيرة كيوشو

السؤال السادس: مثل بيانياً بطريقة الأعمدة بيانات الجدول التالي الذي يمثل نسبة كبار السن في اليابان:



السنة	النسبة %
2015	26.7
2035	33

السؤال الأول : اختر الإجابة الصحيحة من بين البدائل لكل عبارة فيما يأتي :

14- القارة التي تعرف بالقارة المشمسة أو القارة السمراء

(آسيا - أفريقيا - استراليا)

15- تبلغ مساحة قارة أفريقيا :

(24.2 مليون كم² - 8.5 مليون كم² - 30.3 مليون كم²)

16- من الحضارات القديمة التي قامت في قارة أفريقيا :

(الحضارة المصرية القديمة - حضارة بلاد الرافدين - حضارة السند)

4- قامت الحضارة المصرية القديمة على ضفاف نهر :

(دجلة - النيل - الفرات)

5- يحد قارة أفريقيا من الشمال :

(البحر الأحمر - البحر المتوسط - المحيط الهندي)

6- يحد قارة أفريقيا من الشرق :

(البحر المتوسط والمحيط الأطلنطي - البحر الأحمر والمحيط الهندي - البحر الأحمر والمحيط الأطلنطي)

7- يحد قارة أفريقيا من الغرب :

(المحيط الهادي - المحيط الأطلنطي - المحيط الهندي)

7- تمتد قارة أفريقيا بين دائرتي عرض :.....، 36 جنوباً .

(37 شمالاً - 17 شمالاً - 46 شمالاً)

8- تمتد قارة أفريقيا بين خطي طول ، 51 شرقاً :

(36 غرباً - 17 غرباً - 20 غرباً)

9- المضيق الذي يفصل قارة أفريقيا عن قارة أوروبا:

(باب المندب - جبل طارق - هرمز)

10- القارة الوحيدة التي تمر بها خط الاستواء ومدار السرطان ومدار الجدي :

(أمريكا الشمالية - أمريكا الجنوبية - أفريقيا)

11- أكثر مظاهر التضاريس انتشاراً في قارة أفريقيا :

(الجبال - الهضاب - السهول)

12- منطقة محددة من سطح الأرض لها خصائص ومميزات تختلف عن المناطق المجاورة:

(المناخ - الطقس - الإقليم المناخي)

13- المجموع الكلي لعدد السكان مقسوماً على المساحة الكلية :

(الكثافة النوعية - الكثافة السكانية - توزيع السكان)

14- تحتل قارة أفريقيا من حيث عدد السكان بين قارات العالم المركز :

(الثاني - الثالث - الرابع)

15- من أشهر الدول الأفريقية في صيد الأسماك :

(المغرب - الإمارات - السعودية)

16- تشترك مصر بحدودها من الشمال الشرقي مع :

(ليبيا - فلسطين - السودان)

17- القناة المائية التي حفرها المصريين وتربط بين البحر الأحمر والبحر المتوسط :

(قناة السويس - قناة بنما - قناة كييل)

السؤال الثاني : بم تفسر (اذكر السبب):

9- وقوع معظم قارة أفريقيا في العروض المدارية الحارة .

• بسبب مرور خط الاستواء ومدار السرطان ومدار الجدي بها

10- تنوع أشكال التضاريس في قارة أفريقيا .

• بسبب اتساع المساحة

11- سقوط الأمطار طوال العام في الإقليم الاستوائي .

• بسبب تعامد أشعة الشمس على مدار السرطان مما يؤدي إلى تبخر المياه وسقوط الأمطار

12- قلة الإنتاج السمكي لقارة أفريقيا .

- بسبب ضيق الرصيف القاري / عدم وجود سفن حديثة للصيد

13- تعد المملكة المغربية من أشهر دول قارة أفريقيا في الثورة السمكية.

- بسبب مرور تيار كناري البارد الذي يحمل الغذاء للأسماك

14- تنوع المحاصيل الزراعية في قارة أفريقيا.

- اتساع المساحة / تنوع الأقاليم المناخية / خصوبة التربة / ارتفاع معدلات سقوط الأمطار

15- تعتبر الثروة الحيوانية من الحرف الرئيسية في قارة أفريقيا.

- بسبب وجود حشائش السافانا التي تعتبر مراعى طبيعية

16- اهتمام دولة الإمارات العربية المتحدة بتوطيد العلاقات الإماراتية المصرية منذ القدم حتى يومنا هذا.

- لتحقيق المصالح المشتركة بين البلدين / ولتحقيق الأمن الاستقرار للبلدين

السؤال الثالث : ما النتائج المترتبة على :

1- مرور دوائر العرض الرئيسية بقارة أفريقيا

- وقوع القارة في العروض المدارية الحارة

2- القطع الجائر لأشجار الغابات في أفريقيا.

- تدهور الغابات / تضرر البيئة / عدم تحقيق التنمية المستدامة

3- خصوبة التربة وارتفاع معدلات سقوط الأمطار في قارة أفريقيا.

- تنوع المحاصيل الزراعية

السؤال الرابع: أكمل المخطط الذهني التالي:

مظاهر السطح في أفريقيا

السهول

فيضية مثل
سهول نهر النيل
سهول نهر النيجر

ساحلية مثل
- سهول البحر المتوسط
- سهول البحر الأحمر

الهضاب

- هضبة أفريقيا الشمالية
- هضبة الحبشة
- هضبة جنوب أفريقيا

الجبال

مثل
- جبال أطلس
- جبال البحر الأحمر
- جبل كلمنجارو

العوامل المؤثرة في مناخ القارة الأفريقية

التيارات البحرية

توزيع اليابس والماء

التضاريس

الموقع الفلكي

مناطق تركيز السكان وتوزعهم في قارة أفريقيا

منخفضة الكثافة السكانية
مثل
المناطق الصحراوية

متوسطة الكثافة السكانية
مثل
سواحل المغرب العربي

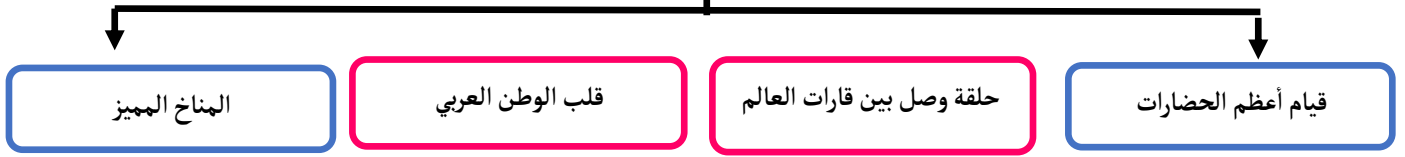
مرتفعة الكثافة السكانية
مثل
وادي النيل والدلتا في مصر

المحاصيل الزراعية في أفريقيا

المحاصيل النقدية
مثل
القطن - البن - الكاكاو - قصب السكر

المحاصيل الغذائية
مثل
الأرز - الذرة - القمح - الشعير - الألياف

أهمية موقع مصر الجغرافي

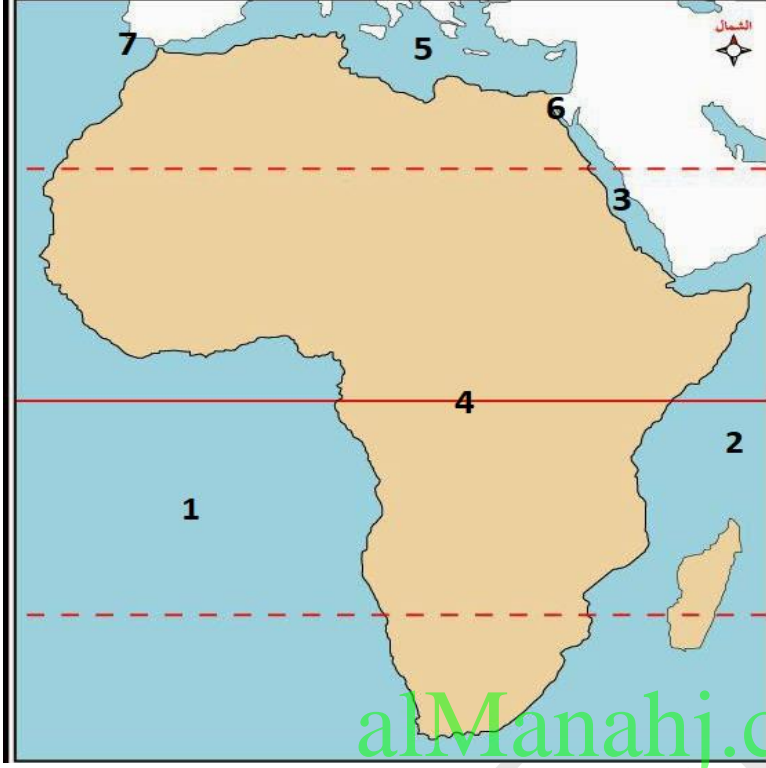


السؤال الخامس: قارن بين كلا مما يأتي :

النبات الطبيعي	الخصائص المناخية	الموقع	الإقليم
غابات كثيفة المطاط - الكاكاو - الماهوجني	حار طوال العام الأمطار طوال العام	حوض الكونغو - ساحل غانا	الاستوائي
حشائش السافانا	حرارة مرتفعة صيفاً وأمطار غزيرة والشتاء جاف	وسط وجنوب السودان	المداري (السوداني)
الصبار والنخيل	شديد الحرارة صيفاً معتدل شتاءً أمطار نادرة وفجائية	الصحراء الكبرى صحراء الصومال صحراء كلهاري	الصحراوي الحار

آسيا	أفريقيا	أوجه الاختلاف
السواحل متعرجة	السواحل مستقيمة	أوجه الاختلاف
يمر بها خط الاستواء	يمر بها دوائر العرض الرئيسية خط الاستواء ومدار السرطان ومدار الجدي	في الخصائص
كثرة الجزر وأشباه الجزر	قلة الجزر وأشباه الجزر	العامة

السؤال السادس : أمامك خريطة صماء لقارة أفريقيا ، اكتب ما تشر إليه الأرقام التي عليها :



- 5- المحيط الأطلسي
- 6- المحيط الهندي
- 7- البحر الأحمر
- 8- خط الاستواء
- 9- البحر المتوسط
- 10- قناة السويس
- 11- مضيق جبل طارق

تمنيتي للجميع بالنجاح والتوفيق