

تم تحميل هذا الملف من موقع المناهج الإماراتية



الملف نموذج تدريبي للاختبار النهائي

موقع المناهج ⇨ المناهج الإماراتية ⇨ الصف السادس ⇨ رياضيات ⇨ الفصل الثالث

روابط مواقع التواصل الاجتماعي بحسب الصف السادس



روابط مواد الصف السادس على تلغرام

[الرياضيات](#)

[اللغة الانجليزية](#)

[اللغة العربية](#)

[التربية الاسلامية](#)

المزيد من الملفات بحسب الصف السادس والمادة رياضيات في الفصل الثالث

[حل أسئلة الكتابي وفق الهيكل الوزاري الجديد](#)

1

[أسئلة اختبار في الوحدة التاسعة المساحة](#)

2

[حل تجميعة أسئلة وفق الهيكل الوزاري الجديد ريفيل](#)

3

[حل تجميعة أسئلة وفق الهيكل الوزاري](#)

4

[قوانين المساحة والحجم للوحدتين التاسعة والعاشره](#)

5

مادة الرياضيات

اسم الطالب:

الصف: السادس الشعبة: ()

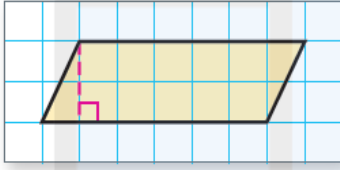
التاريخ: / / 2023

نموذج تدريبي للاختبار الختامي

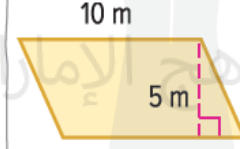
الفصل الدراسي الثالث لعام 2022-2023

السؤال الأول : أوجد مساحة كل متوازي أضلاع

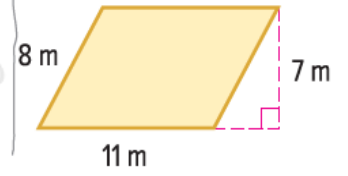
1.



2.

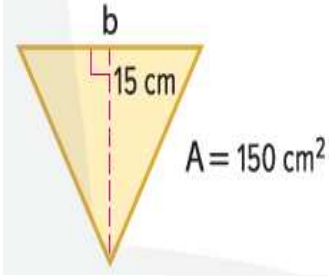


3.



السؤال الثاني: أوجد ارتفاع متوازي أضلاع قاعدته 35 cm ومساحته 700cm^2 .

السؤال الثالث: يصمم فارس بلاط أرضية فريد الشكل من الخزف. فما قاعدة البلاطة الموضحة؟

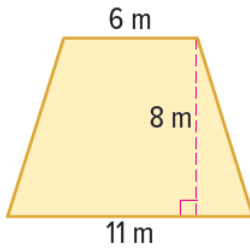


تم تحميل هذا الملف من

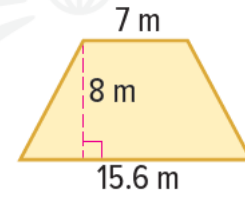
موقع المناهج الإماراتية

السؤال الثالث: أوجد مساحة كل شبه منحرف. قرّب إلى أقرب جزء من عشرة إذا لزم الأمر.

1.

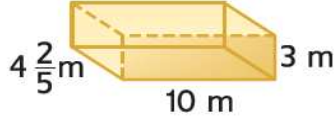


2.

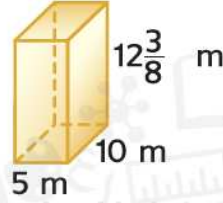


السؤال الرابع: أوجد حجم كل منشور

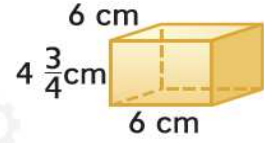
1. _____



2. _____



3. _____



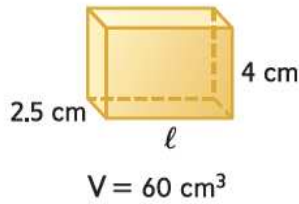
تم تحميل هذا الملف من

موقع المناهج الإماراتية

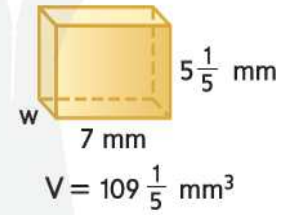
alManahj.com/ae

السؤال الخامس: أوجد البعد المفقود

6. _____



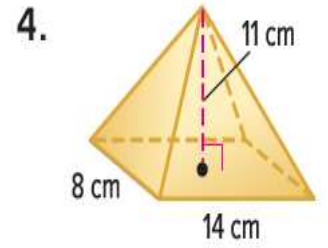
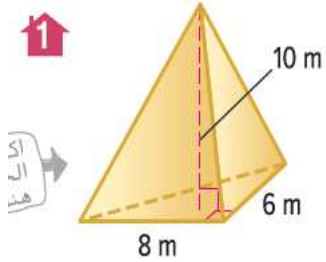
7. _____



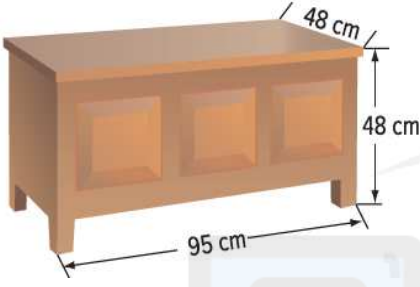
السؤال السادس: صندوق على شكل منشور ثلاثي. القاعدة المثلثة لها طول قاعدة قدره 14 سنتيمتراً وارتفاع قاعدة قدره 22 سنتيمتراً. الصندوق ارتفاعه 67.5 سنتيمتراً. فما حجم الصندوق؟

تم تحميل هذا الملف من
موقع المناهج الإماراتية

السؤال السابع: أوجد حجم كل هرم. قرّب إلى أقرب جزء من عشرة إذا لزم الأمر

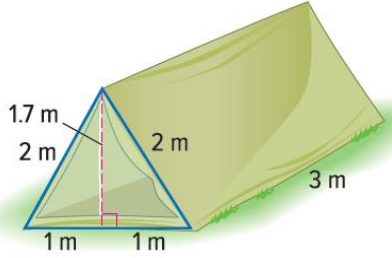


السؤال الثامن: ستقوم سهى بتلوين صندوق الألعاب الخاص بأختها الصغرى، ومن ضمنه الجزء السفلي. فما مساحة السطح التقريبية التي ستلوينها؟



تم تحميل هذا الملف من
موقع المناهج الإماراتية

السؤال التاسع: خيمة على شكل منشور ثلاثي. كم يلزم من القماش لعمل هذه الخيمة متضمنة الأرضية الخاصة بها؟





بناء حياة سعيدة .. لطالب مدرك لمهاراته
مستكشف لقدراته .. طموحاً بمستقبله



العاشر : يوضح الجدول عدد ملاعب الجولف في ولايات مختلفة

1. أوجد مدى البيانات

عدد ملاعب الجولف			
كاليفورنيا	1,117	نيويورك	954
فلوريدا	1,465	نورث كارولينا	650
جورجيا	513	أوهايو	893
أيوا	437	ساوث كارولينا	456
ميشيغان	1,038	تكساس	1,018

2. أوجد الوسيط والرُّبيع الأول والرُّبيع الثالث

3. أوجد المدى الرُّباعي

4. اذكر أي قيم متطرفة في البيانات

السؤال الحادي عشر: عدد الدقائق التي تُقضى في المذاكرة هي : 35, 80, 60, 45, 70, 60, 45. أوجد مقياس التمرکز الأفضل في تمثيل البيانات. برر اختيارك ثم أوجد مقياس التمرکز

السؤال الثاني عشر: يوضّح الجدول متوسط العمق لعدة بحيرات

1. حدد القيمة المتطرفة في مجموعة البيانات.

البحيرة	العمق (m)
A البحيرة	1,148
B البحيرة	10
C البحيرة	43
D البحيرة	62
E البحيرة	14
F البحيرة	24

2. حدد كيف تؤثر القيمة المتطرفة على المتوسط الحسابي و الوسيط و المنوال والمدى للبيانات.

تم تحميل هذا الملف من

موقع المناهج الإماراتية

alManahj.com/ae

3. اذكر مقياس التمرکز الأفضل في وصف البيانات مع القيمة المتطرفة وبدونها.

السؤال الثالث عشر : عدد النقاط التي أحرزها فريق الكرة اللينة في آخر خمسة مباريات له موضحة في التمثيل البياني بالنقاط المجمعة. ما عدد النقاط التي يحتاج الفريق إلى إحرازها في المباراة القادمة بحيث تكون كل عبارة صحيحة؟



1. المدى هو 10

2. المنوال الآخر هو 11

3. الوسيط هو 9.5

السؤال الرابع عشر : حل المسألة التالية

قم بتصميم مدرج تكراري يمثل مجموعة البيانات.

5.

عدد التكرار	علامات الإحصاء	عدد الولايات
9		0-4
3		5-9
5		10-14
3		15-19
6		20-24
1		25-29

عدد الولايات التي زارها الطلاب في صف علي

التكرار

عدد الولايات

السؤال الخامس عشر : يوضّح الجدول طول الخط الساحلي لمجموعة من 13 دولة.

1. قم بإنشاء مخطط صندوق ذي العارضين للبيانات.

طول الخط الساحلي (km)	
28	130
580	127
100	301
228	40
31	187
192	112
13	

تم تحميل هذا الملف من
موقع المناهج الإماراتية
alManahj.com/ae

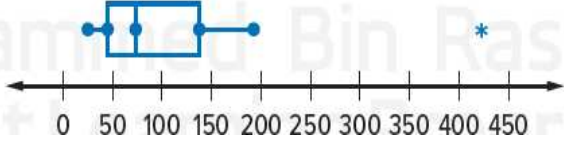


2. ما عدد الكيلو مترات التي يقل عنها الخط الساحلي لنصف الدول؟

3. اكتب جملة تشرح ما يوضّحه طول مخطط الصندوق ذي العارضين بشأن عدد كيلومترات الخط الساحلي لمجموعة دول؟

السؤال السادس عشر : يتم عرض مقدار السرعات الحرارية لفواكه معينة. أوجد الوسيط ومقاييس التباين. ثم وضّح البيانات.

عدد السرعات الحرارية



السؤال السابع عشر : يوضّح المدرج التكراري متوسط سرعات الحيوانات بالكيلو مترات لكل ساعة للعديد من الحيوانات. صف شكل التوزيع.

متوسط سرعات الحيوانات

