

تم تحميل هذا الملف من موقع المناهج الإماراتية



*للحصول على أوراق عمل لجميع الصفوف وجميع المواد اضغط هنا

<https://almanahj.com/ae>

* للحصول على أوراق عمل لجميع مواد الصف السادس اضغط هنا

<https://almanahj.com/ae/6>

* للحصول على جميع أوراق الصف السادس في مادة اجتماعيات وجميع الفصول, اضغط هنا

<https://almanahj.com/ae/6>

* للحصول على أوراق عمل لجميع مواد الصف السادس في مادة اجتماعيات الخاصة بـ اضغط هنا

<https://almanahj.com/ae/6>

* لتحميل كتب جميع المواد في جميع الفصول للـ الصف السادس اضغط هنا

<https://almanahj.com/ae/grade6>

للتحدث إلى بوت المناهج على تلغرام: اضغط هنا

https://t.me/almanahj_bot

مراجعة الدراسات الاجتماعية الصف (6)

الفصلين الدراسيين الثاني والثالث

(العام الدراسي 2020-2021)

مهارات الفصل الدراسي الثالث		مهارات الفصل الدراسي الثاني	
المقارنة والتشابه والاختلاف	1	الشخصيات البارزة والخطوط الزمنية	1
تطبيق خطوات حل المشكلات	2	التعريفات والمصطلحات والمفاهيم	2
كتابة رأيه في موضوع معين ورسائل شكر للقيادة	3	قراءة وتحليل الصور والأشكال والخرائط	3
المخططات الذهنية	4	المخططات الذهنية	4
التمييز بين العبارات الصحيحة والعبارات الخاطئة	5	التمييز بين العبارات الصحيحة والعبارات الخاطئة	5
معرفة القيم السلوكية وقيم دولة الامارات	6	معرفة القيم السلوكية وقيم دولة الامارات	6
التعرف على مجالات التكنولوجيا والمشاريع	7	التعرف على مجالات الابتكار والابداع	7

اسم الطالب	
الصف والشعبة	

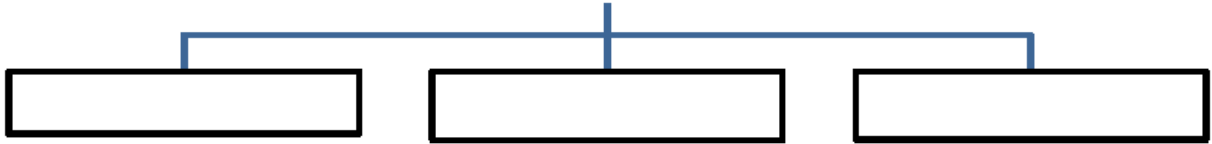
الفصل الدراسي الثاني - درس آسيا

1 - اكتب التعريف المناسب امام المصطلحات الاتية : - (1 - 2 - 3 - 4)

شبه الجزيرة	
الإقليم	
الكثافة العامة	
الكشوف الجغرافية	

2 - اكمل المخطط الذهني التالي موضحا أهمية موقع دول مجلس التعاون الخليجي : - (1 - 2 - 3)

اهمية موقع قارة آسيا

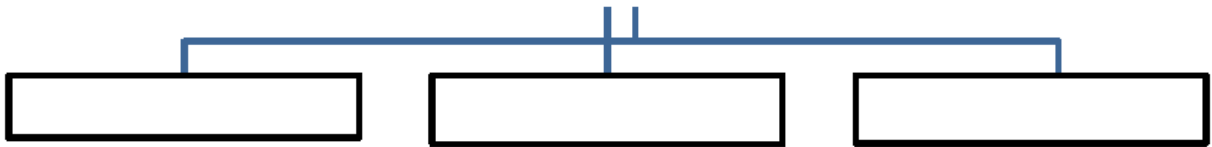


3 - أكمل جدول اشكال التضاريس الاتي : - (1 - 2 - 3 - 4)

اهم الجبال	اهم الهضاب	السهول الفيضية	السهول الساحلية

4 - اكمل المخططات الاتية : - (1 - 2 - 3 - 4 - 5 - 6 - 7 - 8 - 9)

العوامل المؤثرة في المناخ والنبات الطبيعي بآسيا



العوامل المؤثرة في توزيع السكان بقارة اسيا



ما اسباب الاستعمار باسيا



مدرسة المنارة الخاصة (الشامخة)

درس الهند

1 - اكتب التعريف المناسب امام المصطلحات الآتية : - (1 - 2 - 3)

.....	الانفجار السكاني
.....	الشرق الأوسط
.....	الأنشطة البشرية

2 - اكمل المخطط الذهني التالي موضحا أهمية موقع جمهورية الهند : - (1 - 2 - 3)

اهمية موقع جمهورية الهند



3 - اكمل جدول اشكال التضاريس الآتي : - (1 - 2 - 3 - 4)

اهم الجبال	اهم الهضاب	السهول الفيضية	السهول الساحلية
.....

4 - اكمل الجدول التالي : - (1 - 2 - 3 - 4 - 5 - 6 - 7 - 8 - 9 - 10)

.....	مناخ الهند بالصيف
.....	مناخ الهند بالشتاء
.....	أسباب الانفجار السكاني
.....	نتائج الانفجار السكاني
.....	الأنشطة الاقتصادية
.....	اهم الصادرات
.....	اهم الواردات
.....	اهم الأماكن السياحية
.....	اهم مجالات التعاون مع الامارات
.....	حكام زاروا الهند

مدرسة المنارة الخاصة (الشارقة)

درس الصين

1 - اكتب التعريف المناسب امام المصطلحات الاتية : - (1 - 2 - 3)

.....	المحصول النقدي
.....	الاستثمار
.....	النمو الاقتصادي

2 - اكمل المخطط الذهني التالي : - (1 - 2 - 3)

اهم ملامح الموقع الجغرافي للصين



3 - اكمل جدول اشكال التضاريس الاتي : - (1 - 2 - 3 - 4)

اهم الجبال	اهم الهضاب	السهول الفيضية	السهول الساحلية
.....

4 - اكمل الجدول التالي : - (1 - 2 - 3 - 4 - 5 - 6 - 7 - 8 - 9 - 10)

.....	خصائص الإقليم الصيني
.....	خصائص الإقليم الموسمي
.....	خصائص المناخ اللورنسي
.....	عدد السكان - اللغة
.....	الأنشطة الاقتصادية
.....	اهم الصادرات
.....	اهم الواردات
.....	اهم الأماكن السياحية
.....	اهم مجالات التعاون مع الامارات
.....	حكام زاروا الصين

رسالة المدرسة الخاصة (الشارقة)

درس كوريا الجنوبية

1 - اكمل الجدول الاتي حسب معطيات الجدول : - (1 - 2 - 3)

.....	الحروب مع اليابان
.....	علاقات الكوريتين
.....	مساحتها

2 - اكمل المخطط الذهني التالي : - (1 - 2 - 3)

اهم المسطحات المائية التي تشرف عليها كوريا الجنوبية



3 - اكمل جدول اشكال التضاريس الاتي : - (1 - 2 - 3 - 4)

اهم الجبال	اهم الجزر	السهول الفيضية (الأنهار)	السهول الساحلية (البحار)
.....

4 - اكمل الجدول التالي : - (1 - 2 - 3 - 4 - 5 - 6 - 7 - 8 - 9 - 10)

.....	مناخ كوريا بالصيف
.....	مناخ كوريا بالشتاء
.....	عوامل قوة اقتصادها
.....	عوامل نمو الصناعة
.....	الأنشطة الاقتصادية
.....	اهم الصادرات
.....	اهم الواردات
.....	اهم الأماكن السياحية
.....	اهم مجالات التعاون مع الامارات
.....	حكام زاروا كوريا الجنوبية

مدرسة المنارة الخاصة (الشارقة)

درس زايد حضارة وانجازات

1 - اكمل الجدول الاتي حسب معطيات الجدول : - (1 - 2 - 3)

.....	مولد الشيخ زايد
.....	قبيلة الشيخ زايد
.....	تعليم الشيخ زايد

2 - اكمل المخطط الذهني التالي : - (1 - 2 - 3)

اهم الصفات التي اكتسبها الشيخ زايد من الصحراء



3 - اكمل جدول الرياضات التي مارسها الشيخ زايد : - (1 - 2 - 3 - 4)

.....
-------	-------	-------	-------

4 - اكمل الجدول التالي : - (1 - 2 - 3 - 4 - 5 - 6 - 7 - 8 - 9 - 10)

.....	إنجازات زايد وبناء الانسان
.....	إنجازات زايد في التعليم
.....	إنجازات زايد في البيئة
.....	إنجازات زايد والتنمية
.....	إنجازات زايد بالزراعة
.....	إنجازات زايد والقوات المسلحة
.....	زايد ومظاهر التقدير الدولي
.....	المدن السكنية التي بناها
.....	الجامعات التي انشائها
.....	الدول التي ساعدها

درس موروث بلادي

1 - اكمل الجدول الاتي حسب معطيات الجدول : - (3 - 2 - 1)

.....	عرف الموروث
.....	أهمية الموروث
.....	الموروث نوعان هما

2 - اكمل المخطط الذهني التالي : - (3 - 2 - 1)



3 - أكمل جدول أنواع الموروث المعنوي : - (4 - 3 - 2 - 1)

.....
-------	-------	-------	-------

4 - اكمل الجدول التالي : - (6 - 5 - 4 - 3 - 2 - 1)

.....	اذكر مثل شعبي
.....	اكتب أنواع الملابس
.....	كيف الاحتفال بشهر رمضان
.....	كيف الاحتفال بحافظ القران
.....	اهم حرف البيئة الساحلية
.....	اهم حرف البيئة الصحراوية
.....	اهم حرف البيئة الجبلية
.....	أنواع الزيارة والضيافة
.....	مؤسسات تهتم بالموروث
.....	مبادرة وزارة التعليم
.....	اقسام الادب الشعبي
.....	مثال للأدوية الشعبية

مدرسة المنارة الخاصة (الشارقة)



درس المدرسة الاماراتية

1 - ما اهداف المدرسة الاماراتية : - (1 - 2 - 3 - 4 - 5 - 6)

.....	4	1
.....	5	2
.....	6	3

2 - اكمل المخطط الذهني التالي الخاص بمراحل التعليم : - (1 - 2 - 3 - 4)

.....
.....

3 - اكمل جدول الابعاد التنموية للتعليم بالإمارات : - (1 - 2 - 3 - 4)

.....
-------	-------	-------	-------

4 - اكمل الجدول التالي : - (1 - 2 - 3 - 4)

.....	1	التعليم وفق المؤشرات العالمية 2013 - 2016
.....	2	
.....	3	
.....	4	

5 - ما سمات طالب المدرسة الإماراتية ؟ (1 - 2 - 3)

- أ -
- ب -
- ج -

6 - ما هي رؤية الامارات 2021 م ؟ (1 - 2 - 3 - 4)

-
-
-
-

مدرسة المنارة الخاصة (الشامخة)

الفصل الدراسي الثالث - درس النبات الحولي

1 - اكمل الجدول الاتي حسب معطيات الجدول : - (3 - 2 - 1)

.....	أنواع النبات الطبيعي
.....	أمثلة من النبات الحولي
.....	أمثلة من النبات المعمر

2 - اكمل المخطط الذهني التالي : - (3 - 2 - 1)



3 - ما أهمية النباتات الحولية : - (4 - 3 - 2 - 1)

.....
-------	-------	-------	-------

4 - اكمل الجدول التالي : - (10 - 9 - 8 - 7 - 6 - 5 - 4 - 3 - 2 - 1)

.....	تعريف النبات الحولي
.....	تعريف النبات المعمر
.....	امثلة من النباتات الجبلية
.....	امثلة من النباتات الصحراوية
.....	أمثلة من النباتات الحسوية
.....	امثلة من نباتات السهول
.....	استخدام نبات الحماض
.....	استخدام نبات الطرثوث
.....	استخدام نبات العريون
.....	استخدام نبات الهرم



درس اليابان

1 - اكمل الجدول الاتي حسب معطيات الجدول : - (1 - 2 - 3)

.....	معنى اسم اليابان
.....	اهم جزر اليابان
.....	البحار / مساحة اليابان

2 - اكمل المخطط الذهني التالي : - (1 - 2 - 3)



3 - ما أهم الصناعات باليابان : - (1 - 2 - 3 - 4)

.....
-------	-------	-------	-------

4 - اكمل الجدول التالي : - (1 - 2 - 3 - 4 - 5 - 6)

.....	اهم الجبال وارتفاعه
.....	ما أهمية السهول
.....	الحرارة والامطار صيفاً
.....	الحرارة والامطار شتاءً
.....	نباتات الغابات المعتدلة
.....	نباتات الغابات الباردة
.....	سبب عدم الملاحة بالأنهار
.....	عوامل مؤثرة بمناخ اليابان
.....	سبب تراجع سكان اليابان
.....	العلاقات مع الامارات
.....	حل صعوبات المشروعات لاقتصادية
.....	مجالات التعاون مع الامارات

مدرسة المنارة الخاصة (الشارقة)

درس أفريقيا

1 - اكمل الجدول الاتي حسب معطيات الجدول :- (3 - 2 - 1)

.....	معني اسم افريقيا
.....	اهم المسطحات المائية
.....	اهم الأنهار / المساحة

2 - اكمل المخطط الذهني التالي :- (3 - 2 - 1)



3 - ما أهم العوامل المؤثرة في مناخ قارة أفريقيا :- (4 - 3 - 2 - 1)

.....
-------	-------	-------	-------

4 - اكمل الجدول التالي :- (6 - 5 - 4 - 3 - 2 - 1)

.....	اهم الجبال
.....	أهم الهضاب
.....	الأقاليم المناخية
.....	أهمية الغابات الاستوائية
.....	مناطق تركيز السكان
.....	الموارد الطبيعية بالقارة
.....	اهم أشجار الغابات
.....	اهم المحاصيل الزراعية
.....	أهمية موقع مصر الجغرافي
.....	علاقات مصر مع الامارات
.....	اهم مصادر الطاقة
.....	سبب قلة الإنتاج السمكي

مدرسة المنارة الخاصة (الشارقة)

درس الصحراء بفكر زايد

1 - اكمل الجدول الاتي حسب معطيات الجدول : - (3 - 2 - 1)

.....	تعريف الصحراء
.....	اهم حيوانات الرعي
.....	اهم المزروعات

2 - اكمل المخطط الذهني التالي : - (3 - 2 - 1)



3 - ما أهم الأنشطة الاقتصادية بالصحراء : - (4 - 3 - 2 - 1)

.....
-------	-------	-------	-------

4 - اكمل الجدول التالي : - (6 - 5 - 4 - 3 - 2 - 1)

.....	اهم المعادن بالصحراء
.....	تعريف الواحات
.....	أنشطة ترفيهية بالصحراء
.....	تأثير الصحراء بقيم زايد
.....	هوايات الشيخ زايد
.....	مشكلات الصحراء
.....	حلول مشكلة التصحر
.....	زايد وزراعة الصحراء
.....	مشاريع التنمية الزراعية
.....	زايد وزراعة النخيل
.....	جوائز زايد بالبيئة
.....	مقترحاتك لإعمار الصحراء

مدرسة المنارة الخاصة (الشارقة)

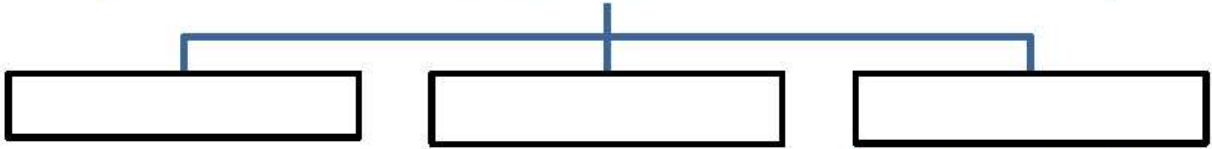
درس عبقرية اليونان القديمة

1 - اكمل الجدول الاتي حسب معطيات الجدول :- (3 - 2 - 1)

.....	الألعاب باليونان
.....	الثقافة باليونان
.....	توحيد اليونان

2 - اكمل المخطط الذهني التالي :- (3 - 2 - 1)

أهم الاختراعات اليونانية



3 - ما أهم الألعاب الأولمبية باليونان :- (4 - 3 - 2 - 1)

.....
-------	-------	-------	-------

4 - اكمل الجدول التالي :- (6 - 5 - 4 - 3 - 2 - 1)

.....	أهمية الاكروبوليس
.....	إنجازات بريكليس
.....	اهتمام الامارات بالأولمبياد
.....	إنجازات سقراط
.....	إنجازات ارسطو
.....	إنجازات فيثاغورس
.....	اجازات افلاطون
.....	إنجازات بطليموس
.....	إنجازات ارخميدس
.....	الطفل اديب البلوشي
.....	الاسكندر الاكبر
.....	برج خليفة

مدرسة المنارة الخاصة (الشارقة)

درس الاستشراق

1 - اكمل الجدول الاتي حسب معطيات الجدول :- (3 - 2 - 1)

.....	مفهوم الاستشراق
.....	أهمية الاستشراق
.....	اهتمام أوروبا بها

2 - اكمل المخطط الذهني التالي :- (3 - 2 - 1)

أهم المستشرقون للجزيرة العربية



3 - من هم المستشرقون الذين درستهم بالدرس :- (4 - 3 - 2 - 1)

.....
-------	-------	-------	-------

4 - اكمل الجدول التالي :- (6 - 5 - 4 - 3 - 2 - 1)

.....	إنجازات دوغلاس
.....	إنجازات فيلبي
.....	إنجازات مبارك بن لندن
.....	إنجازات أن بلانت
.....	مبارك بن لندن وزايد
.....	إنجازات فيثاغورس

مدرسة المنارة الخاصة (الشارقة)