

شكراً لتحميلك هذا الملف من موقع المناهج الإماراتية



ورقة عمل درس الإمارات صانعة السلام في القرن الأفريقي

[موقع المناهج](#) ⇨ [المناهج الإماراتية](#) ⇨ [الصف السادس](#) ⇨ [اجتماعيات](#) ⇨ [الفصل الثالث](#) ⇨ [الملف](#)

تاريخ إضافة الملف على موقع المناهج: 09:10:52 2024-05-07

إعداد: عمر حسن

التواصل الاجتماعي بحسب الصف السادس



اضغط هنا للحصول على جميع روابط "الصف السادس"

روابط مواد الصف السادس على تلغرام

[الرياضيات](#)

[اللغة الانجليزية](#)

[اللغة العربية](#)

[التربية الاسلامية](#)

المزيد من الملفات بحسب الصف السادس والمادة اجتماعيات في الفصل الثالث

[حل أسئلة كتاب الطالب](#)

1

[التوزيع الزمني للخطة الفصلية للمقرر](#)

2

[أوراق عمل درس النبات](#)

3

[نموذج تحليل محتوى وحدات المقرر](#)

4

المزيد من الملفات بحسب الصف السادس والمادة اجتماعيات في الفصل الثالث

[كتاب الطالب المجلد الثالث](#)

5



الأسبوع الثالث

الهدف العام : أفريقيا (مهارة قراءة الخرائط)

المشهد الأول : عزيزي الطالب على خريطة أفريقيا الصماء عين الموقع النسبي لها

المشهد الثاني : علل :تسمى بالقارة السوداء

.....؟

كم عدد دول أفريقيا ؟

.....

ارسم كل من خط غرينتش- دائرة الاستواء -

مدار السرطان - مدار الجدي ؟

اذكر اسم دولة عربية في أفريقيا ؟

.....



المشهد الثالث : استكمل إجابات السؤال التالي :

تقع أفريقيا بين دائرتي عرض

وبين خطي طول

مساحة القارة

ترتيبها بين قارت العالم

يفصلها عن آسيا

يفصلها عن أوروبا

تقع القارة في العروض

من مظاهر الطقس فيها



الأسبوع الثالث

الهدف العام : أفريقيا (مهارة قراءة الخرائط)

المشهد الأول : عزيزي الطالب على خريطة أفريقيا الصماء عين الموقع النسبي لها

المحيط الأطلسي- الهندي - البحر الأحمر - البحر المتوسط -
قناة السويس - جبل طارق - باب المنذب



المشهد الثاني : علل : تسمى بالقارة السوداء

.....؟

ارسم كل من خط غرينتش- دائرة الاستواء -
مدار السرطان - مدار الجدي ؟

اذكر اسم دولة عربية في أفريقيا ؟

.....

الجبال - 37 s-36n - السهول- 17w-51e - المدارية الحارة -
30-0.3 مليون كم² البحر المتوسط وجبل طارق - الثاني - البحر
الأحمر - باب المنذب

المشهد الثالث :
استكمل إجابات السؤال
التالي :

تقع أفريقيا بين دائرتي عرض
وبين خطي طول
مساحة القارة
ترتيبها بين قارت العالم
يفصلها عن آسيا و
يفصلها عن أوروبا و
تقع القارة في العروض
من مظاهر الطقس فيها

الهدف العام : أفريقيا (التصنيف) مظاهر السطح

المشهد الأول : عزيزي الطالب استكمل الخرائط الذهنية التالية ؟

الجبال

المشهد الثاني : من الهضاب
في القارة ؟

.....
؟.....

• الغرب

.....

البحر
الأحمر

•

• شرق

السهول

البحر
الأحمر

دلتا النيل

المشهد الثالث : ما هي العوامل المؤثرة في مناخ القارة ؟

.....و.....و.....

المشهد الرابع : خارج الصندوق : علل رغم وقوعها في
العروض الحارة إلا أن جبال كلمنجارو تتساقط عليه الثلوج
أغلب فترات العام ؟

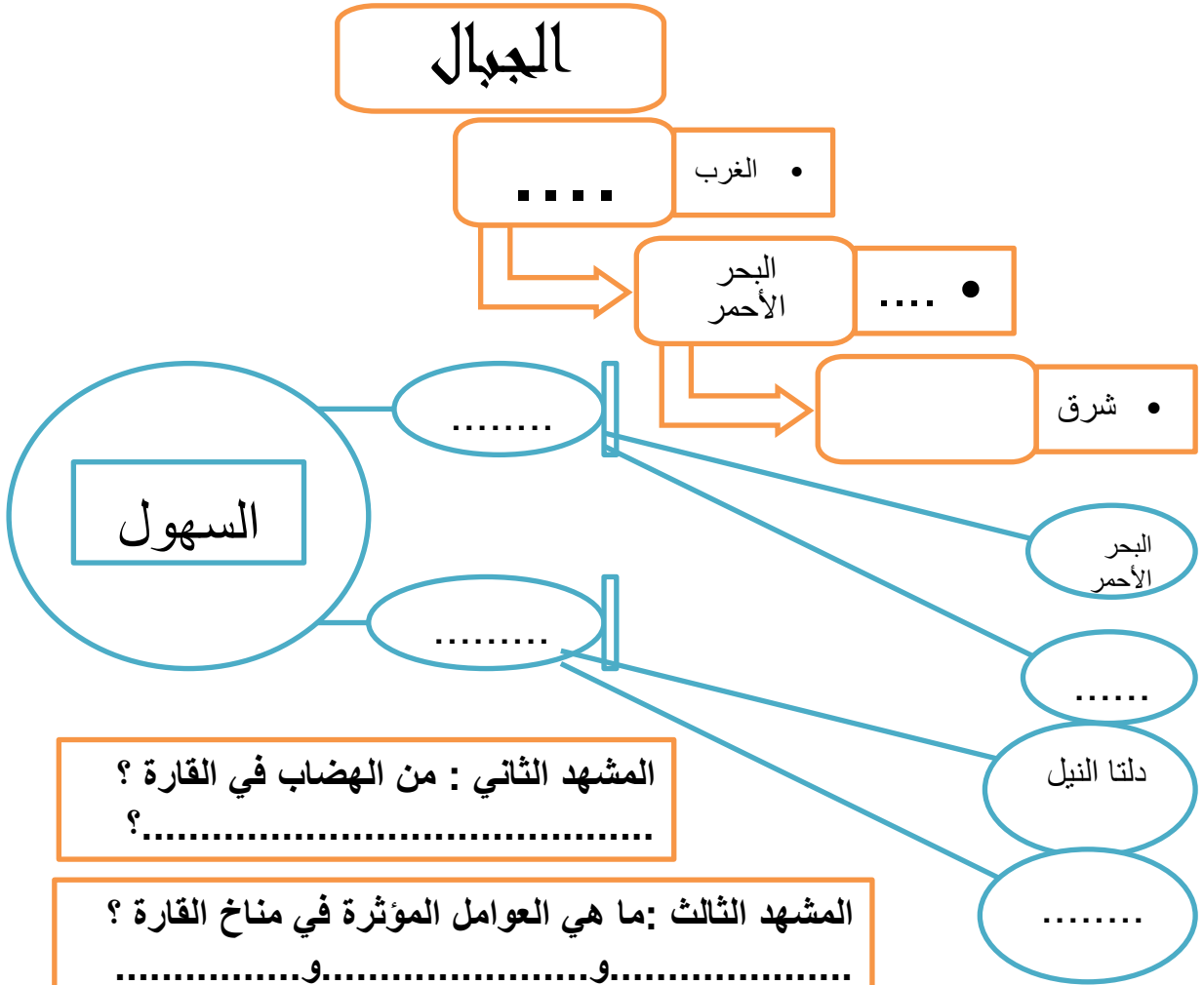
.....

المشهد الخامس : قارن بين الأقاليم الاستوائي
والصحراوي من حيث المفهوم والخصائص ؟ على ظهر
الورقة

الأسبوع الثالث

الهدف العام : أفريقيا (التصنيف) مظاهر السطح

المشهد الأول : عزيزي الطالب استكمل الخرائط الذهنية التالية ؟



المشهد الرابع : خارج الصندوق : علل رغم وقوعها في العروض الحارة إلا أن جبال كلمنجاو تتساقط عليه الثلوج أغلب فترات العام ؟
.....



الأسبوع الثالث

الهدف العام : أفريقيا (مهارة قراءة الخرائط)

المشهد الأول : عزيزي الطالب على خريطة أفريقيا الصماء عين مصر

المشهد الثاني : ما هو تعريف الكثافة السكانية
؟
.....
كم عدد سكان أفريقيا ؟

.....
استخدم اللون الأحمر في تحديد مناطق الكثافة
السكانية العالية (على الخريطة) ؟

علل تتميز القارة الأفريقية بالتنوع الطبيعي ؟
.....



المشهد الثالث : استكمل إجابات السؤال التالي :

تسود الكثافة السكانية المتوسطة في
يقل السكان في المناطق
من الموارد الطبيعية في القارة
أطول نهر في القارة هو
انخفاض إنتاج السمك بسبب و.....
من المعادن الموجودة في القارة و..... و.....
تكن أهمية موقع مصر الجغرافي في
..... و.....



المشهد الرابع : على دفتر الرسم البياني مثل
الجدول صفحة 56 تمثيل بالأعمدة :

الأسبوع الثالث

الهدف العام : أفريقيا (مهارة قراءة الخرائط)

المشهد الأول : عزيزي الطالب على خريطة أفريقيا الصماء عين مصر

المشهد الثاني : ما هو تعريف الكثافة السكانية
؟
.....
كم عدد سكان أفريقيا ؟
.....

استخدم اللون البرتقالي في تحديد مناطق الكثافة
السكانية المتوسطة (على الخريطة) ؟



المشهد الثالث : استكمل إجابات السؤال التالي :

تسود الكثافة السكانية المرتفعة في
يقل السكان في المناطق
من الموارد الطبيعية في القارة
أطول نهر في القارة هو
انخفاض إنتاج السمك بسبب و.....
من المعادن الموجودة في القارة و..... و.....
تكن أهمية موقع مصر الجغرافي في
..... و.....



المشهد الرابع : على دفتر الرسم البياني مثل
الجدول صفحة 56 تمثيل بالأعمدة :



الأسبوع الثالث

الهدف العام : أفريقيا (مهارة قراءة الخرائط)

المشهد الأول : عزيزي الطالب على خريطة أفريقيا الصماء عين الموقع النسبي لها

المشهد الثاني : علل :تسمى بالقارة السوداء

.....؟

كم عدد دول أفريقيا ؟

.....

ارسم كل من خط غرينتش- دائرة الاستواء -

مدار السرطان - مدار الجدي ؟

اذكر اسم دولة عربية في أفريقيا ؟

.....



المشهد الثالث : استكمل إجابات السؤال التالي :

تقع أفريقيا بين دائرتي عرض

وبين خطي طول

مساحة القارة

ترتيبها بين قارت العالم

يفصلها عن آسيا

يفصلها عن أوروبا

تقع القارة في العروض

من مظاهر الطقس فيها



الأسبوع الثالث

الهدف العام : أفريقيا (مهارة قراءة الخرائط)

المشهد الأول : عزيزي الطالب على خريطة أفريقيا الصماء عين الموقع النسبي لها

المحيط الأطلسي- الهندي - البحر الأحمر - البحر المتوسط -
قناة السويس - جبل طارق - باب المنذب



المشهد الثاني : علل : تسمى بالقارة السوداء

.....؟

ارسم كل من خط غرينتش- دائرة الاستواء -
مدار السرطان - مدار الجدي ؟

اذكر اسم دولة عربية في أفريقيا ؟

.....

الجبال - 37 s-36n - السهول- 17w-51e - المدارية الحارة -
30-0.3 مليون كم² البحر المتوسط وجبل طارق - الثاني - البحر
الأحمر - باب المنذب

المشهد الثالث :
استكمل إجابات السؤال
التالي :

تقع أفريقيا بين دائرتي عرض
وبين خطي طول
مساحة القارة
ترتيبها بين قارت العالم
يفصلها عن آسيا و
يفصلها عن أوروبا و
تقع القارة في العروض
من مظاهر الطقس فيها

الهدف العام : أفريقيا (التصنيف) مظاهر السطح

المشهد الأول : عزيزي الطالب استكمل الخرائط الذهنية التالية ؟

الجبال

المشهد الثاني : من الهضاب
في القارة ؟

.....
؟.....

• الغرب

.....

البحر
الأحمر

..... •

• شرق

السهول

البحر
الأحمر

دلتا النيل

المشهد الثالث : ما هي العوامل المؤثرة في مناخ القارة ؟

..... و..... و.....

المشهد الرابع : خارج الصندوق : علل رغم وقوعها في
العروض الحارة إلا أن جبال كلمنجارو تتساقط عليه الثلوج
أغلب فترات العام ؟

.....

المشهد الخامس : قارن بين الأقاليم الاستوائي
والصحراوي من حيث المفهوم والخصائص ؟ على ظهر
الورقة



الهدف العام : أفريقيا (التصنيف) مظاهر السطح

المشهد الأول : عزيزي الطالب استكمل الخرائط الذهنية التالية ؟

الجبال

• الغرب

••••

البحر
الأحمر

•••••

• شرق

السهول

البحر
الأحمر

دلتا النيل

المشهد الثاني : من الهضاب في القارة ؟
.....

المشهد الثالث : ما هي العوامل المؤثرة في مناخ القارة ؟
.....و.....و.....و.....

المشهد الرابع : خارج الصندوق : علل رغم وقوعها في
العروض الحارة إلا أن جبال كلمنجاو تتساقط عليه الثلوج
أغلب فترات العام ؟
.....



الأسبوع الثالث

الهدف العام : أفريقيا (مهارة قراءة الخرائط)

المشهد الأول : عزيزي الطالب على خريطة أفريقيا الصماء عين مصر

المشهد الثاني : ما هو تعريف الكثافة السكانية
؟
.....
كم عدد سكان أفريقيا ؟

.....
استخدم اللون الأحمر في تحديد مناطق الكثافة
السكانية العالية (على الخريطة) ؟

علل تتميز القارة الأفريقية بالتنوع الطبيعي ؟
.....



المشهد الثالث : استكمل إجابات السؤال التالي :

تسود الكثافة السكانية المتوسطة في
يقل السكان في المناطق
من الموارد الطبيعية في القارة
أطول نهر في القارة هو
انخفاض إنتاج السمك بسبب و.....
من المعادن الموجودة في القارة و..... و.....
تكن أهمية موقع مصر الجغرافي في
..... و.....



المشهد الرابع : على دفتر الرسم البياني مثل
الجدول صفحة 56 تمثيل بالأعمدة :

الأسبوع الثالث

الهدف العام : أفريقيا (مهارة قراءة الخرائط)

المشهد الأول : عزيزي الطالب على خريطة أفريقيا الصماء عين مصر

المشهد الثاني : ما هو تعريف الكثافة السكانية
؟
.....
كم عدد سكان أفريقيا ؟
.....

استخدم اللون البرتقالي في تحديد مناطق الكثافة
السكانية المتوسطة (على الخريطة) ؟



المشهد الثالث : استكمل إجابات السؤال التالي :

تسود الكثافة السكانية المرتفعة في
يقل السكان في المناطق
من الموارد الطبيعية في القارة
أطول نهر في القارة هو
انخفاض إنتاج السمك بسبب و.....
من المعادن الموجودة في القارة و..... و.....
تكن أهمية موقع مصر الجغرافي في
..... و.....



المشهد الرابع : على دفتر الرسم البياني مثل
الجدول صفحة 56 تمثيل بالأعمدة :



الأسبوع الثالث

الهدف العام : أفريقيا (مهارة قراءة الخرائط)

المشهد الأول : عزيزي الطالب على خريطة أفريقيا الصماء عين الموقع النسبي لها

المشهد الثاني : علل :تسمى بالقارة السوداء

.....؟

كم عدد دول أفريقيا ؟

.....

ارسم كل من خط غرينتش- دائرة الاستواء -

مدار السرطان - مدار الجدي ؟

اذكر اسم دولة عربية في أفريقيا ؟

.....



المشهد الثالث : استكمل إجابات السؤال التالي :

تقع أفريقيا بين دائرتي عرض

وبين خطي طول

مساحة القارة

ترتيبها بين قارت العالم

يفصلها عن آسيا

يفصلها عن أوروبا

تقع القارة في العروض

من مظاهر الطقس فيها



الأسبوع الثالث

الهدف العام : أفريقيا (مهارة قراءة الخرائط)

المشهد الأول : عزيزي الطالب على خريطة أفريقيا الصماء عين الموقع النسبي لها

المحيط الأطلسي- الهندي - البحر الأحمر - البحر المتوسط -
قناة السويس - جبل طارق - باب المنذب



المشهد الثاني : علل : تسمى بالقارة السوداء

.....؟

ارسم كل من خط غرينتش- دائرة الاستواء -
مدار السرطان - مدار الجدي ؟

اذكر اسم دولة عربية في أفريقيا ؟

.....

الجبال - 37 s-36n - السهول- 17w-51e - المدارية الحارة -
30-0.3 مليون كم² البحر المتوسط وجبل طارق - الثاني - البحر
الأحمر - باب المنذب

المشهد الثالث :
استكمل إجابات السؤال
التالي :

تقع أفريقيا بين دائرتي عرض
وبين خطي طول
مساحة القارة
ترتيبها بين قارت العالم
يفصلها عن آسيا و
يفصلها عن أوروبا و
تقع القارة في العروض
من مظاهر الطقس فيها

الهدف العام : أفريقيا (التصنيف) مظاهر السطح

المشهد الأول : عزيزي الطالب استكمل الخرائط الذهنية التالية ؟

الجبال

المشهد الثاني : من الهضاب
في القارة ؟

.....
؟.....

• الغرب

.....

البحر
الأحمر

•

• شرق

السهول

البحر
الأحمر

دلتا النيل

المشهد الثالث : ما هي العوامل المؤثرة في مناخ القارة ؟

.....و.....و.....

المشهد الرابع : خارج الصندوق : علل رغم وقوعها في
العروض الحارة إلا أن جبال كلمنجارو تتساقط عليه الثلوج
أغلب فترات العام ؟

.....

المشهد الخامس : قارن بين الأقاليم الاستوائي
والصحراوي من حيث المفهوم والخصائص ؟ على ظهر
الورقة

الهدف العام : أفريقيا (التصنيف) مظاهر السطح

المشهد الأول : عزيزي الطالب استكمل الخرائط الذهنية التالية ؟

الجبال

• الغرب

البحر
الأحمر

• شرق

البحر
الأحمر

دلتا النيل

السهول

المشهد الثاني : من الهضاب في القارة ؟
.....

المشهد الثالث : ما هي العوامل المؤثرة في مناخ القارة ؟
.....و.....و.....

المشهد الرابع : خارج الصندوق : علل رغم وقوعها في
العروض الحارة إلا أن جبال كلمنجارو تتساقط عليه الثلوج
أغلب فترات العام ؟
.....



الأسبوع الثالث

الهدف العام : أفريقيا (مهارة قراءة الخرائط)

المشهد الأول : عزيزي الطالب على خريطة أفريقيا الصماء عين مصر

المشهد الثاني : ما هو تعريف الكثافة السكانية

.....؟

كم عدد سكان أفريقيا ؟

.....

استخدم اللون الأحمر في تحديد مناطق الكثافة

السكانية العالية (على الخريطة) ؟

علل تتميز القارة الأفريقية بالتنوع الطبيعي ؟

.....



المشهد الثالث : استكمل إجابات السؤال التالي :

تسود الكثافة السكانية المتوسطة في

..... يقل السكان في المناطق

..... من الموارد الطبيعية في القارة

..... أطول نهر في القارة هو

..... انخفاض انتاج السمك بسبب

..... من المعادن الموجودة في القارة

..... تكمن أهمية موقع مصر الجغرافي في

..... و.....



المشهد الرابع : على دفتر الرسم البياني مثل

الجدول صفحة 56 تمثيل بالأعمدة :

الأسبوع الثالث

الهدف العام : أفريقيا (مهارة قراءة الخرائط)

المشهد الأول : عزيزي الطالب على خريطة أفريقيا الصماء عين مصر

المشهد الثاني : ما هو تعريف الكثافة السكانية
؟
.....
كم عدد سكان أفريقيا ؟
.....

استخدم اللون البرتقالي في تحديد مناطق الكثافة
السكانية المتوسطة (على الخريطة) ؟



المشهد الثالث : استكمل إجابات السؤال التالي :

تسود الكثافة السكانية المرتفعة في
يقل السكان في المناطق
من الموارد الطبيعية في القارة
أطول نهر في القارة هو
انخفاض إنتاج السمك بسبب و.....
من المعادن الموجودة في القارة و..... و.....
تكن أهمية موقع مصر الجغرافي في
..... و.....



المشهد الرابع : على دفتر الرسم البياني مثل
الجدول صفحة 56 تمثيل بالأعمدة :



الأسبوع الثالث

الهدف العام : أفريقيا (مهارة قراءة الخرائط)

المشهد الأول : عزيزي الطالب على خريطة أفريقيا الصماء عين الموقع النسبي لها

المشهد الثاني : علل :تسمى بالقارة السوداء

.....؟

كم عدد دول أفريقيا ؟

.....

ارسم كل من خط غرينتش- دائرة الاستواء -

مدار السرطان - مدار الجدي ؟

اذكر اسم دولة عربية في أفريقيا ؟

.....



المشهد الثالث : استكمل إجابات السؤال التالي :

تقع أفريقيا بين دائرتي عرض

وبين خطي طول

مساحة القارة

ترتيبها بين قارت العالم

يفصلها عن آسيا

يفصلها عن أوروبا

تقع القارة في العروض

من مظاهر الطقس فيها



الأسبوع الثالث

الهدف العام : أفريقيا (مهارة قراءة الخرائط)

المشهد الأول : عزيزي الطالب على خريطة أفريقيا الصماء عين الموقع النسبي لها

المحيط الأطلسي- الهندي - البحر الأحمر - البحر المتوسط -
قناة السويس - جبل طارق - باب المنذب



المشهد الثاني : علل : تسمى بالقارة السوداء

.....؟

ارسم كل من خط غرينتش- دائرة الاستواء -
مدار السرطان - مدار الجدي ؟

اذكر اسم دولة عربية في أفريقيا ؟

.....

الجبال - 37 s-36n - السهول- 17w-51e - المدارية الحارة -
30-0.3 مليون كم² البحر المتوسط وجبل طارق - الثاني - البحر
الأحمر - باب المنذب

المشهد الثالث :
استكمل إجابات السؤال
التالي :

تقع أفريقيا بين دائرتي عرض
وبين خطي طول
مساحة القارة
ترتيبها بين قارت العالم
يفصلها عن آسيا و
يفصلها عن أوروبا و
تقع القارة في العروض
من مظاهر الطقس فيها

الهدف العام : أفريقيا (التصنيف) مظاهر السطح

المشهد الأول : عزيزي الطالب استكمل الخرائط الذهنية التالية ؟

الجبال

المشهد الثاني : من الهضاب
في القارة ؟

.....
؟.....

• الغرب

.....

البحر
الأحمر

..... •

• شرق

السهول

البحر
الأحمر

دلتا النيل

المشهد الثالث : ما هي العوامل المؤثرة في مناخ القارة ؟

.....و.....و.....

المشهد الرابع : خارج الصندوق : علل رغم وقوعها في
العروض الحارة إلا أن جبال كلمنجارو تتساقط عليه الثلوج
أغلب فترات العام ؟

.....

المشهد الخامس : قارن بين الأقاليم الاستوائي
والصحراوي من حيث المفهوم والخصائص ؟ على ظهر
الورقة



الهدف العام : أفريقيا (التصنيف) مظاهر السطح

المشهد الأول : عزيزي الطالب استكمل الخرائط الذهنية التالية ؟

الجبال

• الغرب

••••

البحر
الأحمر

•••••

• شرق

السهول

البحر
الأحمر

دلتا النيل

المشهد الثاني : من الهضاب في القارة ؟
.....

المشهد الثالث : ما هي العوامل المؤثرة في مناخ القارة ؟
.....و.....و.....

المشهد الرابع : خارج الصندوق : علل رغم وقوعها في
العروض الحارة إلا أن جبال كلمنجاو تتساقط عليه الثلوج
أغلب فترات العام ؟
.....



الأسبوع الثالث

الهدف العام : أفريقيا (مهارة قراءة الخرائط)

المشهد الأول : عزيزي الطالب على خريطة أفريقيا الصماء عين مصر

المشهد الثاني : ما هو تعريف الكثافة السكانية
.....؟
كم عدد سكان أفريقيا ؟

.....
استخدم اللون الأحمر في تحديد مناطق الكثافة
السكانية العالية (على الخريطة) ؟

علل تتميز القارة الأفريقية بالتنوع الطبيعي ؟
.....



المشهد الثالث : استكمل إجابات السؤال التالي :

تسود الكثافة السكانية المتوسطة في
يقل السكان في المناطق
من الموارد الطبيعية في القارة
أطول نهر في القارة هو
انخفاض إنتاج السمك بسبب و.....
من المعادن الموجودة في القارة و..... و.....
تكن أهمية موقع مصر الجغرافي في
..... و.....



المشهد الرابع : على دفتر الرسم البياني مثل
الجدول صفحة 56 تمثيل بالأعمدة :

الأسبوع الثالث

الهدف العام : أفريقيا (مهارة قراءة الخرائط)

المشهد الأول : عزيزي الطالب على خريطة أفريقيا الصماء عين مصر

المشهد الثاني : ما هو تعريف الكثافة السكانية
؟
.....
كم عدد سكان أفريقيا ؟
.....

استخدم اللون البرتقالي في تحديد مناطق الكثافة
السكانية المتوسطة (على الخريطة) ؟



المشهد الثالث : استكمل إجابات السؤال التالي :

تسود الكثافة السكانية المرتفعة في
يقل السكان في المناطق
من الموارد الطبيعية في القارة
أطول نهر في القارة هو
انخفاض إنتاج السمك بسبب و.....
من المعادن الموجودة في القارة و..... و.....
تكن أهمية موقع مصر الجغرافي في
..... و.....



المشهد الرابع : على دفتر الرسم البياني مثل
الجدول صفحة 56 تمثيل بالأعمدة :



الهدف العام : الإمارات صانعة السلام (مهارة قراءة الخرائط)

المشهد الأول : عزيزي الطالب على خريطة أفريقيا الصماء عين مصر

المشهد الثاني : ماذا نقصد بالقرن الأفريقي

.....؟

دولة الإمارات أرض ؟

.....

استخدم اللون الأصفر موقع إريتريا واللون البني
في تحديد اثيوبيا) ؟



1961- 1993- 1998-2000-

100 الف- النزاعات الحدودية-العمل

الدؤوب - محمد بن زايد- -2018

اتحكم في المدخل الجنوبي للبحر الأحمر

المشهد الثالث : استكمل إجابات السؤال التالي :

أهمية القرن الأفريقي في

دارت الحرب بين إريتريا عام

حصلت إريتريا على استقلالها عام.....

عادة الحرب بين عاميو.....

خلفت الحربقتيل من الجانبين وحدثت القطيعة بسبب

.....

استطاع الشيخ حل الصراع بينهما عام ب.....



الهدف العام : الإمارات صانعة السلام (مهارة قراءة الخرائط)

المشهد الأول : عزيزي الطالب على خريطة أفريقيا الصماء عين مصر

المشهد الثاني : ماذا نقصد بالقرن الأفريقي

.....؟

دولة الإمارات أرض ؟

.....

استخدم اللون الأصفر موقع إريتريا واللون البني
في تحديد اثيوبيا) ؟



المشهد الثالث : استكمل إجابات السؤال التالي :

أهمية القرن الأفريقي في

دارت الحرب بين إريتريا عام

حصلت إريتريا على استقلالها عام.....

عادة الحرب بين عاميو.....

خلفت الحربقتيل من الجانبين وحدثت القطيعة بسبب

.....

استطاع الشيخ حل الصراع بينهما عام ب



الهدف العام : الإمارات صانعة السلام (مهارة قراءة الخرائط)

المشهد الأول : عزيزي الطالب اكتب ما تعرفه عن هذه الخريطة



.....
.....
.....
.....
.....
.....
.....

.....
.....
.....
.....
.....
.....
.....

المشهد الثالث : استكمل إجابات السؤال التالي :

أهمية القرن الأفريقي في
دارت الحرب بين إريتريا عام
حصلت إريتريا على استقلالها عام.....
عادة الحرب بين عاميو.....
خلفت الحربقتيل من الجانبين وحدثت القطيعة بسبب
.....
استطاع الشيخ حل الصراع بينهما عام ب.....



الهدف العام : الإمارات صانعة السلام (مهارة قراءة الخرائط)

المشهد الأول : عزيزي الطالب على خريطة أفريقيا الصماء عين مصر

المشهد الثاني : ماذا نقصد بالقرن الأفريقي

.....؟

دولة الإمارات أرض ؟

.....
استخدم اللون الأصفر موقع إريتريا واللون البني
في تحديد اثيوبيا) ؟



1961- 1993- 1998-2000-

100 الف- النزاعات الحدودية-العمل

الدؤوب - محمد بن زايد- -2018

اتحكم في المدخل الجنوبي للبحر الأحمر

المشهد الثالث : استكمل إجابات السؤال التالي :

..... أهمية القرن الأفريقي في

..... دارت الحرب بين إريتريا عام

..... حصلت إريتريا على استقلالها عام.....

..... عادة الحرب بين عامي..... و.....

..... خلفت الحربقتيل من الجانبين وحدثت القطيعة بسبب

.....

..... استطاع الشيخ حل الصراع بينهما عام ب.....



الهدف العام : الإمارات صانعة السلام (مهارة قراءة الخرائط)

المشهد الأول : عزيزي الطالب على خريطة أفريقيا الصماء عين مصر

المشهد الثاني : ماذا نقصد بالقرن الأفريقي

.....؟

دولة الإمارات أرض ؟

.....

استخدم اللون الأصفر موقع إريتريا واللون البني
في تحديد اثيوبيا) ؟



المشهد الثالث : استكمل إجابات السؤال التالي :

أهمية القرن الأفريقي في

دارت الحرب بين إريتريا عام

حصلت إريتريا على استقلالها عام.....

عادة الحرب بين عاميو.....

خلفت الحربقتيل من الجانبين وحدثت القطيعة بسبب

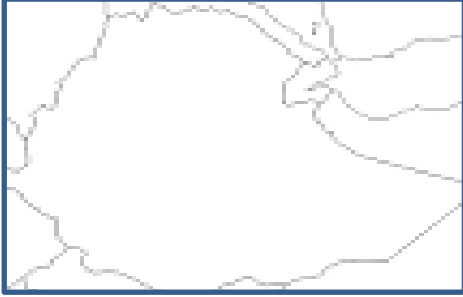
.....

استطاع الشيخ حل الصراع بينهما عام ب



الهدف العام : الإمارات صانعة السلام (مهارة قراءة الخرائط)

المشهد الأول : عزيزي الطالب اكتب ما تعرفه عن هذه الخريطة



.....
.....
.....
.....
.....
.....
.....

.....
.....
.....
.....
.....
.....
.....

المشهد الثالث : استكمل إجابات السؤال التالي :

أهمية القرن الأفريقي في
دارت الحرب بين إريتريا عام
حصلت إريتريا على استقلالها عام.....
عادة الحرب بين عاميو.....
خلفت الحربقتيل من الجانبين وحدثت القطيعة بسبب
.....
استطاع الشيخ حل الصراع بينهما عام ب.....



الهدف العام : الإمارات صانعة السلام (مهارة قراءة الخرائط)

المشهد الأول : عزيزي الطالب على خريطة أفريقيا الصماء عين مصر

المشهد الثاني : ماذا نقصد بالقرن الأفريقي

.....؟

دولة الإمارات أرض ؟

.....

استخدم اللون الأصفر موقع إريتريا واللون البني

في تحديد اثيوبيا) ؟



1961- 1993- 1998-2000-

100 الف- النزاعات الحدودية-العمل

الدؤوب - محمد بن زايد- -2018

اتحكم في المدخل الجنوبي للبحر الأحمر

المشهد الثالث : استكمل إجابات السؤال التالي :

أهمية القرن الأفريقي في

دارت الحرب بين إريتريا عام

حصلت إريتريا على استقلالها عام.....

عادة الحرب بين عاميو.....

خلفت الحربقتيل من الجانبين وحدثت القطيعة بسبب

.....

استطاع الشيخ حل الصراع بينهما عام ب.....



الهدف العام : الإمارات صانعة السلام (مهارة قراءة الخرائط)

المشهد الأول : عزيزي الطالب على خريطة أفريقيا الصماء عين مصر

المشهد الثاني : ماذا نقصد بالقرن الأفريقي

.....؟

دولة الإمارات أرض ؟

.....

استخدم اللون الأصفر موقع إريتريا واللون البني
في تحديد اثيوبيا) ؟



المشهد الثالث : استكمل إجابات السؤال التالي :

أهمية القرن الأفريقي في

دارت الحرب بين إريتريا عام

حصلت إريتريا على استقلالها عام.....

عادة الحرب بين عاميو.....

خلفت الحربقتيل من الجانبين وحدثت القطيعة بسبب

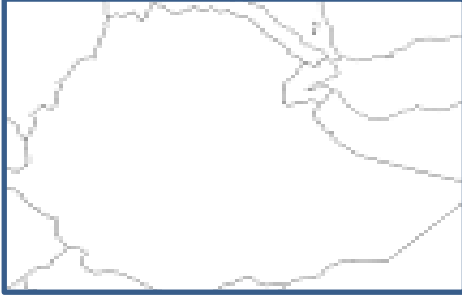
.....

استطاع الشيخ حل الصراع بينهما عام ب



الهدف العام : الإمارات صانعة السلام (مهارة قراءة الخرائط)

المشهد الأول : عزيزي الطالب اكتب ما تعرفه عن هذه الخريطة



.....
.....
.....
.....
.....
.....
.....

.....
.....
.....
.....
.....
.....
.....

المشهد الثالث : استكمل إجابات السؤال التالي :

أهمية القرن الأفريقي في
دارت الحرب بين إريتريا عام
حصلت إريتريا على استقلالها عام.....
عادة الحرب بين عاميو.....
خلفت الحربقتيل من الجانبين وحدثت القطيعة بسبب
.....
استطاع الشيخ حل الصراع بينهما عام ب.....



الهدف العام : الإمارات صانعة السلام (مهارة قراءة الخرائط)

المشهد الأول : عزيزي الطالب على خريطة أفريقيا الصماء عين مصر

المشهد الثاني : ماذا نقصد بالقرن الأفريقي

.....؟

دولة الإمارات أرض ؟

.....

استخدم اللون الأصفر موقع إريتريا واللون البنّي في تحديد اثيوبيا) ؟



1961- 1993- 1998-2000-

100 الف- النزاعات الحدودية-العمل

الدؤوب - محمد بن زايد- -2018

اتحكم في المدخل الجنوبي للبحر الأحمر

المشهد الثالث : استكمل إجابات السؤال التالي :

أهمية القرن الأفريقي في

دارت الحرب بين إريتريا عام

حصلت إريتريا على استقلالها عام.....

عادة الحرب بين عاميو.....

خلفت الحربقتيل من الجانبين وحدثت القطيعة بسبب

.....

استطاع الشيخ حل الصراع بينهما عام ب.....



الهدف العام : الإمارات صانعة السلام (مهارة قراءة الخرائط)

المشهد الأول : عزيزي الطالب على خريطة أفريقيا الصماء عين مصر

المشهد الثاني : ماذا نقصد بالقرن الأفريقي

.....؟

دولة الإمارات أرض ؟

.....

استخدم اللون الأصفر موقع إريتريا واللون البني
في تحديد اثيوبيا) ؟



المشهد الثالث : استكمل إجابات السؤال التالي :

أهمية القرن الأفريقي في

دارت الحرب بين إريتريا عام

حصلت إريتريا على استقلالها عام.....

عادة الحرب بين عاميو.....

خلفت الحربقتيل من الجانبين وحدثت القطيعة بسبب

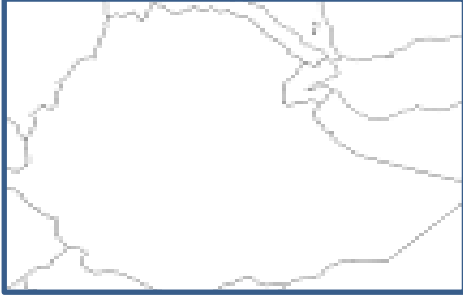
.....

استطاع الشيخ حل الصراع بينهما عام ب



الهدف العام : الإمارات صانعة السلام (مهارة قراءة الخرائط)

المشهد الأول : عزيزي الطالب اكتب ما تعرفه عن هذه الخريطة



.....
.....
.....
.....
.....
.....
.....

.....
.....
.....
.....
.....
.....
.....

المشهد الثالث : استكمل إجابات السؤال التالي :

أهمية القرن الأفريقي في
دارت الحرب بين إريتريا عام
حصلت إريتريا على استقلالها عام.....
عادة الحرب بين عاميو.....
خلفت الحربقتيل من الجانبين وحدثت القطيعة بسبب
.....
استطاع الشيخ حل الصراع بينهما عام ب.....



الهدف العام : الإمارات صانعة السلام (مهارة قراءة الخرائط)

المشهد الأول : عزيزي الطالب على خريطة أفريقيا الصماء عين مصر

المشهد الثاني : ماذا نقصد بالقرن الأفريقي

.....؟

دولة الإمارات أرض ؟

.....

استخدم اللون الأصفر موقع إريتريا واللون البني
في تحديد اثيوبيا) ؟



1961- 1993- 1998-2000-

100 الف- النزاعات الحدودية-العمل

الدؤوب - محمد بن زايد- -2018

اتحكم في المدخل الجنوبي للبحر الأحمر

المشهد الثالث : استكمل إجابات السؤال التالي :

أهمية القرن الأفريقي في

دارت الحرب بين إريتريا عام

حصلت إريتريا على استقلالها عام.....

عادة الحرب بين عاميو.....

خلفت الحربقتيل من الجانبين وحدثت القطيعة بسبب

.....

استطاع الشيخ حل الصراع بينهما عام ب.....



الهدف العام : الإمارات صانعة السلام (مهارة قراءة الخرائط)

المشهد الأول : عزيزي الطالب على خريطة أفريقيا الصماء عين مصر

المشهد الثاني : ماذا نقصد بالقرن الأفريقي

.....؟

دولة الإمارات أرض ؟

.....

استخدم اللون الأصفر موقع إريتريا واللون البني
في تحديد اثيوبيا) ؟



المشهد الثالث : استكمل إجابات السؤال التالي :

أهمية القرن الأفريقي في

دارت الحرب بين إريتريا عام

حصلت إريتريا على استقلالها عام.....

عادة الحرب بين عاميو.....

خلفت الحربقتيل من الجانبين وحدثت القطيعة بسبب

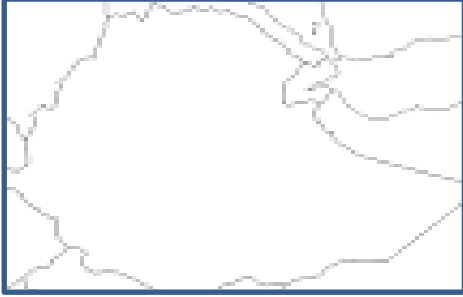
.....

استطاع الشيخ حل الصراع بينهما عام ب



الهدف العام : الإمارات صانعة السلام (مهارة قراءة الخرائط)

المشهد الأول : عزيزي الطالب اكتب ما تعرفه عن هذه الخريطة



.....
.....
.....
.....
.....
.....
.....

.....
.....
.....
.....
.....
.....
.....

المشهد الثالث : استكمل إجابات السؤال التالي :

أهمية القرن الأفريقي في
دارت الحرب بين إريتريا عام
حصلت إريتريا على استقلالها عام.....
عادة الحرب بين عاميو.....
خلفت الحربقتيل من الجانبين وحدثت القطيعة بسبب
.....
استطاع الشيخ حل الصراع بينهما عام ب.....



الهدف العام : الإمارات صانعة السلام (مهارة قراءة الخرائط)

المشهد الأول : عزيزي الطالب على خريطة أفريقيا الصماء عين مصر

المشهد الثاني : ماذا نقصد بالقرن الأفريقي

.....؟

دولة الإمارات أرض ؟

.....

استخدم اللون الأصفر موقع إريتريا واللون البنّي في تحديد اثيوبيا) ؟



1961- 1993- 1998-2000-

100الف- النزاعات الحدودية-العمل

الدؤوب - محمد بن زايد- -2018

اتحكم في المدخل الجنوبي للبحر الأحمر

المشهد الثالث : استكمل إجابات السؤال التالي :

أهمية القرن الأفريقي في

دارت الحرب بين إريتريا عام

حصلت إريتريا على استقلالها عام.....

عادة الحرب بين عاميو.....

خلفت الحربقتيل من الجانبين وحدثت القطيعة بسبب

.....

استطاع الشيخ حل الصراع بينهما عام ب.....



الهدف العام : الإمارات صانعة السلام (مهارة قراءة الخرائط)

المشهد الأول : عزيزي الطالب على خريطة أفريقيا الصماء عين مصر

المشهد الثاني : ماذا نقصد بالقرن الأفريقي

.....؟

دولة الإمارات أرض ؟

.....

استخدم اللون الأصفر موقع إريتريا واللون البني
في تحديد اثيوبيا) ؟



المشهد الثالث : استكمل إجابات السؤال التالي :

أهمية القرن الأفريقي في

دارت الحرب بين إريتريا عام

حصلت إريتريا على استقلالها عام.....

عادة الحرب بين عاميو.....

خلفت الحربقتيل من الجانبين وحدثت القطيعة بسبب

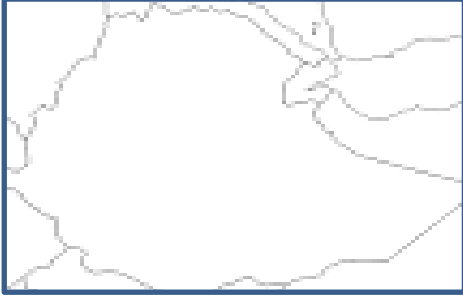
.....

استطاع الشيخ حل الصراع بينهما عام ب



الهدف العام : الإمارات صانعة السلام (مهارة قراءة الخرائط)

المشهد الأول : عزيزي الطالب اكتب ما تعرفه عن هذه الخريطة



.....
.....
.....
.....
.....
.....
.....

.....
.....
.....
.....
.....
.....
.....

المشهد الثالث : استكمل إجابات السؤال التالي :

أهمية القرن الأفريقي في
دارت الحرب بين إريتريا عام
حصلت إريتريا على استقلالها عام.....
عادة الحرب بين عاميو.....
خلفت الحربقتيل من الجانبين وحدثت القطيعة بسبب
.....
استطاع الشيخ حل الصراع بينهما عام ب.....



الهدف العام : الإمارات صانعة السلام (مهارة قراءة الخرائط)

المشهد الأول : عزيزي الطالب على خريطة أفريقيا الصماء عين مصر

المشهد الثاني : ماذا نقصد بالقرن الأفريقي

.....؟

دولة الإمارات أرض ؟

.....

استخدم اللون الأصفر موقع إريتريا واللون البنّي في تحديد اثيوبيا) ؟



1961- 1993- 1998-2000-

100 الف- النزاعات الحدودية-العمل

الدؤوب - محمد بن زايد- -2018

اتحكم في المدخل الجنوبي للبحر الأحمر

المشهد الثالث : استكمل إجابات السؤال التالي :

أهمية القرن الأفريقي في

دارت الحرب بين إريتريا عام

حصلت إريتريا على استقلالها عام.....

عادة الحرب بين عاميو.....

خلفت الحربقتيل من الجانبين وحدثت القطيعة بسبب

.....

استطاع الشيخ حل الصراع بينهما عام ب.....



الهدف العام : الإمارات صانعة السلام (مهارة قراءة الخرائط)

المشهد الأول : عزيزي الطالب على خريطة أفريقيا الصماء عين مصر

المشهد الثاني : ماذا نقصد بالقرن الأفريقي

.....؟

دولة الإمارات أرض ؟

.....

استخدم اللون الأصفر موقع إريتريا واللون البني
في تحديد اثيوبيا) ؟



المشهد الثالث : استكمل إجابات السؤال التالي :

أهمية القرن الأفريقي في

دارت الحرب بين إريتريا عام

حصلت إريتريا على استقلالها عام.....

عادة الحرب بين عاميو.....

خلفت الحربقتيل من الجانبين وحدثت القطيعة بسبب

.....

استطاع الشيخ حل الصراع بينهما عام ب



الهدف العام : الإمارات صانعة السلام (مهارة قراءة الخرائط)

المشهد الأول : عزيزي الطالب اكتب ما تعرفه عن هذه الخريطة



.....
.....
.....
.....
.....
.....
.....

.....
.....
.....
.....
.....
.....
.....

المشهد الثالث : استكمل إجابات السؤال التالي :

أهمية القرن الأفريقي في
دارت الحرب بين إريتريا عام
حصلت إريتريا على استقلالها عام.....
عادة الحرب بين عاميو.....
خلفت الحربقتيل من الجانبين وحدثت القطيعة بسبب
.....
استطاع الشيخ حل الصراع بينهما عام ب.....



الهدف العام : الإمارات صانعة السلام (مهارة قراءة الخرائط)

المشهد الأول : عزيزي الطالب على خريطة أفريقيا الصماء عين مصر

المشهد الثاني : ماذا نقصد بالقرن الأفريقي

.....؟

دولة الإمارات أرض ؟

.....

استخدم اللون الأصفر موقع إريتريا واللون البني
في تحديد اثيوبيا) ؟



1961- 1993- 1998-2000-

100 الف- النزاعات الحدودية-العمل

الدؤوب - محمد بن زايد- -2018

اتحكم في المدخل الجنوبي للبحر الأحمر

المشهد الثالث : استكمل إجابات السؤال التالي :

أهمية القرن الأفريقي في

دارت الحرب بين إريتريا عام

حصلت إريتريا على استقلالها عام.....

عادة الحرب بين عاميو.....

خلفت الحربقتيل من الجانبين وحدثت القطيعة بسبب

.....

استطاع الشيخ حل الصراع بينهما عام ب.....



الهدف العام : الإمارات صانعة السلام (مهارة قراءة الخرائط)

المشهد الأول : عزيزي الطالب على خريطة أفريقيا الصماء عين مصر

المشهد الثاني : ماذا نقصد بالقرن الأفريقي

.....؟

دولة الإمارات أرض ؟

.....

استخدم اللون الأصفر موقع اريتريا واللون البني
في تحديد اثيوبيا) ؟



المشهد الثالث : استكمل إجابات السؤال التالي :

أهمية القرن الأفريقي في

دارت الحرب بين إريتريا عام

حصلت إريتريا على استقلالها عام.....

عادة الحرب بين عاميو.....

خلفت الحربقتيل من الجانبين وحدثت القطيعة بسبب

.....

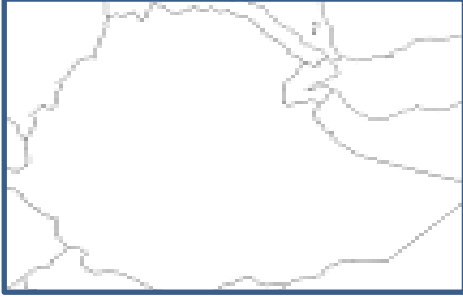
استطاع الشيخ حل الصراع بينهما عام ب



الأسبوع الخامس

الهدف العام : الإمارات صانعة السلام (مهارة قراءة الخرائط)

المشهد الأول : عزيزي الطالب اكتب ما تعرفه عن هذه الخريطة



.....
.....
.....
.....
.....
.....
.....

.....
.....
.....
.....
.....
.....
.....

المشهد الثالث : استكمل إجابات السؤال التالي :

أهمية القرن الأفريقي في
دارت الحرب بين إريتريا عام
حصلت إريتريا على استقلالها عام.....
عادة الحرب بين عاميو.....
خلفت الحربقتيل من الجانبين وحدثت القطيعة بسبب
.....
استطاع الشيخ حل الصراع بينهما عام ب.....

الأسبوع السابع

الهدف العام : حدد على الخريطة المواقع التالية



الأسبوع السابع

الهدف العام : حدد على الخريطة المواقع التالية



الأسبوع السابع

الهدف العام : حدد على الخريطة المواقع التالية



الأسبوع السابع

الهدف العام : حدد على الخريطة المواقع التالية



الأسبوع السابع

الهدف العام : حدد على الخريطة المواقع التالية



الأسبوع السابع

الهدف العام : حدد على الخريطة المواقع التالية



الأسبوع السابع

الهدف العام : حدد على الخريطة المواقع التالية



الأسبوع السابع

الهدف العام : حدد على الخريطة المواقع التالية



الأسبوع السابع

الهدف العام : حدد على الخريطة المواقع التالية



الأسبوع السابع

الهدف العام : حدد على الخريطة المواقع التالية



الأسبوع السابع

الهدف العام : حدد على الخريطة المواقع التالية



الأسبوع السابع

الهدف العام : حدد على الخريطة المواقع التالية



الأسبوع السابع

الهدف العام : حدد على الخريطة المواقع التالية



الأسبوع السابع

الهدف العام : حدد على الخريطة المواقع التالية



الأسبوع السابع

الهدف العام : حدد على الخريطة المواقع التالية



الأسبوع السابع

الهدف العام : حدد على الخريطة المواقع التالية



الأسبوع السابع

الهدف العام : حدد على الخريطة المواقع التالية



الأسبوع السابع

الهدف العام : حدد على الخريطة المواقع التالية



الأسبوع السابع

الهدف العام : حدد على الخريطة المواقع التالية



الأسبوع السابع

الهدف العام : حدد على الخريطة المواقع التالية



الأسبوع السابع

الهدف العام : حدد على الخريطة المواقع التالية



الأسبوع السابع

الهدف العام : حدد على الخريطة المواقع التالية



الأسبوع السابع

الهدف العام : حدد على الخريطة المواقع التالية



الأسبوع السابع

الهدف العام : حدد على الخريطة المواقع التالية

