

تم تحميل هذا الملف من موقع المناهج الإماراتية



أسئلة الامتحان النهائي القسم الورقي منهج ريفيل

[موقع المناهج](#) ← [المناهج الإماراتية](#) ← [الصف السادس](#) ← [رياضيات](#) ← [الفصل الثالث](#) ← [الملف](#)

تاريخ إضافة الملف على موقع المناهج: 13:29:41 2024-07-08

التواصل الاجتماعي بحسب الصف السادس



اضغط هنا للحصول على جميع روابط "الصف السادس"

روابط مواد الصف السادس على تلغرام

[الرياضيات](#)

[اللغة الانجليزية](#)

[اللغة العربية](#)

[التربية الاسلامية](#)

المزيد من الملفات بحسب الصف السادس والمادة رياضيات في الفصل الثالث

[حل أسئلة الامتحان النهائي القسم الالكتروني منهج بريدج](#)

1

[أسئلة الامتحان النهائي القسم الورقي منهج بريدج](#)

2

[حل أسئلة امتحانات وزارية سابقة](#)

3

[تجميع أسئلة حسب صفحات الكتاب وفق الهيكل الوزاري منهج ريفيل](#)

4

[دليل تصحيح النموذج التدريبي للامتحان النهائي](#)

5

Paper Part

Show all your work when answering these questions.

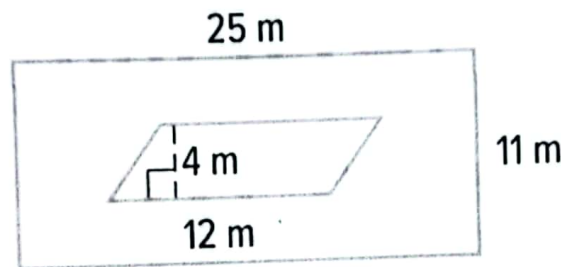
Question

1

السؤال

Ahmad is designing a fountain in the form of a parallelogram for his backyard. The remaining space will be covered with tiles.

يضم أحمد نافورة على شكل متوازي أضلاع لفناء منزله الخلفي. سيتم تغطية المساحة المتبقية بالبلاط.



A. What is the total area of Ahmad's design?

A. ماهي المساحة الكلية لتصميم أحمد؟

.....

.....

.....

B. What is the covered area with tiles?

B. ماهي المساحة المغطاة بالبلاط؟

.....

.....

.....

.....

.....

.....


Question

2

السؤال

A table top is shaped like a regular octagon with a perimeter of 96 inches as shown below.

سطح طاولة على شكل ثماني منتظم محيطه 96 بوصة كما هو موضح أدناه.



A. What is the side length of the table top?

A. ما هو طول ضلع سطح الطاولة؟

.....

.....

.....

.....

.....

.....

B. Find the area of the table top.

B. أوجد مساحة سطح الطاولة.

.....

.....

.....

.....

.....

Number of Books				
2	3	8	4	0
5	7	12	6	7
0	11	10	13	3
1	4	3	9	8

The table above shows the number of books a group of students have read on vacation.

يوضح الجدول أعلاه عدد الكتب التي قرأها مجموعة من الطلاب في الإجازة.


A. Complete the frequency table to organize the data.

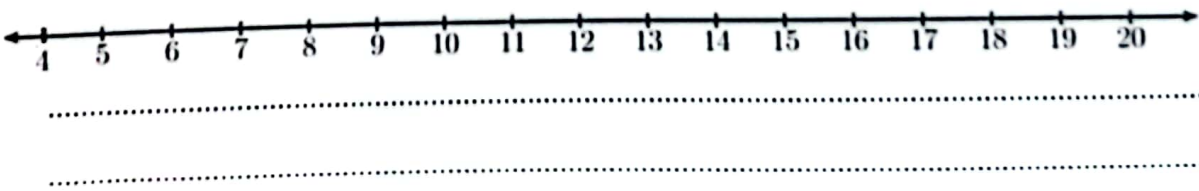
A. أكمل جدول التكرارات لتنظيم البيانات.

Reading Books	
Number of Books Read	Frequency
0 - 3	
4 - 7	
8 - 11	
12 - 15	

B. Construct a histogram to represent the data.

B. كوّن المدرج التكراري لتمثيل البيانات.



Question	5	السؤال
<p>Fatima surveyed her friends about the number of games they play in one week. The responses were: 11, 6, 8, 9, 8, 5, 9, 6, 7, 10, 15.</p>		<p>أعدت فاطمة استبياناً لأصدقائها حول عدد الألعاب التي لعبوها في أسبوع. فكانت الاستجابات: 11, 6, 8, 9, 8, 5, 9, 6, 7, 10, 15.</p>
<p>A. Find the median, the first and third quartiles.</p>		<p>A. أوجد الوسيط، الربع الأول والربع الثالث.</p>
<p>B. Construct a box plot to represent the data.</p>		<p>B. أنشئ الصندوق ذي العارضين للبيانات.</p>
		

End of Questions

انتهت الأسئلة