

تم تحميل هذا الملف من موقع المناهج الإماراتية



*للحصول على أوراق عمل لجميع الصفوف وجميع المواد اضغط هنا

<https://almanahj.com/ae>

* للحصول على أوراق عمل لجميع مواد الصف السادس اضغط هنا

<https://almanahj.com/ae/6>

* للحصول على جميع أوراق الصف السادس في مادة رياضيات وجميع الفصول, اضغط هنا

<https://almanahj.com/ae/6math>

* للحصول على أوراق عمل لجميع مواد الصف السادس في مادة رياضيات الخاصة بـ الفصل الثاني اضغط هنا

<https://almanahj.com/ae/6math2>

* لتحميل كتب جميع المواد في جميع الفصول للـ الصف السادس اضغط هنا

<https://almanahj.com/ae/grade6>

للتحدث إلى بوت المناهج على تلغرام: اضغط هنا

https://t.me/almanahj_bot

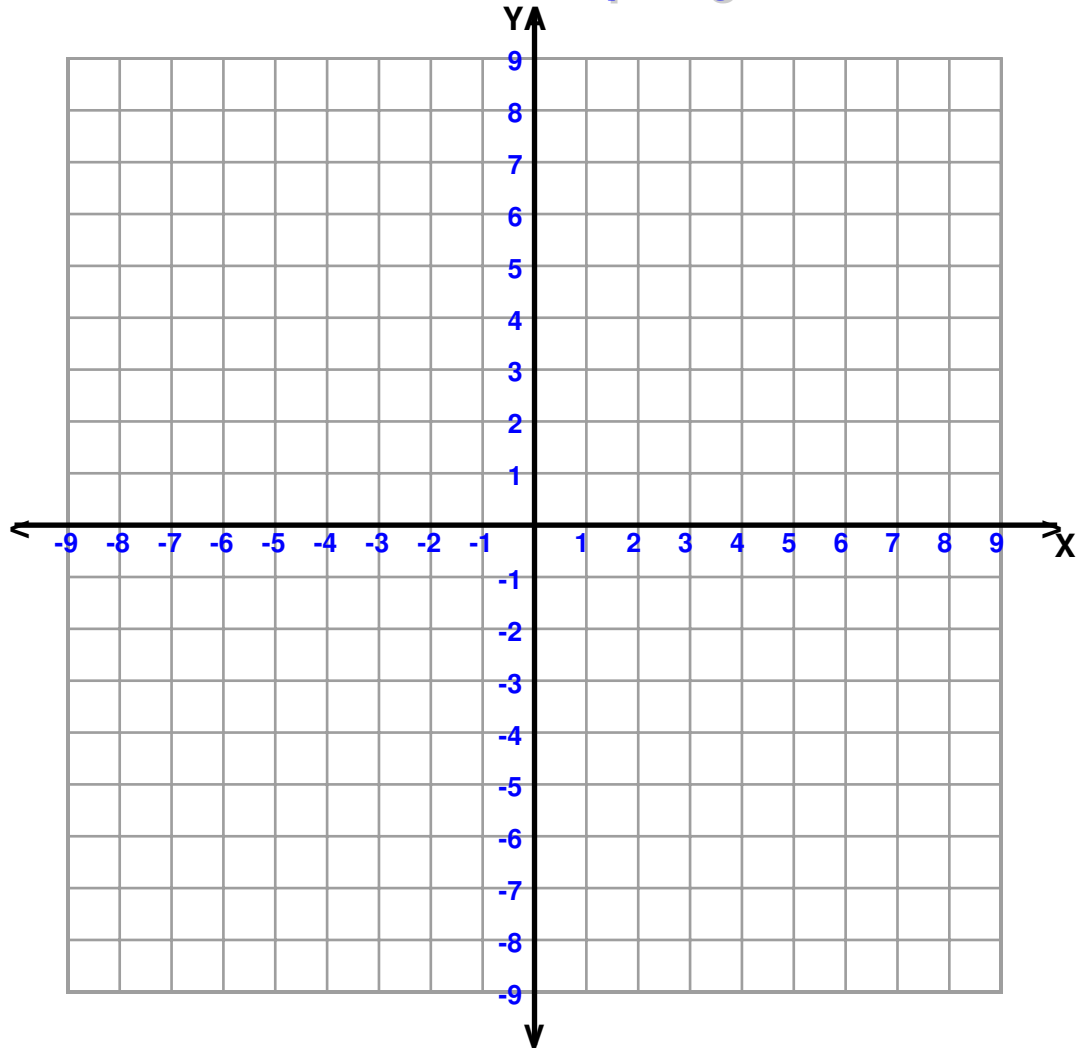
Name : _____

Score : _____

Teacher : _____

Date : _____

Four Quadrant Graphing Puzzle



Connect each sequence of points with a line.

$(0,-8)$, $(-3,-5)$, $(-6,-8)$, $(-4,-4)$, $(-4,3)$, $(-6,2)$, $(-3,7)$

$(0,2)$, $(-2,3)$, $(-2,-4)$, $(0,-8)$ End of Sequence

What is the shape ? _____



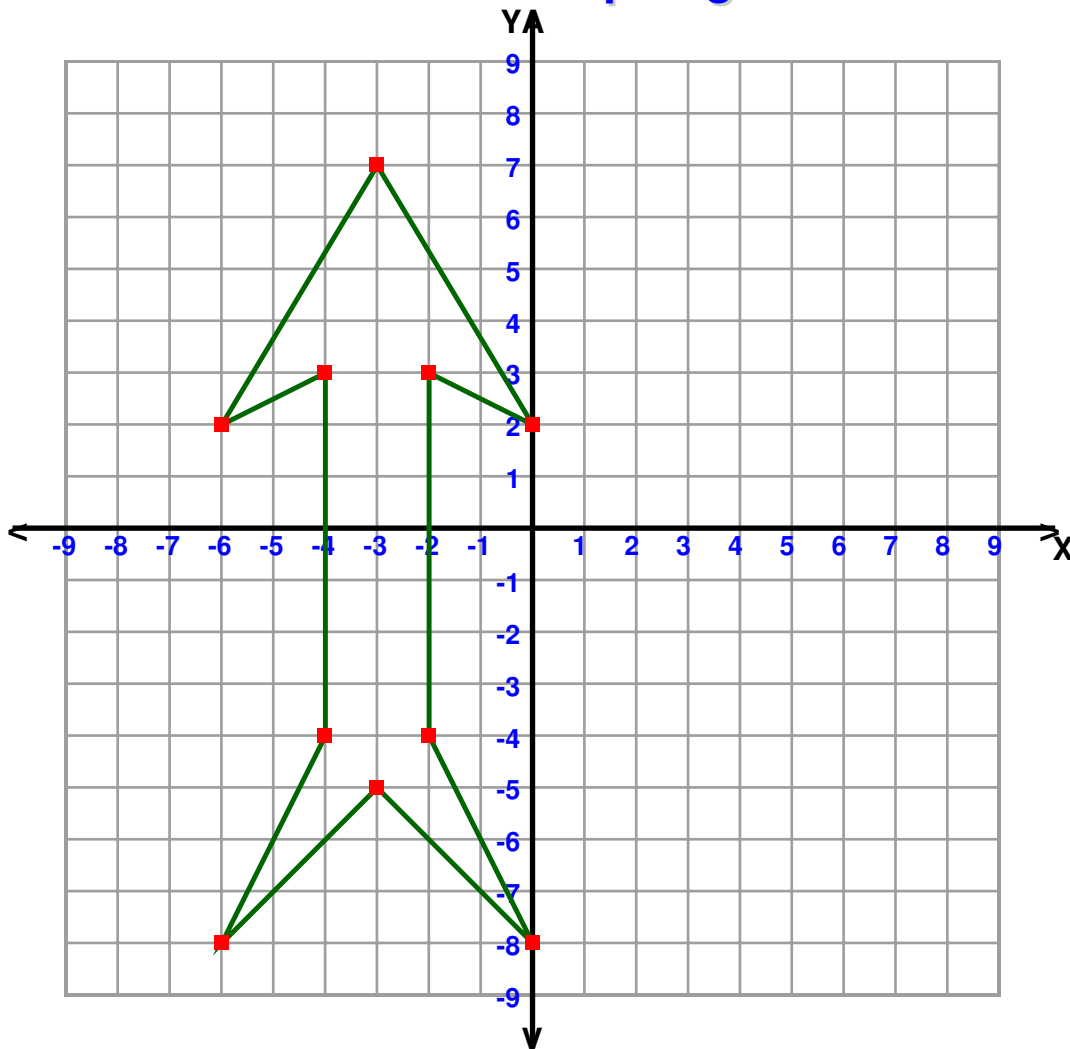
Name : _____

Score : _____

Teacher : _____

Date : _____

Four Quadrant Graphing Puzzle



Connect each sequence of points with a line.

(0,-8) , (-3,-5) , (-6,-8) , (-4,-4) , (-4,3) , (-6,2) , (-3,7)

(0,2) , (-2,3) , (-2,-4) , (0,-8) End of Sequence

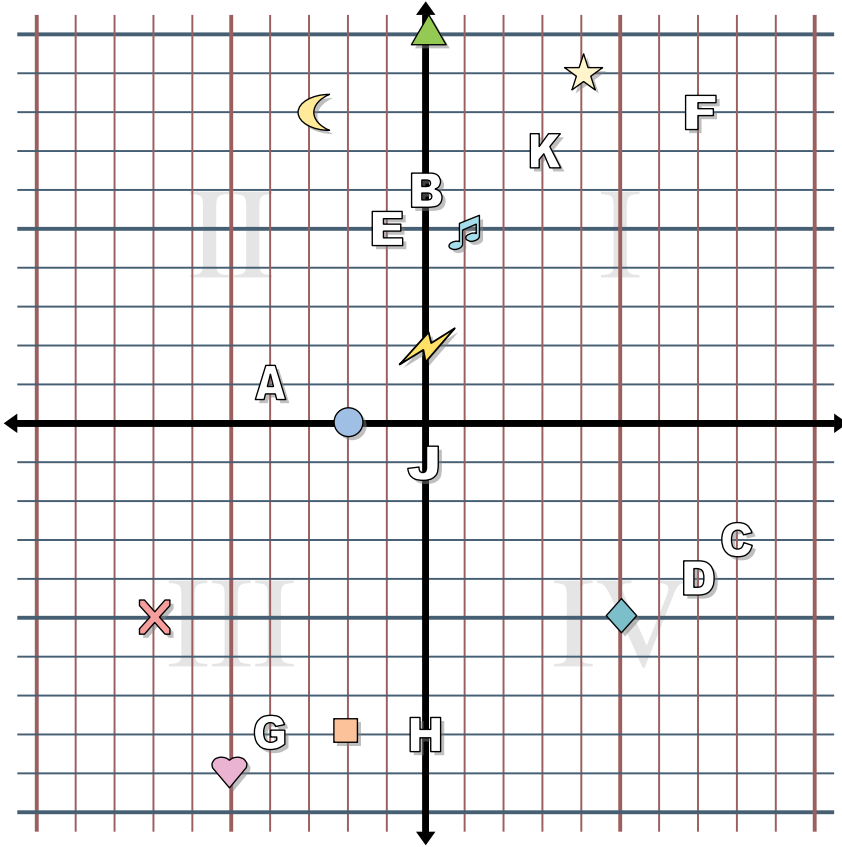
What is the shape ?

Arrow





Answers



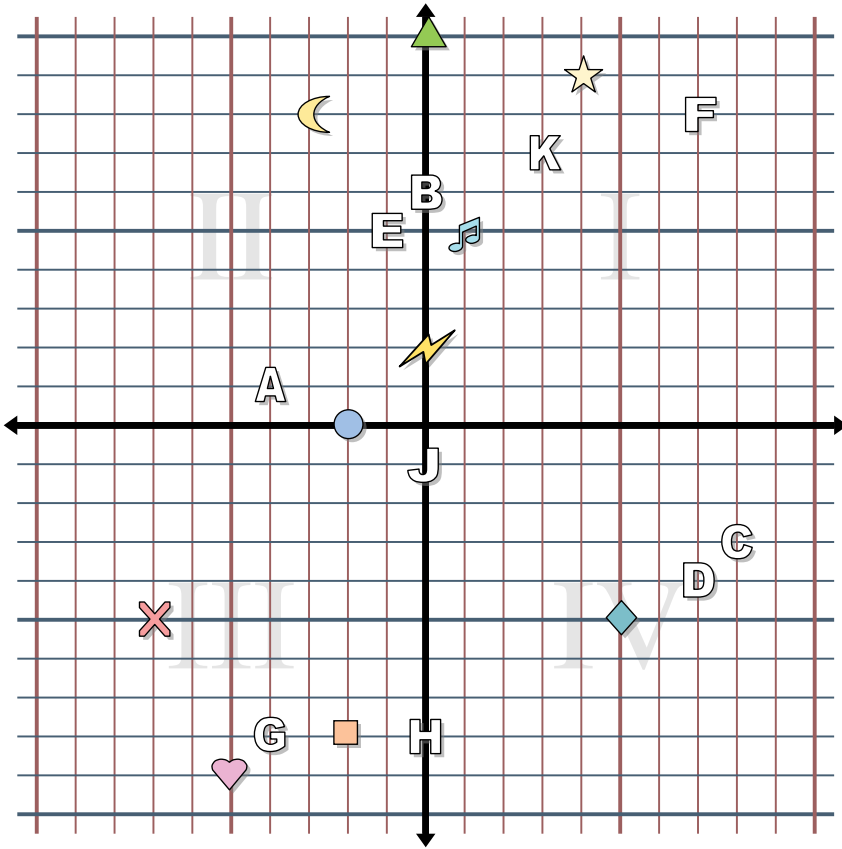
Determine the coordinates of each figure.

- 1) Star
- 2) Lightning
- 3) Circle
- 4) Heart
- 5) Cross
- 6) Triangle
- 7) Moon
- 8) Square
- 9) Diamond
- 10) Music Note

Determine which letter is at each coordinate.

- 11) (7, -4)
- 12) (7, 8)
- 13) (8, -3)
- 14) (-4, -8)
- 15) (-1, 5)
- 16) (-4, 1)
- 17) (0, 6)
- 18) (3, 7)
- 19) (0, -1)
- 20) (0, -8)

1. _____
2. _____
3. _____
4. _____
5. _____
6. _____
7. _____
8. _____
9. _____
10. _____
11. _____
12. _____
13. _____
14. _____
15. _____
16. _____
17. _____
18. _____
19. _____
20. _____



Answers

1. (4, 9)
2. (0, 2)
3. (-2, 0)
4. (-5, -9)
5. (-7, -5)
6. (0, 10)
7. (-3, 8)
8. (-2, -8)
9. (5, -5)
10. (1, 5)
11. D
12. F
13. C
14. G
15. E
16. A
17. B
18. K
19. J
20. H

Determine the coordinates of each figure.

- | | |
|------------|----------------|
| 1) Star | 2) Lightning |
| 3) Circle | 4) Heart |
| 5) Cross | 6) Triangle |
| 7) Moon | 8) Square |
| 9) Diamond | 10) Music Note |

Determine which letter is at each coordinate.

- | | |
|-------------|--------------|
| 11) (7, -4) | 12) (7, 8) |
| 13) (8, -3) | 14) (-4, -8) |
| 15) (-1, 5) | 16) (-4, 1) |
| 17) (0, 6) | 18) (3, 7) |
| 19) (0, -1) | 20) (0, -8) |