

تم تحميل هذا الملف من موقع المناهج الإماراتية



الملف نموذج مراجعة وفق الهيكل الوزاري

موقع المناهج ⇨ المناهج الإماراتية ⇨ الصف السادس ⇨ اجتماعيات ⇨ الفصل الثالث

روابط مواقع التواصل الاجتماعي بحسب الصف السادس



روابط مواد الصف السادس على تلغرام

[الرياضيات](#)

[اللغة الانجليزية](#)

[اللغة العربية](#)

[التربية الاسلامية](#)

المزيد من الملفات بحسب الصف السادس والمادة اجتماعيات في الفصل الثالث


يوربوينت حل مراجعة وفق الهيكل الوزاري الجديد	1
أوراق عمل مراجعة مهارات نهاية الفصل	2
مراجعة وفق الهيكل الوزاري الجديد	3
حل مراجعة وفق الهيكل الوزاري الجديد	4
نموذج الهيكل الوزاري الجديد	5

الصف السادس

مراجعة عامة

الفصل الثالث

وفق الهيكل



تم تحديث هذا المحتوى
موقع المناهج الإماراتية
alManahj.com/ae

الاسم : الصف السادس التاريخ

السؤال الأول : اقرأ الشكل التالي، ثم أجب عما يليه من أسئلة :



6- من أبرز خصائص شجرة الغاف:

- (أ) تعيش لفترات قصيرة
(ب) مصدر غذاء ودواء للحيوانات فقط
(ج) تحتاج الى كميات كبيرة لريها
(د) تتغلب على ملوحة التربة

7- تمثل اشجار الغابات في الدولة بعد استثناء أشجار الغاف :

- (أ) 40 %
(ب) 50 %
(ج) 70 %
(د) 30 %

8- استفاد الأهالي في الامارات من شجرة الغاف عن طريق:

- (أ) اشعال النار عن طريق خشبها
(ب) تجمع الأهالي والاستفادة من ظلها
(ج) يستخدمونها في الزينة
(د) تستخدم في بناء السفن

9- تعتبر شجرة الغاف رمزا وطنيا بسبب اهميتها:

- (أ) المادية
(ب) العالمية
(ج) التراثية
(د) الإقليمية

10- تم اختيار شجرة الغاف عام 2019 شعارا :

- (أ) للخمسين
(ب) ل زايد
(ج) للخير
(د) للتسامح

السؤال الثاني : أجب عن الأسئلة الآتية مستعيناً بالفقرة المرفقة :

النباتات المعمرة هي نباتات تنمو طوال العام دون تدخل الانسان ومنها ما يعيش لسنوات عديدة وتتحمل درجات الحرارة والجفاف الشديد " حيث تحصل على الماء من أعماق التربة" كما تتحمل الملوحة العالية " مثال على ذلك نبات القرم الذي يعمل على التخلص من الاملاح من خلال عملية الترشيح بواسطة أحد أجزائه " كما لا يستهلك النبات الطبيعي المعمر الكثير من الماء ويتحمل تقلبات الجو ، وتنمو أغليبتها وتزهر خلال الربيع والصيف، ثم تموت الزهور خلال الخريف والشتاء ، إذ تعد النباتات المعمرة نوع من أنواع الأشجار التي تصنف بناء على مراحل نموها، وعند المقارنة بين النبات الحولي والنبات المعمر نجد أن النباتات الحولية تختلف عن النباتات المعمرة بعمرها الافتراضي، إذ تعيش النباتات الحولية لمدة عام واحد فقط ويتجدد نموها في كل عام، بينما تعيش النباتات المعمرة لسنوات عدة وتحتاج إلى أكثر من عامين لتكمل دورة حياتها، ولا يموت منها إلا جزؤها العلوي الذي يعود للنمو في العام التالي ومن الفوائد التي نحصل عليها من النبات المعمر الاخشاب والغذاء والطب الشعبي وفي دولتنا يكثر انتشار النبات المعمر في شمال الدولة حيث تمثل ما نسبته 70% من مجموع النباتات البرية المنتشرة بشكل النبات الحولي منها 60% ومن الأمثلة على النبات المعمر في دولتنا " النخيل والاشخري والقرم _ الذي يعيش في المناطق الساحلية _ والسمر وغيرها " وكان للنبات الطبيعي دور كبير في تركيب الدواء الحالي المستخدم في الطب الحديث .

11- جزء من النبتة يستخدمه نبات القرم لترشيح الماء المالح هو :
A- الساق B- الاغصان C- الأوراق D- الزهور

12- يتميز النبات الطبيعي المعمر بالعديد من المميزات أهمها :
A- ينمو لعام واحد

B- يزهر في فصل الصيف والخريف
C- يحتاج لمزيد من المياه
D- يتحمل تقلبات الجو

13- في ضوء فهمك للنص يمكن وصف جذور النبات الطبيعي على انها :

A- طويلة B- قصيرة C- سطحية D- رفيعة

14- أي من النباتات التالية يمثل نبات معمر ساحلي ؟
A- القرم B- النخيل C- الاشخري D- الغاف

15- من التصرفات التالية أكثر ضرر على البيئة:

A- قطع الأشجار واستخدامها في التحطيب ضمن قانون معين .


B- استخدام الاخشاب في صناعة الأثاث .

C- القطع الجائر للغابات والتوسع العمراني على حساب الغابات .

D- التوسع الأفقي في انشاء المباني على حساب الأراضي الزراعية

السؤال الثالث : اقرأ النص الوارد قراءة تحليلية ثم أجب عن الأسئلة التالية :

في يوليو من العام 2018 طوت إثيوبيا وإريتريا سنوات من القطيعة الكاملة، وأنهت الجارتان حالة الحرب التي ظلت تخيم على أجواء العلاقات بينهما والتي كان سببها الخلافات على المنافذ البحرية على البحر الأحمر والمتأثر في سيطرة إريتريا على سواحل البحر الأحمر الغربية وخاصة أن إثيوبيا هي دولة مغلقة ، ويأتي ما تحقق من سلام بين البلدين بحسب مراقبين تنويجاً لجهود كبيرة قادتها الإمارات التي استغلت علاقاتها المتميزة مع القيادة في كل من أديس أبابا وأسمرة كجسر لعبور البلدين إلى مرفأ التوافق والسلام الذي انعكس إيجاباً على عموم منطقة القرن الأفريقي المحاطة بالأطماع الإقليمية والدولية. ويرى مراقبون أن السلام بين إثيوبيا وإريتريا، الذي رعته الإمارات أسهم بشكل مباشر في عملية الاستقرار بالمنطقة ككل، وذلك للموقع الجغرافي والاستراتيجي للدولتين اللتين تمثلان البوابة للقارة الأفريقية، بجانب أن إنهاء التوتر بينهما له إسهامه الكبير في حفظ الأمن بمنطقة البحر الأحمر كمر مائي مهم في المنطقة، كما أنه يصب في المسعى ذاته والتوجه الإماراتي لتحقيق الاستقرار في المنطقة بما يحقق المصالح الاقتصادية المتبادلة. ويؤكد أن السلام بين البلدين عزز كثيراً من الاستقرار في منطقة القرن الأفريقي، كما ساهم في محاربة الاتجار بالبشر، وتجارة المخدرات التي كانت تعبر من شرق أفريقيا إلى السودان ومنها إلى شمال أفريقيا.



1- حدد المشكلة في النص التالي:

- السلام بين إريتريا وجمهورية إثيوبيا.
- الحرب بين إريتريا وجمهورية إثيوبيا.
- حالة الاحرب واللاسلام في القرن الأفريقي
- الاتجار بالبشر وتجارة المخدرات

2- انتهى الصراع بين إثيوبيا وإريتريا عام

- 2000م
- 2018م
- 2019م
- 2020م

3- ما الرسالة التي نستنتجها من رعاية دولة الإمارات العربية المتحدة للمصالحة التاريخية بين إثيوبيا وإريتريا

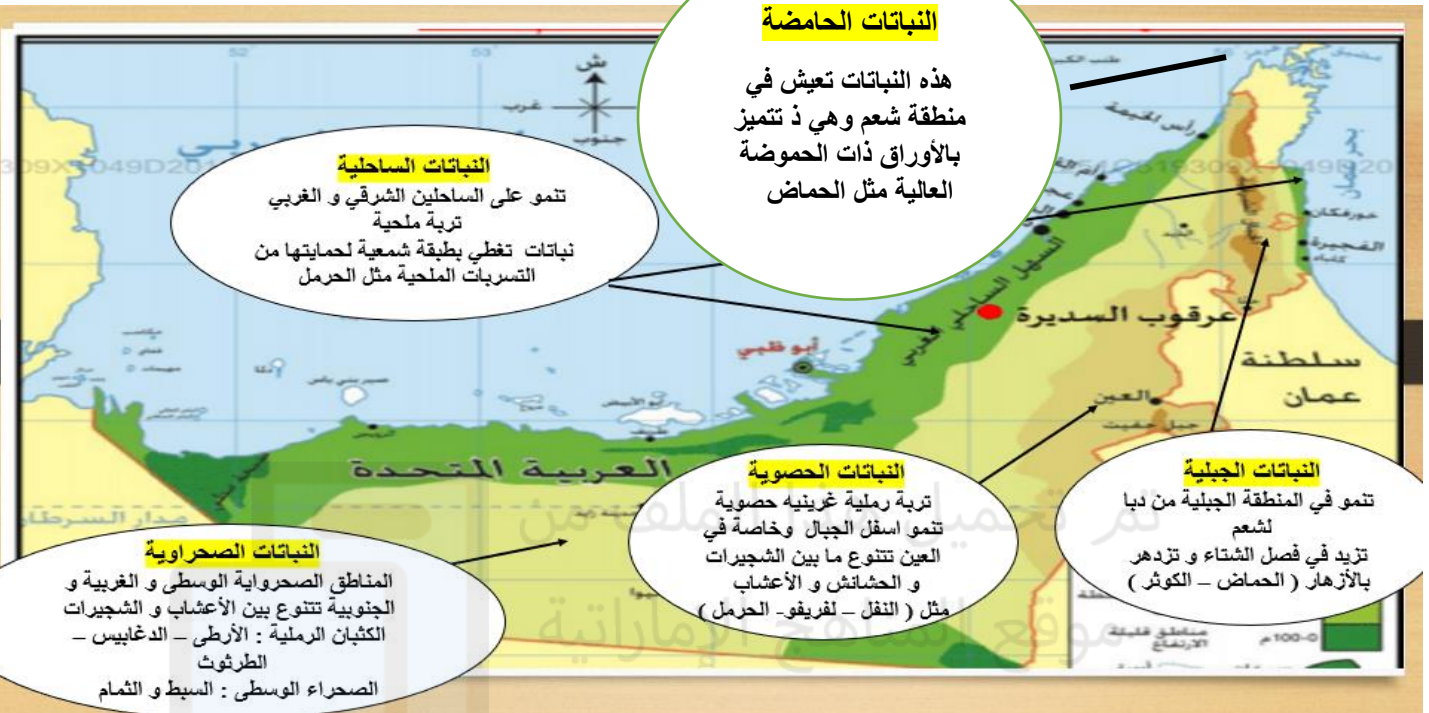
- التسامح والتعايش السلمي
- العمل على دعم المشاريع التنموية
- دعم البنى التحتية للدولة
- مساعدة الشعوب الفقيرة

4- ما القيمة النبيلة التي نستخلصها من النص

- إصلاح ذات البين
- العمل بروح الفريق
- البحث عن الحقيقة
- الاعتماد على الذات

5- نستخلص من الفقرة عبارة يمكن تعميمها

- العلاقات بين إثيوبيا و إريتيا
- الحرب تولد دمار بين الشعوب
- الحرب بين إريتيا وإثيوبيا
- الحرب سببها النزاع على الحدود



السؤال الرابع: أستعن بالخريط والمعلومات الواردة عليها ثم أجب عن الأسئلة التالية :

1- تنقسم النباتات الحولية في دولة الامارات العربية المتحدة إلى:

- 1) أربع مجموعات على حسب المناطق
- 2) أربع مجموعات على حسب درجة الحرارة
- 3) أربع مجموعات على حسب تواجد المياه
- 4) أربع مجموعات على حسب الرطوبة

2- سبب وجود طبقة شمعية في نبات الحرمل :

- 1) لحمايتها من أشعة الشمس
- 2) لحمايتها من الرطوبة العالية
- 3) لحمايتها من التسربات الملحية
- 4) لحمايتها من الحشرات والحيوانات

3- نبات أوراقه حامضة ينمو بعد سقوط الامطار في شمع .

A-الائل B- النفط C- الارطى D- الحماض

4- ما نوع التربة الممتدة على أطراف الجبال والوديان ؟

- 1) الصحراوية
- 2) الساحلية
- 3) الحصوية
- 4) الجبلية

5- ذهب راشد مع أصدقائه إلى رحلة للشواء ولكنه اكتشف أنه لم يوجد لديه وقود للشواء قام بقطع العديد من الأشجار

الموجودة لاستخدامها في الوقود، بين رأيك في موقف راشد من قطع الأشجار؟ ولماذا؟

- 1) موقف خاطئ لأنه يجب عليه عدم قطع الأشجار تمثل ثروة وطنية.
- 2) موقف نبيل، لأنه أراد اكتمال الرحلة مع أصدقائه و شواء الأطعمة لهم
- 3) موقف صائب، لأنه فكر بحل للمشكلة التي وقع فيها وهي عدم إحضار الوقود.
- 4) موقف طريف، لأنه لا يوجد شخص على الإطلاق ينسى الوقود أثناء الشواء

يُشير مصطلح اليونان الكلاسيكية إلى الفترة ما بين الحروب الفارسية، في بداية القرن الخامس قبل الميلاد حتى وفاة الإسكندر الأكبر 323 قبل الميلاد، كانت الفترة الكلاسيكية من تاريخ اليونان فترة حروب وصراع، أولاً بين اليونانيين-الإغريق- والفرس، ثم بين الأثينيين والإسبارطيين، ورغم الحروب والصراعات إلا أن هذه الفترة تميّزت بالإنجازات السياسية والثقافية غير المسبوقة، وإلى جانب البراثيون-معبد- والتراجيديا اليونانية، فقد قدّمت اليونان الكلاسيكية المؤرخ هيرودوت والطبيب أبقراط-هي بقراط- والفيلسوف سقراط، كما وقدمت اليونان الكلاسيكية للعالم الإصلاحات السياسية وتعد أكثر إسهامات اليونان القديمة للعالم الحديث النظام المعروف باسم ديموقراطيا- الديمقراطية-، فما هو تاريخ الإمبراطورية اليونانية، كانت مدينة أثينا خلال الفترة الكلاسيكية من اليونان القديمة 480 - 323 قبل الميلاد، والتي تُعد جزءاً من تاريخ الإمبراطورية اليونانية المركز الحضري الرئيس لمدينة بوليس المرموقة-تعني حرفياً مدينة في اليونان- التي تقع في أتيكا باليونان، والتي تقود تحالف ديليان في الحرب البيلوبونيسية ضد إسبرطة والتحالف البيلوبونيسي، وفي عام 508 قبل الميلاد تأسست الديمقراطية الأثينية في عهد كليستينيس بعد فترة الاستبداد في عهد إيساجوراس، وقد بلغت ذروة الهيمنة الأثينية في 440 - 430 قبل الميلاد والمعروفة بعصر بريكليس. وخلال الفترة الكلاسيكية كانت أثينا مركزاً للفنون والمعرفة والفلسفة وموطناً لأكاديمية أفلاطون والمدرسة المشائية-مدرسة فلسفية في اليونان القديمة أسسها أرسطو- لأرسطو، كما وكانت أثينا مسقط رأس سقراط وأفلاطون وبريكليس وأريستوفان، أرسطوفانيس ويوفوكليس والعديد من الفلاسفة والسياسيين والكتّاب البارزين في العالم القديم، وعلى نطاق واسع يشار إليها بأنها مهد الحضارة الغربية ومسقط رأس الديمقراطية؛ وذلك بسبب تأثير إنجازاتها الثقافية والسياسية خلال القرنين الخامس والرابع قبل الميلاد على بقية القارة الأوروبية المعروفة آنذاك. قد يكون الإسكندر الأكبر ملك مقدونيا 336 - 323 قبل الميلاد أعظم قائد عسكري عرفه العالم على الإطلاق، حيث امتدّت إمبراطوريته-الإمبراطورية اليونانية المقدونية- من جبل طارق إلى البنجاب، وجعل اليونانية هي اللغة المشتركة في إمبراطوريته، وهي اللغة التي ساعدت في نشر الدين المسيحي، فبعد أن وحّد والده فيليب الثاني معظم الدول اليونانية المعارضة، واصل الإسكندر غزواته بأخذ تراقيا وثيفا-طبية- وسوريا وفينيقيا وبلاد الرافدين وآشور ومصر إلى البنجاب في شمال الهند، وقد نشر الإسكندر الثقافة اليونانية والتجارة أينما ذهب،

السؤال الخامس : بعد قراءة النص قراءة متمنعة اجب عن الأسئلة المختارة :


1- الفترة ما بين الحروب الفارسية، في بداية القرن الخامس قبل الميلاد حتى وفاة الإسكندر الأكبر 323 قبل الميلاد هي اليونان.

A-الكلاسيكية B- القديمة C- الاغريقية D- أثينا

2- كان المركز الحضاري في اليونان

A-طبية B- اسبارطة C- فينيقيا D- أثينا

- 3- تعرف حرية التعبير والمشاركة في الانتخابات التي كانت سائدة في اليونان بـ
A-الحرية B- الديموقراطية C- السياسة D- الثقافة
- 4- وقد بلغت ذروة الهيمنة الأثينية في 440 - 430 قبل الميلاد والمعروفة بعصر بريكليس هذه الجملة تدل على .
A-الحقيقة B- الرأي C- التعميم D- نظرية
- 5- توسعت الإمبراطورية اليونانية في عهد .
A- بريكليس B- فيليب C- الاسكندر D- يوفيكليس



تم تحميل هذا الملف من
موقع المناهج الإماراتية

alManahj.com/ae

تعمل دولة الإمارات على أن تجعل من قمة المناخ كوب 28، التي من المقرر أن تستضيفها في مدينة إكسبو دبي، خلال شهر نوفمبر/نشرين الثاني المقبل (2023) مؤتمراً للتنفيذ، وليس للتعهدات فحسب، من خلال استثمار المال والجهد في هذا الإطار. وتأتي قمة المناخ المقبلة في ظرف دولي بالغ التعقيد، مع تراجع كثير من الدول عن تعهداتها المناخية في سبيل

تحقيق أمن الطاقة لمواطنيها، في ظل استمرار الحرب في أوكرانيا، التي دفعت الدول الكبرى إلى حصار موسكو، ما أسفر عن أزمة طاقة، تلقي بظلالها على كثير من دول العالم. وفي سبيل تحقيق المستهدفات العالمية خلال قمة المناخ كوب 28، اختارت الإمارات مسؤولين معروفين بجهودهم في هذا المجال، وفي مقدمتهم المبعوث الخاص للتغير المناخي الدكتور سلطان الجابر، المعين رئيساً للقمة، وتعيين وزيرة الدولة لشؤون الشباب شما المزروعي رائدة المناخ للشباب.

السؤال السادس : بعد قراءة النص والشكل المعلوماتي اجب عن الأسئلة التالية ؟

1- من أهداف كوب 28 العالمية في الامارات :

A- التصدي للتداعيات تغير المناخ

B- التصدي للتداعيات السياسية في المنطقة

C- التصدي للتداعيات الاقتصادية في المنطقة

D- التصدي للحروب والكوارث العالمية

2- تعقد كوب 28 العالمية في :

A- الامارات 2023

B- الامارات 2024

C- الامارات اكسبو 2023

D- الامارات ابوظبي 2023

3- لماذا يقى انعقاد قمة كوب 28 في الامارات تأييد عالمي :

A- مكانة الامارات السياسية على مستوى العالم


B- إطلاقها استراتيجية تحدي المناخ 2050

C- اطلاق مبادرة الابتكار الصناعي

D- مركز الحوار الإقليمي لتغير المناخ

4- من مميزات كوب 28 العالمية في الامارات :

- A- مؤتمر للتعهدات
B- مؤتمر للتخطيط
C- مؤتمر للتنفيذ
D- مؤتمر يمهد للخطط مستقبلية
- 6- ازمة الطاقة العالمية سببها الحرب :
A- الخليجية الاولى
B- الخلافات في السودان
C- الحرب روسيا وكرانيا
D- الازمة الكورية "الشمالية والجنوبية "



تم تحميل هذا الملف من
موقع المناهج الإماراتية

alManahj.com/ae

: