

شكراً لتحميلك هذا الملف من موقع المناهج الإماراتية



اوراق عمل مراجعة درس اليابان

[موقع المناهج](#) ⇨ [المناهج الإماراتية](#) ⇨ [الصف السادس](#) ⇨ [اجتماعيات](#) ⇨ [الفصل الثالث](#) ⇨ [الملف](#)

تاريخ نشر الملف على موقع المناهج: 2019-04-25 16:11:41

التواصل الاجتماعي بحسب الصف السادس



روابط مواد الصف السادس على تلغرام

[الرياضيات](#)

[اللغة الانجليزية](#)

[اللغة العربية](#)

[التربية الاسلامية](#)

المزيد من الملفات بحسب الصف السادس والمادة اجتماعيات في الفصل الثالث

أسئلة الامتحان النهائي	1
حل أسئلة الامتحان النهائي التعويضي	2
أسئلة الامتحان النهائي التعويضي	3
حل نموذج تدريبي على الاختبار الوزاري	4
نموذج تدريبي على الاختبار الوزاري	5

نموذج مراجعة لدرس اليابان
الصف السادس الفصل الدراسي الثالث (2017-2018 م)
إعداد المعلمة موزة درويش الرئيسي

جميع الأسئلة اختيار من متعدد :
السؤال الأول :

1- كلمة اليابان تعني

- A. أرض مغرب الشمس
- B. أرض مشرق الشمس
- C. أرض بعيدة من الشمس
- D. أرض قريبة من الشمس

2- اليابان عبارة عن ----- تحيط به مياه المحيط الهادي

- A. شكل دائري
- B. جزيرة كبيرة
- C. عقد كبير
- D. أرخبيل

3- تتألف اليابان من ----- يصل عددها إلى 3000 جزيرة

- A. سلسلة كبيرة من الجزر
- B. سلسلة صغيرة من الجزر
- C. سلسلة متوسطة من الجزر
- D. سلسلة متفرقة من الجزر

4- أكبر الجزر مساحة في اليابان هي جزيرة -----

- A. هوكايدو
- B. هونشو
- C. كيوشو
- D. شيكوكو

5- انظر إلى الخريطة تقع اليابان في أقصى الجهة ----- من قارة آسيا



- A. الغربية
- B. الشمالية
- C. الشرقية
- D. الجنوبية

6- تقع اليابان بين دائرتي عرض -----

- A. 24-46 شمالاً
- B. 24-46 جنوباً
- C. 24-46 غرباً
- D. 24-46 شرقاً

7- طوكيو عاصمة اليابان وتعني ----- وتقع في أكبر الجزر الأربعة

للبر الياباني -----

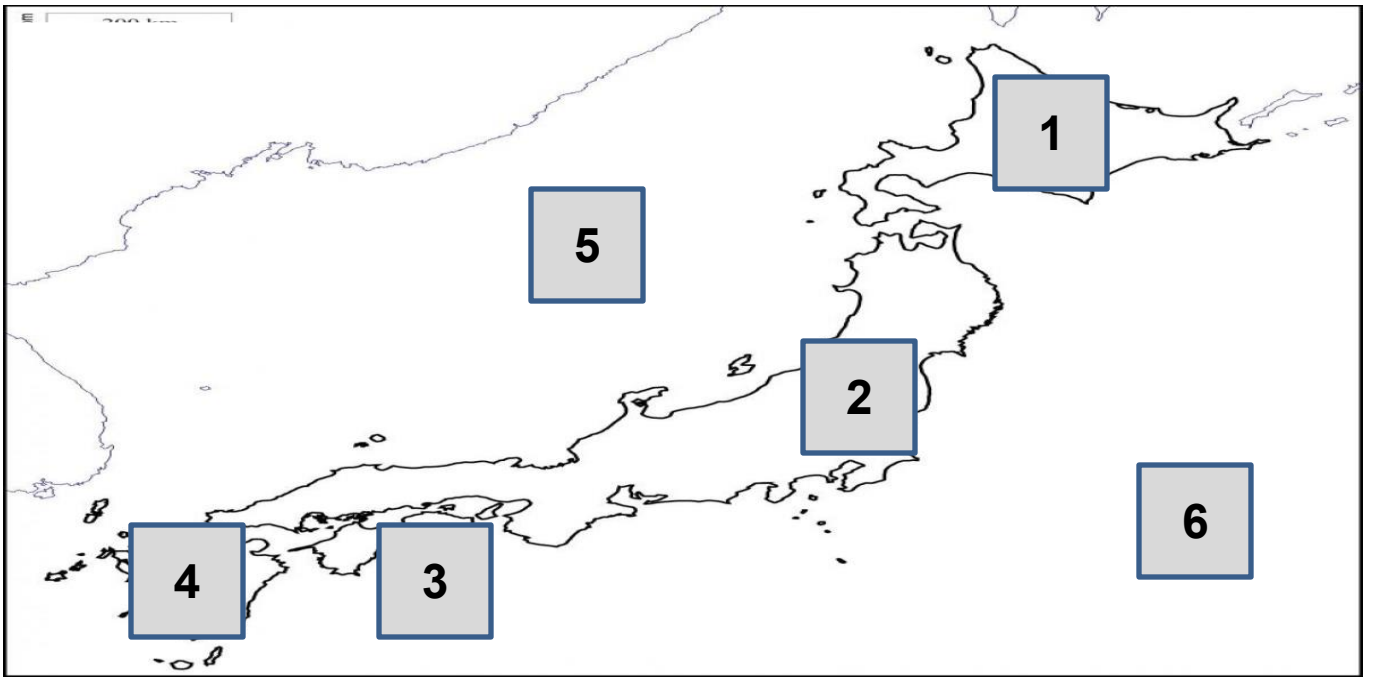
- A. العاصمة الغربية ، هونشو
- B. العاصمة الشرقية ، كيوشو
- C. العاصمة الغربية ، كيوشو
- D. العاصمة الشرقية ، هونشو

8- تغطي الجبال في اليابان أكثر من حوالي ----- من المساحة الكلية للبلاد

- A. 60%
- B. 70%
- C. 80%
- D. 90%

9- حزام النار هو -----

- A. منطقة ينشط فيها عدد كبير من الزلازل والبراكين حول حوض المحيط الهادي
- B. منطقة ينشط فيها عدد كبير من الزلازل والبراكين حول حوض المحيط الهندي
- C. منطقة ينشط فيها عدد كبير من الزلازل والبراكين حول حوض بحر اليابان
- D. منطقة ينشط فيها عدد كبير من الزلازل والبراكين حول حوض بحر الصين الشرقي



نظر إلى الخريطة ثم أجب عن الأسئلة التالية :

10 - أصغر جزر اليابان هي رقم ----- في الخريطة وتسمى -----

- A. 1 ، هونشو
- B. 3 ، شيكوكو
- C. 4 ، كيوشو
- D. 2 ، هوكايدو

11- أكبر الجزر اليابانية مساحة هي رقم ----- وتسمى -----

- A. 2 ، شيكوكو
- B. 2 ، هوكايدو
- C. 2 ، هونشو
- D. 2 ، كيوشو

12- رقم 6 في الخريطة يمثل أحد المسطحات المائية التي تحيط باليابان من جهة

الشرق وهو -----

- A. المحيط الهادي
- B. بحر اليابان
- C. بحر الصين
- D. المحيط الاطلسي



نظر إلى الخريطة ثم أجب عن الأسئلة التالية (س13 - س14) :

13 - أقرب الدول إلى اليابان

A. الهند

B. كوريا الجنوبية

C. بنجلادش

D. الامارات

14- اسم المسطح المائي الذي يحيط باليابان من جهة الغرب -----

A. المحيط الهادي

B. بحر اليابان

C. بحر الصين

D. المحيط الهندي

15 - تعتبر ----- أكبر تجمع حضري في العالم وهي اليوم المركز

السياسي الاقتصادي والثقافي للبلاد .

A. أوساكا

B. كوبي

C. كيوتو

D. طوكيو

16- تتكون الجبال في اليابان من -----

A. سلسلة واحدة

B. سلسلتين متوازيتين

C. سلاسل عدة

D. ثلاث سلاسل

17- أعلى جبال اليابان ارتفاعاً----- وتنحدر منها أنهار قصيرة ضحلة

A. جبال فوجي

B. جبال شرقية

C. جبال غربية

D. جميع ما ذكر

18- تستخدم الأنهار القصيرة في ري المزارع وتوليد الطاقة الكهربائية ولكن

انحدارها الشديد لا يساعدها في -----

A. السباحة

B. التجارة

C. الصيد

D. الملاحة

19- سهل كوانتو -----

A. هو أكبر السهول مساحة في اليابان

B. هو أصغر السهول مساحة في اليابان

C. يقع عند النهاية الشرقية للبحر الداخلي

D. أصغر من سهل نوبي في المساحة

20- تتعرض اليابان إلى نوعين من التيارات البحرية ----- و-----

A. الحارة و الدافئة

B. الحارة والباردة

C. الباردة و الدافئة

D. الباردة والرطوبة

21- تختلف أنواع الغابات من الجنوب إلى الشمال فهي في الجنوب من نوع الغابات ---
----- وأهم أشجارها الكافور

- A. الغابات المعتدلة
- B. الغابات المدارية
- C. الغابات الباردة
- D. غابات صنوبرية

22- الغابات المعتدلة في جزيرة هونشو من أهم أشجارها -----

- A. الكافور
- B. الشربين
- C. الصنوبر
- D. الأرز

23- المناطق الشمالية لليابان تنمو على مرتفعاتها الغابات الباردة وأهم أشجارها -----

----- و -----

- A. الأرز والبلوط
- B. الكافور والشربين
- C. الصنوبر والأرز
- D. البلوط والشربين



24- صيف اليابان تكون الحرارة مرتفعة وتهب الرياح ---

- A. الموسمية الجنوبية الشرقية
- B. الموسمية الجنوبية الغربية
- C. الموسمية الشمالية الشرقية
- D. الموسمية الشمالية الغربية

25- شتاء اليابان تكون الحرارة معتدلة وتهب الرياح -----

- A. الموسمية الجنوبية الشرقية الجافة
- B. الموسمية الجنوبية الغربية الجافة
- C. الموسمية الشمالية الشرقية الجافة
- D. الموسمية الشمالية الغربية الجافة

26- من العوامل المؤثرة في مناخ اليابان -----

- A. الموقع الجغرافي لليابان
- B. تحيط بها المسطحات المائية
- C. مرور التيارات البحرية
- D. جميع ما ذكر

27- تحتل اليابان المرتبة ----- على مستوى العالم في عدد السكان

- A. الثامنة
- B. التاسعة
- C. السابعة
- D. العاشرة

28- ما هو سبب تناقص عدد سكان اليابان في السنوات الأخيرة ؟

- A. التطور التكنولوجي
- B. لوجود عدد كبير من كبار السن
- C. خروج المرأة للعمل وانشغالها عن الإنجاب
- D. بسبب الزلازل والبراكين

29- يعد كبار السن للشعب الياباني من أكثر شعوب العالم عدداً نظراً -----

- A. لزيادة عدد السكان اليابانيين
- B. لقلة الوفيات
- C. خروج المرأة للعمل
- D. بسبب انشغالهم بالزراعة

30- من طرائق معالجة قلة الأراضي الصالحة للمشروعات الاقتصادية في اليابان

- A. بناء ناطحات السحاب والأبنية المرتفعة لاستيعاب الاكتظاظ السكاني
- B. التقليل من إنشاء المصاطب والمدرجات على التلال والجبال
- C. تمركز المنشآت بشكل أفقي داخل المدن
- D. جميع ما ذكر

31- تعد اليابان من اولى دول العالم في -----

- A. الزراعة
- B. الصناعة
- C. صيد الأسماك
- D. الثروة الحيوانية

32- تعد اليابان من أولى دول العالم في صيد الأسماك لغنى المياه المجاورة لها

بالأسماك نتيجة -----

- A. لالتقاء التيارات البحرية الدافئة والتيارات البحرية الباردة وتوفرها بالخلجان الهادئة
- B. تمتلك اليابان على مستوى العالم واحداً من أكبر مصانع الأسماك إنتاجاً
- C. لديها أكبر أسطول لصيد الأسماك
- D. جميع ما ذكر

33- احتلت اليابان المركز ----- في الإنتاج العالمي لصيد الأسماك لعام 2017 م

- A. الثامن
- B. التاسع
- C. السابع
- D. الخامس

34- من أهم الأدوات التي اشتهر بها سكان المناطق الزراعية في دولة الإمارات هي --

----- وهي تمثل طريقة قديمة ومبتكرة لري الأرض الزراعية

- A. محراث
- B. اليازر
- C. الحفارة
- D. اليرز

35- من أهم المحاصيل الزراعية في اليابان ويعد الغذاء الرئيسي -----

- A. الشعير
- B. الشاي
- C. الأرز
- D. البطاطس

- 36- ساعد اليابان على ازدهار الصناعة عدة عوامل منها -----
- A. توفر القوى العاملة ذات الكفاءة العالية من الناحية الفنية
 - B. خروج المرأة للعمل
 - C. طبيعة تضاريس اليابان الجبلية
 - D. ارتفاع الكثافة السكانية في بعض الجزر

- 37- من اهم الصناعات اليابانية -----
- A. صناعة السيارات
 - B. صناعة الغزل
 - C. الصناعات الكهربائية
 - D. جميع ما ذكر

- 38- أسباب تركز السكان في هنشو ويوكوهاما والسواحل الجنوبية لجزيرتي شيكوكو وكيوشو -----
- A. بسبب الطبيعة الخلابة وتقلب المناخ وعدم اعتداله
 - B. مركز رئيس للاقتصاد والثقافة واعتدال المناخ
 - C. اعتدال المناخ وعدم تنوع الأنشطة الاقتصادية
 - D. تحتل الشركات اليابانية المركز الأول عالمياً مما قلل العمل في طوكيو

- 39- من أبرز الصادرات التي تصدرها الامارات لليابان -----
- A. السيارات
 - B. النفط
 - C. الالكترونيات
 - D. المواد الغذائية

- 40- تشمل مجالات التعاون بين دولة الامارات واليابان -----
- A. دراسة اللغة اليابانية
 - B. ايفاد أبناء الامارات لاستكمال دراستهم العليا في اليابان
 - C. الاستفادة من النهضة الزراعية
 - D. توقف عجلة التنمية التي تشهدها الإمارات

نموذج مراجعة لدرس اليابان
الصف السادس الفصل الدراسي الثالث (2017-2018 م)
إعداد المعلمة موزة درويش الرئيسي

جميع الأسئلة اختيار من متعدد :
السؤال الأول :

1- كلمة اليابان تعني

- A. أرض مغرب الشمس
- B. أرض مشرق الشمس
- C. أرض بعيدة من الشمس
- D. أرض قريبة من الشمس

2- اليابان عبارة عن ----- تحيط به مياه المحيط الهادي

- A. شكل دائري
- B. جزيرة كبيرة
- C. عقد كبير
- D. أرخبيل

3- تتألف اليابان من ----- يصل عددها إلى 3000 جزيرة

- A. سلسلة كبيرة من الجزر
- B. سلسلة صغيرة من الجزر
- C. سلسلة متوسطة من الجزر
- D. سلسلة متفرقة من الجزر

4- أكبر الجزر مساحة في اليابان هي جزيرة -----

- A. هوكايدو
- B. هونشو
- C. كيوشو
- D. شيكوكو

5- انظر إلى الخريطة تقع اليابان في أقصى الجهة ----- من قارة آسيا



- A. الغربية
- B. الشمالية
- C. الشرقية
- D. الجنوبية

6- تقع اليابان بين دائرتي عرض -----

- A. 24-46 شمالاً
- B. 24-46 جنوباً
- C. 24-46 غرباً
- D. 24-46 شرقاً

7- طوكيو عاصمة اليابان وتعني ----- وتقع في أكبر الجزر الأربعة

للبر الياباني -----

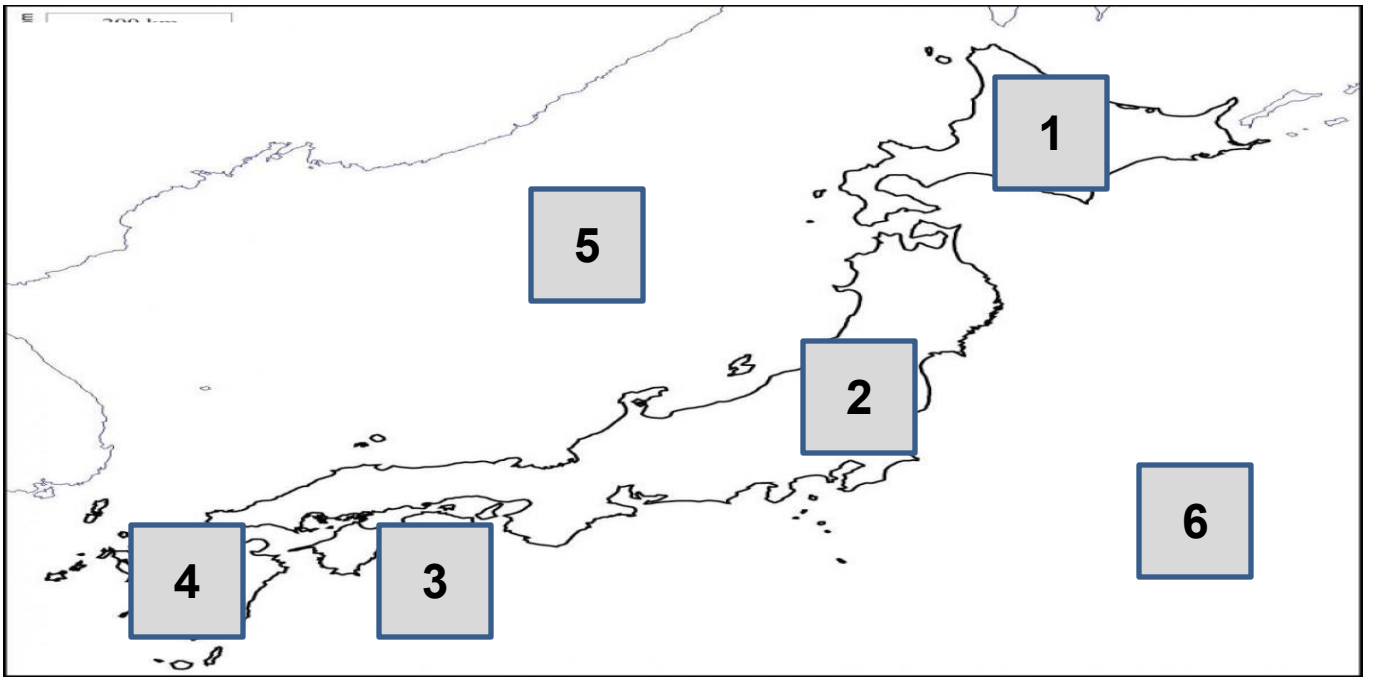
- A. العاصمة الغربية ، هونشو
- B. العاصمة الشرقية ، كيوشو
- C. العاصمة الغربية ، كيوشو
- D. العاصمة الشرقية ، هونشو

8- تغطي الجبال في اليابان أكثر من حوالي ----- من المساحة الكلية للبلاد

- A. 60%
- B. 70%
- C. 80%
- D. 90%

9- حزام النار هو -----

- A. منطقة ينشط فيها عدد كبير من الزلازل والبراكين حول حوض المحيط الهادي
- B. منطقة ينشط فيها عدد كبير من الزلازل والبراكين حول حوض المحيط الهندي
- C. منطقة ينشط فيها عدد كبير من الزلازل والبراكين حول حوض بحر اليابان
- D. منطقة ينشط فيها عدد كبير من الزلازل والبراكين حول حوض بحر الصين الشرقي



نظر إلى الخريطة ثم أجب عن الأسئلة التالية :

10 - أصغر جزر اليابان هي رقم ----- في الخريطة وتسمى -----

- A. 1 ، هونشو
- B. 3 ، شيكوكو
- C. 4 ، كيوشو
- D. 2 ، هوكايدو

11- أكبر الجزر اليابانية مساحة هي رقم ----- وتسمى -----

- A. 2 ، شيكوكو
- B. 2 ، هوكايدو
- C. 2 ، هونشو
- D. 2 ، كيوشو

12- رقم 6 في الخريطة يمثل أحد المسطحات المائية التي تحيط باليابان من جهة

الشرق وهو -----

- A. المحيط الهادي
- B. بحر اليابان
- C. بحر الصين
- D. المحيط الاطلسي



نظر إلى الخريطة ثم أجب عن الأسئلة التالية (س13 - س14) :

13 - أقرب الدول إلى اليابان

- A. الهند
- B. كوريا الجنوبية
- C. بنجلادش
- D. الامارات

14- اسم المسطح المائي الذي يحيط باليابان من جهة الغرب -----

- A. المحيط الهادي
- B. بحر اليابان
- C. بحر الصين
- D. المحيط الهندي

15 - تعتبر ----- أكبر تجمع حضري في العالم وهي اليوم المركز

السياسي الاقتصادي والثقافي للبلاد .

- A. أوساكا
- B. كوبي
- C. كيوتو
- D. طوكيو

16- تتكون الجبال في اليابان من -----

A. سلسلة واحدة

B. سلسلتين متوازيتين

C. سلاسل عدة

D. ثلاث سلاسل

17- أعلى جبال اليابان ارتفاعاً----- وتنحدر منها أنهار قصيرة ضحلة

A. جبال فوجي

B. جبال شرقية

C. جبال غربية

D. جميع ما ذكر

18- تستخدم الأنهار القصيرة في ري المزارع وتوليد الطاقة الكهربائية ولكن

انحدارها الشديد لا يساعدها في -----

A. السباحة

B. التجارة

C. الصيد

D. الملاحة

19- سهل كوانتو -----

A. هو أكبر السهول مساحة في اليابان

B. هو أصغر السهول مساحة في اليابان

C. يقع عند النهاية الشرقية للبحر الداخلي

D. أصغر من سهل نوبي في المساحة

20- تتعرض اليابان إلى نوعين من التيارات البحرية ----- و -----

A. الحارة و الدافئة

B. الحارة والباردة

C. الباردة و الدافئة

D. الباردة والرطوبة

21- تختلف أنواع الغابات من الجنوب إلى الشمال فهي في الجنوب من نوع الغابات ---
----- وأهم أشجارها الكافور

- A. الغابات المعتدلة
- B. الغابات المدارية
- C. الغابات الباردة
- D. غابات صنوبرية

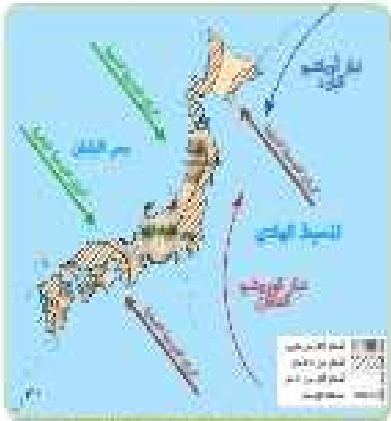
22- الغابات المعتدلة في جزيرة هونشو من أهم أشجارها -----

- A. الكافور
- B. الشربين
- C. الصنوبر
- D. الأرز

23- المناطق الشمالية لليابان تنمو على مرتفعاتها الغابات الباردة وأهم أشجارها -----

----- و -----

- A. الأرز والبلوط
- B. الكافور والشربين
- C. الصنوبر والأرز
- D. البلوط والشربين



24- صيف اليابان تكون الحرارة مرتفعة وتهب الرياح ---

- A. الموسمية الجنوبية الشرقية
- B. الموسمية الجنوبية الغربية
- C. الموسمية الشمالية الشرقية
- D. الموسمية الشمالية الغربية

25- شتاء اليابان تكون الحرارة معتدلة وتهب الرياح -----

- A. الموسمية الجنوبية الشرقية الجافة
- B. الموسمية الجنوبية الغربية الجافة
- C. الموسمية الشمالية الشرقية الجافة
- D. الموسمية الشمالية الغربية الجافة

26- من العوامل المؤثرة في مناخ اليابان -----

A. الموقع الجغرافي لليابان

B. تحيط بها المسطحات المائية

C. مرور التيارات البحرية

D. جميع ما ذكر

27- تحتل اليابان المرتبة ----- على مستوى العالم في عدد السكان

A. الثامنة

B. التاسعة

C. السابعة

D. العاشرة

28- ما هو سبب تناقص عدد سكان اليابان في السنوات الأخيرة ؟

A. التطور التكنولوجي

B. لوجود عدد كبير من كبار السن

C. خروج المرأة للعمل وانشغالها عن الإنجاب

D. بسبب الزلازل والبراكين

29- يعد كبار السن للشعب الياباني من أكثر شعوب العالم عدداً نظراً -----

A. لزيادة عدد السكان اليابانيين

B. لقلة الوفيات

C. خروج المرأة للعمل

D. بسبب انشغالهم بالزراعة

30- من طرائق معالجة قلة الأراضي الصالحة للمشروعات الاقتصادية في اليابان

A. بناء ناطحات السحاب والأبنية المرتفعة لاستيعاب الاكتظاظ السكاني

B. التقليل من إنشاء المصاطب والمدرجات على التلال والجبال

C. تمركز المنشآت بشكل أفقي داخل المدن

D. جميع ما ذكر

31- تعد اليابان من اولى دول العالم في -----

- A. الزراعة
- B. الصناعة
- C. صيد الأسماك
- D. الثروة الحيوانية

32- تعد اليابان من أولى دول العالم في صيد الأسماك لغنى المياه المجاورة لها
بالأسماك نتيجة -----

- A. لالتقاء التيارات البحرية الدافئة والتيارات البحرية الباردة وتوفرها بالخلجان الهادئة
- B. تمتلك اليابان على مستوى العالم واحداً من أكبر مصانع الأسماك إنتاجاً
- C. لديها أكبر أسطول لصيد الأسماك
- D. جميع ما ذكر

33- احتلت اليابان المركز ----- في الإنتاج العالمي لصيد الأسماك لعام 2017 م

- A. الثامن
- B. التاسع
- C. السابع
- D. الخامس

34- من أهم الأدوات التي اشتهر بها سكان المناطق الزراعية في دولة الإمارات هي --
----- وهي تمثل طريقة قديمة ومبتكرة لري الأرض الزراعية

- A. محراث
- B. اليازر
- C. الحفارة
- D. اليرز

35- من أهم المحاصيل الزراعية في اليابان ويعد الغذاء الرئيسي -----

- A. الشعير
- B. الشاي
- C. الأرز
- D. البطاطس

- 36- ساعد اليابان على ازدهار الصناعة عدة عوامل منها -----
A. توفر القوى العاملة ذات الكفاءة العالية من الناحية الفنية
B. خروج المرأة للعمل
C. طبيعة تضاريس اليابان الجبلية
D. ارتفاع الكثافة السكانية في بعض الجزر

- 37- من اهم الصناعات اليابانية -----
A. صناعة السيارات
B. صناعة الغزل
C. الصناعات الكهربائية
D. جميع ما ذكر

- 38- أسباب تركيز السكان في هنشو ويوكوهاما والسواحل الجنوبية لجزيرتي شيكوكو وكيوشو -----
A. بسبب الطبيعة الخلابة وتقلب المناخ وعدم اعتداله
B. مركز رئيس للاقتصاد والثقافة واعتدال المناخ
C. اعتدال المناخ وعدم تنوع الأنشطة الاقتصادية
D. تحتل الشركات اليابانية المركز الأول عالمياً مما قلل العمل في طوكيو

- 39- من أبرز الصادرات التي تصدرها الامارات لليابان -----
A. السيارات
B. النفط
C. الالكترونيات
D. المواد الغذائية

- 40- تشمل مجالات التعاون بين دولة الامارات واليابان -----
A. دراسة اللغة اليابانية
B. ايفاد أبناء الامارات لاستكمال دراستهم العليا في اليابان
C. الاستفادة من النهضة الزراعية
D. توقف عجلة التنمية التي تشهدها الإمارات