

شكراً لتحميلك هذا الملف من موقع المناهج الإماراتية



حل تدريبات كتابية وفق الهيكل الوزاري

[موقع المناهج](#) ⇨ [المناهج الإماراتية](#) ⇨ [الصف السابع](#) ⇨ [علوم](#) ⇨ [الفصل الثاني](#) ⇨ [الملف](#)

تاريخ نشر الملف على موقع المناهج: 11:05:53 2024-03-17

[إعداد: أسماء سالم](#)

التواصل الاجتماعي بحسب الصف السابع



روابط مواد الصف السابع على تلغرام

[الرياضيات](#)

[اللغة الانجليزية](#)

[اللغة العربية](#)

[التربية الاسلامية](#)

المزيد من الملفات بحسب الصف السابع والمادة علوم في الفصل الثاني

[حل نموذج تدريبي امتحاني](#)

1

[نموذج تدريبي امتحاني](#)

2

[أسئلة الجزء الكتابي وفق الهيكل الوزاري انسابير](#)

3

[حل أسئلة الامتحان النهائي الالكتروني بريدج](#)

4

[حل أسئلة الامتحان النهائي الالكتروني](#)


5

رؤيتنا.. إعداد جيل لديه انتماء للوطن قادر على استخدام تقنيات العصر لتحقيق مراكز متقدمة
Our vision is to prepare a generation that has a sense of belonging to the homeland, capable of using
modern technologies to achieve advanced positions

تدريبات كتابية لمادة العلوم الفصل الدراسي الثاني 2023-2024

الشعبة:

اسم الطالبة :



مديرة المدرسة
أ/شيماء يوسف

اعداد المعلمة
أسماء سالم

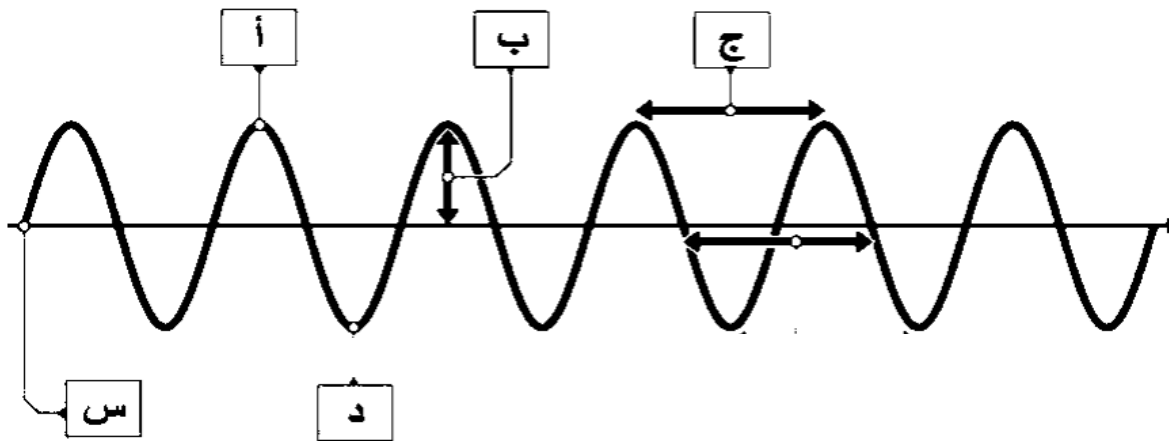
الوحدة السادسة: الموجات والصوت والضوء

انواع الموجات الرئيسية	موجات ميكانيكية	موجات كهرومغناطيسية
التعريف	موجات تحتاج لوسط مادي لانتقالها	موجات يمكن ان تنتقل في الفراغ والوسط المادي
كيف تنتج	اهتزاز جسيمات الوسط المادي	اهتزاز جسيم مشحون مثل الالكترونات
مثال	موجات الصوت	موجات الضوء

الموجة	الصوت	الضوء	الماء
الوسط الناقل	الهواء	الفراغ - الهواء - الماء - المواد الصلبة مثل النوافذ	الماء

نوع حركة الموجات	الموجة المستعرضة	الموجة الطولية
حركة الجسيمات	للأعلى والاسفل	للامام والخلف
حركة الجسيمات بالنسبة لحركة الموجة	متعامدة	متوازية
نوع الموجة	كهرومغناطيسية او ميكانيكية	ميكانيكية فقط
مثال	موجات الضوء حركة العلم	موجات الصوت

امواج الزلزال				امواج الماء	نوع حركة الموجات
حركة طبقات الصخور بشكل مفاجئ				احتكاك الرياح بالماء	سبب تكونها
سطحية	ثانوية	أولية	انواع الموجات الزلزالية	دوائر	حركة الجسيمات
تشبه حركة موجات الماء	عمودي	موازي	حركة الجسيمات بالنسبة للموجة	مزيج من مستعرضة وطولية	حركة الموجة
مزيج من مستعرضة وطولية	مستعرضة	طولية	حركة الموجة		
ميكانيكية				ميكانيكية	نوع الموجة

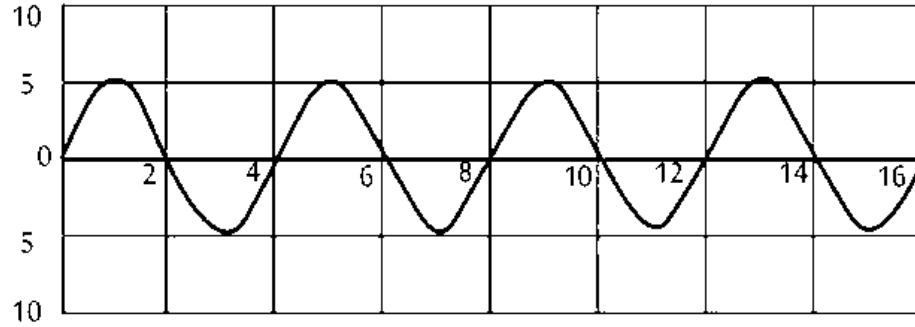


حدد على الرسم ما يلي :

1. نوع الموجة:مستعرضة.....
2. القمةأ.....
3. القاعد.....
4. موضع السكونس.....
5. الطول الموجيج.....
6. السعةب.....

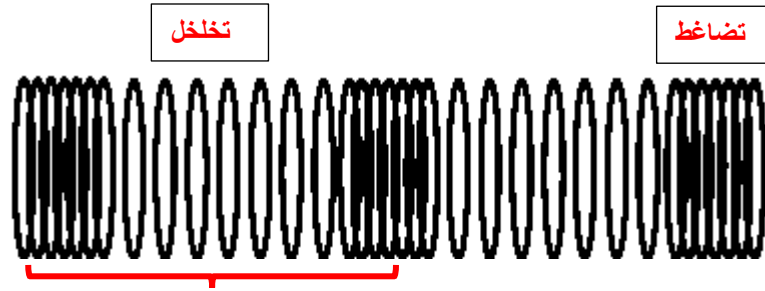
احسب على الرسم ما يلي

ارتفاع الموجة (m)



المسافة التي تنتقلها الموجة
(m)

1. الطول الموجي **2 m**.....
2. التردد **4**.....
3. السعة **5 m**.....

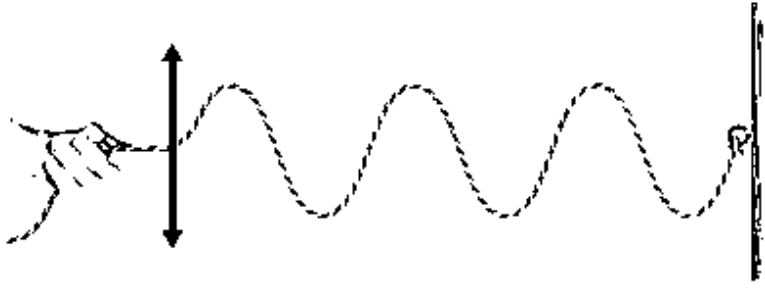


الطول الموجي

يعرض الشكل المجاور موجات صوتية تنتقل عبر الهواء

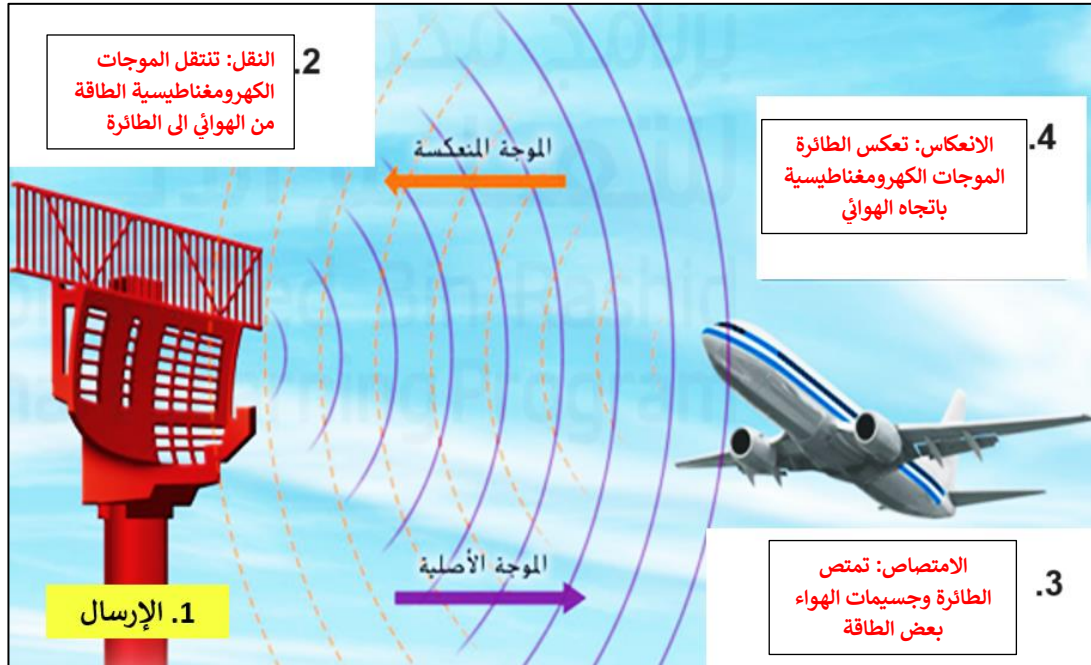
1. ما نوع هذه الموجات؟ **ميكانيكية**
2. ما حركة الموجات؟ **طولية**
3. مما تتكون هذه الموجات؟ **تضاغطات وتخلخلات**
4. حدد الطول الموجي من الرسم؟ **المسافة بين تضاغطين متتاليين او تخلخلين متتاليين**
5. ماذا تسمى المنطقة التي تتقارب فيها جزيئات الوسط الناقل **تضاغط**

يعرض الشكل المجاور موجات متولدة في الحبل

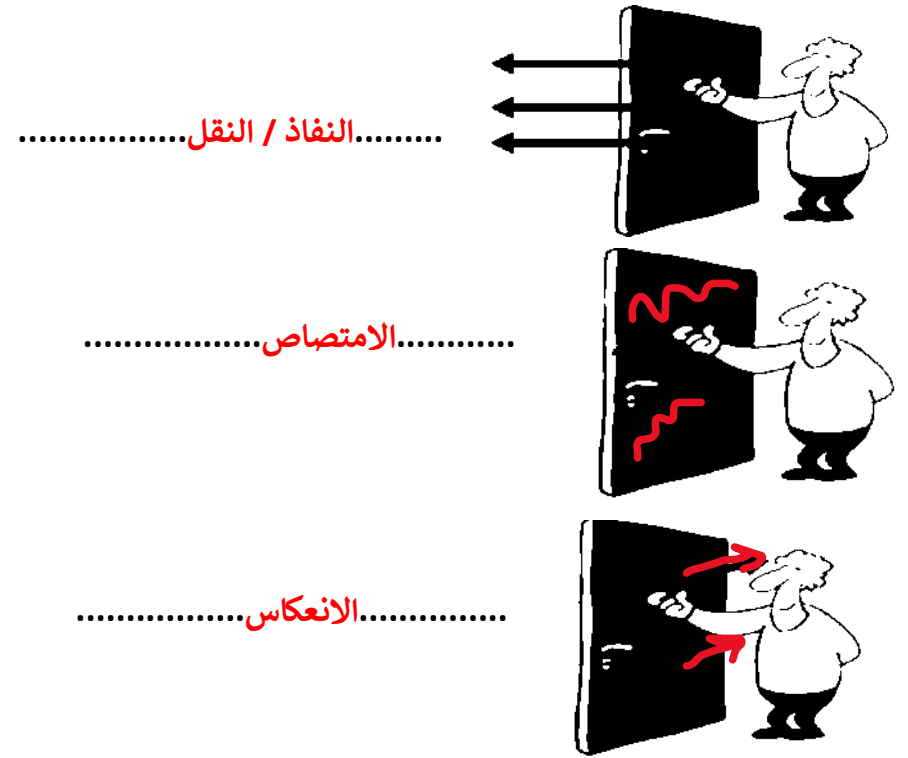


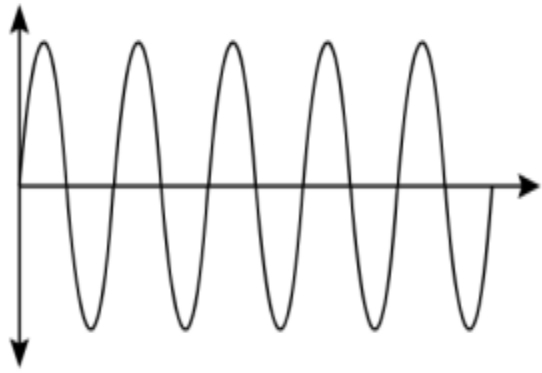
1. ما نوع هذه الموجات؟ميكانيكية.....
2. ما حركة الموجات؟مستعرضة.....
3. مما تتكون هذه الموجات؟قمة وقاع.....
4. ماذا تسمى المسافة بين قمتين متتاليتين؟الطول الموجي.....

حدد نوع التفاعل مع الموجة الكهرومغناطيسية على الرسم

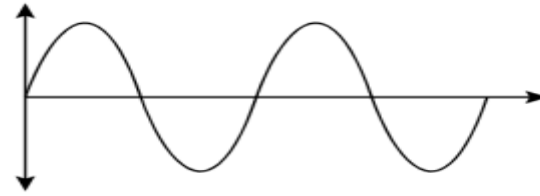


حدد نوع التفاعل مع الموجة الميكانيكية على الرسم





الموجة (٢)



الموجة (١)

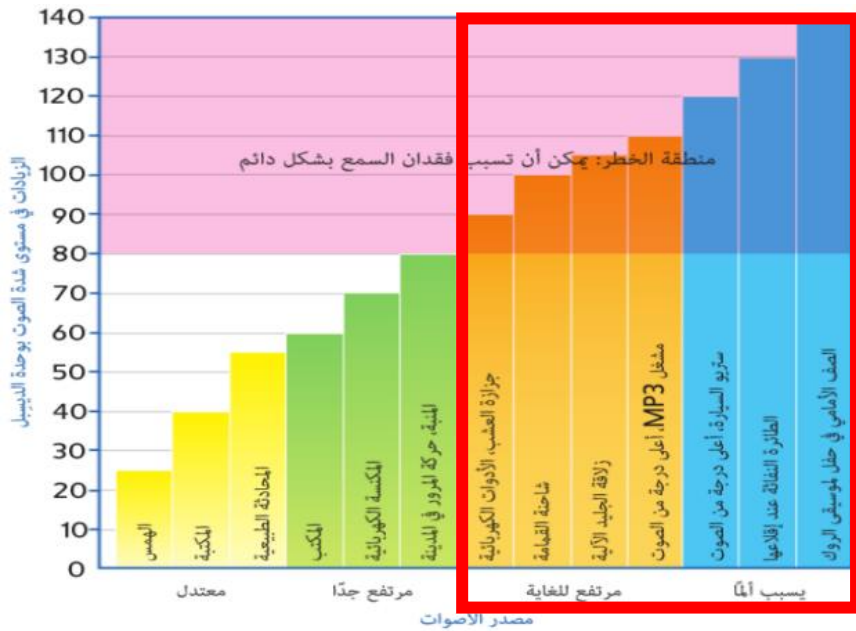
من الشكل المجاور اجب عن الاسئلة التالية :

1. اي الموجتين لها طول موجي أعلى ؟1.....
2. اي الموجتين لها تردد أقل ؟1.....
3. العلاقة بين التردد والطول الموجي ؟عكسية.....
4. اي الموجتين لها طاقة اكبر ؟2 (شدة الصوت مرتفعة).....
5. اي الموجتين تمثل صوت الرجل ؟1 (لان صوت الرجل غليظ يعني تردد اقل).....

من الشكل المجاور اجب عن الاسئلة التالية :

1. ماهو اقل مقدار من شدة الصوت يمكن ان يتسبب في فقدان السمع بشكل دائم ؟ **80 dB**
2. ما مصدر الصوت الذي يمكن ان يتسبب في فقدان السمع بشكل دائم ؟
3. ما مستوى الديسيبل الاعلى الذي لا يعرض الاذن لخطر ؟**80 dB**.....
4. ما مقدار زيادة الديسيبل لالة جز العشب عن مستويات الديسيبل الخاصة بالمنبة ؟

.....**10 dB**.....

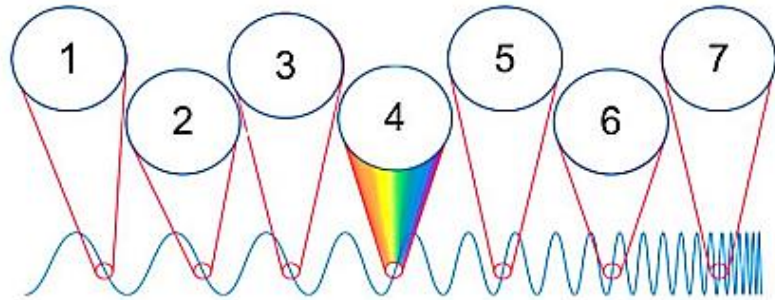


من الجدول التالي اجب عن الاتي

المادة	سرعة الصوت (m/s)
الهواء (0°C)	331
الهواء (20°C)	343
الماء (0°C)	1,500
الماء (20°C)	1,481
الثلج (0°C)	3,500
الحديد (20°C)	5,130

1. ما المادة التي ينتقل فيها الصوت بشكل اسرع**الصلبة (الحديد)**.....
2. العلاقة بين سرعة الصوت في الغازات ودرجة الحرارة؟ **طردية (تزيد سرعة الغازات بارتفاع درجة الحرارة)**
3. العلاقة بين سرعة الصوت في السوائل ودرجة الحرارة؟ **عكسية (تزيد سرعة السوائل بانخفاض درجة الحرارة)**
4. ايهما اسرع الصوت في الماء الساخن ام البارد .. فسر ذلك؟ **الماء البارد لان كلما ارتفعت درجة الحرارة اقتربت الجسيمات من بعضها فتزيد التصادمات فينتقل الصوت اسرع**

اكمل المخطط التالي ثم اجب عن الاسئلة التالية :

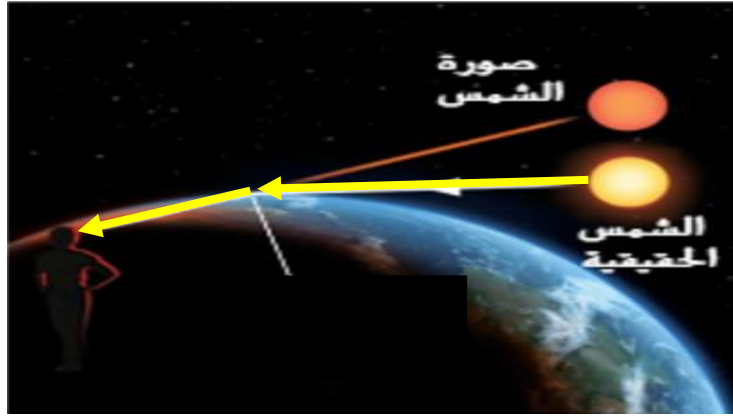


1. نوع من الموجات الكهرومغناطيسية تستطيع العين البشرية تمييزها؟ **الضوء المرئي**
2. نوع من الموجات الكهرومغناطيسية لها اقصر طول موجي وتردد اعلى**جاما**.....
3. يقل الطول الموجي عند الانتقال نحو**اليسار**.....
4. اي نوع من الموجات يحمل 49% من طاقة الشمس؟ **تحت الحمراء**.....

يقل الطول الموجي

يزيد التردد

تزيد الطاقة



الظاهرة: الانكسار.....

سبب رؤية الشمس عند الغروب وكأنها في مكان أعلى في السماء



حدد نوع الظاهرة وفسر السبب

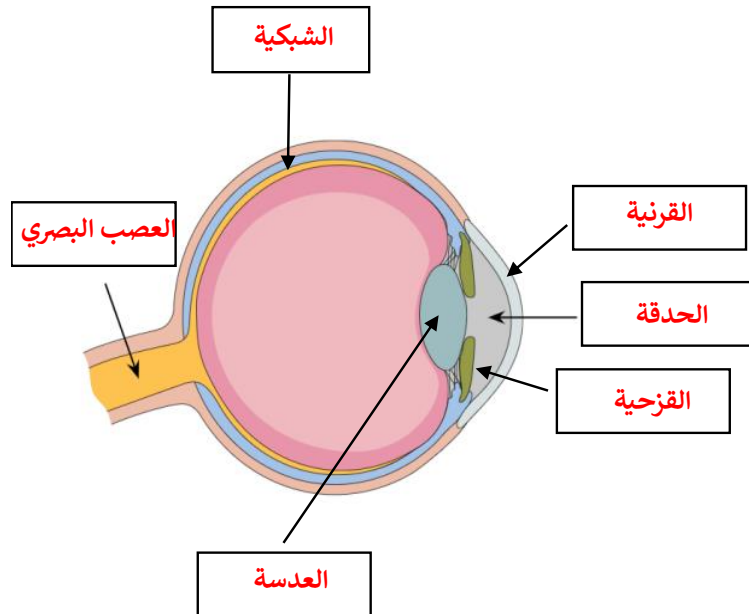
الظاهرة: الانتشار.....

لون السماء...زرقاء..... السبب

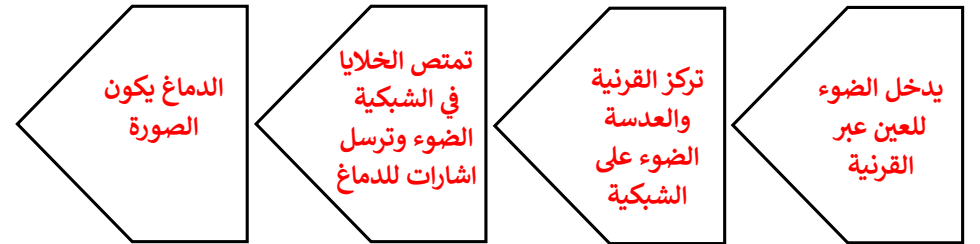
لان الموجات ذات الاطوال الموجية القصيرة تشتت وتنتشر في السماء

لون الشمس...اصفر.... السبب

لان الموجات ذات الاطوال الموجية الطويلة تمر بخط مستقيم



اكتب تسلسل الرؤية لدى الانسان ووظيفة كل جزء




الوحدة السابعة: مقدمة عن الحيوانات

حدد نوع التناظر للكائنات التالية



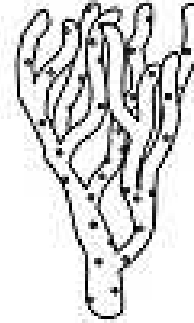
إنسان

جانبي




نجم بحر

شعاعي



إسفنج

عديم التناظر

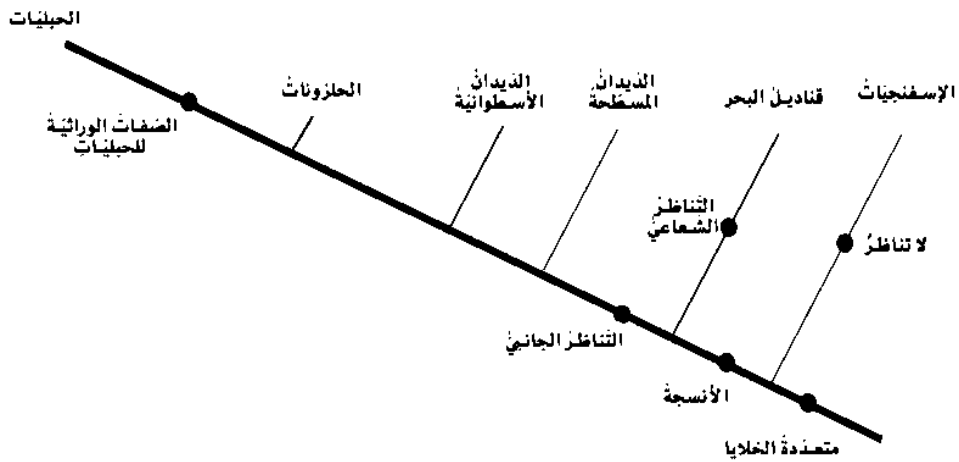


شقاقق نعلان بحري

شعاعي

استنادا للشكل المجاور اجب عن الاتي :

1. طريقة تصنيف الحيوانات في الشكل المقابل ..**المخطط الشعاعي**
2. ما الصفة التي تمتلكها جميع الحيوانات**متعددة الخلايا**.....
3. اي الحيوانات لا يمتلك تناظر جانبي**الاسفنج - قنديل البحر**.....
4. اي الحيوانات لا يحتوي على أنسجة**الاسفنج**.....
5. اي الحيوانات يمتلك تناظر شعاعي**قنديل البحر**.....



حدد نوع التكيف (تركيبى - سلوكى - وظيفى)

حدد نوع الهيكل في الكائنات التالية



هيدروستاتيكي



خارجي



داخلي



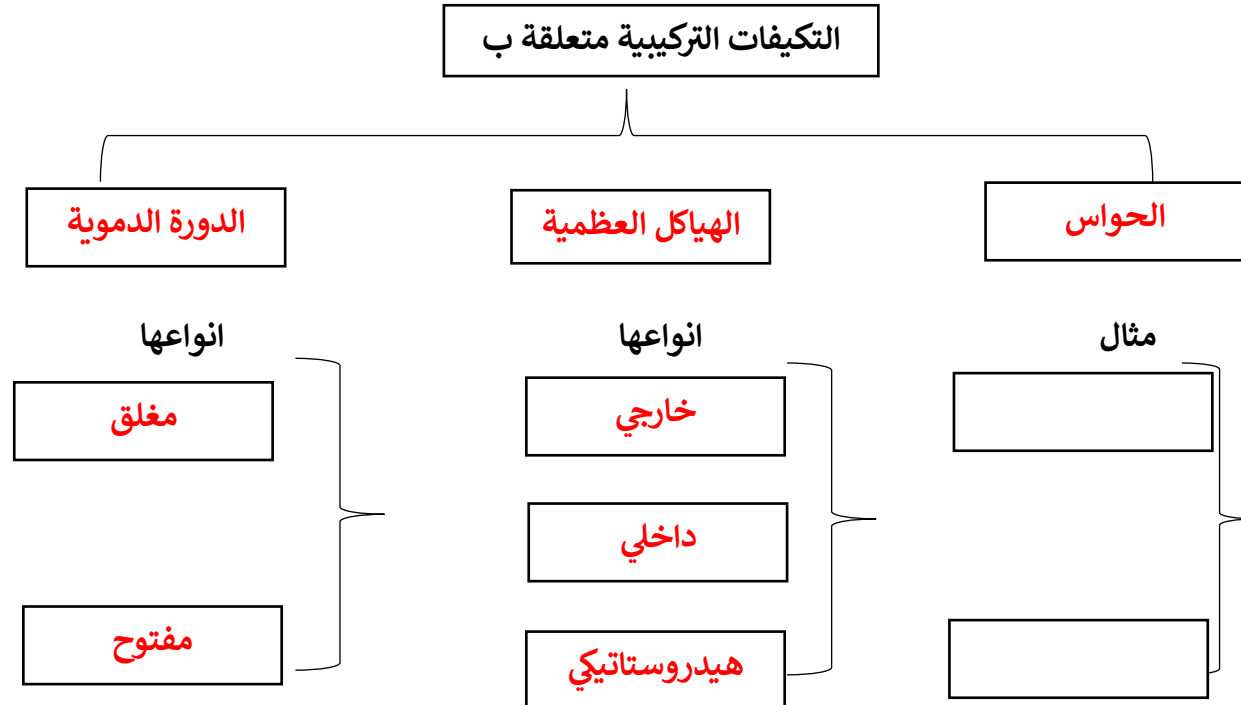
داخلي



هيدروستاتيكي

نوع التكيف	المثال
تركيبى	الفراء يحمي الكائن الحي من البرد القارس في موطنه
تركيبى	تستطيع الثعابين اكتشاف الاشعة تحت الحمراء (بالجلد)
وظيفى	يحدث الاخصاب في الضفدع خارج جسم الانثى
تركيبى	يحرك ذكر الذباب جناحية لجذب انتباه الانثى
سلوكى	البيات الشتوى للثعابين
سلوكى	يلحق صغار الأوز امهاتهم منذ الصغر
سلوكى	تغريد العصافير
تركيبى	يستخدم القندس اسنانه لقطع جذوع الشجر
وظيفى	تنتج الاسفنجيات الحيوانات المنوية في الماء

اكمل المخطط التالي



قارن بين شعب اللافقيات التالية:

وجه المقارنة	الاسفنجيات	اللاسعات
الشعبة	المساميات	اللاسعات
الانسجة	لا تحتوي	تحتوي
التناظر	عديم التناظر	شعاعي
الحركة	ملتصق بالصخور مثل الاسفنج	بعضها ملتصق مثل شقائق النعمان وبعضها يسبح مثل قنديل البحر
التغذية	مرور الماء خلال أجسامها محمل بالغذاء	تمتلك خلايا لاسعة تحقن فريستها بالسم

وجه المقارنة	الديدان المفلطة	الديدان الحلقية	الديدان الاسطوانية
الشعبة	الديدان الشريطية	الحلقيات	الخيطيات
التناظر	جانبي	جانبي	جانبي
التأثير	طفيليات تصيب البشر مثل : الدودة المثقوبة الكبدية	بعضها طفيليات مثل العلق وبعضها مفيد لتهوية التربة	بعضها ضار للانسان وجذور النباتات وبعضها غير ضار مثل: ودة الخل
الهيكل	هيدروستاتيكي	هيدروستاتيكي	هيدروستاتيكي
مكان العيش	المياه العذبة والمالحة	التربة (تشق انفاق)	التربة
أمثلة	الدودة المثقوبة الكبدية - المستورقات	دودة الارض	دودة الخل

وجه المقارنة	الحشرات	العناكب والعقارب	السلطعون وسرطان البحر	مئويات الارجل	الديدان الألفية
عدد الارجل	3 = 6 ازواج	4 = 8 أزواج	3 = 6 أزواج	زوج في كل مقطع	زوجين في كل مقطع

الشوكيات	الرخويات	وجه المقارنة
الشوكيات	الرخويات	الشعبة
البالغة: شعاعي - الصغيرة: جانبي	جانبي	التناظر
تعيش في المياه المالحة تتحرك بواسطة اقدام انبوية تتصل بقنوات متصلة بالحلقة المركزية التي تتحكم بحركة الماء في الجسم	يتكون من : عضلة تشبه القدم تساعد على الحركة - وشاح يغطي الاعضاء الداخلية ويساهم في تكوين الاصداف للدعم والحماية	الجسم
داخلي صلب تحت جلده الخارجي الشائك	خارجي	الهيكل
خيار البحر - قنفذ البحر - نجم البحر (تتشابه انماط النمو للشوكيات مع اجنة الانسان في المراحل الاولى)	<ul style="list-style-type: none"> • الحلزون والقواقع له صدفة خارجية • الحبار والخطبوط له صدفة داخلية • المحار والاسقلوب يفصل الطعام عن الماء 	أمثلة

إلى أي شعبة تنتمي اللافقاريات التالية

الرخويات



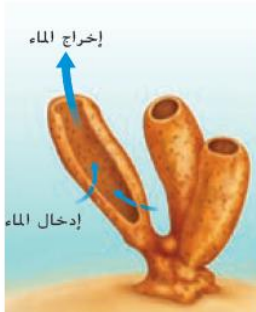
المفصليات



الشوكيات



الاسفنجيات

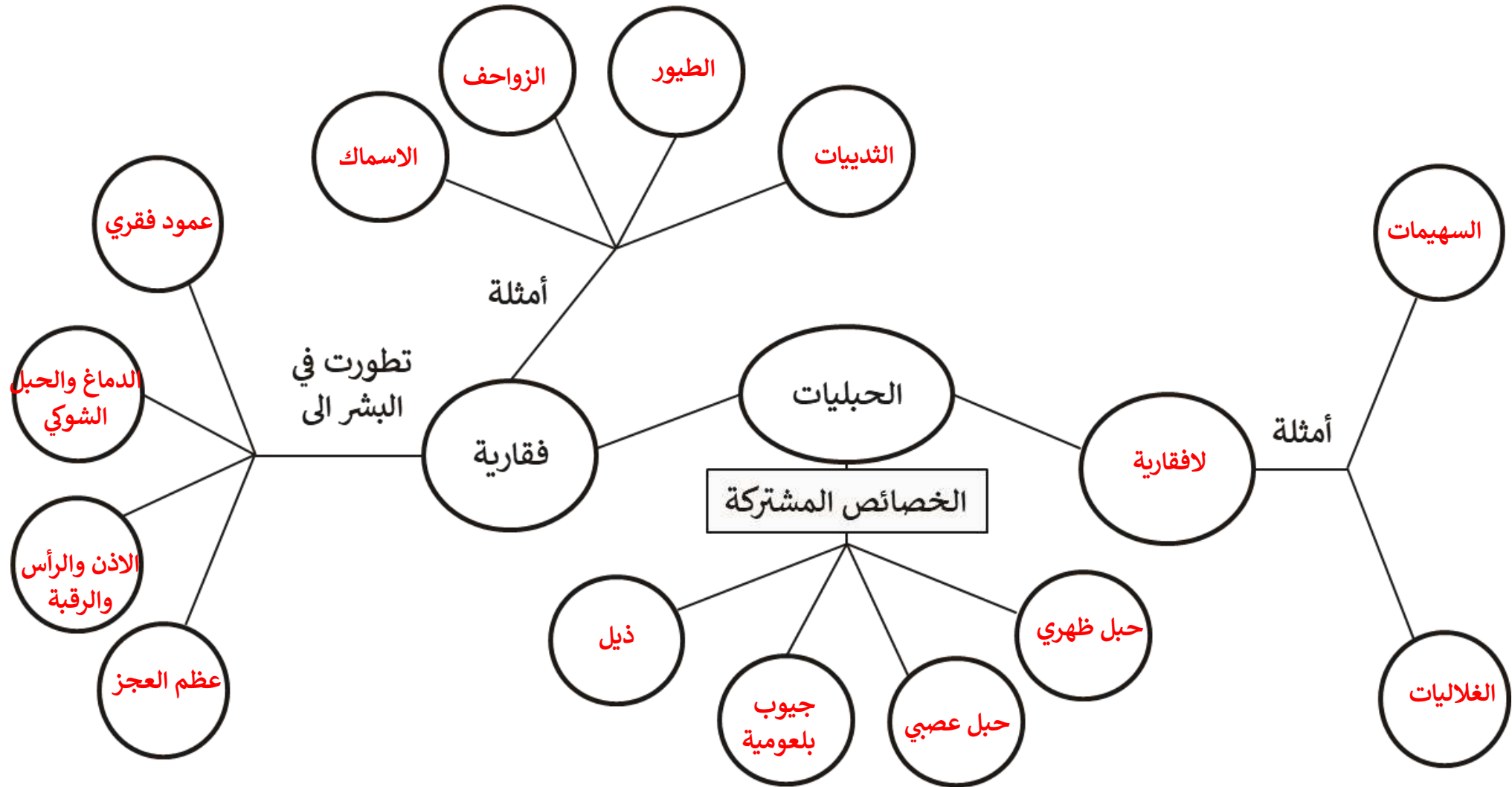


الديدان الحلقية



الديدان المفلطة





الثدييات	الطيور	الزواحف	البرمائيات	الاسماك	
اليابسة	اليابسة	اليابسة	الماء (الصغار) اليابسة (البالغة)	الماء	الموطن
الشعر او الفرو	الريش	قشور (الحراشف)	جلد رطب ورقيق	القشور	غطاء الجسم
ثابتة	ثابتة	متغيرة	متغيرة	متغيرة	درجة الحرارة
الرئتين	الرئتين	الرئتين	الخياشيم (الصغار) الرئتين (البالغة)	الخياشيم	التنفس
داخلي	داخلي	داخلي	خارجي في الماء	خارجي	طريقة الاخصاب
سلوي (احادية المسلك)	سلوي	سلوي	لا سلوي	سلوي	البيض

ثابتة الحرارة	متغيرة الحرارة	وجه المقارنة
<ul style="list-style-type: none"> حيوانات تستطيع تنظيم درجة حرارة جسمها مهما كانت البيئة التي تعيش فيها تولد حرارة جسمها من داخل جسمها بنفسها 	<ul style="list-style-type: none"> حيوانات لا تستطيع تنظيم درجة حرارة جسمها تولد حرارة جسمها من البيئات التي تعيش فيها 	التعريف
الطيور والثدييات	البرمائيات والزواحف والاسماك	امثلة

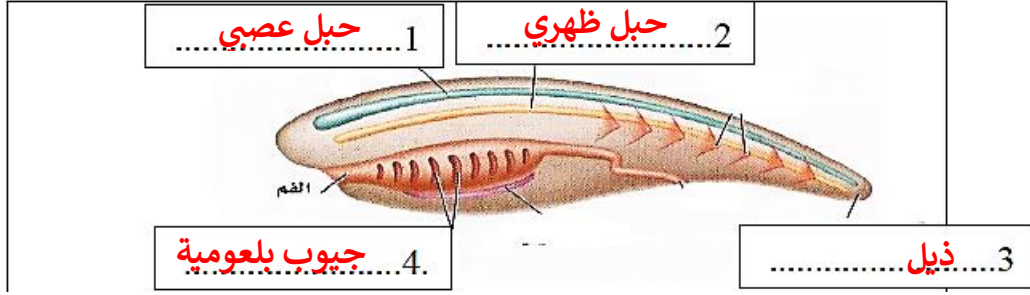
وجه المقارنة	اسماك عديمة الفك	اسماك القرش	الاسماك العظمية
نوع الهيكل	غضروفي	معظمه غضروفي ماعدا الجمجمة عظمية	عظمي
صفاتها المميزة	<ul style="list-style-type: none"> • لا تحتوي على فك • لها اسنان تجرح بها الفريسة ثم تمتص السوائل والدم منها 	<ul style="list-style-type: none"> • زعانف مزدوجة • لها فكان قويان يساعدها على الافتراس 	لديها مئانة تمتلئ بالغاز تساعدها على الحركة للأعلى والاسفل
امثلة	الجلبي - اللامبري	القرش - الراي	فرس البحر - السمكة الذهبية

وجه المقارنة	احادية المسلك	الثدييات الكيسية	الثدييات المشيمية
طريقة نمو صغارها	تضع البيض وعندما يفقس صغارها ترضعه من حليبها	تربي صغارها في جيوب للحصول على الحليب والنمو	لديها تركيب المشيمة يحصل منه الجنين على الغذاء في رحم الام
أمثلة	اكل النمل وخذ الماء	الكنغر والابوسوم	القطط - الاحصنة

صنف الحيوانات الفقارية التالية

(السمندر - خلد الماء - البطريق - التمساح - السلحفاء - النعامة - القرش - الابوسوم)

وجه المقارنة	الاسماك	البرمائيات	الزواحف	الطيور	الثدييات
التصنيف	القرش	السمندر	السلحفاء - التمساح	البطريق - النعامة	الابوسوم - خلد الماء



من الصورة التي امامك اجب عن الاتي

1. اكمل البيانات على الرسم
2. صنف هذا الحيوان**حبليات لا فقارية (السهيم)**.....
3. التركيب رقم 2 يتحول في الانسان الى**عمود فقري**.....
4. التركيب رقم 4 يتحول في الاسماك الى**الرقبة والاذن والراس**.....



من الصورة التي امامك اجب عن الاتي

1. الى اي صنف من المفصليات ينتمي هذا الحيوان**الحشرات**.....
2. ما اجزاء هذا الحيوان**رأس - بطن - صدر**.....
3. كم رجلا مفصلية يمتلك هذا الحيوان**6**.....
4. ما نوع الهيكل لهذا الحيوان**خارجي**.....

الوحدة الثامنة: سلوكيات الحيوانات

حدد نوع السلوك في الصور والجمل الآتية



سلوك معرفي



الغريزة



الغرائز



التعلم بالطبع

- حيوانات تمر بفترة خمول... البيات الصيفي... مثال... الزواحف
- نمط بسيط وسريع وتلقائي رد الفعل الانعكاسي مثال حدقة العين - قفز حيوان المدرع للاعلى 1م عند اقتراب المفترس
- الاستجابة لمؤثر مرتبطة بمؤثر اخر الارتباط الشرطي... مثال استجابة البطريق للمدرب وتربط وجوده بحصولها على الطعام
- تكرار المحاولات حتى يتوصل للسلوك الصحيح التعلم بالتجربة... مثال يجرب القرد فتح العلبه والخطأ





المواد الكيميائية
(الفرمونات)



الصوت



لغة الجسد



الضوء
(التألق البيولوجي)

- تحديد منطقة النفوذ مثل القطط
- التزاوج مثل العثة
- التحذير من الخطر
- الحصول على الغذاء مثل النمل

- الحماس او اللعب مثل الدلافين
- الحماية
- التزاوج مثل الحشرات

- التحذير من الخطر
- توضيح الحالة المزاجية
- مثل: الذئاب

- استدراج الفريسة مثل سمك ابو السنب
- التزاوج مثل الخنفساء المضيئة
- تحديد المواقع

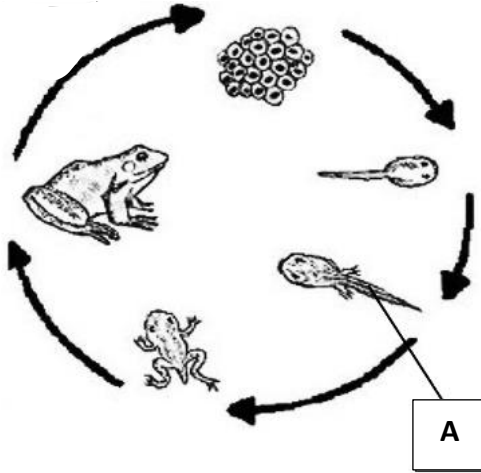
وجه المقارنة	النمو الداخلي	النمو الخارجي
المكان	داخل جسم الانثى	خارج جسم الانثى
نمو الجنين	<ul style="list-style-type: none"> • داخل رحم الام • داخل بيضة في الام 	داخل البيضة
غذاء الجنين	من الام	المح

من الشكل الذي أمامك اجب عن الأسئلة التالية:



- ما اسم الجهاز الميّن في الصورة ؟**الجهاز التناسلي الذكري**.....
- ما نوع التكاثر من خلال هذا الجهاز ؟**جنسي**.....
- ما اسم التركيب المشار اليه ؟**الخصية**.....
- ماذا ينتج هذا التركيب ؟**الحيوانات المنوية**.....

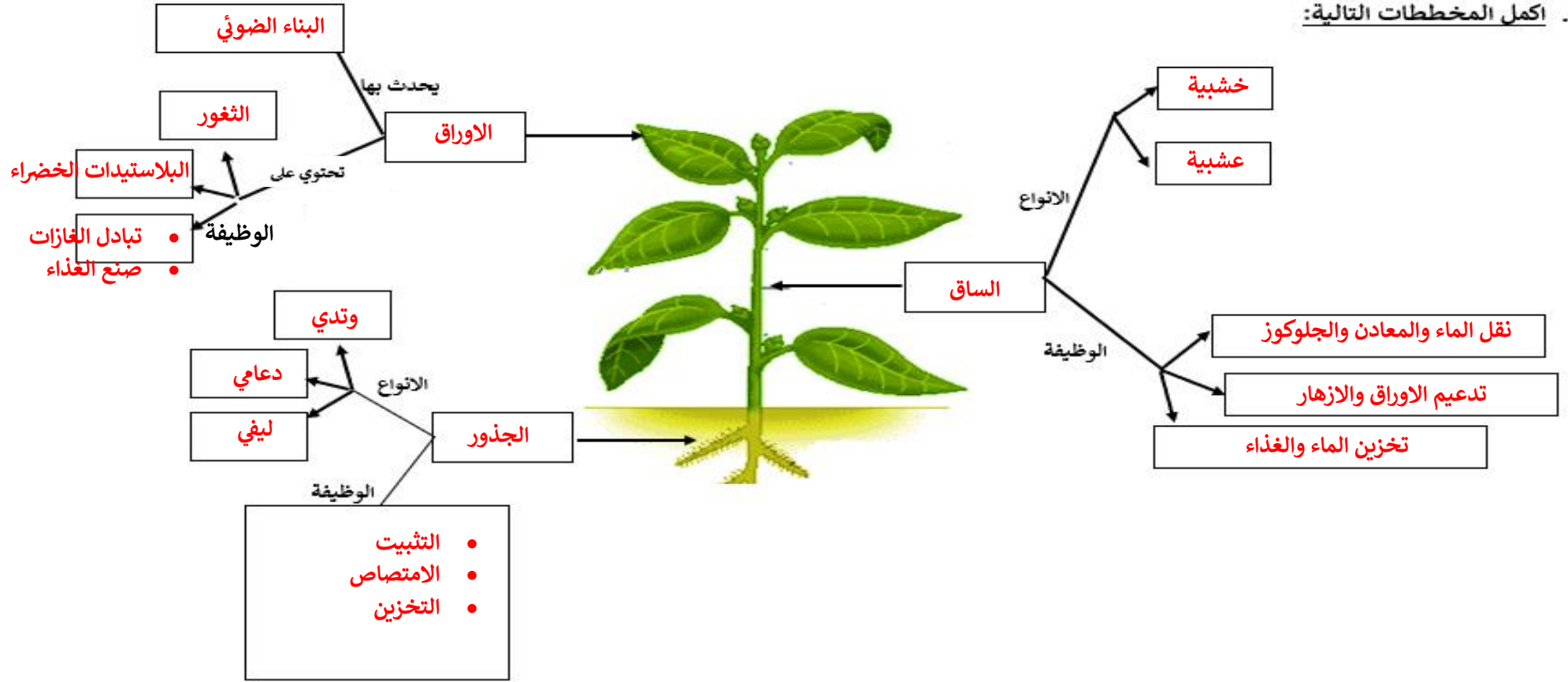
استخدم الرسم لتجيب عن الاسئلة التالية:



- يمثل الحرف A على الرسم**ابو ذنبية البالغ**.....
- اذكر فرق بين ابو ذنبية والضفدع البالغ ؟
ابو ذنبية: يعيش في الماء - يتنفس بالخياشيم - له ذيل
الضفدع البالغ: يعيش على اليابسة - له 4 اطراف - يتنفس بالرئتين
- اي من مراحل النمو لدى الضفدع تمثل مرحلة اليرقة لدى الحشرات**ابو ذنبية**.....
- تسمى هذه العملية بـ**التحول**.....

الوحدة التاسعة: مقدمة عن النباتات

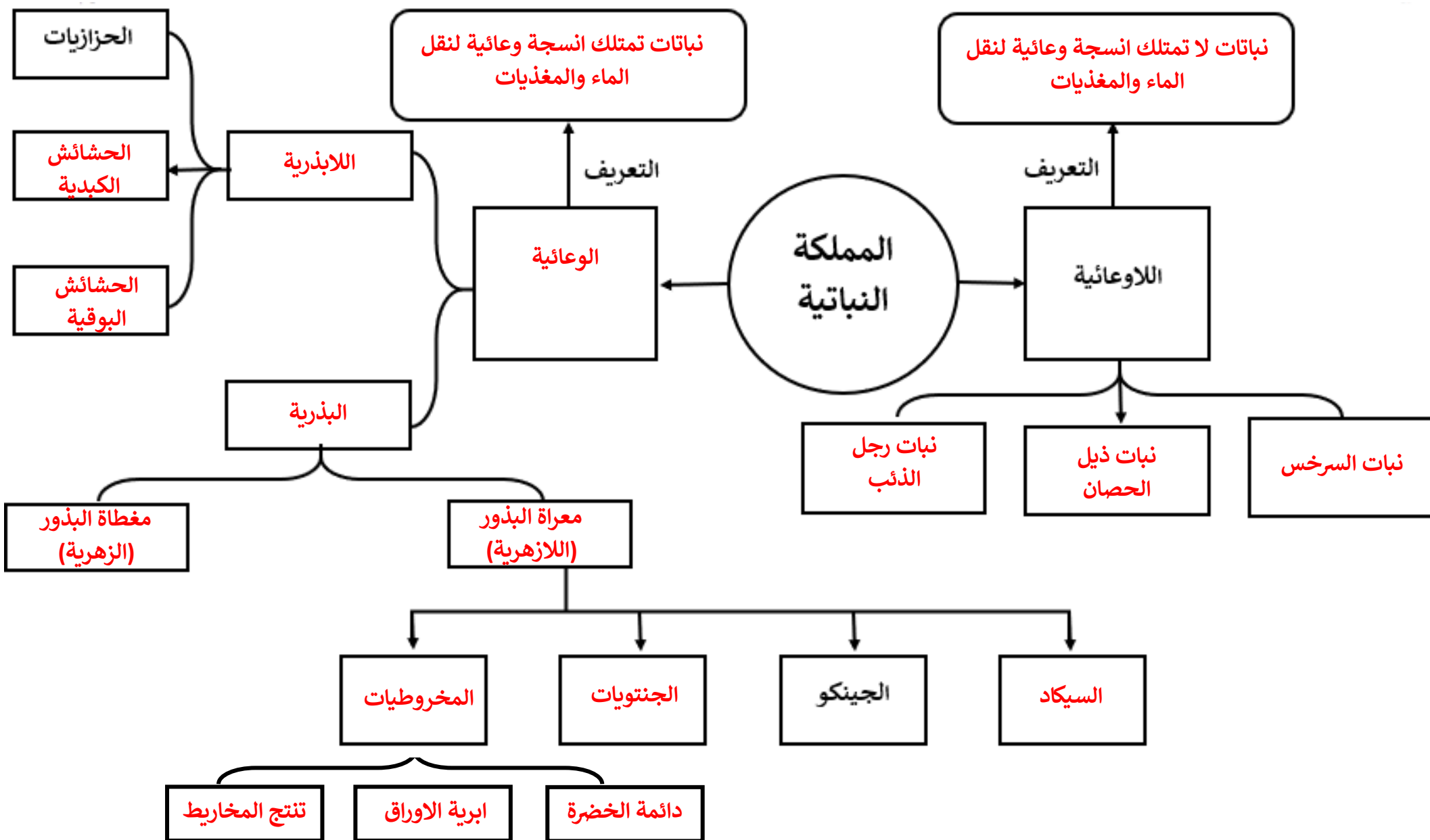
1. اكمل المخططات التالية:



حدد نوع الجذر ووظيفته

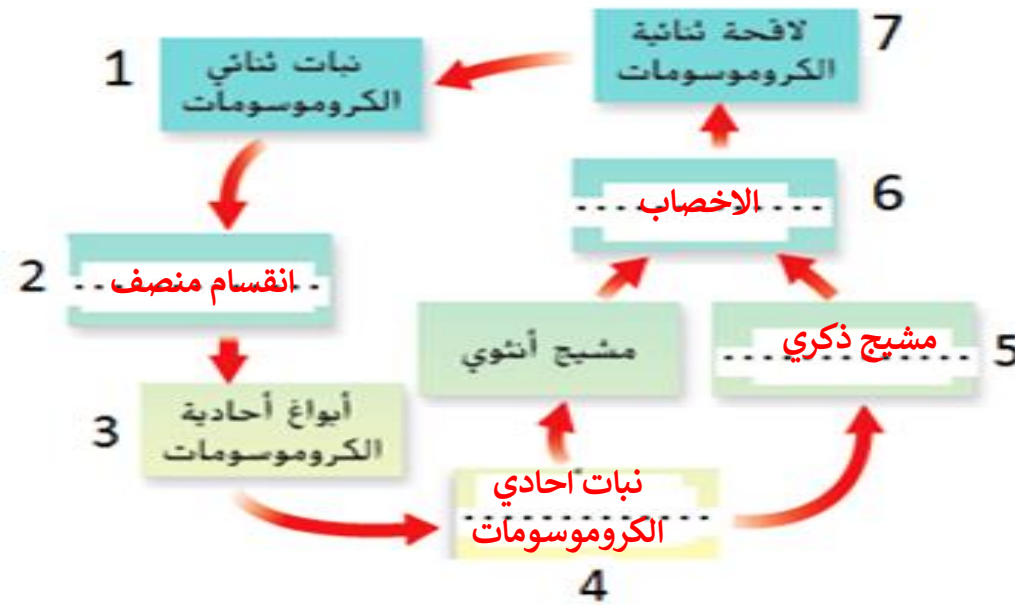


الوتدي: الجذر الرئيسي تنمو منه جذور اصغر ويخزن الغذاء **الدعامي:** جذور صغيرة فوق الارض لدعم اضافي للنبات **الليفني:** جذور صغيرة تمتص كمية كبيرة من الماء داخل النبات



وجه المقارنة	الطور المشيجي	الطور البوغي
يتضمن	انتاج الامشاج	الاخصاب وما بعده
نوع التكاثر	لا جنسي	جنسي
الكروموسومات	احادية الكروموسومات 1n	ثنائية الكروموسومات 2n
الفترة	مغطاة البذور (زهريّة): قصيرة معرّاة البذور (لازهريّة): قصيرة اللابذرية (السراخس): طويلة	مغطاة البذور (زهريّة): طويلة معرّاة البذور (لازهريّة): طويلة اللابذرية (السراخس): قصيرة

وجه المقارنة	اللابذرية (السراخس)	البذرية (الزهريّة)	البذرية (اللابذرية)
التكاثر بـ	الابواغ	البذور	البذور
الطور المشيجي (1n) يتضمن	انتاج الامشاج	انتاج الامشاج من المخاريط	انتاج الامشاج من الازهار
الطور البوغي (2n) يتضمن	الاخصاب + اللاقحة + نبات بوغي	اخصاب + لاقحة + جنين + بذرة + نبات بوغي	اخصاب + لاقحة + جنين + بذرة + نبات بوغي



انظر للمخطط التالي ثم اجب عن التالي

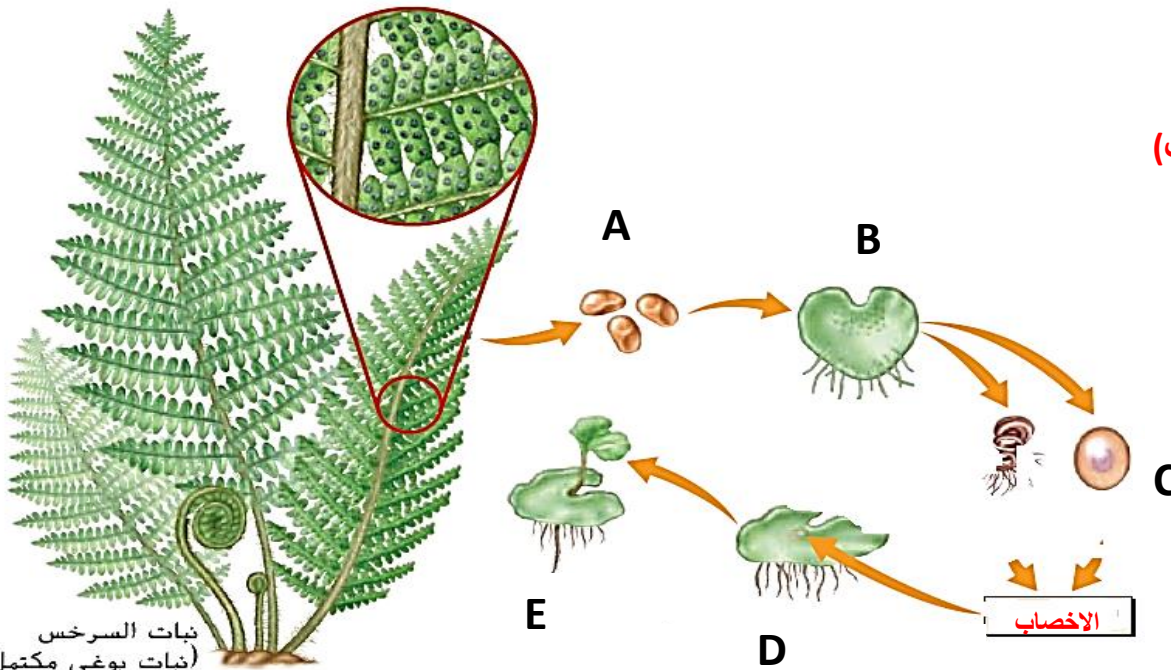
1. يمثل المخطط التالي دورة حياة النباتات اللابذرية (السرخسيات)

2. تبدأ عملية التكاثر بانتاج.....**الابواغ**.....

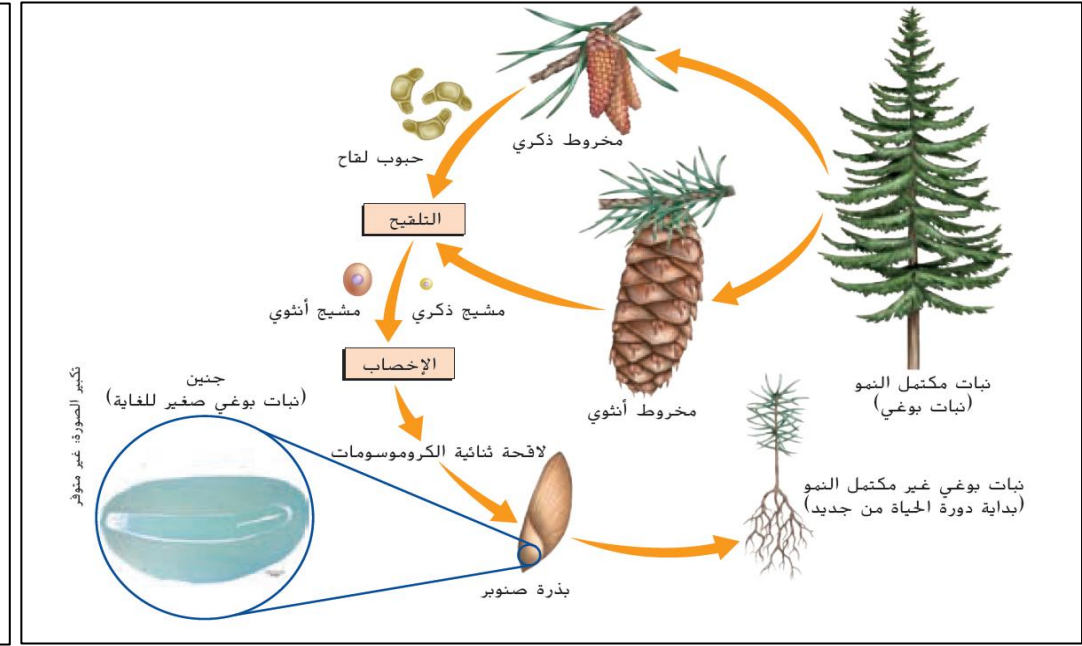
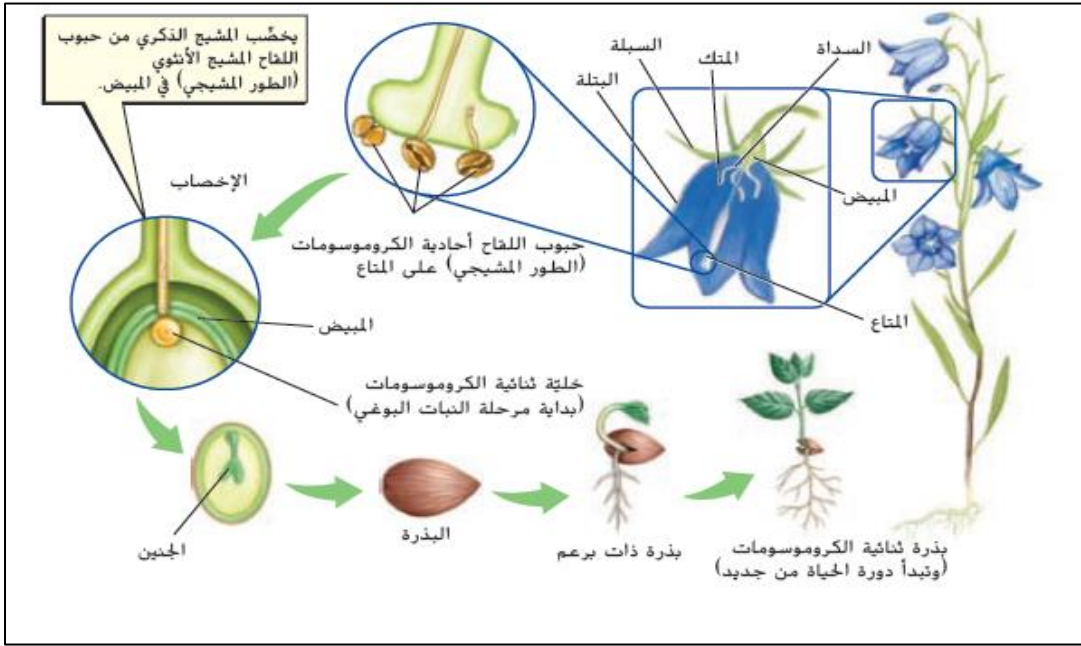
3. اي حرف يمثل بداية الطور البوغي.....**D**.....

4. اي حرف يمثل نهاية الطور المشيجي.....**C**.....

5. اي حرف يمثل الطور (النبات) المشيجي.....**B**.....



نبات السرخس
(نبات بوغي مكتمل النمو)



المخطط يمثل دورة حياة النباتات مغطة البذور (زهريّة)

توجد الامشاج الذكورية داخلالمتك.....

توجد الامشاج الانثوية داخلالمبيض.....

انتاج البذور بعد الاخصاب داخلالمبيض.....

يشمل الطور المشيجي انتاج الامشاج..... الفترة قصيرة

يشمل الطور البوغي الاخصاب + اللاقحة + الجنين + البذرة الفترة طويلة

المخطط يمثل دورة حياة النباتات معراة البذور (لازهريّة)

توجد الامشاج الذكورية داخلالمخروط الذكري.....

توجد الامشاج الانثوية داخلالمخروط الانثوي.....

انتاج البذور بعد الاخصاب داخلالمخروط الانثوي.....

يشمل الطور المشيجي انتاج الامشاج..... الفترة...قصيرة.....

يشمل الطور البوغي الاخصاب + اللاقحة + الجنين + البذرة الفترة طويلة

وجه المقارنة	البناء الضوئي	التنفس الخلوي
الهدف	صنع السكريات	تكسير السكريات
المتفاعلات	ثاني أكسيد الكربون + الماء + ضوء الشمس	الأكسجين + الجلوكوز
النواتج	الأكسجين + سكر الجلوكوز	ثاني أكسيد الكربون + الماء + طاقة ATP
مكان حدوثها	البلاستيدات الخضراء	السيتوبلازم و الميتوكوندريا
الكائنات التي تقوم بالعملية	النباتات فقط	النبات والانسان والحيوانات
المعادلة		

حدد نوع الانتحاء للجذور والسيقان

