

تم تحميل هذا الملف من موقع المناهج الإماراتية



الملف ورقة عمل نشاط داعم المقاطع العرضية

[موقع المناهج](#) ← [المناهج الإماراتية](#) ← [الصف السابع](#) ← [رياضيات](#) ← [الفصل الثاني](#)

روابط مواقع التواصل الاجتماعي بحسب الصف السابع



روابط مواد الصف السابع على تلغرام

[الرياضيات](#)

[اللغة الانجليزية](#)

[اللغة العربية](#)

[التربية الاسلامية](#)

المزيد من الملفات بحسب الصف السابع والمادة رياضيات في الفصل الثاني

[كل ما يخص الاختبار التكويني لمادة الرياضيات للصف السابع يوم الأحد 9/2/2020](#)

1

[كتاب الطالب للفصل الثاني منهج انجليزي](#)

2

[النموذج التدريبي الرسمي لامتحان للاختبار الوطني في الرياضيات 2017](#)

3

[مراجعة نهائية قبل امتحان نهاية الفصل](#)

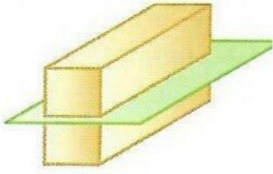
4

[عمليات حسابية 2](#)

5

المقاطع العرضية

نشاط دائم



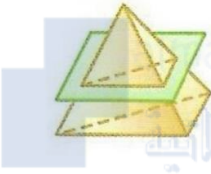
السؤال الاول/ اختر الاجابة الصحيحة من بين الاقواس  
(1) شكل المقطع العرضي لمنشور مستطيل القاعدة هو

A) مثلث

B) شبه منحرف

C) دائرة

D) مستطيل



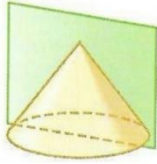
(2) شكل المقطع العرضي للهرم الثلاثي هو

A) مستطيل

B) شبه منحرف

C) مثلث

D) مربع



(3) شكل المقطع العرضي للمخروط هو

A) شبه منحرف

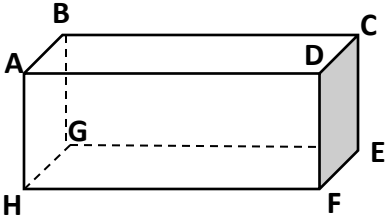
B) مثلث

C) دائرة

D) مربع

السؤال الثاني

حدد كل شكل . واذكر اسماء القواعد والوجوه والحواف والرؤوس ثم حدد زوجا من المستقيمت المتخالفة



اسم الشكل: .....

القاعدتان: .....

الوجوه: .....

الحواف: .....

الرؤوس: .....

المستقيمت المتخالفة: .....